

ඉතිහාසය I කාලය පැය 01 යි

සැලකිය යුතුයි.

- * සියලුම ප්‍රශ්න සඳහා පිළිතුරු සපයන්න. මෙම පත්‍රය සඳහා ලකුණු 80ක් හිමි වේ.
- * අංක 01 සිට 40 තෙක් දී ඇති ප්‍රශ්න වල (1), (2), (3), (4) යන පිළිතුරු වලින් වඩාත්ම නිවැරදි හෝ වඩාත්ම ගැලපෙන පිළිතුර තෝරන්න.
- * ඔබට සැපයෙන පිළිතුරු පත්‍රයේ එක් එක් ප්‍රශ්නය සඳහා දී ඇති කව අතුරින් ඔබ තෝරාගත් පිළිතුරේ අංකයට සැසඳෙන කවය තුල (X) යොදන්න.

- (01) බුදුන් වහන්සේගේ ලංකා ගමනයේ සිට මහසෙන් රාජ්‍ය සමය අවසානය තෙක් මෙරට ඓතිහාසික තොරතුරු ඇතුළත් පැරණි සාහිත්‍ය මූලාශ්‍රයකට උදාහරණයක් වන්නේ,
1. දූල වංශයයි. 2. පූජාවලියයි. 3. මහාවංශයයි. 4. දීප වංශයයි.
- (02) අභිලේඛණ මූලාශ්‍රයට උදාහරණයකි.
1. ටොලමීගේ ලෝක සිතියම. 2. දාඨා වංශය.
 3. වල්ලිපුරම් රත්පත. 4. සීගිරි විතු.
- (03) නානක මූලාශ්‍රයකට උදාහරණයක් නොවන්නේ,
1. ඇතා හා ස්වස්ථික ලකුණ දරණ ධජය ය. 2. ඇතා හා ස්වස්ථික ලකුණ දරණ කාසිය ය.
 2. තඹ මස්ස ය. 4. "අක" නම් රන් කාසිය ය.
- (04) මෙරට ඉතිහාසය පිළිබඳ ලියවුන විදේශ ග්‍රන්ථ කිහිපයක් "A" තීරුවේ ද ඒවා රචනා කළ කතුවරුන් "B" තීරුවේ ද දක්වා ඇත. A හා B තීරු නිවැරදිව ගැලපූ විට ලැබෙන පිළිතුර කුමක්ද?
- | | |
|---|---|
| <p>A තීරුව</p> <ol style="list-style-type: none"> 1. ලංකා පුරාවෘත්තය. 2. එදා හෙළදිව 3. ඩිමුන්ඩෝ 4. ඉන්ඩිකා 5. භූගෝල ශාස්ත්‍ර ප්‍රවේශය. | <p>B තීරුව</p> <ol style="list-style-type: none"> A. රොබට් නොක්ස්. B. මෙගස්නීනිස්. C. බැල්දියෙස්. D. ටොලමී. E. ඇරිස්ටෝටල්. |
|---|---|
1. DECBA ය. 2. BDCEA ය. 3. ADBCE ය. 4. CAEBD ය.
- (05) පහත "A" තීරුවෙන් අභිලේඛන වර්ග කීපයක්ද, "B" තීරුවෙන් එම අභිලේඛන සඳහා නිදසුන් කීපයක්ද, දැක්වේ. A හා B තීරු ගැලපූ විට නිවැරදි පිළිතුර වන්නේ,
- | | |
|---|---|
| <p>A තීරුව</p> <ol style="list-style-type: none"> 1. ලෙන්ලිපි 2. ගිරිලිපි 3. ටැම්ලිපි 4. පුවරු ලිපි | <p>B තීරුව</p> <ol style="list-style-type: none"> P. ගල්පොත ශිලා ලිපිය. Q. වේගිරිය ලිපිය. R. බදුලුටැම් ලිපිය. S. ගඩලාදෙණිය සෙල්ලිපිය. |
|---|---|
1. QRSP ය. 2. QSRP ය. 3. PRSQ ය. 4. PSQR ය.
- (06) ශ්‍රී ලංකාවේ මානව ජනාවාස පිළිබඳ ගල් යුගයට අයත් සාක්ෂි හමුවන මුල්ම ස්ථානය වන්නේ,
1. ඉරණමඩු සැකැස්මෙනි. 2. රත්නපුර ආශ්‍රිත මැණික් පතල් වලිනි.
 2. පාහියන්ගල ලෙනෙනි. 4. කුරුවිට බටදොඹ ලෙනෙනි.
- (07) පූර්ව ඓතිහාසික යුගයට අයත් මැටි ඔරු සුසාන හමු වූ ස්ථානයක් වන්නේ,
1. ඉබ්බන් කටුවය. 2. යටහලෙනය.
 3. උඩරොවාමඩමය. 4. පොම්පරිප්පුවය.

- (08) ගමික සතු කාර්යයන් අතරට අයත් නොවන කාර්යය වන්නේ,
 1. අපරාධකරුවන් ගමට ආ විට අල්ලා දීමය. 2. ගම්වල පොදු කටයුතු සඳහා සහය දීම ය.
 3. ගමේ බදු මුදල් එකතු කිරීම ය. 4. රාජ අපරාධකරුවන් සඳහා දඬුවම් දීම ය.

- (09) පහත දැක්වෙන වෘත්තීයයන් විසූ ගම්මාන නිවැරදිව දැක්වෙන පිළිතුර තෝරන්න.
 A. මැණික් කපන්නන්. B. ධීවරයන් විසූගම්.
 C. ගොපල්ලන් විසූ ගම්. D. වඩුවන් විසූ ගම්.

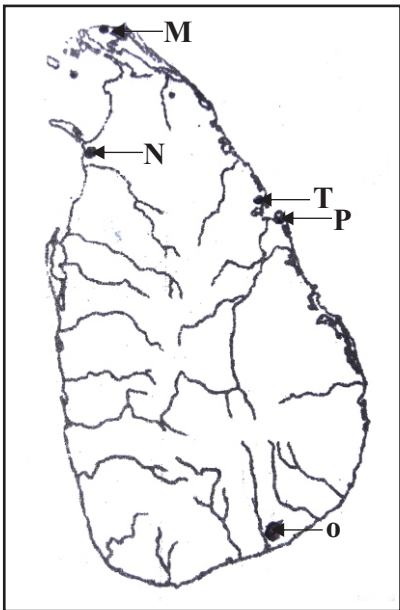
1. කේවට්ටගාම, ගෝපාලගාම, වඩ්ඩකිගාම, මණිකාරගාම.
2. මණිකාරගාම, වඩ්ඩකිගාම, ගෝපාලගාම, කේවට්ටගාම.
3. මණිකාරගාම, කේවට්ටගාම, ගෝපාලගාම, වඩ්ඩකිගාම.
4. මණිකාරගාම, ගෝපාලගාම, කේවට්ටගාම, වඩ්ඩකිගාම.

- (10) ඉරහඳු, වටාපත, ඇත් අඩිය, ගොන්කුරය ආදී සලකුණු වලින් පෙන්නුම් කරන්නේ,
 1. විත්ත කලාව පිළිබඳය. 2. සන්නිවේදන ක්‍රම පිළිබඳය.
 3. ප්‍රාදේශීය විෂමතා පිළිබඳවය. 4. සංස්කෘතිය හා සමාජය පිළිබඳවය.

- (11) ක්‍රි. පූ. 250 තරම් පැරණි බ්‍රාහ්මීය සෙල්ලිපියක "පුරකමත" ලෙසින් තනතුරු නාමයක් සඳහන්ව තිබේ. එයින් අදහස් වන්නේ,
 1. නගරයේ ප්‍රධාන වාස්තු විද්‍යාඥයාය. 2. නගරයේ ප්‍රධාන වඩුකාර්මිකයාය.
 3. ගමේ ප්‍රධාන "කමත" භාව ව සිටින්නාය. 4. ගමේ ප්‍රධාන වෙළඳ ශ්‍රේණි භාරකරුය.

* අංක 12 සිට 15 දක්වා ප්‍රශ්න සඳහා දී ඇති ලංකා සිතියම ඇසුරෙන් පිළිතුරු සපයන්න.

- (12) සංසමිත්තා තෙරණින් වහන්සේ ජය ශ්‍රී මහා බෝධි ශාඛාව මෙරටට වැඩම කර වූ වරාය දැක්වෙන අක්‍ෂරය වන්නේ,
 1. M ය. 2. N ය.
 3. O ය. 4. P ය.



- (13) දෙවන නාගරීකරණය හමුවේ වෙළඳාම සම්බන්ධයෙන් අනුරාධපුරයට පසුව බිහි වූ අනෙක් වැදගත් වෙළඳ නගරය,
 1. M ය. 2. N ය.
 3. O ය. 4. P ය.

- (14) හද්දකව්වායනා ඇතුළු ආර්ය සංක්‍රමණික කණ්ඩායම මෙරටට ගොඩබසින ලද වරාය දැක්වෙන අක්‍ෂරය වන්නේ,
 1. M ය. 2. N ය.
 3. T ය. 4. P ය.

- (15) හේමමාලා සහ දන්ත කුමරු දන්ත ධාතූන් වහන්සේ මෙරටට වැඩම කරන ලද වරාය දැක්වෙන අක්‍ෂරය වන්නේ,
 1. M ය. 2. N ය.
 3. T ය. 4. P ය.

- (16) අතීතයේ පටන් අසල්වාසී රටවල් සමඟ යහපත් සංස්කෘතික සහයෝගයක් පැවති බවට හොඳම සාක්‍ෂියක් පෙන්වා දෙමින් ඉන්දියාවේ පන්නිනි දේවාලයක් ඉදිකිරීම සඳහා ගිය ලම්භකරණ වංශයට අයත් රජතුමා වන්නේ,
 1. වසභ රජුය. 2. I වන ගජබා රජුය. 3. I වන විජයබා රජුය. 4. II වන ගජබා රජුය.

- (17) අරාබි ජාතික ඉතිහාසඥ අල් - බල් සූර් සඳහන් කරන අන්දමට ඔහු ලංකාව හඳුන්වා ඇත්තේ,
 1. සෙරන්ඩිබ් නමිනි. 2. කැපෝබ්‍රෙන් නමිනි. 3. රතුකැට දිවයින නමිනි. 4. සීලැන් නමිනි.

* අංක 18 සිට 20 දක්වා ප්‍රශ්න සඳහා දී ඇති වගුව අධ්‍යයනය කොට පිළිතුරු සපයන්න.

රජතුමා	සෙල්ලිපිය	සඳහන් තොරතුරු
A. I ගජබා	E. වේවැල්කැටිය සෙල්ලිපිය	<ul style="list-style-type: none"> • දඩ මුදල් නිසියාකාරව දියයුතු බව. • වෙළඳපළ නීති පිළිපැදීම. • රජයේ නීතිරීති මත ගස්කොලන් • අපරාධ නීති පිළිබඳව.
B. IV උදය	F. කොන්ඩවට්ටවන් ටැම්ලිපිය	
C. V වන කාශ්‍යප	G. සිතුල්පව්ව සෙල්ලිපිය	
D. IV වන මිහිඳු	H. හෝපිට්ගමු ටැම්ලිපිය	

- (18) "අපරාධ නීතිය පිළිබඳව" තොරතුරු ලබාගත හැකි සෙල්ලිපිය හා එය කරවූ රජතුමා පිළිවෙලින් දැක්වෙන පිළිතුර වන්නේ,
 1. A හා F ය. 2. D හා E ය. 3. B හා H ය. 4. A හා G ය.
- (19) I වන ගජබා රජු විසින් කරවන ලද සෙල්ලිපිය හා තොරතුරු හැඳින්වන්නේ,
 1. F හා K ය. 2. E හා L ය. 3. G හා I ය. 4. H හා J ය.
- (20) කොන්ඩවට්ටුවාන් ටැම් ලිපිය කරවූ රජතුමා හා එහි සඳහන් තොරතුරු ඇතුළත් පිළිතුර වන්නේ,
 1. D හා L ය. 2. C හා K ය. 3. B හා J ය. 4. A හා I ය.
- (21) පහත දැක්වෙන රාජ්‍ය පාලක පාලිකාවන් අතරින් අනුරාධපුර යුගයට පමණක් අයත් පිරිස ඇතුළත් පිළිතුර තෝරන්න.
 A. වසභ D. මහසෙන්
 B. ධාතුසේන E. I පරාක්‍රමබාහු
 C. I විජයබාහු F. චලගම්බා
1. A, C, B හා E ය. 2. A, B, C හා E ය. 3. E, P, B හා C ය. 4. A, B, D හා F ය.
- (22) පෙතංගොඩ උයනේදී උණ කටුවක් ඇති විෂවීමෙන් මරණයට පත් වූ රජතුමා කවුරුන්ද?
 1. VII වන බුවනෙක බාහුරජය. 2. VIII වන පරාක්‍රමබාහු රජය.
 3. II වන රාජසිංහරජය. 4. I වන රාජසිංහ රජය.
- (23) යකඩ නිස්සාරණය වන උෂ්ණත්වය වන්නේ,
 1. 1548°C දීය. 2. 1358°C දීය. 3. 1538°C දීය. 4. 1853°C දීය.
- (24) දැදිගම ඇත් පහතේ ඇති විද්‍යාත්මක මූලධර්මය වන්නේ,
 1. වජ්‍ර චුම්භට න්‍යායයි. 2. අවල ජල විද්‍යාත්මක න්‍යායයි.
 3. ලම්භක න්‍යායයි. 4. චුම්භක න්‍යායයි.
- (25) "නිශ්ශංක මල්ල රජතුමා විසින් ප්‍රධාන මං මාවත් වල ගව්වෙන් ගව්වට ගල්කණු පිහිටුවීමට නියෝග කළ රජෙකි." අතීතයේ ගව්වක දුර වර්තමානයේ සමාන වන්නේ,
 1. සැතපුම් 1 කටය. 2. මීටර් 1 කටය.
 3. කිලෝමීටර 1 කටය. 4. සැතපුම් 2කටය.
- (26) පහත "අ" හා "ආ" කීර වල ඇති තොරතුරු ගලපා නිවැරදි පිළිතුර තෝරා ලියන්න.

"අ"	"ආ"
1, දකපති	A. මාළු ඇල්ලීම සඳහා ගෙවූ බදු.
2. බොජකපති	B. වැව්වල ජලය භාවිත කිරීම වෙනුවෙන් ගෙවූ බදු.
3. මකරමජ්ඣක	C. රජුට අයත් ඉඩම් වගා කිරීම වෙනුවෙන් ගෙවූ බදු

1. B, C හා A ය. 2. A, B හා C ය. 3. C, B හා A ය. 4. B, A හා C ය.

(27) ★ දඹදෙණි යුගයේ රජකළ පාලකයෙකි.
 ★ කලිකාල සාහිත්‍ය සර්වඥ පණිච්ඡිත නාමයෙන් පිදුම් ලැබීම.
 ★ විදේශ ආක්‍රමණ තුනකට මුහුණ දී ජය ලැබීම.

ඉහත සඳහන් තොරතුරු හා සම්බන්ධ රජතුමා කවුද?

1. I වන බුවනෙකබාහු රජය. 2. II වන විජයබාහු රජය.
 3. II වන පරාක්‍රමබාහු රජය. 4. IV වන බුවනෙකබාහු රජය.

(28) පරිසරය ආරක්‍ෂා කිරීම සඳහා නීති පැනවූ රජතුමා වන්නේ,
 1. III වන උදය රජය. 2. II වන පරාක්‍රමබාහු රජය.
 3. I වන දජපුල රජය. 4. III මහින්ද රජය.

(29) "දියකැට පහන" නම් වූ ජල කළමනාකරණ උපාංගය අයත් වන්නේ, පහත කවර ජල කළමනාකරණ අංශයටද?
 1. උභයකැට ලිඳටය. 2. සීගිරි ජලමල් තාක්‍ෂණයටය.
 3. සොරොච්චටය. 4. වාරි ඇළටය.

- (30) පහත සඳහන් තොරතුරු අධ්‍යයනය කර ගම්පල යුගයට පමණක් අයත් සාහිත්‍ය ග්‍රන්ථ ඇතුළත් පිළිතුර තෝරන්න.
1. මයුර සංදේශය, තිසර සංදේශය, සද්ධර්මාලංකාරය, පාරමී ශතකය.
 2. මයුර සංදේශය, බුදුගුණ අලංකාරය, සද්ධර්මාලංකාරය, පාරමී ශතකය.
 3. ලෝවැඩ සගරාව, ගුත්තිල කාව්‍ය, බුදුගුණ අලංකාරය, මයුර සංදේශය.
 4. පරවී සංදේශය, ගිරා සංදේශය, සැළලිහිණි සංදේශය, මයුර සංදේශය.

*** පහත A, B, C හා D යන යුගල අධ්‍යයනය කර 31, 32, 33 යන ප්‍රශ්න සඳහා පිළිතුරු සපයන්න.**

- A - 1. කොන්ස්තන්තීනෝපලය තුර්කිත් යටත් කර ගැනීම.
2. පුනරුදය ඇතිවීම
- B - 1. දේවවරම් වාදය
2. මානව වාදය.
- C - 1. දේශ ගවේෂණය ඇතිවීම.
2. අධිරාජ්‍ය වාදය බිහිවීම.
- D - 1. ජොහැන්ස් ගුටෙන් බර්ග්.
2. හෙන්රි ස්ටීල් ඕල්කට්.
- (31) ඉහත සඳහන් තොරතුරු ඇසුරින් කිසිම සම්බන්ධයක් නොදක්වන අදහස් යුගලය වන්නේ,
1. A ය. 2. B ය. 3. C ය. 4. D ය.
- (32) පලමුවැන්නේ බිඳවැටීම, දෙවැන්න ඇතිවීමට හේතු විය.
1. A ය. 2. B ය. 3. C ය. 4. D ය.
- (33) පලමු වැන්නේ ව්‍යාප්තිය මත දෙවැන්න බිහිවීම සිදුවිය.
1. A ය. 2. B ය. 3. C ය. 4. D ය.
- (34) “සුභපැන්මේ තුඩුව” හෙවත් කුණාටු තුඩුව සොයාගත් පෘතුගීසි ජාතික දේශගවේශකයා කවුද?
1. වස්කෝද් ගාමාය. 2. ක්‍රිස්ටෝපර් කොලොම්බස්ය.
3. බර්තෝලමියු ඩයස්ය. 4. නාවික හෙන්රිය.
- (35) පෘතුගීසි ජාතිකයන් කොන්ස්තන්තීනෝපලය යටත් කරගත් වර්ෂය වන්නේ,
1. ක්‍රි.ව. 1453 දීය. 2. ක්‍රි.ව.1543 දීය. 3. ක්‍රි.ව. 1354 දීය. 4. ක්‍රි.ව. 1435 දීය.
- (36) පුනරුද සමයේදී නව වික්‍ර කළාවක් බිහිකළ ප්‍රධාන නගරය හා රට වන්නේ,
1. ශ්‍රීසියේ ඇතැන්ස්ය. 2. ඉතාලියේ ෆෝලෝරන්ස්ය.
3. ස්විස්ටර්ලන්තයේ ජිනීවාය. 4. ප්‍රංශයේ පැරීසියය.
- (37) රුධිරය ශරීරයේ දකුණු කෝෂයෙන් පිටවී ගොස් පෙනහැලි මගින් පිරිසිදු වී ශරීරය පුරා විසිරී යන බව ලොවට හෙළිකළ විද්‍යාඥයා,
1. ස්විස් ජාතික වෛද්‍ය පැරසල්සස්ය. 2. ඉංග්‍රීසි ජාතික විලියම් හාර්වේය.
3. ස්විස් ජාතික මයිකල් සර්ටෙස්ය. 4. ජර්මන් ජාතික මාටින් ලුතරය.

*** පහත M සිට Q දක්වා දී ඇති තොරතුරු අධ්‍යයනය කොට අංක 38 සිට 40 දක්වා ප්‍රශ්නවලට පිළිතුරු සපයන්න.**

- M - නිශ්ශංක අලකේෂ්වර ඇමතියා විසින් කෝට්ටේ ශක්තමත් බලකොටුවක් ඉදි කිරීම.
N - උඩරට සාමන්ත පාලකයා වූ ජෝතිය සිටානන් ඇතිකළ කැරැල්ල මැඩලීම.
O - ඉබන් බතුතා නම් ආබි ජාතික සංචාරකයා ලංකාවට පැමිණීම.
P - විජය සුන්දරාරාමය කරවීම.
Q - තෙවන විජයබාහු රජකිරීම.

- (38) ඉහත තොරතුරු ඇසුරින් ගම්පල යුගයේදී සිටි පුද්ගලයෙකුට අසන්නට ලැබෙන තොරතුරු ඇතුළත් කාණ්ඩය කුමක්ද?
1. M හා N ය. 2. O හා P ය. 3. Q හා N ය. 4. M හා O ය.
- (39) දඹදෙණි යුගයට පමණක් අදාළ පිළිතුර ඇතුළත් කාණ්ඩය වන්නේ,
1. O හා Q ය. 2. P හා Q ය. 3. Q හා N ය. 4. M හා N ය.
- (40) පාලි භාෂාවෙන් පැවති පන්සිය පනස් ජාතක පොත සිංහල භාෂාවට පරිවර්තනය කළේ කුමන යුගයේ?
1. දඹදෙණි යුගයේ ය. 2. කෝට්ටේ යුගයේ ය.
3. කුරුණෑගල යුගයේ ය. 4. ගම්පල යුගයේ ය.

සැලකිය යුතුයි.
 * I වන කොටසේ (I) ප්‍රශ්නය අන්වාර්යය වේ.
 * II කොටසින් ප්‍රශ්න හතරකටද III කොටසින් ප්‍රශ්න එකකටද පිළිතුරු සපයන්න.
 * පිළිතුරු සැපයිය යුතු මුළු ප්‍රශ්න ගණන හයකි.

1 කොටස

(01) පහත (i) යටතේ දක්වා ඇති ඓතිහාසික ස්ථාන සියල්ලම සපයා ඇති ශ්‍රී ලංකා සිතියමෙහිද, (ii) යටතේ දක්වා ඇති ඓතිහාසික ස්ථාන සියල්ලම සපයා ඇති ලෝක සිතියම කොටසෙහිද ලකුණු කර නම් කරන්න.

- I. i. ඉරණමඩු, පිදුරංගල, ත්‍රිකුණාමලය, ගල් සොහොන් කනත්ත, මාගම, වලවේ ගඟ, පරාක්‍රම සමුද්‍රය, කෝට්ටේ, සෙංකඩගල, මන්නාරම, කලාමය, කාජරගාම. (ලකුණු 12යි)
- ii. ජපානය, සුමාත්‍රා දූපත, පෝක් සමුද්‍ර සන්ධිය, රතු මුහුද, කැලිකට්, ඉතාලිය. (ලකුණු 06යි)

පහත A, B, C හා D යටතේ දක්වා ඇති ඓතිහාසික තොරතුරු හා සම්බන්ධ පුද්ගලයින්ගේ නම්, පිළිවෙලින් ඔබේ පිළිතුරු පත්‍රයේ ලියා දක්වන්න.


- A - ඓතිහාසික මූලාශ්‍ර අනුව මෙරට පාලනය කළ ප්‍රථම රජතුමා -
- B - විදේශ මූලාශ්‍රයක් වන "නැවුරාලිස් හිස්ටෝරියා" කෘතිය ලියූ පුද්ගලයා -
- C - "ක්‍රිස්තියානීන් සහ කුළු බඩු සොයා අපි මෙහි පැමිණියෙමු." යන ප්‍රකාශය කළ පුද්ගලයා -
- D - ලංකාව පාලනය කළ අවසාන සිංහල රජතුමා - (ලකුණු 04යි)

II. පහත A, හා B යටතේ දක්වා ඇති පිංතූර අධ්‍යයනය කොට අසා ඇති ප්‍රශ්න වලට පිළිතුරු සපයන්න.

- 1. මෙම රූපයෙන් දැක්වෙන රජතුමා කවුද?
- 2. මෙතුමා කුමන යුගයට අයත් පාලකයෙක්ද?
- 3. මෙතුමා විසින් පෘතුගීසීන් අන්ත පරාජයකට පත්කළ සටන කුමක්ද?
- 4. මෙතුමාගේ මෙම සිතුවම අඳින ලද පුද්ගලයා කවුද?



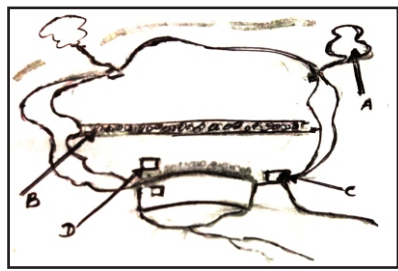
- III. 1. මෙම පින්තූරයෙන් දැක්වෙන්නේ කුමක්ද?
- 2. මෙමගින් සිදුකළ ප්‍රධාන කාර්යය කුමක්ද?
- 3. මෙම තාක්ෂණය භාවිතා කළ බවට තොරතුරු ලැබී ඇති ප්‍රදේශය කුමක්ද?
- 4. මෙහි දැකිය හැකි එක් විද්‍යාත්මක තාක්ෂණික ශිල්පීය ක්‍රමයක් ලියන්න.



(ලකුණු 04යි)

II කොටස

- (02) I. පහත a, b හා c යටතේ අසා ඇති ප්‍රශ්න සඳහා පිළිතුරු වරහන් තුළින් තෝරා ලියන්න.
- a - ලංකාවේ පැරණිතම සාහිත්‍ය මූලාශ්‍රය -
 - b - මෙරට ශාසන ඉතිහාසය පිළිබඳව ලියා ඇති මූලාශ්‍රය -
 - b - ලංකාව පිළිබඳව අඛණ්ඩ ඉතිහාසයක් ලියවී ඇති මූලාශ්‍රය -
(දීප වංශය, බෝධි වංශය, ධාතු වංශය, මහාවංශය, රාජාවලිය, නිකාය සංග්‍රහය, පූජාවලිය.)
- (ලකුණු 03යි)
- II. ඉතිහාසය ඉගෙනීමේ ප්‍රයෝජන හතරක් ලියන්න. (ලකුණු 04යි)
- III. a - නානක මූලාශ්‍රයක් යනු කුමක්දැයි නිර්වචනය කරන්න. (ලකුණු 01යි)
- b - "නානක මූලාශ්‍ර" රටක ඉතිහාස ඉගෙනීමේදී ප්‍රයෝජනවත් වන ආකාරය කරුණු දෙකක් ඇසුරින් පහදන්න. (ලකුණු 04යි)
- IV. පාසල් ශිෂ්‍යයෙකු ලෙස ඔබ පුරාවස්තු රැක ගැනීම සඳහා කටයුතු කරන ආකාරය පිළිබඳව කරුණු තුනක් ඇසුරින් කෙටියෙන් පැහැදිලි කරන්න. (ලකුණු 06යි)
- (03) I. ප්‍රාග් ඓතිහාසික මානවයා විසූවායැයි සැලකෙන ලෙන් වාසස්ථාන තුනක් නම් කරන්න. (ලකුණු 03යි)
- II. a - ප්‍රාග් ඓතිහාසික මානවයා ජනාවාස පිහිටුවා ගැනීමේදී සලකා බැලූ සාධක දෙකක් ලියන්න.
- b - ප්‍රාග් ඓතිහාසික මානවයා භාවිතා කළ ශාක ආහාර දෙකක් සහ සත්ව ආහාර දෙකක් නම් කරන්න. (ලකුණු 04යි)
- III. පූර්ව ඓතිහාසික යුගයේ මානවයා තාක්‍ෂණය භාවිතා කළ බවට ලැබී ඇති සාක්‍ෂි දෙකක් උදාහරණ සහිතව පැහැදිලි කරන්න. (ලකුණු 05යි)
- IV. මුල් ඓතිහාසික ජනාවාස වල දක්නට ලැබුණු මූලික ලක්‍ෂණ හතරක් ලියා ඉන් එකක් පහදන්න. (ලකුණු 06යි)
- (04) I. "රාජ්‍යත්ව සංකල්පය" යටතේ පහත අන්වර්ථ/ ගෞරව නාමයන්ගෙන් පිදුම් ලත් රජවරුන්ගේ නම් වරහන් තුළින් තෝරා ඉදිරියෙන් ලියන්න.
1. "අකලපය මහරජ" -
 2. "නර ඉසෙර". -
 3. "වක්‍රවර්ති" -
- (මහසෙන්, කුටකණ්ණාභය, වසභ, කාශ්‍යප, නිශ්ශංකමල්ල, ධාතුසේන) (ලකුණු 03යි)
- II. මධ්‍ය පාලනය හා සම්බන්ධ පහත සඳහන් තනතුරු නාම දැරූ පුද්ගලයන්ගේ නිල නාමයන් මොනවාදැයි ඉදිරියෙන් ලියන්න.
1. නගරගුත්තික -
 2. බඩගර්ක -
 3. හති අදෙක -
 4. රූප අදෙක -
- (ලකුණු 04යි)
- III. අතීතයේ රාජ්‍ය උරුමය සිදු වූ ආකාරය උදාහරණ දෙකක් සහිතව පහදන්න. (ලකුණු 05යි)
- IV. වාරි කර්මාන්තයට අමිල සේවයක් ඉටුකළ වසභ රජුගේ දේශපාලන හා ආර්ථික වැදගත්කම කරුණු තුනක් ඇසුරින් පැහැදිලි කරන්න. (ලකුණු 06යි)
- (05) I. පහත සඳහන් වැව් ඉදිකරන ලද රජවරුන් කවුරුන්දැයි ඉදිරියෙන් ලියන්න.
- A - ගිරිතලේ වැව -
 - B - කළා වැව -
 - C - තිසා වැව -
- (ලකුණු 03යි)
- II. රාජධානි නිරිත දිගට සංක්‍රමණය වීමට බලපෑ හේතු හතරක් ලියන්න. (ලකුණු 04යි)
- III. "අපේ අතීත මුතුන් මිත්තන් හා රංවරුන් පරිසරයට ආදරය කළ පරිසරය ආරක්‍ෂා කළ පිරිසක් වූ බව සත්‍යයකි." ඔවුන් පරිසරය ආරක්‍ෂා කළ ආකාරය උදාහරණ දෙකක් මගින් පහදන්න. (ලකුණු 05යි)
- IV. පහත රූපය අධ්‍යනය කොට එහි A, B, C හා D වලින් දක්වා ඇති වාරි තාක්‍ෂණික අංග නම් කර ඉන් ඔබ කැමති තාක්‍ෂණික අංග දෙකක් මගින් සිදුකරනු ලබන කාර්යය කෙටියෙන් පහදන්න.



(ලකුණු 06යි)

- (06) I. පහත තනතුරු නාම දැරූ පුද්ගලයන්ගේ නිල නාමයන් ඉදිරියෙන් ලියන්න..
- a - නිවසේ ප්‍රධානියා -
 - b - ගමේ ප්‍රධානියා -
 - c - ප්‍රදේශයේ ප්‍රධානියා - (ලකුණු 03යි)
- II. අතීතයේ සිටි රජවරු මහජනතාව වෙනුවෙන් ඉටුකළ යුතුකම් හතරක් දක්වන්න. (ලකුණු 04යි)
- III. පැරණි ශ්‍රී ලංකාවේ කෘෂි අංශය යටතේ පැවති ප්‍රධාන ගොවිතැන් ක්‍රම දෙකක් දක්වා ඒ පිළිබඳව සරලව පහදන්න. (ලකුණු 05යි)
- IV. පැරණි ලංකාවේ රජවරු වෙළඳාම සම්බන්ධයෙන් දැඩි අවධානයෙන් සිටි බව උදාහරණ තුනක් ඇසුරෙන් පෙන්වා දෙන්න. (ලකුණු 06යි)
- (07) I. පෘතුගීසීන් මෙරටට පැමිණෙන විට ලංකාව බෙදී පැවති ප්‍රධාන කොටස් තුන නම් කරන්න. (ලකුණු 03යි)
- II. පහත සඳහන් සටන් මෙහෙය වූ පෘතුගීසී සෙන්පතිවරුන්ගේ නම් වරහන් තුළින් තෝරා ලියන්න.
- 1. ක්‍රි.ව. 1594 - දන්තවරු සටන -
 - 2. ක්‍රි.ව. 1602 - බලන සටන -
 - 3. ක්‍රි.ව. 1630 - රන්දෙණිවෙල සටන -
 - 4. ක්‍රි.ව. 1638 - ගන්නෝරු සටන - (ලකුණු 04යි)
- (දොන් ජොරනිමෝද අසවේදු / කොන්ස්තන්තිනුද සා/ ජේරෝ ලෝපෙස් ද සුසා / දියේගෝ ද මෙලෝ / ක්වේරෝස්)
- III. I වන විමලධර්ම සූරිය රජුගේ වැදගත්කම කරුණු දෙකක් ඇසුරෙන් පහදන්න. (ලකුණු 05යි)
- IV. උඩරට රාජ්‍යයේ සමාජ හා ආර්ථික ලක්ෂණ තුන බැගින් ලියන්න. (ලකුණු 06යි)

III කොටස

- (08) I. පහත සඳහන් යුරෝපා ජාතීන්ගේ පෙරදිග පිහිටුවා තිබූ ප්‍රධාන වෙළඳ මධ්‍යස්ථාන ඉදිරියෙන් ලියන්න.
- 1. පෘතුගීසීන් -
 - 2. ලන්දේසීන් -
 - 3. ඉංග්‍රීසීන් - (ලකුණු 03යි)
- II. යුරෝපා ජාතීන් ලංකාවට පැමිණීමට බලපෑ ප්‍රධාන හේතු දෙකක් ලියන්න. (ලකුණු 04යි)
- III. “යුරෝපා ජාතීන්ට ආසියාවට පැමිණීමට දේශගවේෂණය හා විද්‍යා ප්‍රබෝධය බොහෝ දුරට හේතු සාධක විය.” උදාහරණ දෙකක් ඇසුරින් පැහැදිලි කරන්න. (ලකුණු 05යි)
- IV. යුරෝපා ජාතීන්ගේ ලංකා ගමනය (ලංකාවට පැමිණීම) නිසා අපට ඇති වූ යහපත් ප්‍රතිඵල තුනක් හා අයහපත් ප්‍රතිඵල 3ක් ලියන්න. (ලකුණු 06යි)
- (09) I. “පුනරුදය” නිර්වචනය කරන්න. (ලකුණු 03යි)
- II. පුනරුද යුගයේ පහත ක්ෂේත්‍ර සම්බන්ධව වැදගත් පුද්ගලයන් දී ඇති වරහන තුළින් තෝරා ලියන්න.
- a. දක්ෂ චිත්‍ර හා මූර්ති ශිල්පියෙක් ලෙස සලකයි -
 - b. තාරකා විද්‍යාවේ පියා ලෙස සලකයි -
 - c. අත්හදා බැලීමේ පියා ලෙස සලකයි -
 - d. ගත් කුවරයෙක් ලෙස සලකයි -
- (ලියනාඩෝ ඩාවින්චි, මයිකල් සර්ටේස්, නිකලස් කොපර්නිකස්, ගැලිලියෝ ගැලිලි, පෙට්ට්‍රිකා, නිව්ටන්) (ලකුණු 04යි)
- III. පුනරුදය ඇතිවීමට බලපෑ හේතු දෙකක් ලියන්න. ඉන් එකක් පුනරුදය ඇති වීමට හේතු වූ ආකාරය පැහැදිලි කරන්න. (ලකුණු 05යි)
- IV. පුනරුදයේ ප්‍රතිඵල තුනක් ලියා ඉන් එකක් සරලව පහදන්න. (ලකුණු 06යි)