

ගණිතය 2 ශ්‍රේණිය

01. හිස් තැනට ගැලපෙන සංඛ්‍යාව ලියන්න.

01.

9		11		12	
---	--	----	--	----	--

02.

13		15		17	
----	--	----	--	----	--

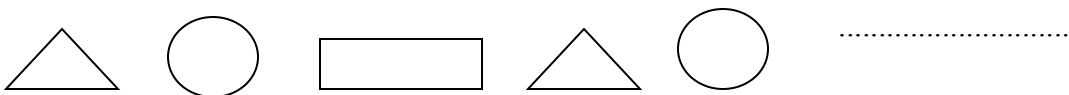
03.

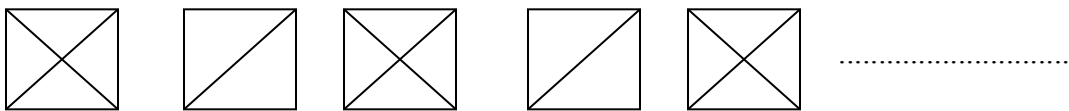
20		22		26	
----	--	----	--	----	--

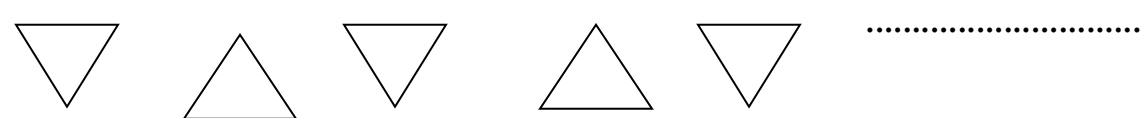
02 සංඛ්‍යා නාමය ලියන්න.

- ❖ 12
- ❖ 15
- ❖ 16
- ❖ 18
- ❖ 21
- ❖ 23
- ❖ 25
- ❖ 27
- ❖ 29
- ❖ 30

03 රටාවේ ඊළඟ වන රූපය පමණක් අඳින්න.

01. 

02. 

03. 

04. දක්වා ඇති හැඩතල අඳින්න.

ගණනය 2 ශ්‍රේණිය

වෘත්තය

සෘජුකෝණාස්‍රය

.....

.....

සමචතුරස්‍රය

ත්‍රිකෝණය

.....

.....

05. විශාලම සංඛ්‍යාවේ සිට කුඩාම සංඛ්‍යාව දක්වා ලියන්න.

01. 7 10 4 -

02. 16 12 10 -

03. 13 20 17 -

04. 9 19 16 -.....

05. 19 12 18 -

සැකසුම:- පී. ජී. සමන්තා මිය

ගා/ සරණංකර කණිෂ්ඨ විද්‍යාලය , ඇල්පිටිය