

# දකුණු පළාත් අධ්‍යාපන දෙපාර්තමේන්තුව

## අර්ධ වාර්ෂික පරීක්ෂණය - 2017

### 11 ශ්‍රේණිය

### නාට්‍ය හා රංග කලාව - I පත්‍රය

නම/විභාග අංකය :- .....

කාලය : පැය 01 යි.

● පහත සඳහන් ගද්‍ය පද්‍ය කොටස් ආශ්‍රයෙන් 1-4 ප්‍රශ්න සඳහා පිළිතුරු ලියන්න.

- A. මව්පියෝ නිදහස් වන්නට - මාව දන්නයි නාඩි වූ හමෙකුටා  
 උන්දල හට කමුරන්නට - යැද ඉන්නෙ සුරන් හට දෙස්කොටා
- B. වඩින පුර දේසෙන් - සත්දෙන බමුණු ඇවිදින්  
 කළ වඩින පටුතින් - මෙසේ බමුණෝ යාග කරමින්
- C. යක්දෙස්සා - මේකට මොකද මේ?  
 බේරකරු - මම නොකිව්වට මුට කිරිපණු ගාය  
 යක්දෙස්සා - අනේ බොලන් මේ කවුද?  
 බේරකරු - මු වැද්දා .....
- D. වලට ගොස් ම පියාණෙනි උකුම්  
 කිසි දිනක පෙරළා නොආවොත්  
 මේ ලෙණේ සිර වී සිටින්නා  
 බැහැර යන්නට මග නොදන්නා

- (1) එදිරිවීර සරත්චන්ද්‍ර මහතා 1961 දී නිර්මාණය කළ නාට්‍යයක ගීත කොටසකි,  
 (i) A (ii) B (iii) C (iv) D
- (2) පහතරට වෙරළ කලාපයේ ප්‍රචලිත ගැමි නාට්‍යයක් හා සම්බන්ධ වේ.  
 (i) A (ii) B (iii) C (iv) D
- (3) "මැණික්පාල" දේවියට වැළඳී රෝගය නිවාරණය කිරීම උදෙසා සිදු කළ යාගයේ එන ගායනා කොටසක් වන්නේ  
 (i) A (ii) B (iii) C (iv) D
- (4) "C" හි අඩංගු සංවාදය හා වඩාත් නිවැරදි ප්‍රකාශය වනුයේ,  
 (i) සුනියම් යාගය හා සම්බන්ධ සංවාදයකි.  
 (ii) රට යකුම් ආගයේ යොදාගන්නා සංවාදයකි.  
 (iii) කොහොඹා යක් කංකාරියේ යොදාගන්නා සංවාදයකි.  
 (iv) සොකරී ගැමි නාට්‍යයේ යෙදෙන සංවාදයකි.
- (5) නාත්ත යනු,  
 (i) නාව ප්‍රකාශනයෙන් තොර නර්තනයකි.  
 (ii) බටහිර නිර්මාණය වූ සංකල්පයකි.  
 (iii) මෙය මුලින්ම ඉදිරිපත් කරන ලද්දේ ඇරස්ටෝටල් ය.  
 (iv) කටක් නර්තනයට අයත්ය.
- (6) ප්‍රාසංගික කලාවන් පමණක් අයත් වනුයේ,  
 (i) චිත්‍ර, මූර්ති, නාට්‍ය (ii) නාට්‍ය, ඔපෙරා, චිත්‍රපට  
 (iii) චිත්‍රපට, ටෙලිනාට්‍ය, වේදිකා නාට්‍ය (iv) ඔපෙරා, බැලේ, මුද්‍රා නාට්‍ය
- (7) ඕනෑම රංග භූමියක් සම්බන්ධයෙන් නිවැරදි නොවන්නේ,  
 (i) වේදිකාව මන:කල්පිත කොටස් 9 බෙදා තිබීම. (ii) රංගනයට ප්‍රමාණවත් අවකාශයක් තිබීම.  
 (iii) ප්‍රේක්ෂකයන්ට පහසුවෙන් නැරඹිය හැකි වීම. (iv) රංග භූමිය සමහලා ප්‍රදේශයක වීම.

5382

- (8) නාට්‍ය ධර්මී හා ලෝක ධර්මී නාට්‍ය යුගලය පිළිවෙලින් අයත් වන්නේ,  
 (i) සිංහබාහු, දික්තල කාලගෝල (ii) ජනේලය, දික්තල කාලගෝල  
 (iii) මනාසාර, මනමේ (iv) සිංහබාහු, තලමල පිපිලා
- (9) වේදිකා නාට්‍යයක් රංගගත අවස්ථාවේ සිටිය යුතුම ශිල්පීන් අයත් පිළිතුර වන්නේ,  
 (i) නළු නිලියන්, නාට්‍ය අධ්‍යක්ෂ, වේදිකා පාලක, පෙළ මතක් කරන්නන්.  
 (ii) නාට්‍ය අධ්‍යක්ෂ, පිටපත් රචක, වේදිකා පාලක, නළු නිලියන්  
 (iii) නළු නිලියන්, වේදිකා පාලක, පෙළ මතක් කරන්නන්, රංගාලෝක ශිල්පියා.  
 (iv) රංගාලෝක ශිල්පියා, සංගීත නිර්මාණ ශිල්පියා, නාට්‍ය අධ්‍යක්ෂ, රංග විනයාස ශිල්පියා
- (10) රංගාලෝකයේදී භාවිතා වන පහත් පමණක් අයත් වරණය වන්නේ,  
 (i) ධාරාලෝක පහන, ස්ට්‍රීප් පහන, මීරි බෝල (ii) ඕමරය, ස්ට්‍රීප් පහන, යොමු පහන  
 (iii) යොමු පහන, ස්ට්‍රීප් පහන, මීරි බෝල (iv) ධාරාලෝක පහන, ස්ට්‍රොබ් පහන, යොමු පහන
- (11) නොගැලපෙන යුගලය තෝරන්න.  
 (i) ලප නොමවන් සඳ සේ ..... - මනමේ නාට්‍යය (ii) සන්සියක් කපු මල් රැගෙන.... - කුවේණි නාට්‍යය  
 (iii) සෝබාවදේ මෙපුර .... - තාරාවෝ ඉතිලෙහි (iv) හනික වරෙව් කොල්ලනේ ... - සෙක්කුව
- (12) නාට්‍ය ගීතයක් සම්බන්ධයෙන් සාවද්‍ය ප්‍රකාශය තෝරන්න.  
 (i) නාට්‍ය ගීතය රංග පරම විය යුතුය.  
 (ii) නාට්‍ය ගීත ඒ ඒ නාට්‍ය ශෛලීන් අනුව වෙනස් වේ.  
 (iii) නාට්‍ය ගීතය ශ්‍රව්‍ය දෘශ්‍ය ව රස විඳිය හැකිය.  
 (iv) ලෝක ධර්මී නාට්‍ය සඳහා නාට්‍ය ගීත අනිවාර්යය වේ.
- (13) වේෂභූෂණ සම්බන්ධයෙන් නොගැලපෙන වරණය තෝරන්න.  
 (i) වේෂභූෂණ අභ්‍යන්තර හා බාහිර සමාරෝපයට ඉතා වැදගත් ය.  
 (ii) ප්‍රේක්ෂකයාට වර්තය හඳුනාගැනීමට මෙය උපකාරී වේ.  
 (iii) අංග රචනා ශිල්පියා විසින් වේෂභූෂණ නිර්මාණය කරයි.  
 (iv) වේෂභූෂණ නිර්මාණයේදී නාට්‍යයේ ශෛලිය පිළිබඳව සැලකිය යුතුය.
- (14) වේදිකා නාට්‍ය හා සම්බන්ධ ආනුෂාංගික ශිල්පියෙකු නොවන්නේ,  
 (i) සංගීත නිර්මාණ ශිල්පියා. (ii) පෙළ රචනා ශිල්පියා.  
 (iii) රංගාලෝක නිර්මාණ ශිල්පියා. (iv) අංග රචනා ශිල්පියා.
- (15) රංග භූමි අලංකරණ සම්බන්ධයෙන් සාවද්‍ය ප්‍රකාශය තෝරන්න.  
 (i) සෑම නාට්‍යයක් සඳහාම රංග භූමි අලංකරණ අත්‍යවශ්‍යවේ.  
 (ii) ජීවමාන නළු නිලියන් යොදා ගැනීමෙන් ද රංග භූමි අලංකරණ සිදු කරයි.  
 (iii) පරිහරණයේ පහසුව, ඉක්මනින් ගැලවීම, සවිකිරීම ආදිය සලකා රංග පසුතල නිර්මාණය කළ යුතුය.  
 (iv) නළු කාර්යය ඉස්මතු වන ලෙස රූපණ රටාවට ගැලපෙන ලෙසත් රංග භූමි අලංකරණ සිදු කළ යුතුය.

● පහත උත්තර වගුව ආශ්‍රයෙන් 16 - 19 ප්‍රශ්න සඳහා පිළිතුරු සපයන්න.

A	B	C	D
සෙක්කුව උත්තමාවී වරෙන්තු ගැලිලියෝ	මරාසාද් ඇසළ සඳ අවන්තල දන්න දුනු ගවුචේ හරිම බඩු හයක්	පුස්ලෝඩං පණ්ඩුකාභය සුභ සහ යස සුදු සහ කළු	අහස් මාලිගා මකරා ..... කුවේණි

- (16) පරාක්‍රම කිරිඇල්ල නාට්‍ය නිර්මාණ අයත් වන්නේ,  
 (i) A (ii) B (iii) C (iv) D
- (17) "D" වගුවේ හිස්තැන් සඳහා වඩාත් උචිත නාට්‍ය වනුයේ  
 (i) නට්ටු ගෙවල් (ii) බේරහඬි (iii) ජනේලය (iv) සකල ජන
- (18) "C" වගුවේ නාට්‍ය රචනා කරන ලද නාට්‍යකරුවා  
 (i) සයිමන් නවගත්තේගම (ii) හෙන්රි ජයසේන  
 (iii) බන්දුල ජයවර්ධන (iv) සුගතපාල ද සිල්වා



- (19) ස්වභවය නාට්‍ය පමණක් අයත් කාණ්ඩය වනුයේ,  
 (i) A (ii) B (iii) C (iv) D
- (20) නිම කන්ද දියවීමේ රංග අභ්‍යාසය අයත් වන්නේ  
 (i) සංවේදන අභ්‍යාස (ii) ශීර්ෂකරණ අභ්‍යාස  
 (iii) ශ්වසන අභ්‍යාස (iv) දුර්වල අභ්‍යාස
- (21) ඔබේ නාට්‍ය ගුරුවරයා ඔබට දැස් වසාගන්නට උපදෙස් ලබා දී විවිධ ශබ්ද ශ්‍රවණය කිරීමට සලස්වා ඒවා හඳුනාගන්නට පවසයි. මෙය  
 (i) සංවේදන අභ්‍යාසයක් ය. (ii) ශ්වසන අභ්‍යාසයක් ය.  
 (iii) ශීර්ෂකරණ අභ්‍යාසයක් ය. (iv) කටහඬ අභ්‍යාසයක් ය.
- (22) "අභිරූපණ රංගනය" හා නොගැලපෙන පිළිතුර වන්නේ  
 (i) ආගමික අතින් මූලික කරගෙන නිර්මාණශීලීව රඟ දක්වන්නකි.  
 (ii) සාන්විත අතින් රංගනයේදී යොදාගනී.  
 (iii) රංග භාණ්ඩ අවශ්‍ය පරිදි යොදාගනියි.  
 (iv) සැහැල්ලු ගමන, පැති ගමන, ආපසු ගමන ආදී ගමන් රටා.
- (23) වේදිකා නාට්‍ය නරඹන ප්‍රේක්ෂකයා හා නොගැලපෙන්නේ  
 (i) නාට්‍ය රසිකයකු වෙයි. (ii) නාට්‍ය විචාරකයකු වෙයි.  
 (iii) නාට්‍ය විනිශ්චයකරුවෙකි. (iv) ප්‍රේක්ෂකයා නැතිනම් නාට්‍යක් නැත
- (24) සන්නි යකුම් යාගයේ වාද්‍ය භාණ්ඩයකි.  
 (i) රුහුණු බෙරය (ii) ගැටබෙරය (iii) තම්බැට්ටම (iv) දවුල
- (25) දකුණු ඉන්දිය තෙරකේතුවන්ගේ නාට්‍ය ආභාෂය ලද මෙරට නාට්‍ය විශේෂය  
 (i) නාඩගම් (ii) සොකරි (iii) කෝලම් (iv) නූර්ති
- (26) කෝලම් ගැමි නාට්‍යයේ ඉදිරිපත් වන පාත්‍රයකු අඩංගු නොවන කාණ්ඩය වනුයේ  
 (i) නොංචි අක්කා, ආරච්චි, ලොංචිනා (ii) ලොංචිනා, මුදුලි, පනිකිලයා  
 (iii) ජසයා, ලොංචිනා, සොකරි (iv) පොලිස්, මුදුලි, ආරච්චි
- (27) ශ්‍රී ලංකාවේ මුල්ම නූර්තිකරුවා වන්නේ  
 (i) ජෝන් ද සිල්වා (ii) සී. දොන් ඩස්තියන් (iii) වාල්ස් ඩයස් (iv) පිලිප්පුසිකඳුසෝ

● 28 සිට 31 දක්වා ප්‍රශ්න සඳහා පහත වගුව භාවිතා කරන්න.

P	Q	R	S
වලහා වෙද හටන යන්නම් ගැලවුණා ඉබේ වෙදා	එලොව ගිනිත් මෙලොව ආවා හස්තිකාන්ත මන්තරේ කඳා වළලු ඒකට මට හිනා හිනා	නර් බැණා කැළණි පාලම බෙරහඬ නුණු වටයේ කතාව	The Rivals Arms and the Man Peace and Quiet Right you are

- (28) විශ්ව විද්‍යාලයේ සිංහල සම්භිත මගින් රඟ දැක් වූ නාට්‍ය අයත් වන්නේ  
 (i) P (ii) Q (iii) R (iv) S
- (29) "සිංහල ගැමි නාටකය" නම් ග්‍රන්ථය රචනා කළ නාට්‍යකරුවාගේ නාට්‍ය අයත් කාණ්ඩය වනුයේ,  
 (i) P (ii) Q (iii) R (iv) S
- (30) 1960 සහ 1970 දශකයන්හි නිර්මාණය වූ නාට්‍ය අයත් වනුයේ  
 (i) P (ii) Q (iii) R (iv) S
- (31) "S" තිරුවේ නාට්‍ය නිෂ්පාදනය සඳහා මුල් වූ ශිල්පියා වනුයේ,  
 (i) ඊ.එල්. සී. ලුබෝවයික් (ii) හෙන්රි ජයසේන  
 (iii) එදිරිවීර සරත්චන්ද්‍ර (iv) ආචාර්ය මලලසේකර

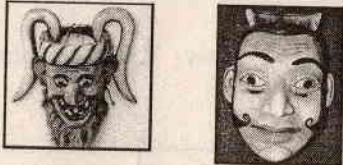
- (32) 2017 "ජාතික නාට්‍ය උළෙල" වැඩිම සම්මාන දිනාගත් නාට්‍ය වනුයේ,  
 (i) රජා මං වහලා (ii) නැතුව බැරි මිනිගෙක්  
 (iii) මියො නැතුව බැර (iv) දෙයියෝ සාක්කි
- (33) නළුවකු තම පෞද්ගලිකත්වය අතහැර වෙනත් භූමිකාවකට පුවේග වීම  
 (i) අංග රචනය වේ. (ii) අභිනය වේ. (iii) සමාරෝපය වේ. (iv) ක්ෂණික නිරූපණ වේ.
- (34) සොකර්, නාඩගම්, නූර්ති රඟ දක්වන ලද රංග භූමි පිළිවෙලින් අයත් වර්ණය වනුයේ,  
 (i) කමත, කරලිය, ප්‍රොසිනියම් වේදිකාව (ii) සබය, කමත, ප්‍රොසිනියම් වේදිකාව  
 (iii) කමත, කරලිය, සබය (iv) සබය, කැරකෙන වේදිකාව, නූතන වේදිකාව

● එක්තරා සංස්කෘතික උත්සවයක නියමිත අංග පෙළගස්වා තිබූ ආකාරය පහත දැක්වේ. ඒ ආශ්‍රයෙන් 35 - 37 ප්‍රශ්න සඳහා පිළිතුරු සපයන්න.

- |               |                           |
|---------------|---------------------------|
| A. වෙස් නැටුම | E. ජස ලොවිනා කෝලම         |
| B. වඩිග පටුන  | F. තෙල්මෙ නැටුම           |
| C. සළු පාලිය  | G. සොකර් නාට්‍ය ජවනිකාවක් |
| D. කුළු නැටුම | H. නූතන නාට්‍ය ශී         |


- (35) නෘත්ත අංග පමණක් අයත් වනුයේ,  
 (i) A, B හා D (ii) A, D හා F (iii) E, F හා G (iv) D, F හා H
- (36) මෙම සංස්කෘතික උත්සවයේ සෑම වර්තයක්ම වෙස් මුහුණු පළඳිනු ලබන අංග වනුයේ  
 (i) B හා G (ii) C හා G (iii) E හා G (iv) C හා E
- (37) ඉහත අංග අතුරින් පහතරට ප්‍රදේශයන්ට ආවේණිකව ඉදිරිපත් කරන ලද නිර්මාණ වනුයේ,  
 (i) B, C, E හා F (ii) B, D, E හා G (iii) B, E, F හා G (iv) A, B, C හා D
- (38) ශ්‍රී ලංකාවේ මූලින්ම නිශ්චිත පෙළක් සහිතව ඉදිරිපත් වූ නාට්‍ය සම්ප්‍රදාය වනුයේ,  
 (i) සන්නි යකුම් යාගයේදී ය. (ii) සොකර් නාට්‍යයේ ය.  
 (iii) නාඩගම් ය. (iv) නූර්තිනි ය.

(39) මෙම ජායාරූපයෙන් දැක්වෙන වෙස්මුහුණු දෙක පිළිවෙලින් සඳහන් වනුයේ,



- |                            |                             |
|----------------------------|-----------------------------|
| (i) ජසයා කෝලම, මුදලි කෝලම  | (ii) අණබෙර කෝලම, ගමයා       |
| (iii) හෙංවජ්ජු, මුදලි කෝලම | (iv) අණබෙර කෝලම, මුදලි කෝලම |

(40) මෙම වාද්‍ය භාණ්ඩ දෙක යොදාගත් ගැමි නාට්‍ය දෙක පිළිවෙලින් අඩංගු වනුයේ,



- |                       |                      |
|-----------------------|----------------------|
| (i) නූර්ති සහ කෝලම්   | (ii) නාඩගම් හා කෝලම් |
| (iii) සොකර් හා නූර්ති | (iv) සොකර් හා කෝලම්  |



# දකුණු පළාත් අධ්‍යාපන දෙපාර්තමේන්තුව

## අර්ධ වාර්ෂික පරීක්ෂණය - 2017

### 11 ශ්‍රේණිය

### නාට්‍ය හා රංග කලාව - II පත්‍රය

නම/විභාග අංකය :- .....

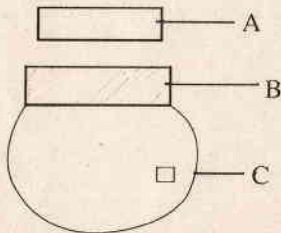
කාලය : පැය 02 යි.

- ❖ පළමු ප්‍රශ්නය අනිවාර්ය වේ.
- ❖ පළමුවන ප්‍රශ්නය හා නවත් ප්‍රශ්න හතරක් ඇතුළුව ප්‍රශ්න පහකට පිළිතුරු සපයන්න.

- (1) දික්තල කාලගෝල නාට්‍ය ආශ්‍රයෙන් පහත ප්‍රශ්නවලට පිළිතුරු සපයන්න.
- (i) මෙම නාට්‍යයේ අධ්‍යයවරයාගේ නම කුමක්ද? (ලකුණු 2)
  - (ii) දික්තල කාලගෝල නාට්‍යයේ ඇතුළත් නාඩගම් ලක්ෂණ 02 ක් ලියන්න. (ලකුණු 2)
  - (iii) මෙම නාට්‍යයේ ගඟ තීරපණය කර ඇති අයුරු දක්වන්න. (ලකුණු 2)
  - (iv) මෙම නාට්‍යයෙහි පැමිණෙන පාත්‍රයින් සතර දෙනෙකු නම් කරන්න. (ලකුණු 2)
  - (v) කුමන උපායක් මගින් කාලගෝල දික්තලා විවාහ කරගනී ද? (ලකුණු 2)
  - (vi) කාලගෝල නාට්‍ය අවසානයේ ගත් තීරණය කුමක්ද? (ලකුණු 2)
- (2) (i) නෂ්ට, නෂ්ට, නාට්‍ය සඳහා උදාහරණ එක බැගින් දක්වන්න. (ලකුණු 3)
- (ii) නෂ්ට හා නෂ්ට හඳුන්වන්න. (ලකුණු 4)
- (iii) වේදිකා නාට්‍යයක දැකිය හැකි සුවිශේෂී ලක්ෂණ 05 ක් නම් කරන්න. (ලකුණු 5)



- (3)
- (i) මෙම ඡායාරූපයෙන් දැක්වෙන ශාන්තිකර්මය නම් කරන්න. (ලකුණු 3)
  - (ii) මෙම ශාන්ති කර්මය පැවැත්වීමේ අරමුණු 4 ක් ලියන්න. (ලකුණු 4)
  - (iii) මෙම රංග අවස්ථාව හා බැඳී නාට්‍යමය ලක්ෂණ 5 ක් විස්තර කරන්න. (ලකුණු 5)



- (4)
- (i) ඉහත රංග භූමිය හඳුනාගෙන එහි A,B, හා C නම් කරන්න. (ලකුණු 3)
  - (ii) මෙම ගැමි නාටකයේ පැමිණෙන පාත්‍රයින් හතර දෙනෙකු නම් කරන්න. (ලකුණු 4)
  - (iii) මෙම ගැමි නාටකයේ රංග ශෛලියේ දැකිය හැකි සුවිශේෂී ලක්ෂණ 5 ක් ලියා දක්වන්න. (ලකුණු 5)

- (5) (i) සිංහල නූර්ති රචකයින් තිදෙනෙකු හා ඔවුන්ගේ නාට්‍ය නිර්මාණය බැගින් දක්වන්න. (ලකුණු 3)  
(ii) නූර්ති ලංකාවේ ආරම්භ වූ ආකාරය සැකෙවින් දක්වන්න. (ලකුණු 4)  
(iii) දේශීය නාට්‍ය කලාවේ පෝෂණයට නූර්ති කලාව බලපෑ ආකාරය කෙටියෙන් දක්වන්න. (ලකුණු 5)
- (6) (i) ජයලත් මනෝරත්න නාට්‍යවේදියා අධ්‍යක්ෂණය කරන ලද නාට්‍ය නිර්මාණ තුනක් සඳහන් කරන්න. (ලකුණු 3)  
(ii) ලංකාවේ විදි නාට්‍ය කලාවේ පුරෝගාමී නාට්‍යකරු නම් කර ඔහුගේ විදි නාට්‍ය කණ්ඩායමේ නම සඳහන් කරන්න. (ලකුණු 4)  
(iii) මහාචාර්ය එදිරිවීර සරත්චන්ද්‍රයන්ගෙන් ලංකාවේ නාට්‍ය කලාවට සිදු වූ මෙහෙය විමසන්න. (ලකුණු 5)
- (7) පහත සිදුවීම් පාදක කරගනිමින් වේදිකාවට උචිත නාට්‍යමය ගුණයෙන් පෝෂිත කෙටි නාට්‍යයක් රචනා කරන්න. රංග විධාන, සංවාද, අර්ථාන්විත හා නාට්‍යෝචිතව යොදා ගත යුතුය.

“ සොරකම පිවන වෘත්තිය කරගත් සෝමදාස හා සිරිදාස විශාල පෙට්ටියක් සොරා ගනී. බරන් අධික මෙම පෙට්ටිය පාළු ස්ථානයකට ඔසවාගෙන යන ඔවුන් එය විවෘත කර බලයි. එහි තිබී ඔවුනට හමුවන්නේ ඔවුන් කිසිවිටෙකත් නොසිතූ දෙයකි”.

- (i) නාට්‍යෝචිත අවස්ථා නිර්මාණය සඳහා (ලකුණු 4)  
(ii) සංවාද හා රංග විධාන සහිතව පෙළ රචනා කිරීම සඳහා (ලකුණු 8)