

දකුණු පළාත් අධ්‍යාපන දෙපාර්තමේන්තුව
தென் மாகாணக் கல்வித் திணைக்களம்
Southern Provincial Department of Education

අධ්‍යයන පොදු සහතික පත්‍ර (උසස් පෙළ) විභාගය - 13 ශ්‍රේණිය.
පළමු වාර පරීක්ෂණය - 2018 - නොවැම්බර්
குல்னிப் பொதுத் தராதர (உயர்தரப்) பரீட்சை 2018 ஜிவை, தரம் 13 முதலாம் தவணைப் பரீட்சை
General Certificate of Education (Adv. Level) Grade 13 First Term Test 2018 November

ආර්ථික විද්‍යාව
Economics -I

21

S

I

කාලය පැය දෙකයි
02 hours

සියලුම ප්‍රශ්න වලට මෙම ප්‍රශ්න පත්‍රයේම පිළිතුරු පවසන්න.

අංක 1 සිට 50 දක්වා පිටු ප්‍රශ්න වලට නිවැරදි පිළිතුරු තෝරා එහි අංකය ප්‍රශ්නයට ඉදිරියේ ඇති තිත් ඉරි මත ලියන්න.

01. ආර්ථික විද්‍යාවේ 'හිඟකම' නැමැති කේන්ද්‍රීය ප්‍රශ්නය පැන නැගීමට හේතුවන කරුණක් වන්නේ,
1. ආර්ථිකයක් සතු සම්පත් උපයෝජනයට අවශ්‍ය ආයෝජන අවස්ථා සලසා නොමැති වීමයි.
 2. සම්පත් සම්භාරයේ සීමිත බව අහිමිවීම මිනිස් පුවමනාවක් පැන නැගීමයි.
 3. භාණ්ඩ හා සේවා පරිභෝජනයෙන් මිනිස් පුවමනා කාලයක් නොවීමයි.
 4. මූලික මිනිස් අවශ්‍යතාවන් සමඟ මානසික හා සමාජමය අවශ්‍යතා පැන නැගීමයි.
 5. බොහෝ රටවල දිළිඳු ජනතාවට සහනාධාර ලබමින් ජීවත්වීමයි.

(.....)

02. නිෂ්පාදන ක්‍රියාවලියට ආධාර කෙරෙන ස්ථාවර ප්‍රාග්ධනයේ ප්‍රධාන සංරචකයක් නොවන්නේ පහත දැ අතුරෙන් කවරේද?

1. බතිර් සම්පත් ගවේෂණය
2. පරිගණක මෘදුකාංග
3. මත්ස්‍ය වගාව
4. අර්ධ නිම් භාණ්ඩ කොහ
5. ප්‍රහාරක යාත්‍රා

(.....)

03. මූලික ආර්ථික ප්‍රශ්නයක් ලෙස "සම්පත් බෙදා වෙන් කිරීම පිළිබඳ ප්‍රශ්නය" යන්නේ අදහස් කරන්නේ,

1. භාණ්ඩ හා සේවා නිෂ්පාදනය කිරීම සඳහා කවර සම්පත් යෙදවිය යුතු ද යන්නයි.
2. සීමිත සම්පත් යොදා කවර පුවමනාවක් සලසා ගන්නේද යන්නයි.
3. නිෂ්පාදනයේ දී විකල්ප ක්‍රම ඔල්ප අතුරෙන් වඩා සේව්‍ය ඔල්ප ක්‍රමය තෝරාගත යුතු ද යන්නයි.
4. නිෂ්පාදනය කරන ලද භාණ්ඩ හා සේවා සමාජයේ කවර පුරවැසියන් අතර බෙදා හැරිය යුතු ද යන්නයි.
5. රටේ සමස්ත ආදායම සමාජයේ පුරවැසියන් අතර බෙදා හරින්නේ කෙසේ ද යන්නයි.

(.....)

04. ප්‍රවෘත්තික ප්‍රතිලාභ පදනම් කරගත්

1. මිශ්‍ර ආර්ථික පද්ධතියක
2. පමුදාසික ආර්ථික පද්ධතියක
3. පමාපවිදි වෙළෙඳපොළ ආර්ථික පද්ධතියක
4. විධාන ආර්ථික පද්ධතියක
5. වෙළෙඳපොළ ආර්ථික පද්ධතියක (.....)

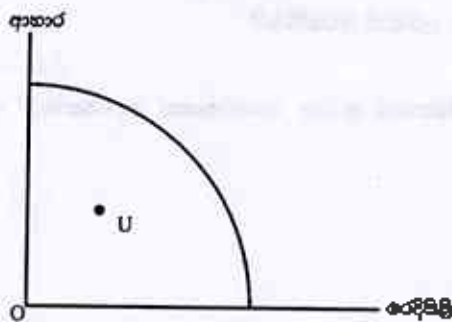
05. ආර්ථික පද්ධතියක් තුළ ව්‍යාපාරික අංශය සතු කාර්තව භාරයක් වන්නේ,

1. රටේ සංරක්ෂණය කිරීම.
2. කුමක්, කොපමණ, කෙසේ, කා සඳහා නිපදවිය යුතු ද යන්න, තීරණය කිරීම.
3. භාණ්ඩ හා සේවා මිලදී ගැනීම පිළිබඳ තීරණය කිරීම.
4. කර්මාන්ත හා ව්‍යාපාර නියාමනය කිරීම.
5. සේවක අයිතිවාසිකම් ආරක්ෂා කිරීමට කටයුතු කිරීම. (.....)

06. සුඤ්ඤ ආර්ථික විද්‍යා ආකල්පයක් වනුයේ,

1. නිෂ්පාදන කාර්යක්ෂමතාවය
2. උපත සම්පත් උපයෝජනය
3. ආර්ථික අවසානය
4. වර්තමාන හා අනාගත රටේ ජනතාවට සම්පත් බෙදා වෙන් කිරීම.
5. ආර්ථික පසු බැසීම. (.....)

07.

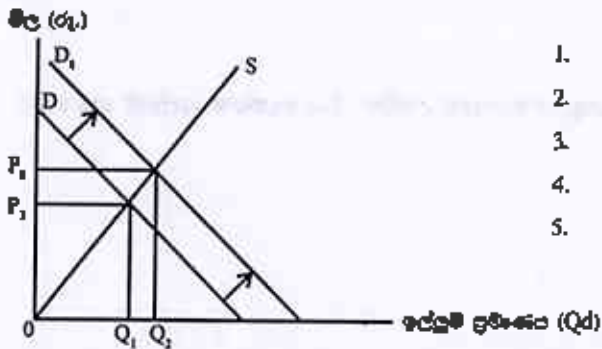


ඉහත රූප සටහනට අනුව එක්තරා ආර්ථිකයක් නිෂ්පාදන හැකියා මායිම් වනුයේ තුළ U ලක්ෂ්‍යයේ කටයුතු කරයි. මෙයින් අදහස් කරන්නේ

1. නිෂ්පාදන සම්පත් විනාශ වීමයි.
2. ශ්‍රම ඵලදායිතාවයේ පසු බැසීමයි.
3. තාක්ෂණ දියුණුවක් හට ගැනීමයි.
4. සිවිල් යුද්ධයක් පැවැත්වීමයි.
5. ශ්‍රමිකයින් විරැකියාවෙන් පසුවීමයි. (.....)

08. ධරණකාරී සහල් වෙළෙඳපොළක ඉල්ලුම් හා සැපයුම් තත්වයන් පහත දැක්වෙන ප්‍රස්ථාර සටහනෙන් පෙන්වුම් කෙරේ.

ප්‍රස්ථාර සටහනට අනුව සහල් මිල ඉහළ යාමට බලපා හැකි හේතුව කුමක් ද?



1. කිරිඟු පිටි මිල ඉහළ යාම.
2. එළවළු මිල ඉහළ යාම.
3. සහල් සඳහා සාර්ථකමිත රුපිය පහළ යාම.
4. සහල් සැපයුම් ඉහළ යාම.
5. ආනයනික සහල් මිල ඉහළ යාම.

(.....)

09. ඔස් ගාස්තු ඉහළ නැංවීම නිසා මෙහෙවින්නම් පිදුම්මට ඉඩකඩ ඇති පිද්ධිය වනුයේ,

1. දුම්රිය ගාස්තු ඉහළ යාමයි.
2. දුම්රියෙන් ගමන් කරන මගීන් ප්‍රමාණය ඉහළ යාමයි.
3. පොදුගලික වාහන ගාස්තු කිරීම ඉහළ යාමයි.
4. දුම්රිය ගාස්තු පහළ යාමයි.
5. දුම්රිය මගීන් සංඛ්‍යාව අඩුවීමයි.

(.....)

10. බාල භාණ්ඩයක මිල අඩුවීමක ආදායම් ප්‍රතිප්‍රසාරය වනුයේ,

1. මිල අඩුවන විට මූර්ත ආදායම් ඉහළ ගොස් ඉල්ලුම් ප්‍රමාණය වැඩිවීමයි.
2. මිල අඩුවන විට මූර්ත ආදායම් පහළ ගොස් ඉල්ලුම් ප්‍රමාණය වැඩිවීමයි.
3. මිල අඩුවන විට මූර්ත ආදායම් ඉහළ ගොස් ඉල්ලුම් ප්‍රමාණය අඩුවීමයි.
4. මිල අඩුවන විට මූලික ආදායම් ඉහළ ගොස් ඉල්ලුම් ප්‍රමාණය වැඩිවීමයි.
5. මිල අඩුවන විට මූර්ත ආදායම් පහළ ගොස් ඉල්ලුම් ප්‍රමාණය අඩු වීමයි.

(.....)

11. සැපයුම් වක්‍රය දකුණට විකෑන් වීමකට පත්ව සඳහන් පිදුම්ම අතරින් කවරක් හේතු විය හැකි ද?

1. සලකා බලන භාණ්ඩයේ මිල ඉහළ යාම.
2. අමුද්‍රව්‍ය මිල ගණන් ඉහළ යාම.
3. සාර්ථකමිත ආදායම් ඉහළ යාම.
4. රජය නිෂ්පාදන බදු කපා හැරීම.
5. රජය නිෂ්පාදන පනතාධාර ඉවත් කිරීම.

(.....)

12. එක්තරා භාණ්ඩයක වෙළෙඳ පොළ සැපයුම් සමීකරණය $QS = -20 + 4P$ වේ. භාණ්ඩයේ මිල රුපියල් 20.00 ක් වන විට නිෂ්පාදන අතිරික්තය වන්නේ,

1. රුපියල් 450
2. රුපියල් 600
3. රුපියල් 350
4. රුපියල් 400
5. රුපියල් 300

(.....)

13. භාණ්ඩයක මිලෙහි වෙනසක් නොමැතිව සම්පූර්ණ ප්‍රමාණය ඉහළ යා හැක්කේ,

1. ඉල්ලුම අනම්‍ය වී සාධක මිල ගණන් ඉහළ යන විට දීය.
2. ඉල්ලුම පූර්ණ නම්‍ය වී සාධක මිල ගණන් අඩු වන විට දීය.
3. ඉල්ලුම පූර්ණ අනම්‍ය වී කාණ්ඩය දියුණු වන විට දීය.
4. පැවැත්ම පූර්ණ නම්‍ය වී පාරිභෝගික රුචිත අඩු වන විට දීය.
5. ඉල්ලුම පූර්ණ අනම්‍ය වී සාධක මිල ගණන් වැඩි වන විට දීය.

(.....)

14. කිසියම් භාණ්ඩයක් සඳහා වන පාරිභෝගිකයෙකුගේ පැහැදුම් උපරිම වීය හැක්කේ, ඉල්ලුම් නම්‍යතාව

1. ඉහතයේ දී ය.
2. අධිමිතයේ දී ය.
3. නම්‍ය වන විට දී ය.
4. අනම්‍ය වන විට දී ය.
5. ඒකීය වන විට දීය.

(.....)

15. කිසියම් භාණ්ඩයක හැරවුම් නම්‍යතාව 0.4 ක් සහ මිල ඉල්ලුම් නම්‍යතාව -0.2 ක් වේ. මෙම භාණ්ඩය මත රජය රුපියල් 6.00 ක ඒකක බද්දක් පැන වී නම් නිෂ්පාදකයා දරන බදු බර වන්නේ,

2. රුපියල් 6 පි.
3. රුපියල් 2 පි.
4. රුපියල් 3 පි.
5. රුපියල් 5 පි.

(.....)

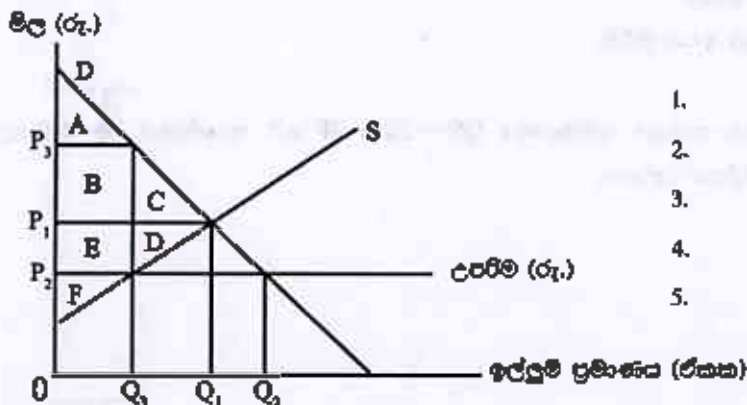
16. වෙළෙඳ පොළ සාර්ථකව නිමැවුම ඉක්මවූ අධි නිෂ්පාදනයක් සිහි වීමට පහත සඳහන් රජයේ ක්‍රියාමාර්ග අතුරින් සවිච්ඡිත බලපානු ලැබේ ද?

1. උපරිම මිල නියම කිරීම හා අවම මිල නියම කිරීම.
2. නිෂ්පාදිත බදු පැනවීම හා සහභාගීතා සැපයීම.
3. උපරිම මිල නියම කිරීම හා සර්වභව මිල නියම කිරීම.
4. අවම මිල නියම කිරීම හා නිෂ්පාදන සහභාගීතා සැපයීම.
5. නිෂ්පාදන පලාත නියම කිරීම හා බදු පැනවීම.

(.....)

17. කිසියම් භාණ්ඩයක් සඳහා උපරිම මිල නියම කිරීමක් පහත දැක්වෙන ප්‍රස්ථාර අවසරයෙන් පෙන්වුම් කෙරේ.

භාණ්ඩය පරිච්ඡිත මිලට (P_3) අලෙවි වූයේ නම් පාරිභෝගික අතිරික්තය පෙන්වුම් කෙරෙහි කොටස වන්නේ,



1. A
2. F
3. A + B + C
4. A + B + E
5. C + D

(.....)

18. එක්කර භාණ්ඩයකට රජය විසින් ඒකක සහනාධාරණක් සැපයූ විට නිෂ්පාදකයාගේ අයහොඳ වෙනස් නොවන අතර, පාරිභෝගික අභිවික්තය රජය ලබාදෙන සහනාධාරණේ ප්‍රමාණයෙන්ම ඉහළ යන ලදී. මෙම භාණ්ඩය සඳහා පැවති ඉල්ලුම හා සැපයුම් නම්‍යතාවන් නිවැරදිව දැක්වෙන පිළිතුර තෝරන්න ද?

ඉල්ලුම් නම්‍යතාව	සැපයුම් නම්‍යතාව
1. පූර්ණ නම්‍ය	සම්‍ය
2. පූර්ණ නම්‍ය	පූර්ණ අනම්‍ය
3. ඒකීය නම්‍ය	පූර්ණ අනම්‍ය
4. පූර්ණ අනම්‍ය	පූර්ණ නම්‍ය
5. අනම්‍ය	නම්‍ය

(.....)

19. රුපියල් 5.00 ක ඒකක සහනාධාරණයක් ලබා දීමෙන් පසු වෙළෙඳ පොළේ සැපයුම් සමීකරණය $Q_s = 10 + 2P$ වේ නම්, සහනාධාරණය ලබා දීමට පෙර වෙළෙඳ පොළ සැපයුම් සමීකරණය වන්නේ,

1. $Q_s = 5 + 2P$ වේ.
2. $Q_s = 10 + 7P$ වේ.
3. $Q_s = 5P$ වේ.
4. $Q_s = 2 + 5P$ වේ.
5. $Q_s = 2P$ වේ.

(.....)

20. සේවා සම්බන්ධයෙන් ගන්නල විරැකියාව වැඩි ගැටළු මතුවන්නේ,

1. නිෂ්පාදනය මත බදු පැනවූ විට ය.
2. නිෂ්පාදන සහනාධාරණ ඉහළ හැරූ විට ය.
3. උපරිම මිල සීමා පැන වූ විට ය.
4. අවම මිල සීමා පැන වූ විට ය.
5. නිෂ්පාදකයන් මත සලාක හිංසම් කල විට ය.

(.....)

21. සහන පිරිවැය අතුරින් ස්ථාවර පිරිවැයක් මෙන්ම වක්‍ර පිරිවැයක් ද වන විවිලනය තුළින් ද?

1. අමුද්‍රව්‍ය මිල දී ගැනීම.
2. ප්‍රාමාණික ලාභ
3. ක්‍රමිකයින්ට වැටුප් ගෙවීම.
4. රසායන වාරික ගෙවීම.
5. ප්‍රාග්ධන සඳහා පොලී ගෙවීම.

(.....)

22. සහන ප්‍රසාදන අතුරෙන් සාවද්‍ය ප්‍රසාදන කවරක් ද?

1. කෙටි කාලයේ දී නිමැවුම් ඒකක ප්‍රමාණය වැඩි වන විට සාමාන්‍ය ස්ථාවර පිරිවැය ක්‍රමයෙන් හීන වේ.
2. කෙටි කාලයේ දී නිමැවුම් ඉහළ මට්ටමටදී දී මුළු විවිලන පිරිවැය වැඩි වන වේගයකින් ඉහළ නගී.
3. කෙටි කාලයේ දී සාමාන්‍ය මුළු පිරිවැය වක්‍රය හැම විටම සාමාන්‍ය විවිලනය පිරිවැය වක්‍රයට පහළින් පිහිටයි.
4. දිගු කාලයේ දී නිෂ්පාදනය වැඩි කිරීමේදී මූලිකව බලපාන කිසිදු සංරෝධකයක් දක්නට නොමැත.
5. දිගු කාලයේ දී නිෂ්පාදන ධාරිතාව ප්‍රසාරණය කිරීමේ ප්‍රතිඵල වශයෙන් පරිමාණවත් පිරිමැසුම් මෙන්ම නොපිරිමැසුම් ද හට ගනී.

(.....)

23. ඒකාධිපති සහ ඒකාධිකාර කරන යන වෙළෙඳ පොළ ව්‍යුහයන් දෙකට ම පොදු වූ ලක්ෂණය වන්නේ, පහත ඒවායින් කවරක්ද?

1. නිෂ්පාදිතය ප්‍රවේශ්‍ය වීම.
2. ප්‍රවේශ්‍යව බාධා පැවතීම.
3. ආයතනික මුහුණ දෙන ඉල්ලුම් වක්‍රය පහතට බැටුම් වීම.
4. දිගු කාලයේ දී ආයතනික ප්‍රමාණික ලාභ පමණක් ලැබිය හැකි වීම.
5. සාධක සංවලභාවයට බාධා පැවතීම.

(.....)

24. පූර්ණ කර්මය, ඒකාධිකාරය, ඒකාධිකාරී කර්මය සහ කම්පයාධිකාරය යන වෙළෙඳපොළ ක්‍රමවේදයන්ට අදාළ උදාහරණ ශ්‍රී ලංකාව ඇතුළත අනුපිළිවෙලින් දැක්වෙන පිළිතුර තුමක් ද?

1. රූපවාහිනි සමාගම්, බැංකු සංස්ථා, ඒ ගොවිතැන, ගෑස් සමාගම්
2. පුවත් පත් සමාගම්, සිල්ලර කඩ, ජලසම්පාදනය, වානිජ බැංකු
3. ඒ ගොවිතැන, දුම්පිට කේවාලි, ආපන ශාලා, ගෑස් සැපයුම්
4. බඩ ඉරිඟු වගාව, ගෑස් සැපයුම්, විදුලි බල සැපයුම්, රක්ෂණ සමාගම්
5. ආපන ශාලා, දුම්පිට කේවාලි, ඒ ගොවිතැන, වානිජ බැංකු

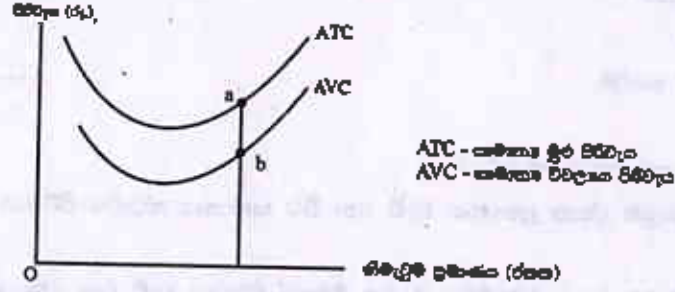
(.....)

25. පූර්ණ කර්ම ව්‍යාපාර ආයතනයක් දිගු කාලයේ දී ප්‍රමාණික ලාභ පමණක් ඉපයීමට මූලික හේතුව වන්නේ පූර්ණ කර්මයේ වෙළෙඳ පොළක,

1. පැවැත්ම මිලක් පැවතීම යි.
2. සම්පාදිත භාණ්ඩ නිපදවීම යි.
3. අබාධ ප්‍රවේශයක් හා සිටුවීමක් පැවතීම යි.
4. මිල, ආන්තික පිරිවැයට පමණ වීම යි.
5. ආයතන ප්‍රචාරණයේ නොදේශීය යි.

(.....)

26. එක්තරා නිෂ්පාදන ආයතනයකට අදාළ පෙට් සාමාන්‍ය පිරිවැය වක්‍ර දෙකක් පහත රූප සටහනෙහි දැක්වේ.



ඉහත රූප සටහනෙහි a - b ලම්භක දුරින් දැක්වෙන්නේ,

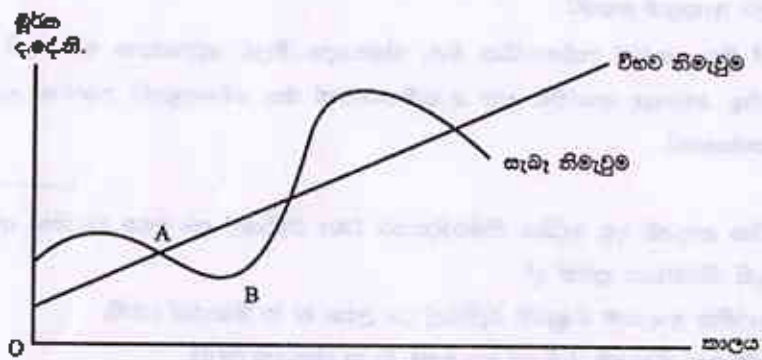
1. සාමාන්‍ය ස්ථාවර පිරිවැයයි.
2. සාමාන්‍ය ආන්තික පිරිවැයයි.
3. සාමාන්‍ය විචල්‍ය පිරිවැයයි.
4. සාමාන්‍ය ආවිච්චිත පිරිවැයයි.
5. සාමාන්‍ය මුළු පිරිවැයයි.

(.....)

27. රක්ෂිත කාලීන නිෂ්පාදන ක්‍රියාවලියට අදාළව පහත දැක්වෙන ප්‍රකාශ අතුරින් නිවැරදි ප්‍රකාශය තෝරන්න.
1. ආන්තික ඵලදාව පහළ යන විට ඊට වඩා වැඩි වේගයකින් සාමාන්‍ය ඵලදාව පහළ වැටේ.
 2. සාමාන්‍ය ඵලදා වක්‍රයේ ඔවුම මගින් ආන්තික ඵලදාව තීරණය වේ.
 3. සාමාන්‍ය ඵලදාව උපරිම වන විට ආන්තික ඵලදාව ශුන්‍ය වේ.
 4. සාමාන්‍ය ඵලදාව පහළ යන්නේ ආන්තික ඵලදාව පහළ යන වේගයට වඩා අඩු වේගයකිනි.
 5. පැමි විචලන ගෛව්‍රිමක දීම සාමාන්‍ය ඵලදාවට වඩා ආන්තික ඵලදාව ඉහළින් පිහිටයි.

(.....)

28. පහත දැක්වෙන්නේ කල්පිත වේලෙද පොළ ආර්ථිකයක ව්‍යාපාර වක්‍රයකි.



ඉහත රූප පටහඟ අනුව, නිමැවුම A ලක්ෂ්‍යයේ සිට B ලක්ෂ්‍යයට මාරු වේ නම් නිවැරදි පිළිතුර ඇතුළත් කාණ්ඩය වනුයේ කුමක් ද?

	අවධිය	කේවා වියුක්තිය	නිමැවුම් පරතරය	සමාහාර ඉල්ලුම
1.	පසු බැසීම.	වැඩි වේ.	සෘන	අඩු වේ.
2.	උත්සාහය.	අඩු වේ.	ධන	අඩු වේ.
3.	පසුබැසීම.	අඩු වේ.	ඍන	වැඩි වේ.
4.	ප්‍රසාරණය.	වැඩි වේ.	ධන	අඩු වේ.
5.	පසුබැසීම.	අඩු වේ.	සෘන	අඩු වේ.

(.....)

29. දළ දේශීය නිෂ්පාදිතයට ඇතුළත් වන ඵලදායී ආර්ථික කටයුත්ත වන්නේ කුමක් ද?

1. ඉගෙනීම හා විවේකය
2. ජලාශයක පාලනයකින් තොරව ජනනය වන මත්ස්‍ය නොගැස
3. ගෙවීමකින් තොරව නිවස තුළ ඉටු කරන ලද ගෘහ කේටිල
4. මිනිස් මැදිහත් වීමක් යටතේ පවත්වාගෙන යනු ලබන මිරිදිය මත්ස්‍ය වගාව
5. නිවසක සාමාජිකයින් කම් දරුවන් අධ්‍යාපන කටයුතු වලට යාමට රැගෙන යාම.

(.....)

30. පම් වර්ෂයක උද්ධමන වේගය 3% කි, ජනගහන වර්ධනය 1% කි. ඒක පුද්ගල මූල්‍ය දළ දේශීය නිෂ්පාදිත වර්ධන වේගය 0% කි. නාමික දළ දේශීය නිෂ්පාදිතයේ වර්ධන වේගය වනුයේ,

1. 1% කි.
2. 1.5% කි.
3. 2% කි.
4. 3% කි.
5. 4% කි.

(.....)

31. ජාතික ගිණුම් වලට අදාළ පහත පදනම ප්‍රකාශ වලින් එකකට වඩා වෙනස් වන්නේ,

1. සියලුම ආර්ථික ඒකකවල පමණක එකතු කළ අගය මූලික මිල ගණන් යටතේ දළ දේශීය නිෂ්පාදනය වේ.
2. මූලික මිලට භාණ්ඩ මත නිෂ්පාදනයට පත්වන බදු එකතුවකට සහනාධාර ඉවත් කිරීමෙන් ලැබෙන මිල නිෂ්පාදන මිල වේ.
3. මූලික මිලට භාණ්ඩ මත නිෂ්පාදනයට පත්වන ලද බදු එකතු කොට සහනාධාර ඉවත් කිරීමෙන් ලැබෙන මිල ගැනුම්කරුවන්ගේ මිල වේ.
4. වෙළෙඳ පොළක් හොඳින් භාණ්ඩ හා සේවා වල වටිනාකම පිරිවැය පදනම් කොට ගෙන ජාතික ගිණුම් වලට ඇතුළත් කෙරේ.
5. ගැනුම්කරුවන්ගේ මිල හෙවත් පාරිභෝගික මිල, නිෂ්පාදන මිලට අඩුකරගත නොහැකි VAT බදු, ප්‍රවාහන ගාස්තු, වෙළෙඳ ආන්තික පහ ගැනුම්කරුවන් මත වෙළෙඳුන්ට පත්වන ලද බදු බද්ධ බදු ගැලපීමෙන් පැහැදිලි වේ.

(.....)

32. එක්තරා වර්ෂයක දළ ජාතික ආදායම දළ දේශීය නිෂ්පාදනයට වඩා රුපියල් දශ ලක්ෂ 10 කින් අඩු විය. මෙමගින් මිබට එළඹිය හැකි නිගමනය කුමක් ද?

1. ගෙවුම් සේවක ප්‍රාරම්භ ආදායම් ගිණුමේ රුපියල් දශ ලක්ෂ 10 ක හිඟයක් පවතී.
2. ගෙවුම් සේවකේ වර්තමාන ගිණුමේ රුපියල් දශ ලක්ෂ 10 ක හිඟයක් පවතී.
3. ගෙවුම් සේවකේ ප්‍රාරම්භ ආදායම් ගිණුමේ රුපියල් දශ ලක්ෂ 10 ක අතිරික්තයක් පවතී.
4. ගෙවුම් සේවකේ භාණ්ඩ හා සේවා ගිණුමේ රුපියල් දශ ලක්ෂ 10 ක හිඟයක් පවතී.
5. බද්ධ වීදේශීය ආයෝජන රුපියල් දශ ලක්ෂ 10 ක අතිරික්තයක් පවතී.

(.....)

33. එක්තරා ආර්ථිකයක පහත තොරතුරු මිබට සලකා ඇත. (රු.මිලියන)

බද්ධ අපනයන	-	3050
සේවා ගිණුම (බද්ධ)	-	250
ප්‍රාරම්භ ආදායම් ගිණුම (බද්ධ)	-	380
ද්විතීක ආදායම් ගිණුම (බද්ධ)	-	1300
දළ දේශීය ව්යාදම	-	10000
මූල්‍ය නොවන රැකුණ (බද්ධ)	-	250

ඉහත ආර්ථිකයේ වෙළෙඳ මිලට වැයකළ හැකි දළ ජාතික ආදායම් වනුයේ,

- | | |
|------------------------|-------------------------|
| 1. රුපියල් මිලියන 5670 | 2. රුපියල් මිලියන 6570 |
| 3. රුපියල් මිලියන 5270 | 4. රුපියල් මිලියන 13300 |
| 5. රුපියල් මිලියන 6190 | |

(.....)

34. 4^ව පරිච්ඡේදයේ පරිච්ඡේදන ප්‍රිතම පේදනය කරන වීඩ කුටුම්භ,

1. තමන්ගේ වැය කළ හැකි ආදායම් පමුදුර්ණයෙන් ඉතිරි කරයි.
2. තමන්ගේ වැය කළ ආදායම් ඉක්මවා පරිච්ඡේදනය කරයි.
3. තමන්ගේ ආදායමෙන් කොටසක් ඉතිරි කරයි.
4. තම වැයකළ හැකි ආදායම් පමුදුර්ණයෙන් පරිච්ඡේදනයට වැය කරයි.
5. පෘණ ඉතුරුම් (අපසේපය) ඇති කර ගනී.

(.....)

35. එක්තරා ආර්ථිකයක සමාහාර ඉතුරුම් වක්‍රය දිගේ පහළට ගමන් කරන විට ආන්තික ඉතුරුම් නැඟීමට (MPS) සහ සාමාන්‍ය ඉතුරුම් නැඟීමට (APS) කුමක් සිදු වේද?

MPS (ආන්තික ඉතුරුම් නැඟීමට)	APS (සාමාන්‍ය ඉතුරුම් නැඟීමට)
1. නොවෙනස්ව පවතී.	පහළ වැටේ.
2. පහළ වැටේ.	ඉහළ ගනී.
3. ඉහළ නගී.	පහළ වැටේ.
4. ඉහළ නගී.	ඉහළ නගී.
5. නොවෙනස්ව පවතී.	ඉහළ නගී.

(.....)

36. එක්තරා සරල ආර්ථිකයක වැයකළ හැකි ආදායම් රුපියල් 2000 දී සාමාන්‍ය පරිභෝජන නැඟීමට (APC) 0.8 ක් වන අතර, වැය කළ හැකි ආදායම් රුපියල් 4000 දී සාමාන්‍ය පරිභෝජන නැඟීමට (APC) 0.7 කි. මෙම ආර්ථිකයේ පරිභෝජන ශ්‍රිතය වන්නේ,

1. $C = 400 + 0.4 Y$
2. $C = 400 + 0.8 Y$
3. $C = -400 + 0.4 Y$
4. $C = 400 + 0.6 Y$
5. $C = 400 + 0.7 Y$

(.....)

37. සරල ආර්ථිකයක සමාහාර ඉතුරුම් ශ්‍රිතයේ බැවුම් අඩුවීම නිසා ඇතිවිය හැකි ආර්ථික ප්‍රතිඵලයක් වන්නේ,

1. ගුණකයේ අගය වැඩිවීම හා සම්තුලිත ආදායම් ඉහළ ගැමීම.
2. ගුණකයේ අගය අඩුවීම හා සම්තුලිත ආදායම් ඉහළ යාමය.
3. ගුණකයේ අගය අඩුවීම හා සම්තුලිත ආදායම් පහළ යාමය.
4. ගුණකයේ අගය වැඩිවීම හා සම්තුලිත ආදායම් පහළ යාමය.
5. ගුණකයේ අගය වැඩිවීම හා සම්තුලිත ආදායම් ස්ථාවරව පැවතීමය.

(.....)

38. රජයේ කටයුතු ඇතුළත් සංවෘත ආර්ථිකයක පරිභෝජන ශ්‍රිතය පහත පරිදි වේ.
 $C = 100 + 0.8 YD$ රජයේ ස්ථාවර බද්ද රුපියල් මිලියන 40 කින් වැඩි වේ යැයි සිතන්න. සංක්‍රම ලබාදීමක් සිදු නොවේ නම්,

1. ස්වයංක්ෂිප පරිභෝජනය රුපියල් මිලියන 68 කි.
2. ස්වයංක්ෂිප පරිභෝජනය රුපියල් මිලියන 116 කි.
3. ස්වයංක්ෂිප පරිභෝජනය රුපියල් මිලියන 126 කි.
4. ස්වයංක්ෂිප පරිභෝජනය රුපියල් මිලියන 132 කි.
5. ස්වයංක්ෂිප පරිභෝජනයට හෝ පෙළඹුණු පරිභෝජනයට බලපෑමක් ඇති නොවේ.

(.....)

39. වානිජ බැංකුවක් මුදල් මවහුයේ,

1. තමන් පවුල අධි සංචිත ණයට දීමෙනි.
2. වැඩි වැඩියෙන් වෙත්පත් මුද්‍රණය කිරීමෙනි.
3. තම පුරුදුමුච්ච අලෙවි කිරීමෙනි.
4. තම සංචිත ඉහළ නංවා ගැනීමෙනි.
5. තමන් පවුල සංචිත වලින් පුරුදුමුච්ච මිලදී ගැනීමෙනි.

(.....)

40. පහත සඳහන් දෑ අතුරින් වාණිජ බැංකුවක වැයවීමක් ලෙස සලකනුයේ,

1. අනුබල මුදල්
2. මහ බැංකුවේ ඇති තැන්පතු
3. බැංකු අයිත
4. වට්ටම් කළ වාණිජ බිල්පත්

41. ආර්ථිකයේ පිළිබඳ සලකිත දත්ත පහත දැක්වේ. (වටිනාකම් රුපියල් මිලියන වලින්)

මුදල් හැඳුනුම	•	9000
අධිබලාභි මුදල් ප්‍රමාණය	•	3000
මහජනතා වෙහෙරි ව්‍යවහාර මුදල්	•	4500

මෙහි ආර්ථිකයේ මුදල් ගුණාංගයේ අගය.

1. 1.2
2. 1.5
3. 2
4. 3
5. 4.5

42. ශ්‍රී ලංකා මහ බැංකුවේ ගුණාත්මක ණය පාලන ක්‍රම අතරට ඇතුළත් වන අයිතමය වන්නේ,

1. හිතා නැත්පතු පහසුකම් අනුපාතිකය.
2. විවිධ වෙළෙඳපොළ කටයුතු.
3. ණය පිළිබඳ ප්‍රමාණාත්මක සීමා නියම කිරීම.
4. ව්‍යවස්ථාපිත සංචිත අවශ්‍යතා සීමා කිරීම.
5. හිතා ණය පහසුකම් අනුපාතිකය.

43. 2017 වර්ෂයේ ශ්‍රී ලංකාවේ ක්‍රියාත්මක වූ බලපත්‍රලාභී විශේෂිත බැංකුවක් නොවන්නේ,

1. ප්‍රාදේශීය සංවර්ධන බැංකුව.
2. සමුපකාර ශ්‍රාමික බැංකුව
3. සංඝයා සංවර්ධන බැංකුව
4. ජාතික ඉතිරිකිරීමේ බැංකුව
5. රාජ්‍ය උපාය හා ආයෝජන බැංකුව

44. පහත සඳහන් දෑ අතුරින් ඉවහිලයට අඩුම වත්කම් වනුයේ,

1. ඉතුරුම් තැන්පතු ය.
2. භාණ්ඩාගාර බිල්පත් ය.
3. ආණ්ඩුවේ පිළිගතත් ය.
4. ඉඩම් හා නොවනුයේ ය.
5. ඉල්ලුම් තැන්පතු ය.

45. උද්ධමනය යනු,
1. පොදු මිල මට්ටමෙහි පහළ වැටීම.
 2. භාණ්ඩ මිල ඉහළ යාම.
 4. දළ දේශීය නිෂ්පාදනය ඉහළ යාම.
 5. පොදු මිල මට්ටම අඛණ්ඩව ඉහළ යාම. (.....)
46. නාමික පොලී අනුපාතිකය 9% ක් ද, උද්ධමන අනුපාතිකය 4% ක් ද වේ නම්, මූර්ත පොලී අනුපාතිකය,
1. 36%
 2. 13%
 3. 5%
 4. -5%
 5. 2.25% (.....)
47. ශ්‍රී ලංකාවේ පොදු මිල මට්ටමෙහි වෙනස්කම් දැක්වීමෙහිදී වර්තමානයේ පොදා ගැනෙන මිනුමක් නොවන්නේ,
1. මහ කොළඹ පාරිභෝගික මිල දර්ශකය
 2. ජාතික පාරිභෝගික මිල දර්ශකය
 3. කොළඹ පාරිභෝගික මිල දර්ශකය
 4. දළ දේශීය නිෂ්පාදනයේ අවධානකය
 5. නිෂ්පාදකයාගේ මිල දර්ශකය (.....)
48. ආණ්ඩුව ඇතැම් ලෙස සාධන භාණ්ඩ නොමිලේ සපයනුයේ,
1. අඩු ආදායම්ලාභීන්ට එබඳු භාණ්ඩ මිලදී ගැනීමේ හැකියාවක් නොමැති නිසා ය.
 2. ලෙස සාධන භාණ්ඩ වෙළෙඳපොළ මත්තේ පැවැති නොහැකි නිසාය.
 3. එබඳු භාණ්ඩ පැවැත්මේ පහසු බැහිරීමට පටිභිත නිසා ය.
 4. එවා නිපදවිය හැක්කේ ආණ්ඩුවට පමණක් නිසා ය.
 5. එම භාණ්ඩ ආර්ථික නොවන භාණ්ඩ නිසා ය. (.....)
49. ආර්ථික ප්‍රවෘත්තිමත්ව මුහුණය පිරින විට ආර්ථිකයේ නිෂ්පාදනය වැඩි කිරීමට වැදගත් වන රාජ්‍ය මූල්‍ය ප්‍රතිපත්තිමත් වනුයේ,
1. පෙදෙසලික ආදායම් බදු ඉහළ දැමීම ය.
 2. ආනයන සීමා කිරීමය.
 3. ආණ්ඩුවේ වියදම් වැඩි කිරීමය.
 4. ආණ්ඩුවේ වියදම් සඳා හැරීමය.
 5. මහ බැංකුව විවෘත වෙළෙඳපොළෙහි පුරපුරුවක් අලෙවි කිරීම ය. (.....)
50. පහත සඳහන් දෑ අතුරින් පොදු සම්පත්වලට අයත් වන්නේ කුමක් ද?
1. මුහුදු වෙරළ
 2. උද්‍යාන
 3. පාලම්
 4. පරිසරයේ ගුණාත්මකබව
 5. වායු ගෝලය (.....)

...
...
...
...
...

...
...
...
...
...

...
...
...
...
...

...
...
...
...
...

...
...
...
...
...

...
...
...
...
...

දකුණු පළාත් අධ්‍යාපන දෙපාර්තමේන්තුව
தென் மாகாணக் கல்வித் திணைக்களம்
Southern Provincial Department of Education

අධ්‍යයන පොදු සහතික පත්‍ර (උසස් පෙළ) විභාගය - 13 ශ්‍රේණිය.
පළමු වාර පරීක්ෂණය - 2018 - නොවැම්බර්
குல்னிப் பொதுத் தராதர (உயர்நடு) பரீட்சை 2018 ஜினை, நாம் 13 முதலாம் தவணைப் பரீட்சை
General Certificate of Education (Adv. Level) Grade 13 First Term Test 2018 November

ආර්ථික විද්‍යාව
Economics -II

21

S

II

කාලය පැය තුනයි
03 hours

'අ' උප කොටසින් අවම වශයෙන් ප්‍රශ්න දෙකක් ද, 'ආ' උප කොටසින් අවම වශයෙන් ප්‍රශ්න දෙකක් ද තෝරා ප්‍රශ්න පත්‍රයට පිළිතුරු සපයන්න.

"අ" කොටස

01. i. ආර්ථිකයක නිෂ්පාදන සම්පත් සෙසු වර්ග කරන්නේ ද? පැහැදිලි කරන්න. (ලකුණු 04)
- ii. නිෂ්පාදන පාටකයක් ලෙස ශ්‍රම සම්පතෙහි ලක්ෂණ දක්වා එහි ප්‍රමාණය තීරණය කරන සාධක කවරේ දැයි දක්වන්න. (ලකුණු 04)
- iii. ආර්ථික යටිතල පහසුකම් සහ සමාජ යටිතල පහසුකම් අතර වෙනස දක්වන්න. (ලකුණු 04)
- iv. වෙළෙඳපොළ ආර්ථිකයක මූලික ආර්ථික ප්‍රශ්න විසඳීමේ සම්බන්ධීකරණ යාන්ත්‍රණය ලෙස මිලෙහි තාරය භාරය කවරේ දැයි පැහැදිලි කරන්න. (ලකුණු 04)
- v. විධාන ආර්ථිකය හා වෙළෙඳ පොළ ආර්ථිකය අතර දත්තට ලැබෙන වෙනස්කම් මොනවාද? (ලකුණු 04)
02. i. භාණ්ඩයක මිල වෙනස් වීමක ආදේශන ප්‍රතිච්ඡාකය හා ආදායම් ප්‍රතිච්ඡාකය පැහැදිලි කරන්න. (ලකුණු 04)
- ii. සාමාන්‍ය භාණ්ඩයක මිල අඩුවීමක ආදායම් ප්‍රතිච්ඡාකය සහ ඩාල භාණ්ඩයක මිල අඩුවීමක ආදායම් ප්‍රතිච්ඡාකය අතර වෙනස තුමක් ද? (ලකුණු 02)

iii. එක්තරා වර්ෂයක වී නිෂ්පාදනයට අදාළ ඉල්ලුම් හා සැපයුම් පිළිබඳ තොරතුරු පහත දැක්වේ.

$$Q_d = 200 - 2P$$

$$Q_s = 100$$

- අ) වෙළෙඳ පොළ සමතුලිත මිල කොපමණ ද? (ලකුණු 02)
- ආ) නිශ්චය කෙරුණේ වී වල සැපයුම් $Q_s = 60$ ලෙස වෙනස් වූයේ නම් නව සමතුලිත මිල කොපමණ ද? (ලකුණු 02)
- ඇ) අ, ආ කොටස් වලට අදාළ වෙළෙඳ පොළ සමතුලිත අවස්ථා ප්‍රස්ථාර පටිච්ඡායක ලකුණු කරන්න. (ලකුණු 04)
- ඈ) සැපයුම් වෙනස්වීම් නිසා පාරිභෝගික අතිරික්තයේ ඇති වූ වෙනස කොපමණ ද? (ලකුණු 02)
- ඉ) නිෂ්පාදකයාගේ අයහාරයේ ඇති වූ වෙනස කොපමණ ද? (ලකුණු 02)

iv. භාණ්ඩයක සැපයුම් නම්‍යතාවය තීරණය කරන සාධක කවරේද? (ලකුණු 02)

03. i. සිසියම් රචක දුම්පානයට කරුණ පරපුර බහුලව ඇඹිබැහි වී ඇතැයි සිතන්න. මෙම පාලනය කිරීමේ ක්‍රියා මාර්ගයක් ලෙස සිගරට් නිෂ්පාදනය මත රජය එකඟ බද්දක් පැනවීමට තීරණය කර ඇත. සිගරට් වෙළඳ පොළේ ඉල්ලුම් සැපයුම් භක්ෂ්වයන්ට අදාළ දත්ත පහත දැක්වේ.

මිල (රු)	සැපයුම් ප්‍රමාණය (එකක මිලියන)	ඉල්ලුම් ප්‍රමාණය (එකක මිලියන)
10	20	60
40	80	00

- අ) ඉහත වගුවේ දත්ත ඇසුරෙන් සිගරට් වෙළෙඳ පොළේ පවතින ඉල්ලුම් හා සැපයුම් සමතුලිතය ගොඩනගන්න. (ලකුණු 02)
- ආ) සමතුලිත ඇසුරින් බද්දට පෙර සමතුලිත මිල හා ප්‍රමාණය ගණනය කරන්න. (ලකුණු 02)
- ඇ) රජය සිගරට් එකක් මත රුපියල් 5 ක බද්දක් පැනවීමට තීරණය කළේ නම් බද්දෙන් පසු සැපයුම් සමතුලිතය ගොඩනගන්න. (ලකුණු 02)
- ඈ) බද්දෙන් පසු සිගරට් අලෙවියට තුමක් සිදුවේද, යන්න සාධාරණව ගණනය කොට දක්වන්න. (ලකුණු 02)
- ඉ) සිගරට් එකක් මත පනවන ලද එකක බද්දේ බර නිෂ්පාදකයා හා පාරිභෝගිකයා අතර හානියේ බෙදී යනු ඇද්ද? එලෙස බෙදී යාමට හේතුව කවරේද? (ලකුණු 02)

ii. ගෞරීන්ගේ මිල ස්ථායීකරණ වැඩ පිළිවෙලක් ලෙස "නිෂ්පාදකයින් මත සලාක නියම කිරීම" යනු කුමක් දැයි උචිත රූප සටහන් ඇඳීමෙන් පැහැදිලි කරන්න. (ලකුණු 04)

iii. ආණ්ඩුවක් විසින් භාණ්ඩයක් හෝ සේවාවක් සම්බන්ධයෙන් පිළිකරන සඵල උපරිම මිල සීමා නියම කිරීමත් රූප සටහනක් මගින් දක්වා එවැනි සඵල උපරිම මිල සීමා නියම කිරීමක් නිසා වෙළෙඳ පොළේ හටගත හැකි ප්‍රතිඵලාකෘති සඳහන් කරන්න. (ලකුණු 04)

iv. අවම මිල සහතික මිලක් සේ සලකමින් නිෂ්පාදකයා ආරක්ෂා කරගනිමින් නිෂ්පාදකයන්ගේ ආදායම ඉහළ නැංවීම සඳහා රජයක් අනුගමනය කරන මිල ආධාරක ප්‍රතිපත්ති ස්වරූප දෙක කවරේද? (ලකුණු 02)

04. i. පහත දැක්වෙන ප්‍රකාශ පහය ද, අසත්‍ය දැයි දක්වා ඔබේ පිළිතුරට හේතු දක්වන්න.

- අ) මුළු නිෂ්පාදනය විවලාශ යෙදවුම් වලින් බෙදීමෙන් ආන්තික නිෂ්පාදනය ලබා ගත හැකි ය.
- ආ) ආර්ථික විද්‍යාත්මකව නිෂ්පාදන පිරිවැයට අයත් පිරිවැය දෙවර්ගයකි.
- ඇ) ස්ථාවර වත්කම් මිලට ගැනීම සඳහා ආයතනයක් දරන ලද පිරිවැය ගිලුණු පිරිවැයකි.
- ඈ) තෙවිකාලීන පිරිවැය වක්‍ර පරිමාණානුකූල ඵල නීතියේ පිළිඹිබුවකි.

(ලකුණු 08)

ii. දුර්ණ තරඟය හා ඒකාධිකාරය යන වෙළෙඳ පොළ ව්‍යුහයන් දෙක අතර පවතින මූලික වෙනස්කම් තහරක් කෙටියෙන් පැහැදිලි කරන්න. (ලකුණු 04)

iii. දුර්ණ තරඟකාරී ආයතනයක් අලෙවිකරණ භාණ්ඩ ඒකකයක මිල රුපියල් 20 කි. එම භාණ්ඩ ඒකකයේ සාමාන්‍ය ස්ථාවර පිරිවැය රුපියල් 04 ක් ද, සාමාන්‍ය විවලාශ පිරිවැය රුපියල් 08 ක් ද වේ. මෙම ආයතනය භාණ්ඩ ඒකක 100 ක් අලෙවි කළේ නම්, ඉපයිය හැකි ආර්ථික ලාභය ගණනය කරන්න. (ලකුණු 04)

iv. සාධක වෙළෙඳ පොළේ සිසියම් සාධකයක, මුළු ඉපයුම් ආර්ථික බදු කුලියෙන් සමන්විත වන කන්වයක් රූප සටහනක් ඇසුරින් පැහැදිලි කරන්න. (ලකුණු 04)

05. i)

- (අ) ආදායම් මූලාශ්‍ර යටතේ එකතු කළ අගය ගණන් බලන්නේ කෙසේ ද? (ලකුණු 02)
- (ආ) ප්‍රාථමික යෙදවුම්, අතරමැදි යෙදවුම් වලින් වෙනස් වන්නේ කෙසේ ද? (ලකුණු 02)
- (ඇ) නව ජාතික ගිණුම් කරන ක්‍රම වේදය යටතේ 'නිෂ්පාදන ඉම' යනුවෙන් කුමක් අදහස් වේ ද? (ලකුණු 02)

ii) ජාතික ආදායම ගණනය කිරීමේ දී පහත දක්වා ඇති දෑ අතුරින් කවරක් ඇතුළත් කරන්නේද? ඒ ඒ කරුණ ඇතුළත් කිරීමට හෝ නොකිරීමට හේතු පැහැදිලි කරන්න.

- (අ) වසර 5 ක කාලයක් තුළ මැද පෙරදිග රැකියාවක නිරතව සිටි ශ්‍රී ලාංකිකයෙකුගේ වැටුප
- (ආ) පෙරදි ඇරාබියේ සිටි ශ්‍රී ලාංකික සාමාන්‍ය සේවය කරන ශ්‍රී ලාංකිකයෙකුගේ වැටුප

(ඉ) ඉන්දියාවේ විශ්ව විද්‍යාලයක මාස හයක කාලයක් උපදේශන සේවා සැපයීමෙන් මි ලංකාවේ මහාචාර්යවරයෙකු ලබන උපදේශන ආදායම

(ලකුණු 02 x 3 = 06)

iii) පළමු කාර්මිකයෙකුට අදාළ පැවරුම් කාර්මික තොරතුරු රූපිකව පිළියන වලින් පහත දැක්වේ.

පොදුගලික පරිච්ඡේදනය	3500
රජයේ මිලදී ගැනීම	2500
දළ ආයෝජනය	1200
වර්තන දැඩි වෙනස්වීම් (රක්, පිදී...)	100
දළ දේශීය ස්ථාවර ප්‍රාග්ධන සම්පාදනය	900
අපනයන	800
ඉදිරි වසර බදු	50
ඉදිරි අපනයන	-400
ප්‍රාථමික ආදායම් හිඟුම් ඉදිරි (විදේශ ඉදිරි පාඩම ආදායම්)	100
සෙවුම් සේවයේ ද්විතීක ආදායම් හිඟුම් ඉදිරි (විදේශ ඉදිරි වර්තන පංත්‍රාම)	300
ඉදිරි විදේශීය පොදුගලික වර්තන පංත්‍රාම	250

අදාළ දේ පමණක් පදනමෙහි පහත සඳහන් දෑ ගණනය කරන්න.

- (අ) කාර්මිකයාගේ දළ දේශීය වියදම (ලකුණු 02)
- (ආ) වෙළෙඳ මිල යටතේ දළ දේශීය නිෂ්පාදනය (ලකුණු 02)
- (ඇ) වෙළෙඳපොළ මිල යටතේ දළ ජාතික ආදායම (ලකුණු 02)
- (ඈ) දේශීය ඉතුරුම් (ලකුණු 02)

