

ශ්‍රී ජයවර්ධනපුර අධ්‍යාපන කලාපය

භූගෝල විද්‍යාව 11

දෙවන වාර පරීක්ෂණය

13 ශ්‍රේණිය

කාලය පැය 03

උපදෙස්

- මෙම ප්‍රශ්න පත්‍රය කොටස් දෙකකින් සමන්විත වේ
- එක් කොටසකින් අවම වශයෙන් ප්‍රශ්න දෙක බැගින්වත් තෝරාගෙන ප්‍රශ්න පහකට පිළිතුරු සපයන්න

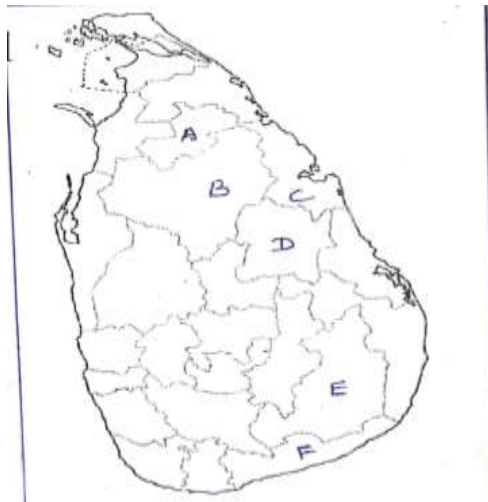
1 කොටස

01) i) පාංශු නිර්මාණය කෙරෙහි බලපාන භෞතික සාධක හතරක් නම් කරන්න (ල: 02)

ii) පාංශු පැතිකඩ ඇද නම්කර එක් එක් පාංශු මහල් පිළිබඳ කෙටියෙන් විස්තර කරන්න

(ල: 06)

iii) පහත ශ්‍රී ලංකා සිතියමේ A-F දක්වා අක්ෂර වලින් දක්වා ඇත්තේ රතු උණුරු පස ව්‍යාප්ත වී ඇති දිස්ත්‍රික්ක හයකි. එම දිස්ත්‍රික්ක නිවැරදිව පිළිවෙලින් නම් කරන්න.

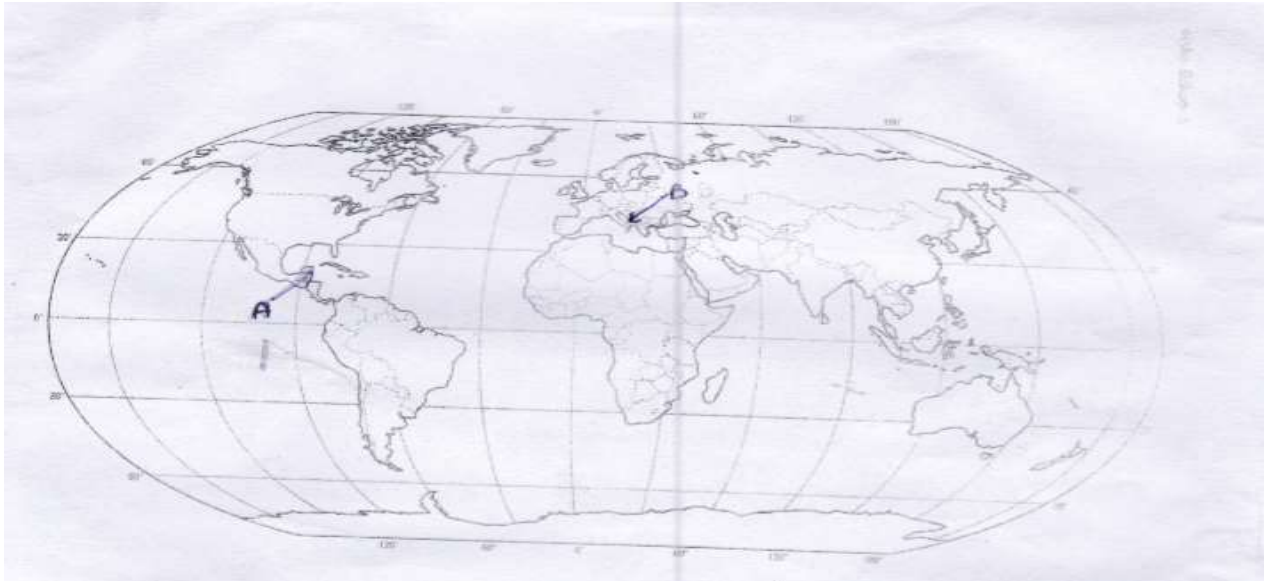


(ල: 06)

iv) පාංශු බාදනය හා භායනය අතර වෙනස පැහැදිලි කරන්න.

(ල: 06)

02) I) ලෝකයේ ප්‍රධාන භූගෝලීය ප්‍රදේශ දෙකක් පහත ලෝක සිතියමේ A,B අක්ෂර වලින් ලකුණු කර ඇත. එම ප්‍රදේශ නම් කරන්න



(ල: 02)

Ii) භූගෝලීය නිර්මාණය වන ප්‍රධාන ක්‍රමදේශ කෙටියෙන් පැහැදිලි කරන්න (ල: 06)

Iii) කාස්ට් භූරූප භයක් නම් කරන්න. (ල: 06)

iv) ඉහත iii හි මත නම්කළ භූරූප භයෙහි නිර්මාණ ක්‍රියාවලිය සුදුසු රූපසටහන් සහිතව විස්තර කරන්න (ල: 06)

03) i) El Nino (එල්නිනෝ) දේශගුණික සංසිද්ධිය කෙටියෙන් පැහැදිලි කරන්න (ල: 02)

Ii) දේශගුණ වෙනස්වීම් වලට බලපාන මානුෂ සාධක තුනක් පිළිබඳ කෙටියෙන් පැහැදිලි කරන්න. (ල: 06)

Iii) ගෝලීය දේශගුණය වෙනස්වීම මගින් සිදුවන ප්‍රතිවිපාක හතරක් සාකච්ඡා කරන්න (ල: 06)

iv) දේශගුණ වෙනස්වීම්වල නිවුතාව අවම කරගැනීමට මිනිසාට දායකවිය හැකි ආකාරය කෙටියෙන් පැහැදිලි කරන්න (ල:06)

04) i) ස්වාභාවික උපද්‍රවයක් හා ආපදාවක් යනුවෙන් අදහස් කරන්නේ කුමක්ද? (උ:02)

ii) ලෝකයේ බහුලව දැකිය හැකි ස්වාභාවික උපද්‍රව හයක් සහ එම උපද්‍රව වලට මුහුණපාන රටවල් හයක් දක්වන්න (උ:06)

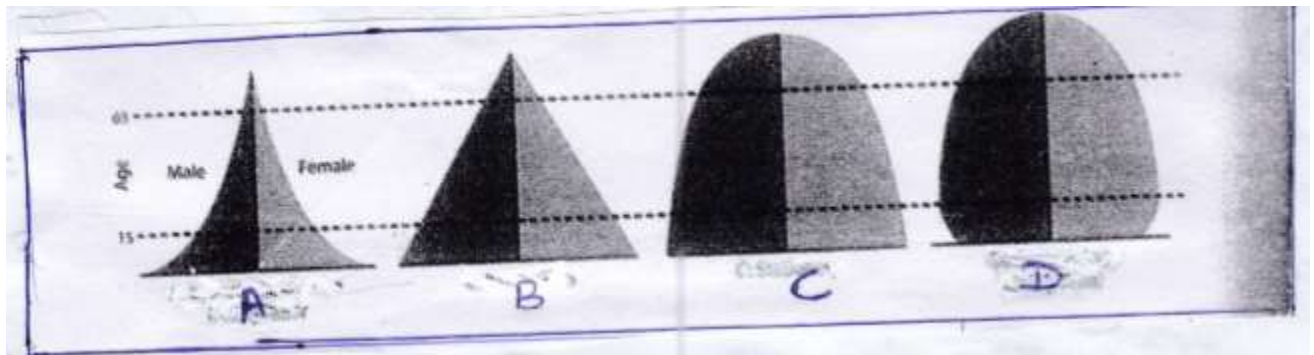
iii) ආපදා කළමනාකරණ චක්‍රයෙහි (Disaster Management Cycle) ප්‍රධාන අදියර හතර කෙටියෙන් විස්තර කරන්න (උ:06)

iv) ස්වාභාවික ආපදා මානව කටයුතු මගින් තිවු වන ආකාරය කරුණු ඇසුරින් පැහැදිලි කරන්න (උ:06)

11 කොටස  
මානුෂ හුමෝල විද්‍යාව

05) i) ජන සංඛ්‍යාවේ ඓතිහාසික දත්ත වලට අනුව ජන සංඛ්‍යා වර්ධනයේ දැකිය හැකි කැපී පෙනෙන අවධි දෙක දක්වන්න (උ:02)

ii) ලෝකයේ උපන් ශිෂ්‍යතා හා මරණ ශිෂ්‍යතා අනුව විවිධ හැඩගන්නා පිරමීඩ වර්ග හතරක් පහත දක්වා ඇත. එම පිරමීඩ වර්ග හතර හඳුනාගෙන නම් කරන්න (උ:06)



iii) පහත වගුවෙන් දැක්වෙන්නේ ලෝකයේ සංවර්ධිත හා සංවර්ධනය වෙමින් පවතින රටවල් කිහිපයක දළ උපන් අනුපාතිකයයි

සංවර්ධිත රටවල්	
ජපානය	8.07
දකුණු කොරියාව	8.26
සිංගප්පූරුව	8.1
ඇ.එ.ජනපදය	13.42
එක්සත් රාජධානිය	12.22

සංවර්ධනය වෙමින් පවතින රටවල්	
නයිජර්	46.12
මාලී	45.33
උගන්ඩා	44.17
සැම්බියා	42.46
බර්කිනා ෆාසෝ	42.42
පාකිස්ථානය	23.19
බංග්ලාදේශය	21.61
ඉන්දියාව	19.89

මූලාශ්‍රය:- එජාතීන්ගේ සංගනන වාර්තාව

ඉහත වගුවේ දත්ත වලට අනුව ලෝකයේ දළ උපන් අනුපාතිකයේ කැපී පෙනෙන ලක්ෂණ තුනක් ලියන්න  
(ල:06)

iv) ජන සංක්‍රමණ නියා ප්‍රභව රටවලට ලැබෙන ධනාත්මක ප්‍රතිඵල තුනක් දක්වා පැහැදිලි කරන්න  
(ල:06)

06) i) “වර්තමානය වන විට නාගරීකරණය දේශ සීමා අභිබවා ඉන් බැහැරට ව්‍යාප්ත වී ඇත.” එසේ නාගරීකරණයට පත්වූ කලාප තුනක් දක්වන්න  
(ල02)

li) ඉහළ නාගරීකරණ මට්ටමක් ඇති.

A- ආසියාතික රටවල් දෙකක් හා

B- අඩුම නාගරීකරණ මට්ටමක් ඇති. අප්‍රිකානු හා ආසියානු රටවල් දෙක බැගින් දක්වන්න  
(ල:06)

lii) ලෝකයේ අතිකුන් රටවලට සාපේක්ෂව ශ්‍රී ලංකාවේ අඩු නාගරීක මට්ටමක් පැවතීම කෙරෙහි බලපා ඇති සාධක තුනක් කෙටියෙන් විස්තර කරන්න  
(ල:06)

iv) සංවර්ධනය වෙමින් පවතින රටවල නාගරීකරණය ආශ්‍රිත ගැටළු පහක් සාකච්ඡා කරන්න  
(ල:06)

07) i) පහත සඳහන් ලෝක සිතියමෙහි ලෝකයේ බහිෂ්කරණ කේන්ද්‍ර ව්‍යාප්තිය දක්වයි



ඉහත ලෝක සිතියමෙන් පෙන්වන බහිෂ්කරණ කේන් ව්‍යාප්තියේ කැපී පෙනෙන ලක්ෂණ දෙකක් හඳුන්වන්න  
(ල:02)

ii) ලෝක ගල් අගුරු නිෂ්පාදනය හා වෙළඳාමේදී දැකිය හැකි කැපී පෙනෙන ලක්ෂණ 04ක් නිදසුන් මගින් පැහැදිලි කරන්න  
(ල:06)

iii) ලෝකයේ කර්මාන්ත ස්ථානගත වීමේදී අමුද්‍රව්‍ය යන සාධකය කොතරම් උරට තීරණාත්මක සාධකයක් වන්නේ දැයි ඔබ ඉගෙනගත් කර්මාන්ත ඇසුරින් පැහැදිලි කරන්න  
(ල:06)

iv) බහිෂ් සම්පත් උගත රටක් ඉවත් ජපානය තුළ කර්මාන්ත ස්ථානගත වීමේදී සිදුවූ සුවිශේෂීතාවය නිදසුන් මගින් පැහැදිලි කරන්න  
(ල:06)

8)i) ශ්‍රී ලංකාවේ ප්‍රධාන සංචාරක කලාප හතරක් නම් කරන්න  
(ල:02)

ii) සංචාරක කර්මාන්තය ශ්‍රී ලංකාවේ ආර්ථික සංවර්ධනයට දායක වන අන්දම පෙන්වුම් කරන සාධක හතරක් පැහැදිලි කරන්න  
(ල:06)

iii) ශ්‍රී ලංකාවේ සංචාරක කර්මාන්තය සංවර්ධනය කිරීම සඳහා රජය විසින් ගෙන තිබෙන පියවර දෙකක් විස්තර කරන්න  
(ල:06)

iv) සංචාරක කර්මාන්තයෙන් රටට සිදුවන ආර්ථික, සමාජයීය හා පාරිසරික බලපෑම් එක බැගින් කෙටියෙන් පැහැදිලි කරන්න  
(ල:06)