

ශ්‍රී ජයවර්ධනපුර අධ්‍යාපන කලාපය


6 ශ්‍රේණිය -02 වාර පරීක්ෂණය

චිත්‍ර කලාව - 1 කොටස

කාලය පැය -1/2

සියලුම ප්‍රශ්න වලට මෙම ප්‍රශ්න පත්‍රයේ ම පිළිතුරු සපයන්න

ප්‍රශ්න අංක 01 සිට 05 දක්වා රූප සටහන උපයෝගී කර ගන්න



- 01 . ද්විතීක වර්ණයක් නම් කරන්න.....
- 02 . නැඹිලි වර්ණය සඳහා මිශ්‍ර වී ඇති වර්ණ 2න් එකක් ලියන්න.....
- 03. එක්කරා වර්ණ කණ්ණාඩියකින් නිල් පාට අහස දෙස බැලීමේදී අහස දම් පාටට පෙනුනි නම් කළේ නම් එම කණ්ණාඩියේ වීදුරුවේ වර්ණය කුමක් ද?
- 04. කොළ පාට ගස් ගොමුවක් වර්ණ කිරීමට කොළ පාට අවශ්‍ය වුවත් නිබුණේ නිල් පාට හා වෙනත් වර්ණයක් පමණි. එම වර්ණ 2 මිශ්‍ර කිරීමෙන් කොළ පාට සකස් කර ගැනීමට හැකි වී නම් අනෙක් වර්ණය කුමක්ද?.....
- 05. මාර්ග සංඥා පුවරුවක වාහන නතර කිරීමට දැල්වෙන වර්ණය කුමක්ද?.....

ප්‍රශ්න අංක 06 සිට 10 දක්වා නිවරදි පිළිතුර තෝරා ඊට යටින් ඉරක් අදින්න

06. මිනාර් හෙවත් මිනරේට් යන නිර්මාණය දක්නට ලැබෙන්නේ

1. බෞද්ධ ස්ථූප ආශ්‍රිතවය.
2. හින්දු කෝවිල් ආශ්‍රිතවය.
3. ස්ලාම් පල්ලි ආශ්‍රිතවය
4. කිතුණු පල්ලි ආශ්‍රිතවය

07. හින්දු කෝවිල් වල බාහිර පෙනුම නිරූපණය කරන හැඩය ඇති හැඩය

1. ගෝපුරම් ලෙසය.
2. මස්දිජය ලෙසය.
3. හතරැස් කොටුව ලෙස ය.
4. අල්තාරය ලෙස ය.

08. නත්තල් උත්සවය සමරන මාසය හා දිනය වන්නේ

1. නොවැම්බර් 20 ය.
2. දෙසැම්බර් 21 ය.
3. දෙසැම්බර් 25 ය
4. නොවැම්බර් 01 ය.


09. විවිධ ද්‍රව්‍ය මාධ්‍ය කිහිපයක් සම්බන්ධ කරගනිමින් මූර්ති නිර්මාණයක් සිදු කිරීම

1. එකලස් කිරීමේ ක්‍රමයයි.
2. නෙලීමේ ක්‍රමයයි.
3. ඇඹීමේ ක්‍රමයයි.
4. වාත්තු තිරීමේ ක්‍රමයයි

10. මැටි පදමේ කිරීම යනුවෙන් හඳුන්වන්නේ

1. දියර ගතිය වැඩි කිරීම.
2. ශක්තිමත් වන තුරු වේලීමය.
3. අත්වල නොඇලෙන ප්‍රමාණයට ජලය අඩු කර ගැනීමය.
4. වැලි මිශ්‍ර කර ගැනීමය

ප්‍රශ්න අංක 11 සිට 15 දක්වා නිස් තැනට ගැලපෙන පිළිතුර රූප සටහන් ඇසුරෙන් සපයන්න



1 2 3 4 5

11. ස්ඵර්ෂක ගර්භයට සුදුසු රූපය දැක්වෙන අංකය කුමක්ද?.....
12. ස්ඵර්ෂක කොත් කැඳුල්ලට ගැලපෙන හැඩය අයත් අංකය කුමක්ද?.....
13. දේවතා කොටුවට ගැලපෙන අංකය කුමක්ද?.....
14. ජේසා වළලු වලට ගැලපෙන හැඩය සහිත අංකය කුමක්ද?.....
15. හතරැස් කොටුව හැඩයට ගැලපෙන රූපය ඇතුළත් අංකය කුමක්ද?.....

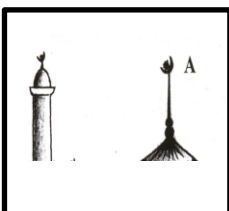
පහත සඳහන් රූප සටහන් හඳුනා ගෙන අදාල වන ආගම කුමක් දැයි ඉදිරියේ ලියන්න

16.



.....

17.




.....

18.




.....

19.



.....

20.



.....

(ලකුණු 2×20=40)

ශ්‍රී ජයවර්ධනපුර අධ්‍යාපන කලාපය

6 ශ්‍රේණිය -02 වාර පරීක්ෂණය

චිත්‍ර කලාව - 11 කොටස

කාලය පැය 1 1/2

පහත සඳහන් තේමා අතරින් එක් තේමාවකට පමණක් චිත්‍රයක් ඇඳ වර්ණ කරන්න

1. පාට පාට මල් කොළ පිරුණු ලස්සන චිත්ත මොස්තරය
2. ගමේ පන්සල පෝයදාට හරි ලස්සනයි
3. මුහුදු පතුලේ මාලුන් අල්ලන කිමිදුම් කරුවෝ
4. වර්ණවත් මලින් පිරි ගිය මල් බදුනක්
5. මුහුදු වෙරළේ සරංගලේ අරින ලමුන්

(ලකුණු 60)