

ශ්‍රී ලංකා විභාග දෙපාර්තමේන්තුව ශ්‍රී ලංකා විද්‍යා විභාග දෙපාර්තමේන්තුව ශ්‍රී ලංකා විභාග දෙපාර්තමේන්තුව
 Department of Examinations, Sri Lanka
 විභාග කොටස: පර්යේෂණ පාඨමාලා විභාග කොටස: පර්යේෂණ පාඨමාලා විභාග කොටස: පර්යේෂණ පාඨමාලා
 Department of Examinations, Sri Lanka

60 S I, II

සාමාන්‍ය පොදු සහතික පත්‍ර (සාමාන්‍ය පෙළ) විභාගය, 2018 දෙසැම්බර්
 கல்விப் பொதுத் தராதரப் பத்திர (சாதாரண தர)ப் பரீட்சை, 2018 டிசெம்பர்
General Certificate of Education (Ord. Level) Examination, December 2018

ව්‍යාපාර හා ගිණුම්කරණ අධ්‍යයනය **I, II**
 வணிகக் கல்வியும் கணக்கீடும் **I, II**
 Business and Accounting Studies **I, II**

2018.12.12 / 0830 - 1140

පැය තුනයි
 மூன்று மணிநேரம்
Three hours

අමතර කියවීමේ කාලය - මිනිත්තු 10 යි
 மேலதிக வாசிப்பு நேரம் - 10 நிமிடங்கள்
 Additional Reading Time - 10 minutes

අමතර කියවීමේ කාලය ප්‍රශ්න පත්‍රය කියවා ප්‍රශ්න තෝරා ගැනීමටත් පිළිතුරු ලිවීමේදී ප්‍රමුඛත්වය දෙන ප්‍රශ්න සංවිධානය කර ගැනීමටත් යොදාගන්න.

ව්‍යාපාර හා ගිණුම්කරණ අධ්‍යයනය I

සැලකිය යුතුයි:

- (i) සියලු ම ප්‍රශ්නවලට පිළිතුරු සපයන්න.
- (ii) අංක 1 සිට 40 තෙක් ප්‍රශ්නවල දී ඇති (1), (2), (3), (4) සහ පිළිතුරු ලිවීමේ ක්වරේ හෝ වඩාත් ගැලපෙන හෝ පිළිතුර තෝරා ගන්න.
- (iii) ඔබට සැපයෙන පිළිතුරු පත්‍රයේ එක් එක් ප්‍රශ්නය සඳහා දී ඇති කව අතුරෙන් ඔබ තෝරාගත් පිළිතුරෙහි අංකයට සැසඳෙන කවය තුළ (X) ලකුණ යොදන්න.
- (iv) එම පිළිතුරු පත්‍රයේ පිටපස දී ඇති අනෙක් උපදෙස් ද සැලකිල්ලටත් කියවා, ඒවා පිළිපදින්න.


- පහත සඳහන් සිද්ධිය ඇසුරෙන් අංක 1 සිට 5 තෙක් ප්‍රශ්නවලට පිළිතුරු සපයන්න.
 'ලාභම ආසලා හොඳම ආසලා' සංකල්පයට අනුව මෑතකදී නව විද්‍යාගාරය ඇතුළු ආසලා ගොඩනැගිලි සංවර්ධනය කෙරුණු නෙළුම්පිල මහා විද්‍යාලයේ 2017 වර්ෂයේ අ.පො.ස. (උ. පෙළ) විභාගයෙන් විශිෂ්ට ලෙස සහතික වූ දැනට රටේම සමාගමේ නායකාධිකාරී ජනිතව සේවය කරමින් සිටින බව දැනට විශ්වවිද්‍යාල ප්‍රතිපාදන කොමිෂන් සභාව මගින් ඇයට ලිපියක් එවා ඇත.
- 1. ඉහත සිද්ධියේ සඳහන් නෙළුම්පිල මහා විද්‍යාලය මගින් සපුරාලනු ලබන මූලික මිනිස් අවශ්‍යතාව කුමක් ද?
 (1) සෞඛ්‍යය (2) නිවාස (3) ආරක්ෂාව (4) අධ්‍යාපනය
- 2. විශ්වවිද්‍යාල ප්‍රතිපාදන කොමිෂන් සභාව අයත් වන ව්‍යාපාර සංවිධාන වර්ගය වන්නේ,
 (1) රාජ්‍ය සංස්ථා ය. (2) රජයේ දෙපාර්තමේන්තු ය.
 (3) රාජ්‍ය සමාගම් ය. (4) සංස්ථාපිත සමාගම් ය.
- 3. ඉහත සිද්ධිය සම්බන්ධ නිවැරදි ප්‍රකාශය තෝරන්න.
 (1) 'ලාභම ආසලා හොඳම ආසලා' සංකල්පය, ආර්ථික පරිසර සාධකයකි.
 (2) ආසලා ගොඩනැගිලි, භූමිය යන නිෂ්පාදන සාධකයට අයත් වේ.
 (3) විශ්වවිද්‍යාල ප්‍රතිපාදන කොමිෂන් සභාව, සේවා සපයන ව්‍යාපාරයකි.
 (4) නෙළුම්පිල මහා විද්‍යාලයේ සිසුන්, එම විද්‍යාලයේ බාහිර පරිසර සාධකයකි.
- 4. ඉහත සිද්ධියේ සඳහන් සන්නිවේදනයට අදාළ යථාතා, පමුණුකය, මාධ්‍යය හා ලබන්නා පිළිවෙලින් දැක්වෙන පිළිතුර තෝරන්න.
 (1) සමාධි → සමාධි විශ්වවිද්‍යාලයට තෝරාගෙන ඇත → ලිඛිත → විශ්වවිද්‍යාල ප්‍රතිපාදන කොමිෂන් සභාව
 (2) සමාධි → ලිඛිත → සමාධි විශ්වවිද්‍යාලයට තෝරාගෙන ඇත → විශ්වවිද්‍යාල ප්‍රතිපාදන කොමිෂන් සභාව
 (3) විශ්වවිද්‍යාල ප්‍රතිපාදන කොමිෂන් සභාව → සමාධි විශ්වවිද්‍යාලයට තෝරාගෙන ඇත → ලිඛිත → සමාධි
 (4) විශ්වවිද්‍යාල ප්‍රතිපාදන කොමිෂන් සභාව → ලිඛිත → සමාධි විශ්වවිද්‍යාලයට තෝරාගෙන ඇත → සමාධි
- 5. ඉහත සිද්ධියේ සඳහන් රටේම සමාගම සම්බන්ධ නිවැරදි ප්‍රකාශය තෝරන්න.
 (1) මෙම ව්‍යාපාර නාමය ලියාපදිංචි කිරීම අනිවාර්ය වේ.
 (2) මෙම ව්‍යාපාරයට නීතිමය පුද්ගලභාවයක් ඇත.
 (3) මෙම ව්‍යාපාරයේ අයිතිකරුගේ වගකීම සීමිත වේ.
 (4) මෙම ව්‍යාපාරය රාජ්‍ය ආයතනයේ ව්‍යාපාර ආයතනයකි.

6. ගොවියකු තම ව්‍යාපාරයට ගංඔකුර නිසා සිදු වූ අලාභය ද දරා ගනිමින් සාර්ථකව ව්‍යාපාරය කර ගෙන යාම, අයත් වන නිෂ්පාදන සාධකය කුමක් ද?
 (1) භූමිය (2) ශ්‍රමය (3) ප්‍රාග්ධනය (4) ව්‍යවසායකත්වය
7. ශ්‍රී ලංකා රුපියලේ අගයට සාපේක්ෂව ඇමරිකානු ඩොලරයේ අගය ඉහළ යාම ඇඟලුම් ජපනයනය කරන සමාගමකට
 (1) අහෝසිතව පරිසර සාධකයකි. (2) ආර්ථික පරිසර සාධකයකි.
 (3) ජෛවික පරිසර සාධකයකි. (4) තාක්ෂණික පරිසර සාධකයකි.


● පහත සිද්ධිය ඇසුරෙන් අංක 8 හා 9 ප්‍රශ්නවලට පිළිතුරු සපයන්න.

ලංකා බැංකුවේ ජංගම ගිණුමක් හිමි සුභාෂ් කවීරත්න, තම ගනුදෙනුකරුවකු වන දීපාල් සමරදිවාකර වෙත රු. 100 000 ක චෙක්පතක් නිකුත් කළ අතර, දීපාල් සමරදිවාකර එය බැංකු කවුන්ටරයෙන් මුදල් කර ගත්තේ ය.

8. මෙම චෙක්පතේ අණලිය හා ආභාසකයා පිළිවෙලින් දැක්වෙන පිළිතුර තෝරන්න.
 (1) ලංකා බැංකුව හා දීපාල් සමරදිවාකර (2) දීපාල් සමරදිවාකර හා ලංකා බැංකුව
 (3) ලංකා බැංකුව හා සුභාෂ් කවීරත්න (4) සුභාෂ් කවීරත්න හා දීපාල් සමරදිවාකර
9. මෙම සිද්ධියට අදාළව නිකුත් කරන ලද චෙක්පත,
 (1) සාමාන්‍ය රේඛනය සහිත චෙක්පතකි. (2) විශේෂ රේඛනය සහිත චෙක්පතකි.
 (3) රේඛනය නොකළ චෙක්පතකි. (4) බැංකු ජංගම ගිණුමක නැත්පත් කළ නොහැකි ය.
10. රක්ෂණයට සම්බන්ධ පළමු පක්ෂය.....①..... ලෙස හැඳින්වෙන අතර දෙවන පක්ෂය.....②..... ලෙස හැඳින්වේ.
 ඉහත ප්‍රකාශයේ ① හා ② ස්ථානවලට අදාළ නිවැරදි යෙදුම් පිළිවෙලින් දැක්වෙන පිළිතුර තෝරන්න.
 (1) රක්ෂකයා, රක්ෂිතයා (2) රක්ෂිතයා, රක්ෂකයා
 (3) රක්ෂණ ආයතනය, රක්ෂිතයා (4) රක්ෂකයා, රක්ෂණ ආයතනය
11. පිදුණු තොරතුරු සංඥා සන්නිවේදන ක්‍රමයක් දැක්වෙන රූපසටහන කුමක් ද?




(1)



(2)



(3)



(4)

12. පහත X තීරුවේ ප්‍රවාහනය හා සම්බන්ධ සිදුවීම් කිහිපයක් ද, Y තීරුවේ ප්‍රවාහන මූලිකාංග ද දැක්වේ.

X	Y
1. 1990 ගිලන් රථ සේවාව දීප ව්‍යාප්තව පුළුල් කිරීම	A - මාර්ගය
2. උතුරු අධිවේගී මාර්ගයේ ඉදිකිරීම් කටයුතු ආරම්භ කිරීම	B - මාර්ගය
3. පිටකොටුව මධ්‍යම බස් නැවතුම්පොළ නවීකරණය කිරීම	C - බලය
4. ලෝක වෙළෙඳපොළේ බොරු තෙල් මිල අනුව ඉන්ධන මිල සංශෝධනය කිරීම	D - පර්යන්තය

ඉහත X තීරුවේ සඳහන් සිදුවීම් Y තීරුවේ සඳහන් ප්‍රවාහන මූලිකාංග සමඟ පිළිවෙලින් ගලපන ලද පිළිතුර තෝරන්න.

- (1) A, B, D හා C (2) B, A, C හා D (3) B, A, D හා C (4) B, C, A හා D
- පහත සිද්ධිය ඇසුරෙන් අංක 13 හා 14 ප්‍රශ්නවලට පිළිතුරු සපයන්න.
 පොත් ප්‍රකාශකයෙක් කොළඹ ජාත්‍යන්තර පොත් ප්‍රදර්ශන භූමියේ ප්‍රධාන පිවිසුම් දොරටුව අසලින් නිමාගේ වෙළෙඳ කුටිය වෙත කර ගැනීමට තීරණය කර සේවකයකු ද බඳවා ගත්තේ ය.
13. මෙම සිද්ධියේ ඇතුළත් කළමනාකරණ කාර්ය දෙක වන්නේ,
 (1) සැලසුම්කරණය හා මෙහෙයවීමයි. (2) සැලසුම්කරණය හා සංවිධානකරණයයි.
 (3) සංවිධානකරණය හා පාලනයයි. (4) මෙහෙයවීම හා සංවිධානකරණයයි.
14. මෙම සිද්ධියේ සඳහන් අලෙවිකරණ මිශ්‍රයේ විචල්‍ය දෙක වන්නේ,
 (1) ප්‍රවර්ධනය හා නිෂ්පාදනයයි. (2) ප්‍රවර්ධනය හා ස්ථානයයි.
 (3) නිෂ්පාදනය හා ස්ථානයයි. (4) නිෂ්පාදනය හා මිලයි.

15. භාණ්ඩාගාර බිල්පත් සම්බන්ධව වැරදි ප්‍රකාශය තෝරන්න.
- (1) ආයෝජකයකුට භාණ්ඩාගාර බිල්පත් මිල දී ගත හැක්කේ ප්‍රාථමික වෙළෙඳුන් මගිනි.
 - (2) භාණ්ඩාගාර බිල්පත් යනු අවදානම් රහිත ආයෝජනයකි.
 - (3) භාණ්ඩාගාර බිල්පත් රජයේ දිගුකාලීන මූල්‍ය අවශ්‍යතා ඉටු කර ගැනීමට යොදා ගැනේ.
 - (4) භාණ්ඩාගාර බිල්පත්වලට පූර්ණ රාජ්‍ය ආරක්ෂාව පවතී.
16. ආයෝජකයකු රජයේ භාණ්ඩාගාර බිල්පත්වල ආයෝජනය කිරීමෙන් ලැබෙන ප්‍රතිලාභයට වඩා ඉහළ ප්‍රතිලාභයක් සාමාන්‍ය කොටස්වල ආයෝජනය කිරීමෙන් බලාපොරොත්තු වේ. මෙයට හේතුව වන්නේ සාමාන්‍ය කොටස්වල පවතින
- (1) පහළ අවදානම ය.
 - (2) ඉහළ අවදානම ය.
 - (3) ඉහළ පොලී ආදායම ය.
 - (4) ඉහළ රාජ්‍ය ආරක්ෂාව ය.
17. මූලික ගිණුම්කරණ සමීකරණය නිවැරදිව දැක්වෙන පිළිතුර තෝරන්න.
- (1) වත්කම් + වගකීම් = හිමිකම්
 - (2) වත්කම් - වගකීම් = හිමිකම්
 - (3) වත්කම් + හිමිකම් = වගකීම්
 - (4) හිමිකම් - වගකීම් = වත්කම්
18. සේවක වැටුප් රු. 8000 ක් ගෙවීම නිසා ව්‍යාපාරයක,
- (1) වත්කම් රු. 8 000 කින් අඩු වී, හිමිකම් රු. 8 000 කින් අඩු වේ.
 - (2) වත්කම් රු. 8 000 කින් අඩු වී, හිමිකම් රු. 8 000 කින් වැඩි වේ.
 - (3) වත්කම් රු. 8 000 කින් වැඩි වී, වගකීම් රු. 8 000 කින් වැඩි වේ.
 - (4) හිමිකම් රු. 8 000 කින් අඩු වී, වගකීම් රු. 8 000 කින් වැඩි වේ.
19. කසුන්ගේ ව්‍යාපාරයේ 2018.01.01 දිනට හිමිකම රු. 150 000 ක් වූ අතර 2018.01.31 දිනට හිමිකම රු. 170 000 ක් විය. මෙම කාලය තුළ ව්‍යාපාරයේ එක් ගනුදෙනුවක් පමණක් සිදු වූයේ නම්, එම ගනුදෙනුව වන්නේ,
- (1) රු. 170 000 ක ප්‍රාග්ධනය යෙදවීම ය.
 - (2) අයිතිකරු විසින් රු. 20 000 ක භාණ්ඩ පෞද්ගලික ප්‍රයෝජනයට ගැනීම ය.
 - (3) පිරිවැය රු. 60 000 ක් වූ නොගයක් රු. 40 000 කට ණයට විකිණීම ය.
 - (4) පිරිවැය රු. 40 000 ක් වූ නොගයක් රු. 60 000 කට අත්පිට මුදලට විකිණීම ය.
20. ව්‍යාපාරයක සිදු වූ ගනුදෙනුවක් සහ එම ගනුදෙනුව සටහන් කිරීමට අදාළ අසම්පූර්ණ ද්විත්ව සටහන පහත දැක්වේ.
- ණයගැතියකුගේ රු. 25 000 ක් වූ ගිණුම පියවීම සඳහා රු. 22 000 ක් මුදලින් ලැබීම
- | | |
|------------------|-----------|
| | රු. |
| • මුදල් ගිණුම | හර 22 000 |
| ① | ② |
| ----- | ----- |
| ගිණුම හර | |
| ණයගැති ගිණුම බැර | ③ |
| | ----- |
- ඉහත ප්‍රකාශයේ ①, ② සහ ③ යන ස්ථානවලට අදාළ නිවැරදි අයිතම පිළිවෙලින්,
- (1) දුන් වට්ටම්, රු. 3 000 හා රු. 25 000 වේ.
 - (2) ලද වට්ටම්, රු. 3 000 හා රු. 25 000 වේ.
 - (3) දුන් වට්ටම්, රු. 3 000 හා රු. 22 000 වේ.
 - (4) ලද වට්ටම්, රු. 3 000 හා රු. 22 000 වේ.
21. ද්විත්ව සටහන් රීතිය සම්බන්ධ පහත ප්‍රකාශ අතුරෙන් නිවැරදි ප්‍රකාශය තෝරන්න.
- (1) වැඩිවීම් හර, අඩුවීම් බැර යන ද්විත්ව සටහන් රීතිය අදාළ වන්නේ වගකීම් ගිණුම්වලට ය.
 - (2) වැඩිවීම් හර, අඩුවීම් බැර යන ද්විත්ව සටහන් රීතිය අදාළ වන්නේ හිමිකම් ගිණුම්වලට ය.
 - (3) වැඩිවීම් බැර, අඩුවීම් හර යන ද්විත්ව සටහන් රීතිය අදාළ වන්නේ ආදායම් ගිණුම්වලට ය.
 - (4) වැඩිවීම් බැර, අඩුවීම් හර යන ද්විත්ව සටහන් රීතිය අදාළ වන්නේ වත්කම් ගිණුම්වලට ය.
- පහත සඳහන් තොරතුරු ඇසුරෙන් අංක 22 හා 23 ප්‍රශ්නවලට පිළිතුරු සපයන්න.
- පසිඳු පොත් ප්‍රකාශකයෝ ව්‍යාපාරයේ සිදු වූ ගනුදෙනු කිහිපයක් පහත දැක්වේ.
- A - රු. 250 000 ක් වටිනා මුද්‍රණ යන්ත්‍රයක් ණයට ගැනීම
 - B - රු. 50 000 ක් වටිනා මුද්‍රණ කඩදාසි රුවන්ගෙන් ණයට ගැනීම
 - C - මොරටු ලී බඩු සමාගමෙන් රු. 100 000 ක් වටිනා ලී බඩු උපකරණ ණයට ගැනීම
 - D - පිරිවැය රු. 100 000 ක් වූ පොත් නොගයක් රු. 160 000 කට ණයට විකිණීම
22. ඉහත ගනුදෙනුවලින් ගැනුම් ජර්නලයේ සටහන් කරන ගනුදෙනුව වන්නේ,
- (1) A ය.
 - (2) B ය.
 - (3) C ය.
 - (4) D ය.

23. ඉහත ගනුදෙනුවලින් A, B හා D යන ගනුදෙනුවලට අදාළ මූල්‍ය ලේඛන පිළිවෙලින් දැක්වෙන පිළිතුර තෝරන්න.
- (1) ජ්‍යෙෂ්ඨ ව්‍යවස්ථාපිත, විකුණුම් ඉන්වොයිසිය හා ගැනුම් ඉන්වොයිසිය
 - (2) ජ්‍යෙෂ්ඨ ව්‍යවස්ථාපිත, ගැනුම් ඉන්වොයිසිය හා විකුණුම් ඉන්වොයිසිය
 - (3) ගෙවීම් ව්‍යවස්ථාපිත, ගැනුම් ඉන්වොයිසිය හා විකුණුම් ඉන්වොයිසිය
 - (4) ගැනුම් ඉන්වොයිසිය, ජ්‍යෙෂ්ඨ ව්‍යවස්ථාපිත හා විකුණුම් ඉන්වොයිසිය

24. කපිලගේ ව්‍යාපාරයේ 2018 ඔක්තෝබර් මාසය සඳහා ලද බැංකු ප්‍රකාශයේ බැර ශේෂය රු. 12 000 කි. මෙය,
- (1) ව්‍යාපාරයේ වත්කමකි. (2) ව්‍යාපාරයේ වගකීමකි.
 - (3) බැංකුවේ වත්කමකි. (4) ව්‍යාපාරයේ බැංකු අයිතියකි.

● පහත සඳහන් තොරතුරු ඇසුරෙන් අංක 25 හා 26 ප්‍රශ්නවලට පිළිතුරු සපයන්න.

සඳුන්ගේ ව්‍යාපාරයේ 2018.07.31 දින සුළු මුදල් භාරකරු ලෙස ඉතිරි මුදල රු. 2 500 කි. 2018 ජූලි මාසයේ සුළු මුදල් විශ්ලේෂණ නිරූපල ශේෂ පහත දැක්වේ.

ලිපිද්‍රව්‍ය	රු. 2 500
ගමන් ගාස්තු	රු. 1 800
සංග්‍රහ වියදම්	රු. 2 000
විවිධ වියදම්	රු. 1 200

සඳුන් 2018.08.01 දින සිට සුළු මුදල් අග්‍රිමයේ වටිනාකම රු. 15 000 ක් දක්වා වැඩි කිරීමට තීරණය කරන ලදී.

25. මෙම ව්‍යාපාරයේ 2018 ජූලි මාසයේ සුළු මුදල් වියදම්වල වටිනාකම
- (1) රු. 2 500 කි. (2) රු. 7 500 කි. (3) රු. 10 000 කි. (4) රු. 15 000 කි.

26. 2018.08.01 දිනට සුළු මුදල් අග්‍රිමය ප්‍රතිපූරණය කළ යුතු වටිනාකම වන්නේ,
- (1) රු. 2 500 කි. (2) රු. 5 000 කි. (3) රු. 12 500 කි. (4) රු. 15 000 කි.

27. අයිතිකරු රු. 5 000 ක අතිරේක ප්‍රාග්ධනයක් යෙදවීම සටහන් කිරීමට අදාළ මූල්‍ය ලේඛනය හා මූලික පොත පිළිවෙලින්,
- (1) මුදල් පොත හා ලදුපතයි. (2) පොදු ජ්‍යෙෂ්ඨ හා ලදුපතයි.
 - (3) ලදුපත හා පොදු ජ්‍යෙෂ්ඨයයි. (4) ලදුපත හා මුදල් පොතයි.

28. ව්‍යාපාරයක් 2018.03.31 දින පිළියෙල කළ ශේෂ පිරික්සුමේ හර තීරුවේ එකතුව රු. 800 000 වූ අතර බැර තීරුවේ එකතුව රු. 825 000 ක් විය. මෙම වෙනසට හේතු වූ ගිණුම්කරණයේදී සිදු වූ වරද වන්නේ,
- (1) දුන් වට්ටම් ගිණුමේ එකතුව රු. 25 000 කින් වැඩි වීම ය.
 - (2) විකුණුම් ගිණුමේ එකතුව රු. 25 000 කින් වැඩි වීම ය.
 - (3) ගැනුම් ගිණුමේ එකතුව රු. 25 000 කින් වැඩි වීම ය.
 - (4) ලද වට්ටම් ගිණුමේ එකතුව රු. 25 000 කින් අඩු වීම ය.

29. ව්‍යාපාරය විසින් සුමනදාසගෙන් ණයට ගත් රු. 45 000 ක් වටිනා බඩු නොගය සුමනදාසගේ ගිණුමේ රු. 54 000 ක් ලෙස සටහන් කර ඇත. මෙම ගිණුම්කරණ වරද නිවැරදි කිරීම වාර්තා කළ යුතු මූලික පොත,
- (1) පොදු ජ්‍යෙෂ්ඨයයි. (2) ගැනුම් ජ්‍යෙෂ්ඨයයි.
 - (3) මුදල් පොතයි. (4) විකුණුම් ජ්‍යෙෂ්ඨයයි.

30. සේසත් ක්‍රීඩා සමාජයට අදාළ පහත ගනුදෙනු අතුරෙන් ආදායම් හා වියදම් ගිණුමේ ඇතුළත් නොවන ගනුදෙනුවකුමක් ද?
- (1) පුවත්පත් අලෙවියෙන් ලැබීම රු. 1 000 (2) ක්‍රීඩා උපකරණ ගැනීම රු. 15 000
 - (3) පරිත්‍යාග ලැබීම රු. 5 000 (4) ප්‍රවාහන වියදම් ගෙවීම රු. 2 500

31. මල් පෝච්චි නිෂ්පාදන ව්‍යාපාරයක 2018 ඔක්තෝබර් මාසයේ මුළු නිෂ්පාදන පිරිවැය රු. 150 000 ක් වූ අතර මාසය තුළදී නිෂ්පාදනය කළ මල් පෝච්චි ගණන 500 කි. මල් පෝච්චියක නිෂ්පාදන පිරිවැය මත 20% ක ලාභාන්තිකයක් තබා ගන්නේ නම් මල් පෝච්චියක විකුණුම් මිල කොපමණ ද?
- (1) රු. 240 (2) රු. 300 (3) රු. 360 (4) රු. 500

32. පහත වගුවෙහි X නිරුවේ නිෂ්පාදන ආයතනවල වියදම් අයිතම කිහිපයක් ද, Y නිරුවේ නිෂ්පාදන පිරිවැය මූලිකාංග කිහිපයක් ද දැක්වේ.

X	Y
1. උළු නිෂ්පාදන ආයතනයක විදුලිය සඳහා වියදම	A - වක්‍ර ශ්‍රම පිරිවැය
2. ඇඟලුම් නිෂ්පාදන ආයතනයක ඇඳුම් මසන්නන්ගේ වැටුප්	B - සෘජු වෙනත් පිරිවැය
3. පාවහන් නිෂ්පාදන ආයතනයක මුරකරුගේ වැටුප	C - සෘජු ශ්‍රම පිරිවැය
4. පොත් ප්‍රකාශන ආයතනයක කාර්යාලාගාර	D - වක්‍ර වෙනත් පිරිවැය

ඉහත X නිරුවේ සඳහන් වියදම් අයිතම Y නිරුවේ සඳහන් නිෂ්පාදන පිරිවැය මූලිකාංග සමග පිළිවෙලින් ගැලපූ විට ලැබෙන පිළිතුර තෝරන්න.

- (1) B, A, C හා D (2) B, C, A හා D (3) D, C, A හා B (4) D, C, B හා A

33. කුමුදු 2017.04.01 දින තම ව්‍යාපාරයෙන් ඉපයූ රු. 100 000 ක් 12% ක වාර්ෂික පොලියකට ස්ථාවර තැන්පතුපක ආයෝජනය කළේ ය. වාර්ෂික පොලිය 2018.03.31 දින ලැබීමට නියමිත ය.

2017.12.31 දිනෙන් අවසන් වර්ෂයට මෙම ව්‍යාපාරයේ පිළියෙල කරන ලද මූල්‍ය ප්‍රකාශනවලට අනුව

- (1) ආදායම් ප්‍රකාශයේ දැක්වෙන පොලී ආදායම රු. 12 000 කි.
- (2) මූල්‍ය තත්ත්ව ප්‍රකාශයේ දැක්වෙන ලැබිය යුතු පොලී ආදායම රු. 12 000 කි.
- (3) මූල්‍ය තත්ත්ව ප්‍රකාශයේ දැක්වෙන ලැබිය යුතු පොලී ආදායම රු. 9 000 කි.
- (4) මූල්‍ය තත්ත්ව ප්‍රකාශයේ දැක්වෙන ලැබිය යුතු පොලී ආදායම රු. 3 000 කි.

34. ව්‍යාපාරයක් 2016.01.01 දින රු. 500 000 ක් වටිනා යන්ත්‍රයක් මිල දී ගත් අතර එහි ඵලදායී ජීව කාලය වර්ෂ 5 කි. එම කාලය අවසානයේ යන්ත්‍රයේ සුන්බුන් අගය රු. 50 000 කි.

ව්‍යාපාරයේ 2017.12.31 දිනෙන් අවසන් වර්ෂය සඳහා පිළියෙල කළ ආදායම් ප්‍රකාශයේ දැක්වෙන යන්ත්‍ර ක්ෂය වටිනාකම

- (1) රු. 90 000 කි. (2) රු. 100 000 කි. (3) රු. 180 000 කි. (4) රු. 320 000 කි.

● පහත සඳහන් තොරතුරු උපයෝගී කර ගෙන අංක 35 සිට 40 තෙක් ප්‍රශ්නවලට පිළිතුරු සපයන්න.

ජානකගේ ව්‍යාපාරයේ 2017.12.31 දිනට පිළියෙල කළ ශේෂ පිරික්සුමෙන් උපුටා ගත් ශේෂ කිහිපයක් පහත දැක්වේ.

	(රු.)
ප්‍රාග්ධනය	300 000
තොගය (2017.01.01 දිනට)	40 000
විකුණුම්	250 000
ගැනුම්	150 000
ගෙන ඒමේ කුලී	3 000
ණයගැතියෝ	35 000
රක්ෂණ වියදම්	18 000
පරිපාලන වේතන	26 000
මූල්‍ය වියදම්	4 000
ලද වට්ටම්	2 000
වෙනත් ආදායම්	5 000
දුන් වට්ටම්	10 000

අතිරේක තොරතුරු:

- * 2017 වර්ෂය සඳහා රක්ෂණ ගාස්තුව රු. 20 000 කි.
- * ණයගැතියන්ගෙන් රු. 3 000 ක් බොල් ණය ලෙස කපා හැරිය යුතු ය.
- * 2017.12.31 දිනට ඉතිරි තොගයේ පිරිවැය රු. 30 000 කි.

35. 2017.12.31 දිනෙන් අවසන් වර්ෂය සඳහා විකුණුම් පිරිවැය

- (1) රු. 87 000 කි. (2) රු. 120 000 කි. (3) රු. 160 000 කි. (4) රු. 163 000 කි.

36. මෙම ව්‍යාපාරයේ 2017.12.31 දිනෙන් අවසන් වර්ෂය සඳහා දළ ලාභය
 (1) රු. 87 000 කි. (2) රු. 90 000 කි. (3) රු. 130 000 කි. (4) රු. 163 000 කි.
37. මෙම ව්‍යාපාරයේ 2017.12.31 දිනෙන් අවසන් වර්ෂය තුළදී මුදලින් ගෙවා ඇති රක්ෂණ ගාස්තුව
 (1) රු. 2 000 කි. (2) රු. 18 000 කි. (3) රු. 20 000 කි. (4) රු. 22 000 කි.
38. මෙම ව්‍යාපාරයේ 2017.12.31 දිනට මූල්‍ය තත්ත්ව ප්‍රකාශයේ දැක්විය යුතු ණයගැති වටිනාකම
 (1) රු. 3 000 කි. (2) රු. 32 000 කි. (3) රු. 35 000 කි. (4) රු. 38 000 කි.
39. මෙම ව්‍යාපාරයේ 2017.12.31 දිනෙන් අවසන් වර්ෂය සඳහා ශුද්ධ ලාභය
 (1) රු. 31 000 කි. (2) රු. 33 000 කි. (3) රු. 36 000 කි. (4) රු. 38 000 කි.
40. 2017.12.31 දිනට මෙම ව්‍යාපාරයේ අයිතිකරුවන්ගේ මුළු හිමිකම කොපමණ ද?
 (1) රු. 331 000 (2) රු. 333 000 (3) රු. 336 000 (4) රු. 338 000

* *

36. මෙම ව්‍යාපාරයේ 2017.12.31 දිනෙන් අවසන් වර්ෂය සඳහා දළ ලාභය
 (1) රු. 87 000 කි. (2) රු. 90 000 කි. (3) රු. 130 000 කි. (4) රු. 163 000 කි.
37. මෙම ව්‍යාපාරයේ 2017.12.31 දිනෙන් අවසන් වර්ෂය තුළදී මුදලින් ගෙවා ඇති රක්ෂණ ගාස්තුව
 (1) රු. 2 000 කි. (2) රු. 18 000 කි. (3) රු. 20 000 කි. (4) රු. 22 000 කි.
38. මෙම ව්‍යාපාරයේ 2017.12.31 දිනට මූල්‍ය තත්ත්ව ප්‍රකාශයේ දැක්විය යුතු ණයගැති වටිනාකම
 (1) රු. 3 000 කි. (2) රු. 32 000 කි. (3) රු. 35 000 කි. (4) රු. 38 000 කි.
39. මෙම ව්‍යාපාරයේ 2017.12.31 දිනෙන් අවසන් වර්ෂය සඳහා ශුද්ධ ලාභය
 (1) රු. 31 000 කි. (2) රු. 33 000 කි. (3) රු. 36 000 කි. (4) රු. 38 000 කි.
40. 2017.12.31 දිනට මෙම ව්‍යාපාරයේ අයිතිකරුවන්ගේ මුළු හිමිකම කොපමණ ද?
 (1) රු. 331 000 (2) රු. 333 000 (3) රු. 336 000 (4) රු. 338 000

* *