

මිනුවන්ගොඩ අධ්‍යාපන කලාපය

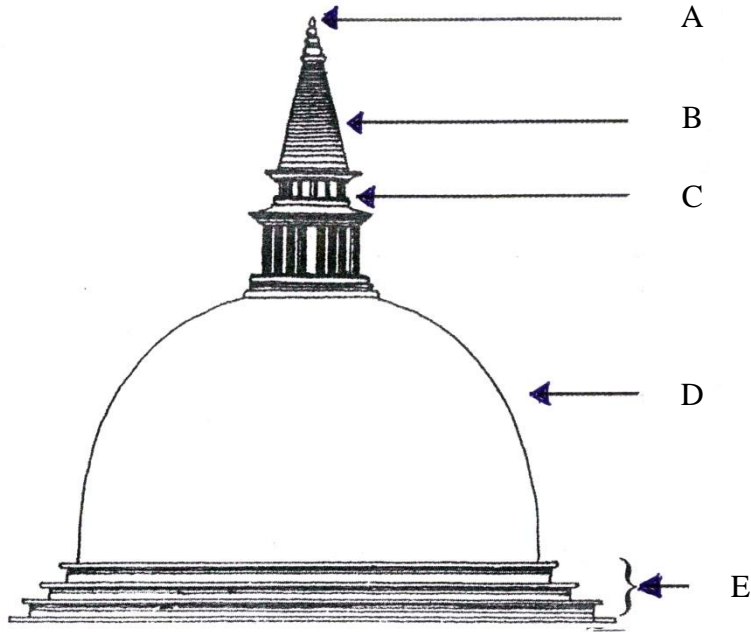
දෙවන වාර පරීක්ෂණය - 2018

චිත්‍ර කලාව

06 ශ්‍රේණිය

කාලය පැය දෙකකි

❖ රූප සටහන ඇසුරෙන් අංක 01 සිට 05 දක්වා පිළිතුරු ලියන්න. (A,B,C,D,E කොටස් නම් කරන්න)




- | | |
|------------|------------|
| 1. A | 4. D |
| 2. B | 5. E |
| 3. C | |

❖ අංක 06 සිට 10 දක්වා දී ඇති ප්‍රශ්නවලට අදාළ හිස්තැන් වලට සුදුසු පිළිතුරු ලියන්න.

6. තෙමගුල සිහිකරන බෞද්ධ ජනතාවගේ පූජනීය උතුම් වූ දිනය ආමිස මෙන්ම ප්‍රතිපත්ති පූජාවටද ප්‍රමුඛතාවය හිමිවේ.
7. දමිල අවුරුදු ක්‍රමය අනුව වසරේ පළමු මාසය මාසය යනුවෙන් හඳුන්වයි.
8. රාමසාන් උත්සවය සමරනු ලබන්නේ ජනතාවයි.
9. හින්දු බැතිමතුන් කහ කුඩු සහ සහල් පිටිවලින් ගෙබිම මැද අඳිනු ලබන මෝස්තර රටා නමින් හඳුන්වයි.
10. වර්ෂාවත් කොළ කැබලි ඉරා අලවා නිර්මාණය කරනු ලබන චිත්‍ර නමින් හැඳින්වේ.


❖ අංක 11 සිට 15 දක්වා දී ඇති ස්ථූප රූප සටහන්වල ගර්භයේ හැඩය අනුව එම ස්තූප නම් කරන්න.

11.



.....

12.




.....

13.




.....

14.



.....

15.



.....

❖ අංක 16 සිට 20 දක්වා ප්‍රශ්නවලට නිවැරදි පිළිතුර තෝරා යටින් ඉරක් අඳින්න.

16. “ගෝපුරම් හෙවත් ගෝපුර” යනුවෙන් හඳුන්වන ප්‍රධාන ගෘහ නිර්මාණ අංගය දක්නට ලැබෙන්නේ,

- i. හින්දු කෝවිල්වලය.
- ii. බෞද්ධ ගොඩනැගිලිවලය.
- iii. කිතුනු දේවස්ථානවලය.
- iv. මුස්ලිම් පල්ලිවලය.

17. “ද්විතීය වර්ණ” කාණ්ඩය වන්නේ,
- | | |
|-----------------------|----------------------|
| i. රතු, කොළ, දම් | iii. කහ, කොළ, දම් |
| ii. තැඹිලි, නිල්, දම් | iv. තැඹිලි, කොළ, දම් |
18. ඉස්ලාම් දින දර්ශනයේ “රාමලාන්” මාසය වන්නේ,
- | | |
|-----------------|------------------|
| i. හයවන මාසයයි | iii. අටවන මාසයයි |
| ii. නමවන මාසයයි | iv. දහවන මාසයයි |
19. “ඉන්දියාවේ සාංචි ස්ථූපයේ” “හර්මිකාව” ලෙස හඳුන්වන අංගය ලංකා ස්ථූපයේ
- | | |
|-------------------|---------------------|
| i. ගර්භයයි | iii. හතරැස් කොටුවයි |
| ii. දේවතා කොටුවයි | iv. කොත් කැරැල්ලයි |
20. හින්දු ආගමික කෝවිල් තුළ දක්නට ලැබෙන සත්ව රූප අතර ඔවුන් දේවත්වයෙන් සලකන සහ ආගමික සංකේතය ලෙස සලකන සත්වයා වන්නේ,
- | | |
|--------------|----------------|
| i. ගවයා ය. | iii. අශ්වයා ය. |
| ii. මොනරා ය. | iv. ඇතා ය. |
- ❖ පහත සඳහන් කොටස් දෙකින් ඔබ කැමති එක් කොටසකින් මාතෘකාවක් තෝරාගෙන එක් විනයක් පමණක් අදින්න.

I කොටස

- 1) පෝය දා අපේ පන්සල
- 2) අපේ ගමේ ඉරිදා පොළ
- 3) අවුරුදු උත්සවයකදී මා සිත් අවස්ථාවක්
- 4) වෙල් යායක සරුගෙලේ අරින අපි

II කොටස

- 1) ඔබ කැමති පරිදි වර්ණ යොදා හැඩතල මෝස්තරයක් නිර්මාණය කරන්න.
- 2) මැටි භාණ්ඩයක් නිර්මාණය කර එය මෝස්තර කරන්න.
- 3) යාලුවාගේ උපන් දිනයට තැඹි දීම සඳහා තැඹි එතීමට සුදුසු කොළයට මෝස්තරයක් නිර්මාණය කරන්න.
- 4) මල් හා කොළ ඇසුරු කරගෙන චිත්ත මෝස්තරයක් අදින්න.