

பொருளியல்

தேர்ச்சிக்குரிய பல் தேர்வு
வினாக்கள்



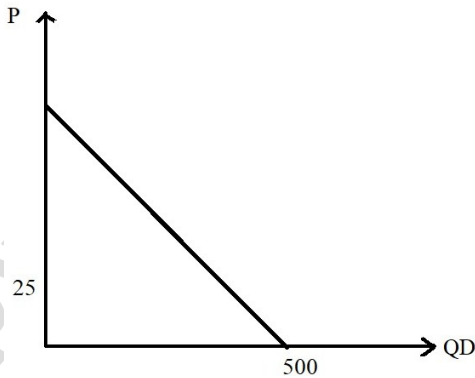


1. பொருள் ஒன்றின் கேள்வியை தீர்மானிக்கும் காரணிகளில் தனிநபர் கேள்விக்கு மேலாக சந்தைக் கேள்வி யை தீர்மானிக்க அவசியமான காரணி யாது?
 1. நுகர்வோரின் வருமானம்
 2. நுகர்வோரின் சுவை
 3. கொள்வனவாளர் தொகை
 4. எதிர்கால எதிர்பார்க்கை
 5. காலநிலை

2. கேள்வி விதிக்கான எடுகோள்களில் பொருத்தமற்றது எது?
 1. குறித்த சந்தர்ப்பத்தில் விலையும், தொகையும் கருத்தில் கொள்ளப்படும்
 2. விலை தவிர்ந்த ஏனைய ஏனைய காரணிகள் மாறாதிருக்கும்
 3. சாதாரண பண்டம் ஒன்றின் கேள்வி கருத்திற் கொள்ளப்படும்
 4. குறித்த பொருளின் விலை மாறாதிருக்கும்
 5. பகுத்தறிவுள்ள நுகர்வோர் நடத்தை காணப்படும்

3. பொருள் ஒன்றின் கேள்விக் கோட்டை வரையம் போது மாறாததாக கொள்ளப்படாத காரணி ஒன்று பின்வருவனவற்றில்
 1. குறித்த பொருளின் விலை
 2. பதிலீடுகளின் விலை
 3. நுகர்வோர் வருமானம்
 4. நுகர்வோர் சுவை
 5. அரசின் வரிவிதிப்பு

4. $QD = 600 - 20P$ என்ற சமன்பாட்டிற்கு பொருத்தமான எண்ணக்கரு யாது?
 1. விலை பூச்சியம் எனின் கேள்வித்தொகை 400 அலகுகள்
 2. $20/=\text{விலையிற் கேள்வித் தொகை பூச்சியம்}$
 3. கேள்விக் கோட்பாட்டின் சரிவு 0.5
 4. கேள்விக் கோடு கீழிலிருந்து மேல் நோக்கிச் செல்லும்
 5. $30/=\text{விலையிற் கேள்வித்தொகை பூச்சியமாகும்}$



5. பின்வரும் கேள்விக் கோட்டின் சமன்பாட்டை குறிப்பது.

1. $QD = 25 - 20P$
2. $QD = 500 - 25P$
3. $QD = 500 - 10P$
4. $QD = 500 - 20P$
5. $QD = 25 - 500P$



6. $QD = 100 - 5P$ எனும் சமன்பாட்டிற்குரிய கேள்வி வளையியின் எவ் விலைப்புள்ளியில் அலகு நெகிழ்ச்சி காணப்படும்.

1. 5/= விலையில்
2. 20/= விலையில்
3. 100/= விலையில்
4. 10/= விலையில்
5. 15/= விலையில்

7. x என்ற பொருளின் கேள்வி நெகிழ்ச்சி 1.0 எனின் விலை 15/= எனின் 100 அலகு கொள்வனவு செய்யப்பட்ட நிலையில் கேள்வித் தொகை 50 ஆல் அதிகரிக்கும் எனின் விலை குறைவடைந்திருக்க வேண்டிய அளவு.

1. 5/= ஆல்
2. 10/= ஆல்
3. 100/= ஆல்
4. 2/= ஆல்
5. 50/= ஆல்

8. விலைக் கேள்வி நெகிழ்ச்சியுள்ள பொருள் ஒன்று தொடர்பில் உற்பத்தி அதிகரிக்கும் ஆயின் பொருத்தமான சேர்க்கை யாது?

	விலை மாற்றம்	கேள்வித் தொகை மாற்றம்	விற்பனை வருமான மாற்றம்
1.	குறையும்	குறையும்	அதிகரிக்கும்
2.	குறையும்	அதிகரிக்கும்	அதிகரிக்கும்
3.	குறையும்	அதிகரிக்கும்	குறையும்
4.	அதிகரிக்கும்	குறையும்	குறையும்
5.	அதிகரிக்கும்	அதிகரிக்கும்	அதிகரிக்கும்

9. $QD = 400 - 10P$ எனின் 10/= விலையில் விலைக்கேள்வி நெகிழ்ச்சி

1. -0.33
2. -0.5
3. -1.5
4. -1.8
5. -0.15



10. பின்வருவனவற்றில் நெகிழ்ச்சியற்ற சந்தர்ப்பம் பொருந்தக் கூடியது.

1. ஆடம்பரப் பொருட்கள்
2. இழிவுப் பொருட்கள்
3. நுகர்விற்கு அடிமைப்பட்ட பொருட்கள்
4. அதிக பதிலீடுகள் உடைய பண்டம்
5. கிபன் பொருட்கள்

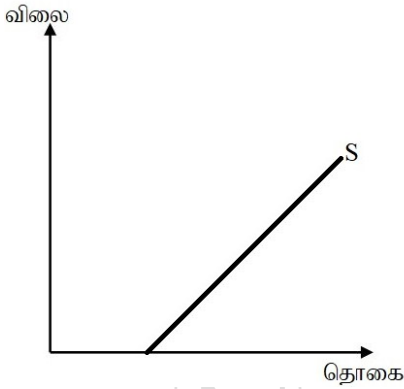
11.

பொருளின் கூற்று

பொருட்கள்	விலைக்கேள்வி நெகிழ்ச்சி	வருமானக் கேள்வி நெகிழ்ச்சி
1. சாதாரணம்	எதிரானது	எதிரானது
2. கிபன்	நேரானது	எதிரானது
3. இழிவு	எதிரானது	நேரானது
4. ஆடம்பரம்	எதிரானது	எதிரானது
5. கிபன்	எதிரானது	நேரானது

பின்வரும் சேர்க்கைகளில் ரீதியில் ஏற்புடைய எது?

12. யாது?



பின்வரும் நிரம்பல் கோடு தொடர்பில் ஏற்புடைய கூற்று

1. விலை நெகிழ்வுள்ளது தொகை அதிகரதிக்க - நெகிழ்ச்சிக் குணகம் குறைவடையும்
2. விலை நெகிழ்வற்றது தொகை அதிகரதிக்க நெகிழ்ச்சிக் குணகம் குறைவடையும்
3. விலை நெகிழ்வற்றது தொகை அதிகரதிக்க நெகிழ்ச்சிக் குணகம் அதிகரிக்கும்
4. பூரண நெகிழ்வற்றது சரிவு மாறாதது
5. பூச்சிய நெகிழ்வானது



13. இழிவுப் பொருள் ஒன்று தொடர்பில் வருமானம் குறைவடையுமாயின் அதன் சந்தையில்

	சமநிலை விலை	சமநிலை தொகை	கேள்வி
1.	குறையும்	குறையும்	குறையும்
2.	குறையும்	அதிகரிக்கும்	குறையும்
3.	அதிகரிக்கும்	அதிகரிக்கும்	குறையும்
4.	அதிகரிக்கும்	அதிகரிக்கும்	அதிகரிக்கும்
5.	அதிகரிக்கும்	குறையும்	அதிகரிக்கும்

14. அரசு தனது செயற்திறன் வாய்ந்த உயர்ந்தபட்ச விலையை நீக்கிக் கொள்ளுமாயின் ஏற்படும் விளைவுகள்

1. விலை அதிகரிப்பு, நிரம்பல் அதிகரிப்பு, கேள்வி குறைதல்
2. விலை குறைவு, நிரம்பல் குறைவு, கேள்வி குறைதல்
3. விலை அதிகரிப்பு, நிரம்பல் குறைவு, கேள்வி அதிகரிப்பு
4. விலை மாறாது, நிரம்பல் மாறாது, கேள்வி மாறாது
5. விலை குறைதல், நிரம்பல் அதிகரிப்பு, கேள்வி அதிகரிப்பு

15. அரசாங்கம் இழிவு விலை ஒன்றை தீர்மானித்து உற்பத்தி முழுவதனையும் சந்தைக்கு அனுமதித்து குறை நிரப்பு கொடுப்பனவை மேற்கொள்ளுமாயின்

1. உற்பத்தியாளர் மிகை குறையும், நுகர்வோர் மிகை அதிகரிக்கும்
2. நுகர்வோர் மிகை குறையும், உற்பத்தியாளர் மிகை அதிகரிக்கும்
3. நுகர்வோர் மிகை குறையும், நுகர்வோர் மிகை குறையும்
4. உற்பத்தியாளர் மிகை மாறாது, நுகர்வோர் மிகை குறையும்
5. நுகர்வோர் மிகை , உற்பத்தியாளர் மிகை இரண்டும் அதிகரிக்கும்.

16.

	நிரம்பல் கோடு	நுகர்வோன் மிகை	உற்பத்தியாளன் மிகை இழப்பு
1.	வலப்புறம் நகர்வடையும்	அதிகரிக்கும்	குறைவடையும்
2.	வலப்புறம் நகர்வடையும்	குறைவடையும்	குறைவடையும்
3.	இடப்புறம் நகர்வடையும்	குறைவடையும்	அதிகரிக்கும்
4.	இடப்புறம் நகர்வடையும்	அதிகரிக்கும்	அதிகரிக்கும்
5.	மாறாது	மாறாது	குறைவடையும்

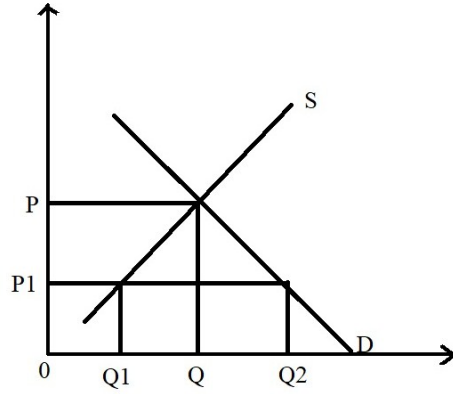
அரசு பொருட்கள் மீதான வரி அறவீட்டளவை குறைத்துக் கொள்ளுமாயின் ஏற்படக் கூடிய விளைவு



17. அரசு மானியம் வழங்கிய போது மானியத்தின் அளவினால் பொருளின் சந்தை விலை குறைவடையின்

1. பூச்சிய கேள்வி நெகிழ்ச்சியுடைய பொருள்
2. முடிவில் கேள்வி நெகிழ்ச்சியுடைய பொருள்
3. நெகிழ்ச்சியற்ற கேள்வியுடைய பொருள்
4. நெகிழ்ச்சியுள்ள கேள்வியுடைய பொருள்
5. பூச்சிய நிரம்பல் நெகிழ்ச்சியானது

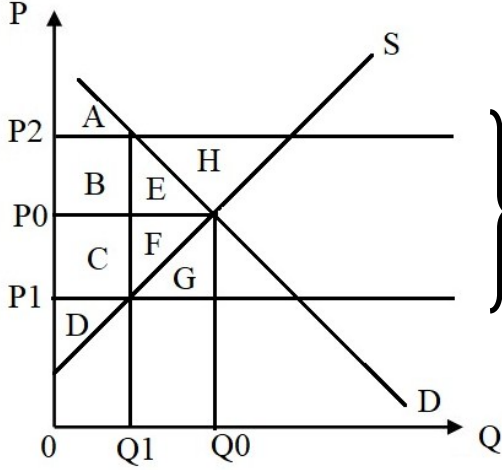
18. உள்நாட்டில் உற்பத்தி செய்யப்படும் பொருள் ஒன்று தொடர்பில் உள்நாட்டு விலையிலும் குறைவான P, விலை ஒன்றில் தாராள இறக்குமதி வாய்ப்பு கிடைப்பதாக கருதின்.



	சம நிலை அளவு	இறக்குமதி அளவு
1.	0 - Q1	Q2 - Q1
2.	0 - Q	Q - Q1
3.	0 - Q2	Q2 - Q1
4.	Q2 - Q1	0 - Q2
5.	0 - Q2	Q2 - Q



19. பின்வரும் வரைபடமானது ஒரு குறிப்பிட்ட நுகர்வுப் பொருளுக்கான ஒரு நிறை போட்டிச் சந்தையினால் குறிக்கின்றது.



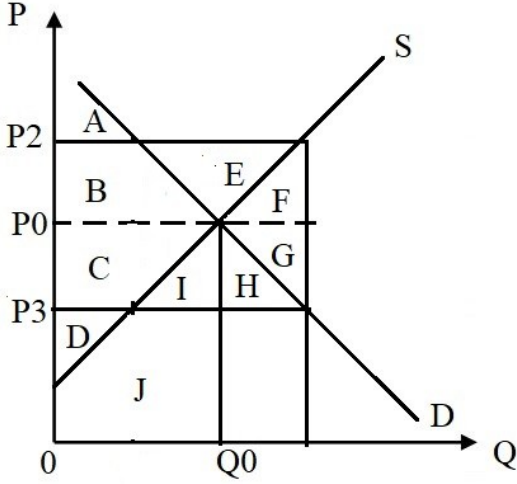
அலகு வரி (சிறப்பு வரி)

அரசாங்கம் சந்தையில் இப்பொருள் மீது சிறப்பு வரி (அலகு வரி) விதிக்க வருமானால் வரியின் பின் நுகர்வோர் மின், உற்பத்தியாளன் மின், பொருளாதார மின் என்பவற்றினை சரியாக வெளிப்படுத்தும் விடை யாது?

	நுகர்வோர் மின்	உற்பத்தியாளன் மின்	பொருளாதார மின்
1.	A + B + E	D	A + B + C + D
2.	B + E + H	D + C + F	B + E + H + D + C
3.	A	D	A + D
4.	A + B	D + C	A + B + D + C
5.	E	F	E + F



20. பின்வரும் வரைபடமானது ஒரு குறிப்பிட்ட நுகர்வுப் பொருளுக்குரிய ஒரு நிறை போட்டிச் சந்தையைக் குறிக்கின்றது.



அரசாங்கம் சந்தையில் இப்பொருளுக்கு அலகு மானியம் வழங்கிய பின் உற்பத்தியாளன் மிகையினளவு

1. C + D
2. C + D + B + A
3. D + C + I + H
4. D + C + B + H
5. C + D + B + E