

2018 Scholarship targeted feedback programs Series No. 06 Walasmulla Education Zone

2018 ශිෂ්‍යත්ව විභාගය ඉලක්ක කර ගත් ප්‍රතිපෝෂණ වැඩසටහන් මාලාව අංක 06 වලස්මුල්ල අධ්‍යාපන කලාපය

II පත්‍රය

කාලය : පැය 01 මිනිත්තු 15 යි

විභාග අංකය :-

විභාගයට පෙනී සිටීම සඳහා උපදෙස්

- ඔබේ විභාගඅංකය ඉහත කොටුව තුළ ඇති තිත් ඉර මත ලියන්න.
- මෙම ප්‍රශ්න පත්‍රයේ ප්‍රශ්න 60 ක් ඇත. ප්‍රශ්න සියල්ලටම පිළිතුරු මෙම ප්‍රශ්න පත්‍රයේම සපයන්න.
- කටුවැඩ කිරීම සඳහා කඩදාසි එකක් සපයනු ලැබේ.

උත්තර පත්‍ර පරීක්ෂකවරුන් සඳහා පමණි

පිටු අංක	ලැබූ ලකුණු
1	
2	
3	
4	
5	
6	
7	
8	
එකතුව	

	සෘජු අධ්‍යක්ෂ හා සංවිධාන අංකය
පළමු පරීක්ෂක ලකුණු දීමේ පරිපාටිය අනුව උත්තර පත්‍ර ඇගයීම් කළ බව සහතික කරමි.	V/I/S
දෙවන පරීක්ෂක පළමු පරීක්ෂක කර ඇති ඇගයීම් නිවැරදි බව සහතික කරමි.	V/I/S
තුන්වන පරීක්ෂක ඇගයීම් කර, ප්‍රදානය කළ ලකුණු සහ අවසාන ලකුණ නිවැරදි බව තහවුරු කරමි.	V/I/S/EMF
ප්‍රධාන පරීක්ෂක අධීක්ෂණය කළෙමි. අවසාන ලකුණු නිවැරදිය.	V/I/S/CH

අවසාන ලකුණු

ඉලක්කමෙන්	
අකුරෙන්	

01. පහත සඳහන් විරිදු පෙළ කියවා අසා ඇති ප්‍රශ්නවලට පිළිතුරු විරිදු පෙළ ඇසුරෙන් සපයන්න.

අනුරාධපුර පොළොන්නරුව සීගිරි	මනබන්දනීය
කුලුනු පිළිම බිතු සිතුවම් නන් සිතුවිලි	රංජනීය
නන් සිතුවිලි	රංජනීය
පස් පියුමෙන් පිරුණු පොකුණු රේණු හැලී රන්	පාටට
ඉන් නැහැ වී නිල් ගැන්වේ ගොයම් තලා පින්	පාටට
ගොයම් තලා පින්	පාටට
වසන්තයේ හිරිමල් වන බිඟු ගී මිහිරෙන්	පිරෙන්නේ
මහියංගණ කැලේ සැදෙන මී වදවල පැණි	පිරෙන්නේ
මී වදවල පැණි	පිරෙන්නේ
මින්තේරිය අභයවාපි තෝපා ගිරිතලේ	සිරිය
විසිතුරු ඇති ගී ගයන්න සරසවි දේවිටත්	බැරිය
සරසවි දේවිටත්	බැරිය

01) සංස්කෘතික ත්‍රිකෝණයට අයත්වන මෙහි ඇති ඓතිහාසික නගර දෙක කුමක් ද?

.....

02) පොකුණු පිරි ඇත්තේ මොනවායින් ද?

03) I වන උපතිස්ස රජතුමා විසින් කරවූ වැවක් මෙහි සඳහන් වේ. එම වැව කුමක් ද?

.....

04) බිඟු යන්නට සමාන පදයක් ලියන්න

05) “නන් සිතුවිලි” යන වචනයේ ඉරි ඇඳි පදයේ අර්ථය ලියන්න.

06) එකම වචනයේ ඉස්පිලි දෙකක් සහ පාපිලි දෙකක් යෙදී ඇත. එම වචනය තෝරා ලියන්න.

..... (ලකුණු 06)

02. පහත වචන ගලපා අර්ථවත් වැකියක් සාදා ලියන්න.

01) ම / වැව් / මම / පොඩ්ඩක් / තනිව / දේවයන් වහන්ස / බැන්දෙමි.

.....

02) හඬ / එද්දී / විය / අඳුර / ගං / රැහැයියන්ගේ / වැටී / ඉවුරෙන් / ගෙන / ඇසෙන්නට

..... (ලකුණු 02)

03. පහත වාක්‍ය නිවැරදි නම් ✓ ලකුණ ද වැරදි නම් X ලකුණ ද යොදන්න.

01) සෙවිමිණි ද මම ද එකවර ක්‍රීඩා පිටියට ගියෙමි. ()

02) තුරු පෙළ සුළඟට ඒ මේ අත පැද්දෙයි. () (ලකුණු 02)

04. පහත දැක්වෙන්නේ ශ්‍රී ලංකා ජාතික ගීයේ කොටසකි. එහි නිස්තර්ෂට අදාළ කොටස පුරවන්න.

අප ශ්‍රී ලංකා නමෝ නමෝ නමෝ නමෝ මාතා

සුන්දර සුරැඳි අති ලංකා

..... නෙක මල් පලතුරු පිරි ජයරමයා

(ලකුණු 02)

05. නිවැරදි අක්ෂර වින්‍යාසය සහිත වචනය යටින් ඉරක් අඳින්න.

- (1) දෘශ්‍යමාන (2) දෘෂ්මාන (3) දෘස්‍යමාන (4) දෘෂ්‍යමාන
 (1) දේශගවේශක (2) දේෂගවේෂක (3) දේශ ගවේෂක (4) දේෂ ගවේෂක

(ලකුණු 02)

06. පහත සඳහන් පද දෙකෙහි අදහස ලියන්න.

- 01) අද්විතිය - 02) මනස් කාන්ත -

(ලකුණු 02)

07. පහත වාක්‍ය වල උපමාව සොයා යටින් ඉරක් අඳින්න.

- 01) ග්‍රහලෝකාගාරයේ වහල මුණින් නැවු විශාල නැඹිලියක් වගෙයි.
 02) සමහර ගසක මුල් අපට පෙනෙන්නේ අඬු විහිදාගත් දැවැන්ත සතෙකු මෙනි. (ලකුණු 02)

08. පහත සඳහන් වාක්‍ය වලට සුදුසු ස්ථාන වලට අදාළ විරාම ලකුණු යොදන්න.


- 01) ඇයි ඇයි මොකද හා හාමි සිදුවුණේ
 02) හානේ විත්‍යා ඔයා මොනවද මේ කියන්නේ (ලකුණු 02)

09. පහත වාක්‍යන්හි අදහසට අදාළ ප්‍රස්තාව පිරුළ හා ඉඟි වැඩි පිළිවෙලින් ලියන්න.

- 01) උදවු කළ අය අමතක කර වෙනත් අයට ප්‍රශංසා කිරීම

 02) ඉතා සෙමින් වැඩ කිරීම
 (ලකුණු 02)

10. පහත පින්තූරයට අදාළ වචනය ඉංග්‍රීසි අකුරින් ලියන්න.



.....

.....

(ලකුණු 02)

11. පහත ඉංග්‍රීසි වැඩි වල අර්ථය සිංහලෙන් ලියන්න.

- 01) Can I see Picture?
 02) What are these (ලකුණු 02)

12. අර්ථය ඉංග්‍රීසියට හරවා ඉංග්‍රීසි අකුරෙන් ලියන්න.

- 01) විදුහල්පතිතුමා -
 02) පුස්තකාලය -



(ලකුණු 02)

13. අර්ථය සිංහලෙන් ලියන්න.

- 01) බස් පෝහිරුදු
- 02) නාන් පඩික්කිරේන් (ලකුණු 02)

14. දෙමළ උච්චාරණය සිංහලෙන් ලියන්න.

- 01) බ්‍රහස්පතින්දා
- 02) සමනළයා (ලකුණු 02)

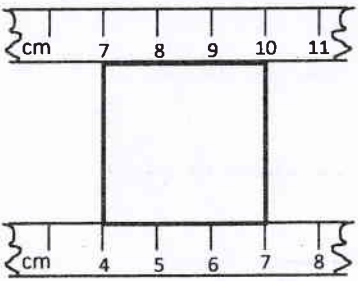
පහතගැටලු විසඳා පිළිතුර තිත්ඉර මත ලියන්න.

15. විසිදහස් එකසිය යන සංඛ්‍යාවට පෙර සංඛ්‍යාව ඉලක්කමෙන් ලියන්න.
 (ලකුණු 02)

16. ගොවියෙක් ගෙනෙන ලද මුං ඇට 497 Kg කින් $\frac{5}{7}$ පංගුවක් විකුණන ලදී. ඔහු ළඟ ඉතිරි වූ මුං ඇට ප්‍රමාණය කොපමණ ද?
 (ලකුණු 02)

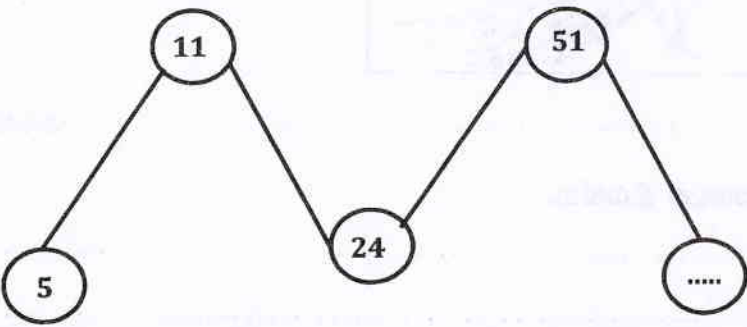
17. නිවසක සාලයේ පිඟන් ගඩොල් ඇල්ලීම සඳහා පිඟන් ගඩොල් 400 ක් අවශ්‍ය වේ. පිඟන් ගඩොල් පෙට්ටියක ඇත්තේ පිඟන් ගඩොල් 20 කි. එම පෙට්ටියක මිල රු.1000 /= කි. පිඟන් ගඩොල් සඳහා යන වියදම කොපමණද ?
 (ලකුණු 02)

18. පහත සඳහන් සමචතුරස්‍රයේ පරිමිතිය කීය ද?

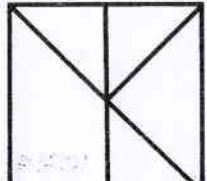


(ලකුණු 02)

19. පහත සංඛ්‍යා රටාවේ ඊළඟට ආ යුතු සංඛ්‍යා රටාව සොයා හිස්තැනෙහි ලියන්න.




(ලකුණු 02)

20.  (1) මෙහි ඇති ත්‍රිකෝණ ගණන කීය ද?
 (2) මෙහි ඇති විශාල ත්‍රිකෝණය කුඩා ත්‍රිකෝණය මෙන් කී ගුණයක් ද?.....

(ලකුණු 02)

21.



මෙහි කුඩා කොටුවක දිග පළල 2 cm ය. මෙහි 16cm² වර්ගඵලයක් සහිත කොටසක් අඳුරු කරන්න.

(ලකුණු 02)

22.

01. පාසල ආරම්භ වන්නේ පෙ:ව: 7.30 ටය. උදෑසන රැස්වීමට විනාඩි 15 ක්ද ශරීර සුවතා සඳහා විනාඩි 25 ක්ද විවේක කාලය සඳහා විනාඩි 20 ක්ද ලැබේ. පාසල අවසන් වන්නේ පස්වරු 1.30 ට නම් පාසලේ පන්ති කාමර ඉගෙනුම් කටයුතු සඳහා ගත කළ කාලය කොපමණ ද?

.....

02. පාසල අවසන් වූ වේලාව පැය විසිහතරේ මරලෝසු වේලාවෙන් ලියන්න.

.....

(ලකුණු 02)

23.

කම්කරුවෙක් දිනකට 12m කාණුවක් කපයි. ඔහුට 30m කාණුවක් කැපීමට දින කීයක් ගතවේ ද?

.....

(ලකුණු 02)

24.

$\frac{1}{4} + \frac{2}{3}$ එකතු කරන්න.

(ලකුණු 02).

25.

පැන්සල් 5	
පොත් 4	රු. 110.00

පැන් 2	
පැන්සල් 5	රු. 150.00
පොත් 4	

පැන් 1	
පැන්සල් 2	රු. 40.00

පොත් 2 පැන්සල් 2 ක් හා පැන් 1 ක් සඳහා යන වියදම කොපමණ ද? රු.

(ලකුණු 02)

26. පහත වගුවේ හිස්තැන් පුරවන්න.

ද්‍රව්‍ය	මිල	දුන් මුදල	ඉතිරි මුදල
අල 1kg	රු. 90.00	රු. 100.00	රු.....(1)
පරිප්පු 1 kg	රු. 160.00	රු. 200.00	රු.....(2)
කඩල 3 kg	රු. 450.00	රු.(3)	රු. 550.00
තේකොළ 1 kg	රු. 275.00	රු.(4)	රු. 225.00

(ලකුණු 04)

27.

මගේ වයස අවුරුදු 9 මාස 05 දින 08 කි. මට වඩා අක්කා අවුරුදු 03 මාස 10 දින 02 ක් වැඩිමල්ය. අක්කාගේ වයස කීය ද ?

අවු.....මාස.....දින.....

(ලකුණු 02)

28.

වරකට 1 බැගින් දිනකට හතර වරක් දින 06ක් සඳහා අවශ්‍ය වන බෙහෙත් පෙත්තක මිල රු. 6.00 කි. අවශ්‍ය වන බෙහෙත් පෙති ප්‍රමාණය මිලදී ගැනීමට කොපමණ මුදලක් අවශ්‍යවේ ද?

.....

(ලකුණු 02)

❖ පහත දැක්වෙන්නේ අපේ රටේ නිදහස වෙනුවෙන් කටයුතු කළ ජන නායකයින් හා කීර්තිනාම නැංවීමට දායක වූ වර්ත කිහිපයකි. 50 - 53 දක්වා ඒ වර්ත තුලින් සිදු වූ සේවාවන් දක්වා ඇත. එහි ඉදිරියෙන් වර්තයට අදාළ අංකය ලියන්න.



01

02

03

04

50. ශ්‍රී ලාංකිකයන්ගේ දේශාභිමානය හැඟීම ජනිත කරවීමට සමත් වූ

()

51. ආදායම් අඩු ශිෂ්‍යයින්ට ශිෂ්‍යත්ව ලබා දීම.

()

52. චන්ද්‍රිකා උපයෝගී කරගෙන පණිවිඩ හුවමාරු කර ගත හැකි බව

()

53. සිංහල ශබ්ද කෝෂය සම්පාදනයට මුලික වූ ක්‍රියා කිරීම

()

54. ශ්‍රී ලංකා සම්පූර්ණයෙන් ඉංග්‍රීසින් යටත් කර ගත් වර්ෂය වනුයේ

- (1)ක්‍රි.ව. 1948 (2)ක්‍රි.ව. 1815 (3)ක්‍රි.ව. 1996 (4)ක්‍රි.ව. 1505

55. E₁යනුවෙන් හඳුන්වන මාර්ගය වනුයේ

- (1)ප්‍රධාන මාර්ගය (2)අතුරු මාර්ගය
(3)දුම්රිය මාර්ගය (4)අධිවේගී මාර්ගය

56. මෙම මාර්ගසංඥාවෙන් අදහස් වනුයේ



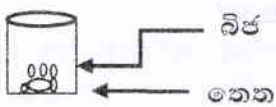
- (1)ළමයින් මාරුවන ස්ථානය (2)පදිකයන් මාරුවන ස්ථානය
(3)පාසලක් ඉදිරියෙන් බව (4)ළමයින් මාරුවන ස්ථානය ඉදිරියෙන් බව

57. පහත දැක්වෙන සරල උපකරණයේ නම වනුයේ

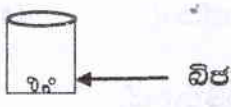


- (1) පෙතේරය (2)සල් අඩිය
(3)නාම්බුව (4) අතංගුව

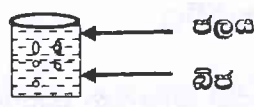
58. පහත දැක්වෙතේ බිජු පැළවෙන ආකාරය අත්හදා බලන ක්‍රියාකාරකමකි. මින් පැළ වන බිජු සාම්පලය වනුයේ



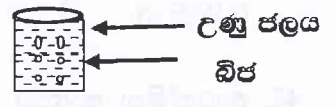
(1) පුළුන්



(2)



(3)



(4)

59. උඩරට නර්තනයේ එන ගාහක වන්නම මගින් අදහස් වනුයේ

- (1)බුම්මැඩිය (2) මඟුල් බෙරය (3)හක්ගෙඩිය (4) වංගෙඩිය

(ලකුණු 30)

60. මුද්දර එකතු කිරීම බාල මහලු හේදයන් නොපවතින දුප්පත් පොහොසත් බොහෝ දෙනා ප්‍රිය කරන විනෝදාංශයකි. මාගේ විනෝදාංශය මුද්දර එකතු කිරීමයි. යන මාතෘකාව යටතේ උක්ත ආබාහන සම්බන්ධ නිවැරදි වූත් අක්ෂර වින්‍යාසය නිවැරදි වනසේ වැකියකට වචන 5කට නොඅඩු වනසේ නිර්මාණාත්මක වැකි 03ක් ලියන්න.

01.

02.

03.

(ලකුණු 06)

පිළිතුරු පත්‍රය - II

(1) අනුරාධපුරය, පොළොන්නරුව (2) පස් පියුමෙන්

(3) තෝපා (4) මී මැස්සෝ / මී මැස්සෝ

(5) නොයෙක් / විවිධ (6) විසිතුරු

(2) (1) දේවයන් වහන්ස මම තනිව ම වැව් පොඩ්ඩක් වැන්දෙමි.

(2) අඝුර වැටී ගෙන එද්දී රැහැයියන්ගේ හඬ ගං ඉවුරෙන් ඇසෙන්නට විය.

(3) (1) X (2) ✓ (4) සිරිබරිනි / සෝබමාන / ධනය / භූමිය

(5) (1) දෘශ්‍යමාන (2) දේශගවේෂක

(6) (1) දෙවැනි නොවන (2) සිත් ගන්නා සුලු.

(7) (1) විශාල නැඹිලියක් වගෙයි. (2) අඬු විහිදා ගත් දැවැන්ත සතෙකු මෙනි.

(8) (1) ඇයි ? ඇයි ? මොකද හා හාමි වුණේ?

(2) හානේ ! විත්යා, ඔයා මොනවද මේ කියන්නේ ?

(9) (1) ගඟෙන් දියබී මුහුදට ආවඩන්නා සේ

(2) ගොළුබෙලි ගමන.

(10) (1) Grapes (2) Peacock

(11) (1) මට පුළුවන්ද පින්තුරයක් බලන්න? (2) මේවා මොනව ද?

(12) (1) Principal (2) Library

(13) (1) බස් යනවා. (2) මම පාඩම් කරනවා.


(14) (1) විශාලත් (2) වණ්ණත්තුප්පුවිච්චි

(15) 20 099 (16) 142 Kg

(17) රු. 20 000.00 (18) 12Cm

(19) 106 (20) 7 4 ගුණයක්

(21)



(22) (1) පැය 5 (2) පැය 13.30

(23) ~~20~~ $2 \frac{1}{2}$

(24) $\frac{11}{12}$

(25) රු. 70.00

(26) (1) රු. 10.00 (2) රු. 40.00 (3) රු. 1000.00 (4) රු. 500.00

(27) අවු. 13 මාස 3 දින 10 (28) රු. 144/-

(29) උතුරු දිශාව

(30) 4 (31) 1 (32) 4 (33) 2 (34) 3 (35) 1 (36) 3 (37) 2 (38) 3 (39) 1 (40) 2 (41) 2

(42) ~~4~~ (43) 1 (44) 3 (45) 2 (46) 2 (47) 1 (48) 3 (49) 1 (50) 2 (51) 3 (52) 4 (53) 1

(54) 2 (55) 4 (56) 4 (57) 2 (58) 1 (59) 3

11-2020-0000

11-2020-0000

11-2020-0000

11-2020-0000

11-2020-0000

11-2020-0000

11-2020-0000

11-2020-0000

11-2020-0000

11-2020-0000

11-2020-0000

11-2020-0000

11-2020-0000

11-2020-0000

11-2020-0000

11-2020-0000

11-2020-0000

11-2020-0000

11-2020-0000

11-2020-0000

11-2020-0000

11-2020-0000

11-2020-0000

11-2020-0000

11-2020-0000

11-2020-0000

11-2020-0000

11-2020-0000

11-2020-0000

11-2020-0000

11-2020-0000

11-2020-0000

11-2020-0000