

සබරගමුව පළාත් අධ්‍යාපන දෙපාර්තමේන්තුව  
 சபரகமுவ மாகாண கல்வித் திணைக்களம்  
 Sabaragamuwa Provincial Department of Education


පළමු වාර පරීක්ෂණය	2018	6 ශ්‍රේණිය
முதலாம் தவணைப் பரீட்சை	2018	தரம் 6
First Term Test	2018	Grade 6

විභූ - I  
 Art - I


පැය 1 යි  
 1 Hour

නම/විභාග අංකය:-.....

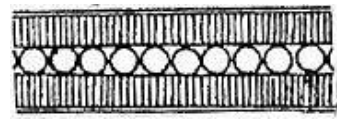
❖ සියළුම ප්‍රශ්නවලට මෙම පත්‍රයේ ම පිළිතුරු සපයන්න.



A



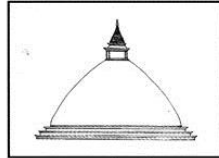
B



C



D



E

- (01) A අක්ෂරයෙන් දැක්වෙන දාගැබේ හැඩය කුමක් ද? .....
- (02) B අක්ෂරයෙන් දැක්වෙන සංකේතය කුමන ආගමකට අයත් වන්නේ ද?.....
- (03) C අක්ෂරයෙන් දැක්වෙන සැරසිළි මෝස්තරය නම් කරන්න. ....
- (04) D අක්ෂරයෙන් ඉන්දියාවේ දක්නට ලැබෙන, ධර්මාගෝක අධිරාජ්‍යයා විසින් නිර්මාණය කරන ලද ස්ථූපය කුමක් ද?  
 .....
- (05) E අක්ෂරයෙන් දැක්වෙන දාගැබේ හැඩය කුමක් ද? .....

❖ හිස්තැන් පුරවන්න.

- (06) දෙවන පැතිස් රජතුමා විසින් අනුරාධපුර යුගයේ දී ඉදිකරන ලද ප්‍රථම ස්ථූපය ..... යි.
- (07) පැස්ටල් පාට පෙට්ටියක වඩාත් ම තද පැහැය හා වඩාත්ම ලා පැහැයන් දෙක වන්නේ ..... වර්ණ දෙකයි.
- (08) ස්ථූපයක ..... බුදුන් වහන්සේලාගේ හා රහතන් වහන්සේලාගේ ධාතුන් නිදන් කරනු ලැබේ.
- (09) ..... යන ද්‍රව්‍ය සිල් මුද්‍රණ ක්‍රමය සඳහා යොදා ගනී.
- (10) විවිධ හැඩ අනුව ප්‍රධාන වෛත්‍ය වර්ග ..... කි.

❖ පහත සඳහන් වචනවලට ගැලපෙන පිංතූරය සොයා යා කරන්න.

(11) වකදෙක



(12) ලියපත



(13) අරිම්බුව



(14) ගල් බිංදුව



(15) කුන්දිරික්කන්



❖ වඩාත් නිවැරදි පිළිතුර තෝරා යටින් ඉරක් අඳින්න.

(16) පහත සඳහන් වර්ණ කාණ්ඩ වලින් මූලික වර්ණ පමණක් ඇතුළත් වන්නේ ,

- i. නිල් , දම්                      ii. රතු , නිල්                      iii. කහ , කොළ(පව්ව)                      iv. නිල් , තැඹිලි(රඹ)

(17) පාසල් සිසුන් සඳහා පහසුවෙන් චිත්‍ර ඇඳීමට භාවිතා කළ හැකි වර්ණ මාධ්‍ය වන්නේ,

- i. පැස්ටල්                      ii. පාට පැන්සල්                      iii. දිය සායම්                      iv. ප්ලැටිනම්

(18) නිර්ජීවී ගනයට අයත් සිංහල සැරසිලි මෝස්තරයක් වන්නේ,

- i. නෙළුම් මල                      ii. ඉර                      iii. පිච්ච මල                      iv. තනිපොට ලණුව

(19) පැරණි සිත්තරුන් තම ගෝලයින් හට ඉගැන් වූ මුල්ම අභ්‍යාසය වන්නේ ,

- i. පනාව                      ii. බිතර මල                      iii. වක දෙක                      iv. ගල් බිංදුව

(20) වෙසක් උත්සවය කුමන බැතිමුතුන්ගේ ප්‍රධාන ආගමික උත්සවයක් වන්නේ ද?,

- i. හින්දු                      ii. කතෝලික                      iii. මුස්ලිම්                      iv. බෞද්ධ

(ලකුණු 2 x 20 = 40)