

முதலாம் தவணைப் பரீட்சை - 2018

சித்திரக்கலை

084

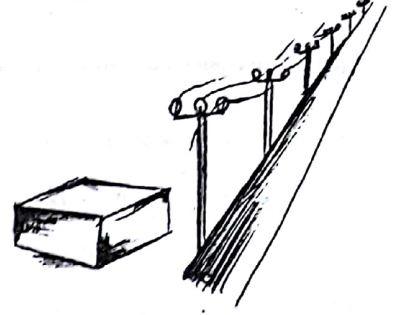
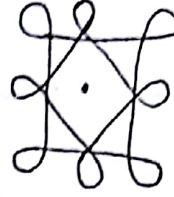
தரம் : 06

கட்டெண் :

நேரம் :- 2 மணித்தியாலம்

பகுதி - I

வினா 1 - 5 வரையான வினாக்களுக்கு பொருத்தமான உருவை தெரிந்து அதன் ஆங்கில எழுத்தை புள்ளிக் கோட்டில் எழுதுக.



01) தைப்பொங்கல் விழாவிற்கு அலங்கரிப்பதை காட்டும் உரு

(.....)

02) தூரதரிசனத்தை காட்டும் உரு

(.....)

03) முப்பரிமாணத்தை காட்டும் உரு

(.....)

04) சமச்சீர் அற்றதை காட்டும் உரு

(.....)

05) உருளை வடிவை காட்டும் உரு

(.....)

06 - 10 வரையான வினாக்களுக்கு பொருத்தமான விடையை எழுதுக

06) வெசாக விழவை கொண்டாடும் மதத்தவர் யார்?

07) வெசாக விழாவிற்கு பள்ளப்படுத்தப்படும் அலங்காரம் 01 தருக?

08) புகைவண்டிப்பாதையை காட்டும் இரேகை எது?

09) வானவில்லைக்காட்டும் இரேகை எது?


10) சிவப்பு + மஞ்சள் வர்ணத்தை காலத்தால் தோன்றும் வர்ணம் எது?

தரம் : 06

01

சித்திரக்கலை

பின்வரும் பகுதிகளைக் குறித்துக் காட்டுக




பின்வரும் வினாக்களுக்கு சரியாயின் (✓) எனவும் பிழையாயின் (X) எனவும் கீடுக

16. குளிர்வரணங்களின் ஒன்று பச்சை ஆகும் (.....)
17. புகை போறதைக் காட்டும் இரேகை அலைஇரேகை ஆகும் (.....)
18. தைப்பொங்கல் கிறிஸ்தவர்களின் பண்டிகை ஆகும் (.....)
19. தாது கோபுரம் பௌத்த மக்களின் வழிபாட்டு தலம் ஆகும் (.....)
20. களிமண்ணினால் இலகுவாக உருவங்கள் செய்யலாம் (.....)

பகுதி II

- 01) முதலாம் தவணை கணிப்பீட்டிற்கு வகுப்பறையில் ஆக்கம் ஒன்று செய்திருப்பீர்
 1. நீர் செய்த ஆக்கத்தின் பெயர் யாது?
 2. நீர் செய்த ஆக்கத்தின் கணிப்பீட்டு கருவி யாது?
 3. நீர் செய்த ஆக்கத்தை பயன்படுத்தும் மதத்தவர் யார்?
 4. நீர் செய்த ஆக்கத்திற்கு பயன்படுத்தப்படும் பொருட்கள் 03 தருக?
 5. நீர் செய்த கணிப்பீட்டினால் பெற்றுக் கொண்ட நன்மைகள் 03 தருக?
- 02) பெட்டி பந்து என்பனவற்றை கீழ்வரும் பெட்டியில் வரைந்து காட்டுக.



பகுதி III

பின்வருவனவற்றில் யாதேனும் ஒன்றை தெரிவு செய்து வர்ணம் தீட்டுக.

1. எங்கள் பாடசாலைத்தோட்டம்
2. பூக்களைப் பளன்படுத்தி பரவுருவ அலங்காரம் வரைக
3. புத்தக முன் அட்டைப் படம் வரைக
4. தாலாட்டும் அம்மா
5. கோலம் ஒன்று வரைக