



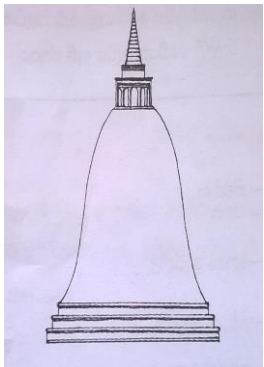
ධර්මදාන විද්‍යාලය - බදුල්ල
 ප්‍රථම වාර පරීක්ෂණය - 2017
 විද්‍යාව.

7 ශ්‍රේණිය

කාලය -: පැය 03යි.


1 කොටස

- සියලුම ප්‍රශ්න සඳහා පිළිතුරු සපයන්න.
- 01 සිට 05 දක්වා රූප සටහන් හඳුනාගෙන, අදාළ නම තිත් ඉර මත ලියන්න,




1)

..




2)




3)

..



4)



5)

පහත වගුව සම්පූර්ණ

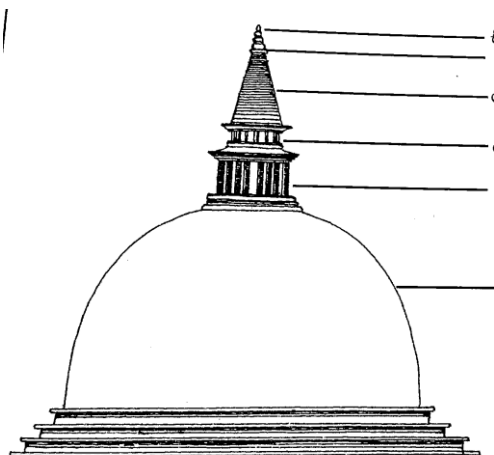
වෛත්‍යයේ නම	ඉදි කළ දිනය	හැඩය
06. ට්‍රිපාරාමය		
07. රුවන්වැලි සෑය		
08. අභයගිරිය		
09. ජේතවනාරාමය		
10. කැලණි විහාරය		

- ගැලපෙන වචන යොදා හිස්තැන් සම්පූර්ණ කරන්න.

(සයාකාර , රුවන්වැලිසෑය , උත්තර , ට්‍රිපාරාමය , බුබුලාකාර)

11. ශ්‍රී ලංකාවේ ඉදි වූ මුල්ම වෛත්‍ය ලෙසහඳුන්වයි.
12. අනුරාධපුර යුගයට අයත් අභයගිරි ස්ථූපය වෛත්‍ය යන නාමයෙන්ද හඳුන්වයි.
- 13 පොළොන්නරු යුගයට අයත් රන්කොතවෙහෙර හැඩයෙන් යුක්ත වේ.
- 14 ශ්‍රී ලංකාවේ ඇති විශාලතම වෛත්‍ය අතරින් එකක් වන අඩි 350ක් පමණ උස වේ.
15. කලයක් මුනින් අතට නැමූ හැඩය ඇති වෛත්‍ය වෛත්‍ය ලෙස හඳුන්වයි.

- පහත ස්ථූපයේ කොටස් නම් කරන්න.



11 කොටස

- (අ) හා (ආ) යන කොටස් දෙකෙන් එක් කොටසකින් මාතෘකාවක් තෝරා ගෙන සිතුවමක් අඳින්න.

(අ)

1. වැසි දිනක්
2. සෙල්ලම් ගෙදර සෙල්ලම් කරන අපි
3. අයිස්ක්‍රීම් වෙළෙන්දා ගමට ඇවිල්ලා

(ආ)

1. ළමා කතාන්දර පොතකට සුදුසු පිටකවරයක්
2. ළමා ඇඳ ඇතිරිල්ලකට සුදුසු මෝස්තරයක්