


1. බලය (දෛශික/ අදෛශික) රාශියකි. එනම් හා ක් ඇත.

නිව්ටන් 1 නියමය

2. බාහිර අසමතුලිත බලයක් යෙදෙන තුරු,

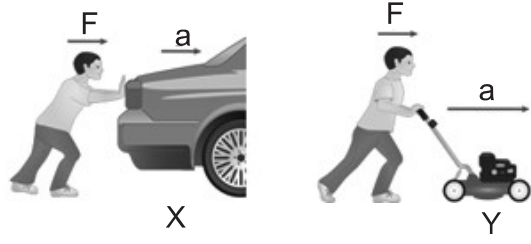
- නිශ්චල වස්තුවක් පවතින අතර,
- චලනය වන වස්තුවක් චලනය වේ.



3. නිව්ටන්ගේ පළමු නියමය ඇසුරින් පහදන්න.
 - i. වාහනයක තිරිංග තද කළ විට මගියා ඉදිරියට විසි වීම.
.....
 - ii. වාහන වල ආසන පටි යෙදීමේ අවශ්‍යතාවය
.....
 - iii. නිශ්චල රථයක් ගමන ආරම්භ කරන විට මගියා පසු පසට වැටීම.
 - iv. කැරම් ඩිස්කයට පහරක් එල්ල කළ විට නොනැවතී ගමන් නොකිරීම.



4. i. වඩා විශාල බලයක් යෙදිය යුත්තේ මෙහි කුමන වස්තුව චලනය කිරීම ද?
- ii. ඔබේ පිළිතුරට හේතුව කුමක්ද?
.....
.....



1. බාහිර අසංතුලිත බලයක් යෙදූ විට වස්තුවක් වේ.

නිව්ටන් 2 නියමය :

2. වස්තුවක ඇතිවන ත්වරණය,
 - එයට යොදනු ලබන බාහිර බලයට අනුලෝමව සමානුපාතික වන අතර,
 - වස්තුවේ ට ප්‍රතිලෝමව සමානුපාතික වේ.

3. බාහිර අසංතුලිත බලය වැඩි වන විට ත්වරණය (අඩු/වැඩි) වේ.
4. බාහිර අසංතුලිත බලය අඩු වන විට ත්වරණය (අඩු/වැඩි) වේ.
5. එකම බාහිර අසංතුලිත බලය, ස්කන්ධය වැඩි වස්තුවක් මත ක්‍රියා කරන විට ත්වරණය (අඩු/වැඩි) වේ.
6. එකම බාහිර අසංතුලිත බලය, ස්කන්ධය අඩු වස්තුවක් මත ක්‍රියා කරන විට ත්වරණය (අඩු/වැඩි) වේ.
7. $F = ma$ පද හඳුන්වන්න. $F =$ $m =$ $a =$
8. $F = ma$ ඒකක දක්වන්න. $F =$ $m =$ $a =$

9. නිව්ටන් 2 නියමය අනුව පහත අවස්ථාවලට අදාළව ගණනයන් සිදුකර හිස්තැන් පුරවන්න.

a.

$F_{air} = 0.10 \text{ N}$
 $F_{grav} = 0.10 \text{ N}$
 $m = \underline{\hspace{2cm}}$
 $a = \underline{\hspace{2cm}}$
 $\Sigma F = \underline{\hspace{2cm}}$

b.

$F_{air} = \underline{\hspace{2cm}}$
 $F_{grav} = \underline{\hspace{2cm}}$
 $m = 10000 \text{ kg}$
 $a = 8.0 \text{ m/s/s, down}$
 $\Sigma F = \underline{\hspace{2cm}}$

c.

$F_{air} = \underline{\hspace{2cm}}$
 $F_{grav} = \underline{\hspace{2cm}}$
 $m = 800 \text{ kg}$
 $a = 6.0 \text{ m/s/s, up}$
 $\Sigma F = \underline{\hspace{2cm}}$

d.

$F_{norm} = 10\,000 \text{ N}$
 $F_{grav} = 10\,000 \text{ N}$
 $F_{frict} = 9000 \text{ N}$
 $m = \underline{\hspace{2cm}}$
 $a = \underline{\hspace{2cm}}$
 $\Sigma F = \underline{\hspace{2cm}}$

e.

$F_{norm} = \underline{\hspace{2cm}}$
 $F_{app} = \underline{\hspace{2cm}}$
 $F_{grav} = \underline{\hspace{2cm}}$
 $m = 0.500 \text{ kg}$
 $a = \underline{\hspace{2cm}}$
 $\Sigma F = 124 \text{ N, right}$

f.

$F_{norm} = 9000 \text{ N}$
 $F_{app} = \underline{\hspace{2cm}}$
 $F_{grav} = 9000 \text{ N}$
 $m = \underline{\hspace{2cm}}$
 $a = 1.50 \text{ m/s/s, right}$
 $\Sigma F = \underline{\hspace{2cm}}$

g.

$F_{norm} = \underline{\hspace{2cm}}$
 $F_{grav} = \underline{\hspace{2cm}}$
 $m = 15.0 \text{ kg}$
 $a = 0.50 \text{ m/s/s, right}$
 $\Sigma F = \underline{\hspace{2cm}}$

h.

$F_{norm} = 600 \text{ N}$
 $F_{frict} = 100 \text{ N}$
 $F_{grav} = 600 \text{ N}$
 $m = \underline{\hspace{2cm}}$
 $a = \underline{\hspace{2cm}}$
 $\Sigma F = \underline{\hspace{2cm}}$

i.

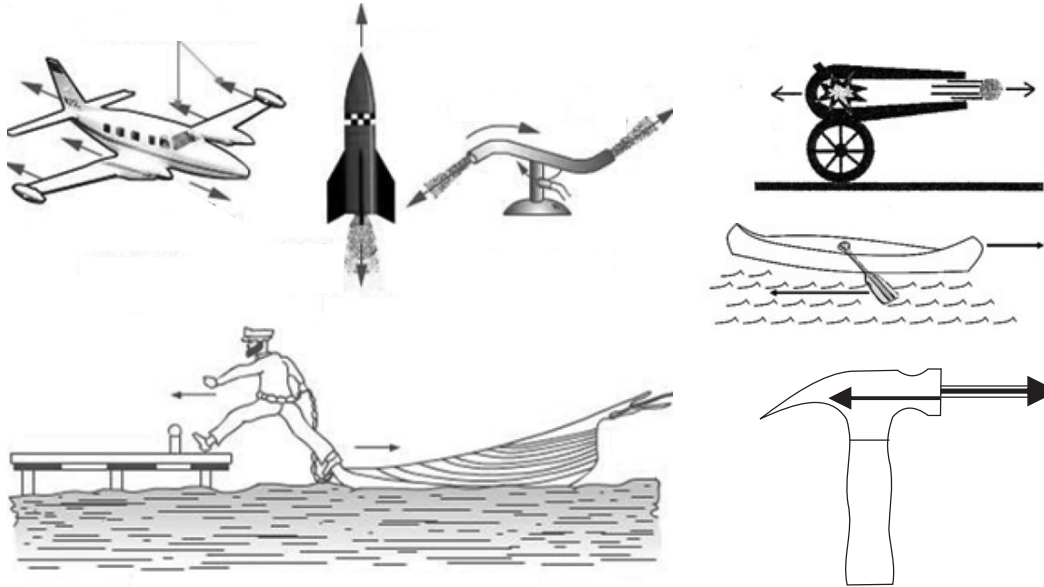
$F_{norm} = \underline{\hspace{2cm}}$
 $F_{app} = 14000 \text{ N}$
 $F_{grav} = \underline{\hspace{2cm}}$
 $m = 2000 \text{ kg}$
 $a = 2.0 \text{ m/s/s, right}$
 $\Sigma F = \underline{\hspace{2cm}}$

- යම් වස්තුවක් මගින් තවත් වස්තුවක් මත ඇති කරන බලය ලෙසද දෙවන වස්තුව මගින් පලමු වස්තුව මත ඇති කරන බලය ලෙසද හඳුන්වයි.

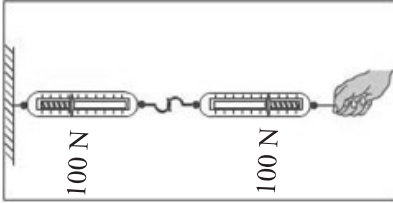
නිව්ටන් 3 නියමය:

- සෑම ක්‍රියාවකටම විභාලත්වයෙන් වූත් ප්‍රතිවිරුද්ධ වූත් ක් ඇත.

3. නිව්ටන් 3 නියමය අනුව පහත අවස්ථාවල ක්‍රියාව හා ප්‍රතික්‍රියාව නම් කරන්න.



4. i. මෙම රූප සටහනේ ක්‍රියාව හා ප්‍රතික්‍රියාව නම් කරන්න.
- ii. මෙම රූපයේ එක් එක් අවස්ථාවේ පාඨාංකය කොපමණ වේද?
 - A. B.
- iii. එම පාඨාංක සමාන ද? අසමානද? හේතු පහදන්න.
.....
- iv. මෙම පාඨාංක දක්වා ඇති ඒකකය කුමක්ද?
.....



ගම්‍යතාවය

1. ගම්‍යතාවය යනු කුමක්ද?
2. $P = mv$ පද හඳුන්වන්න. $P = \dots\dots\dots m = \dots\dots\dots v = \dots\dots\dots$
3. $P = mv$ ඒකක දක්වන්න. $p = \dots\dots\dots m = \dots\dots\dots v = \dots\dots\dots$
4. \sqrt{X} යොදන්න.
 - i. ගම්‍යතාවය = $\frac{\text{වස්තුවක ස්කන්ධය}}{\text{ප්‍රවේගය}}$ (.....)
 - ii. වස්තුවක ගම්‍යතාවය වෙනස් විය හැකිය. (.....)
 - iii. ස්කන්ධය සමාන වස්තු 2 ක ගම්‍යතාවය සැමවිටම සමානයි. (.....)
 - iv. චලනය වන සියළුම වස්තූන්ට ගම්‍යතාවයක් නැත. (.....)
 - v. වස්තුවක වේගය වැඩි වන විට එහි ගම්‍යතාවය වැඩි වේ. (.....)
 - vi. ස්කන්ධය වෙනස් වස්තු 2 කට සමාන ගම්‍යතාවයක් තිබිය නොහැක. (.....)
 - vii. ගම්‍යතාව සෙවීමේ දී දිශාව අදාළ නැත (.....)
 - viii. ගම්‍යතාවය එක් වස්තුවක සිට වෙනත් වස්තුවකට සම්ප්‍රේෂණය විය හැක. (.....)
 - ix. වස්තු ගැටෙන විට ගම්‍යතාවයෙන් කොටසක් හානි වී යයි. (.....)
 - x. කුඩා උණ්ඩයක, විශාල උක් රථයකට වඩා වැඩි ගම්‍යතාවයක් තිබිය හැක. (.....)

5. i. පහත දත්ත ඇසුරින් වගුව සම්පූර්ණ කරන්න.

වස්තුව	ස්කන්ධය (Kg)	ප්‍රවේගය (m/s)	ගම්‍යතාවය (kg-m/s)
කුරුල්ලා	0.04	19	0.75
පාපන්දු ක්‍රීඩකයා	100	10	
හිම මත ලිස්සා යන්නා	60	20	
උණ්ඩය	0.004	600	
ගෙම්බා	0.9	12	
උල්කාව	0.1	1,000	
පන්දුව	0.14	30	
කරන්තය	2	3	
වන්දිකාව	3,000	8,000	

ii. ඉහත වස්තු ඒවායේ ගම්‍යතාවය ආරෝහණය වන ආකාරයට ලියා දක්වන්න.

.....

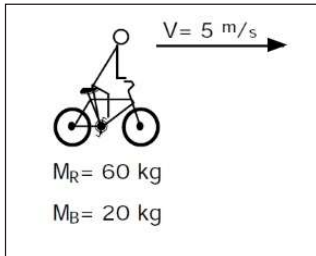
iii. ඔබ මෙවැනි අනුපිළිවෙලක් අපේක්ෂා කළාද? (ඔව්/නැත) ඔබගේ පිළිතුරට හේතුව දක්වන්න.

.....

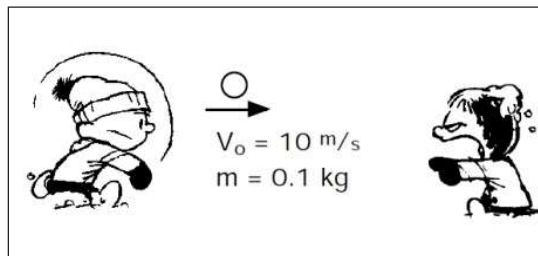
iv. ඉහත වස්තු සැමවිටම එම අනුපිළිවෙල දක්වනු ඇතැයි අපේක්ෂා කල හැකි ද? (ඔව්/නැත) ඔබගේ පිළිතුරට හේතුව?

.....

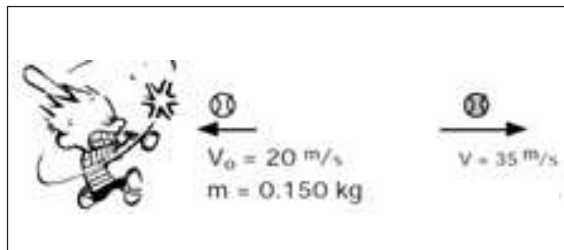
6. පහත අවස්ථා වල ගම්‍යතාවය ගණනය කරන්න.



පා පැදිය -
 පා පැදි කරුවා -



බෝලය -



බෝලය - පෙර අවස්ථාව -
 බෝලය - පසු අවස්ථාව -