



மாணவர்களைப் பாடசாலைக்குத் தேர்ந்தெடுப்பதற்கும் மாணவர்களுக்கு உதவிப்பணம் வழங்குவதற்குமாகத் தரம் ஐந்து மாணவர்களுக்கு நடத்தப்படும் பரீட்சைக்கான வழிகாட்டல்.

## வினாத்தாள் - II

7

1 மணித்தியாலம் 15 நிமிடம்

சுட்டெண் .....

பரீட்சைக்குத் தோற்றும் உங்களுக்குரிய அறிவுறுத்தல்கள்.

- ★ உங்கள் சுட்டெண்ணை மேற்குறித்த அடைப்பினுள்ளே இருக்கும் புள்ளிக்கோட்டின் மீது எழுதுங்கள்.
- ★ மூன்றாம் பக்கத்தில் குறித்த இடத்திலும், உங்கள் சுட்டெண்ணை எழுதுக.
- ★ இவ்வினாத்தாளில் 60 வினாக்கள் உள்ளன. எல்லா வினாக்களுக்கும் உரிய விடைகளை இவ்வினாத்தாளிலேயே எழுதுக.
- ★ நான்கு விடைகள் தரப்பட்டுள்ள வினாக்களில் சரியான விடையைத் தெரிவு செய்து அதன் கீழ்க் கோடிடுக.
- ★ விடைகள் எழுதப்படவேண்டிய வினாக்களின் விடைகளைப் புள்ளிக்கோட்டின் மீது எழுதுக.
- ★ செய்கை வேலைக்காக ஒருதாள் வழங்கப்படும்.

## விடைத்தாள் பரீட்சகர்களுக்கு மாத்திரம்

பக்க இலக்கம்	பெற்ற புள்ளிகள்	ஒப்பம்
02		
03		
04		V/II/T/
05		
06		V/II/T/
07		
08		
மொத்தம்		V/II/T/EMF/
இறுதிப்புள்ளிகள்		
இலக்கத்தில்		
எழுத்தில்		V/II/T/CH/

❖ பின்வரும் பந்தியை நன்றாக வாசிக்க.

01) தேநீர் உலகில் பலரால் விரும்பி அருந்தப்படும் சுவையம் மணமும் உள்ள ஒரு பானம் உற்சாகம் பெறுவதற்காகவும், விருந்தினரை உபசரிப்பதற்காகவும் தேநீர் பயன்படுத்தப்படுகின்றது. தேயிலை ஆயிரத்து எண்ணூற்று அறுபத்தேழாம் ஆண்டு அங்கிலேயரால் நமது நாட்டுக்கு அறிமுகம் செய்யப்பட்டது. கண்டிக்கு அண்மையிலுள்ள “லூல்கந்தர்” என்றமிடத்திலேயே முதன் முதலாகத் தேயிலைத் தோட்டம் உருவாக்கப்பட்டது.

❖ கேட்கப்பட்ட வினாக்களுக்கரிய விடைகளைப் பந்தியிலிருந்து தெரிந்தெடுத்து எழுதுக.

i. தேநீர் பயன்படுத்தவதற்கான காரணம் ஒன்றை எழுதுக.

.....

ii. தேயிலையை நமது நாட்டக்க அறிமுகம் செய்தவர்கள் யார்?

.....

iii. “சோம்பல்” என்பதன் எதிர்கருத்துச் சொல்லை எழுதுக.

.....

iv. விசிறியும் சுழியும் கொண்ட எழுத்தையுடைய சொல்லை எழுதுக.

.....

v. பந்தியில் குறிப்பிடப்படம் இணைமொழியை எழுதுக.

.....

vi. “அண்மையிலுள்ள” என்பதைப் பிரித்தெழுதுக.

.....

(6 x 1 = 06 புள்ளிகள்)

02) சரியாக எழுத்துக் கூட்டப்பட்டுள்ள சொல்லைத் தெரிவு செய்து அதன் கீழ்க் கோடிக.

i. கம்பலம் , கம்பளம் , கம்பழம்

ii. மழைக்குன்று , மளைக்குன்று , மலைக்குன்று

(2 x 1 = 02 புள்ளிகள்)

03) கீழே தரப்பட்டுள்ள வாக்கியங்களில் இருக்கும் வெற்றிடத்திற்குப் பொருத்தமான சொல்லை அடைப்புக்குள் இருந்து தெரிவு செய்து அதன் கீழ்க் கோட்டுக.

i. ஆதவனை அழைத்துக் கொண்டு ..... (வந்தான் / வந்தார்கள்)

ii. சிறந்த ..... (நூல் / நூல்கள்) நல்ல நண்பர்களைப் போன்றன.

iii. இசையை அனுபவித்த வண்ணம் குழந்தை .....

(உறங்குகின்றது / உறங்குகின்றன)

iv. ஒவ்வொரு ..... (பழமாகச் பழங்களாகச் ) சுவைத்து உண்மான்.

(4 x 1 = 04 புள்ளிகள்)

04) கீழே தரப்பட்டுள்ள வாக்கியங்களைப் பூரணப்படுத்துக.

i. மயில் அகவும் அது போல பாம்பு .....

ii. யானையின் பெண் பிடி அது போல மானின் பெண் .....

(2 x 1 = 02 புள்ளிகள்)

05) பழமொழிகளைப் பூரணப்படுத்துக.

ஓட்டைச் சட்டியானாலும் .....

(1 x 1 = 01 புள்ளிகள்)

06) கீழே தரப்பட்டுள்ள சொற்றொடருக்குரிய தனிச்சொல்லை புள்ளிக்கோட்டில் எழுதுக.

ஒரு நூலுக்கு நூலாசிரியர் தவிர்ந்த பிறர் வழங்கும் புகழரை

..... (1 x 1 = 1 புள்ளி)

07) கீழே தரப்பட்டுள்ள வாக்கியங்களில் இருக்கும் வெற்றிடத்திற்குப் பொருத்தமான சொல்லை அடைப்புக்குள் இருந்து தெரிவு செய்து அதன் கீழ்க் கோடிடுக.

i. படித்தவரது அருமை பெருமைதனை அறிந்து அவர்களுக்கு மரியாதை செய்ய வேண்டும்.

தடித்த எழுத்திலுள்ள இணைமொழியின் கருத்து ..... (கடின உழைப்பு / மிகச்சிறப்பு) என்பதாகும்.

ii. அவர்கள் சுற்றுலா சென்றனர். இங்கு அவர்கள் என்பது (படர்க்கைப் பன்மைச் / முன்னிலை பன்மைச்) சொல்லாகும்.

iii. தான் நினைத்த கருமத்தை நிறைவேற்றுவதற்குப் பிடிவாதம் செய்தல் என்பதை (ஒற்றைக்காலில் நின்றல் / உறுதியாய் நின்றல்) என்னும் மரபுத்தொடர் உணர்த்துகின்றது.

(3 x 1 = 03 புள்ளிகள்)

08. கீழே தரப்பட்டுள்ள பாடலில் உள்ள வெற்றிடத்தைப் பூரணப்படுத்துக.

i. சத்தமே என்றும் சுகம் அளிக்கும் தீய .....

ii. இத்தரை வாழ்வைப் பெருக்கும் அம்மா! - அதற்கு .....

(2 x 1 = 2 புள்ளிகள்)

09. கீழே தரப்பட்டுள்ள கவிதையை வாசித்து கேட்கப்பட்டுள்ள வினாவுக்குரிய விடையைப் புள்ளிக்கோட்டில் மீது எழுதுக.

i. இடர்வரும் போதும் - உள்ளம்

இரங்கிடும் போதும்

உடன் பிறந்தவர் போல் - மாந்தர்

உறவு கொள்வர் அப்பா

- தேசிக விநாயகம்பிள்ளை

இப் பாடலில் வரும் உவமானத்தை எழுதுக.

.....

10. பின்வரும் வாக்கியத்திற்குப் பொருத்தமான குறியீடுகளை இடுக.

i) அதோ அண்ணா ஓர் ஆச்சிரமம் தெரிகிறது (1 x 1 = 1 புள்ளி)

11. கீழே தரப்பட்டுள்ள ஆங்கிலச் சொல்லிற்குரிய தமிழ்ச் சொல்லை எழுதுக.

i) Airport : .....

ii) தரப்பட்ட பழத்தின் ஆங்கிலப் பெயரை ஆங்கில எழுத்துக்களில் எழுதுக.



.....

(2 x 1 = 2 புள்ளிகள்)

12. கீழே தரப்பட்டுள்ள ஆங்கில வாக்கியங்களில் உள்ள வெற்றிடத்திற்குப் பொருத்தமான சொல்லை அடைப்புக்குள் இருந்து தெரிவு செய்து அதன் கீழ்க் கோடிடுக.

i) Where ..... (is/her) you going?

ii) I will ..... (come . coming) tomorrow

(2 x 1 = 2 புள்ளிகள்)

13. பின்வரும் வாக்கியம் ஆங்கிலத்தில் சொல்லப்படும் விதத்தில் ஆங்கில எழுத்துக்களில் எழுதுக.

நீங்கள் எங்கே வசிக்கின்றீர்கள்? .....

14. பின்வரும் சிங்களச் சொல்லின் கருத்தை தமிழில் எழுதுக.

பிஹிய :- .....

15. பின்வரும் வாக்கியம் சிங்களத்தில் சொல்லப்படும் விதத்தை தமிழில் எழுதுக.

நான் வருகிறேன் :- .....

16. அதிபர் பாடசாலை காலை கூட்டத்தின் போது சுற்றுப்புறச் சூழலைப் பாதுகாப்பதன் அவசியம் பற்றி எடுத்துக் கூறினார். அந்த நேரத்தில் நான் அதன் அவசியம் பற்றி நன்கு உணர்ந்து கொண்டேன். எதிர்காலத்தில் நான் சுற்றுப்புறச் சூழலை பாதுகாப்பது தொடர்பாக மேற்கொள்ள இருக்கும் செயற்பாடுகள்” என்னும் தலைப்பில் மூன்று வாக்கியங்கள் எழுதுக.

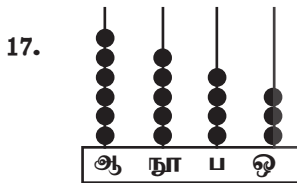
(ஒவ்வொரு வாக்கியத்திலும் ஐந்து சொற்களுக்கு மேல் இடம்பெற வேண்டும், எழுவாய் பயனிலைத் தொடர்புகளும் எழுதுக. கூட்டுலும் சரியாக இருக்க வேண்டும்)

i) .....

ii) .....

iii) .....

தரப்பட்ட வெற்றிடங்களில் விடைகளை எழுதுக.



17. இந்த எண்சட்டத்தில் வகைக் குறிக்கப்படும் எண்ணை சொற்களில் எழுதுக.

.....

18. i) பூக்களின் எண்ணிக்கையை உரோமன் எண்ணில் எழுதுக.

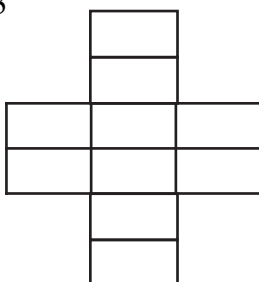
.....

ii) உரோமன் எண்களை இறங்குவரிசையில் எழுதுக.

xv , x , ix , xi, .....

19. i)  $\frac{2}{3}$  இன் சமவலுப்பின்னத்தை எழுதுக. ....

ii)



உருவில் நிறந் தீட்டப்படாத பகுதி 0.6 ஆக இருக்குமாறு ஏனைய பகுதிகளுக்கு (பென்சிலால் அல்லது பேனையால்) நிறந் தீட்டுக.

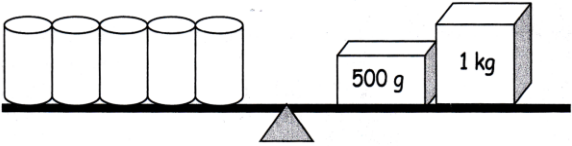


20. இந்த உருவின் சமச்சீர் அச்சுக்களை வரையலாம்.

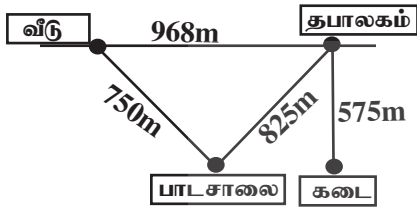


21. 675 வளையல்களை பிள்ளையொன்றுக்கு 6 வளையல்கள் வீதம் எத்தனை பிள்ளைகளுக்குப் பகிர்ந்தளிக்க முடியும்? .....எஞ்சுவது எத்தனை? .....

22. குமரன் பிற்பகல் 10.30 இற்கு நித்திரைக்குச் சென்று அடுத்த நாள் முற்பகல் 5.30 இற்கு விழித்தெழுந்தான். அவன் எவ்வளவு நேரம் நித்திரை செய்தான். ....

23.  தராசின் இரண்டு பக்கங்களும் நிறையால் சமமாகும் எனின் 1 உருளைக்குற்றியின் நிறைய யாது? .....

24. பின்வரும் படத்தைப் பார்த்து அதன் கீழுள்ள வினாக்களுக்கு விடை எழுதுங்கள்.



i) வீட்டிலிருந்து தபாலகம் ஊடாக கடை வரையிலான தூரம் எவ்வளவு? .....

ii) தபாலகத்திற்கு எத்திசையில் பாடசாலை அமைந்துள்ளது? .....

iii) கோகுலன் வீட்டிலிருந்து பாடசாலைக்கச் அங்கிருந்து தபாலகம் சென்று பின்பு கடைக்குச் சென்றான் எனின் அவன் பயணித்த மொத்ததூரத்தை Km , m இல் தருக.  
..... Km , .....m

25. பின்வரும் உருவில் உள்ள இரு குற்றுக்களுக்கிடையே உள்ள தூரம் 1cm ஆகும்.



i) உரு A இன் சுற்றளவு யாது? .....

ii) உரு B இன் பரப்பளவு யாது? .....

26. பின்வரும் விலைப்பட்டியலைப் பார்த்து வினாக்களுக்கு விடை எழுதுக.

விலைப்பட்டியல்

பால்மாப் பைக்கற்று ஒன்று	ரூபாய்	275.00
சீனி 1kg	ரூபாய்	90.00
பருப்பு 1kg	ரூபாய்	120.00
சவர்க்காரக்கட்டி	ரூபாய்	38.00

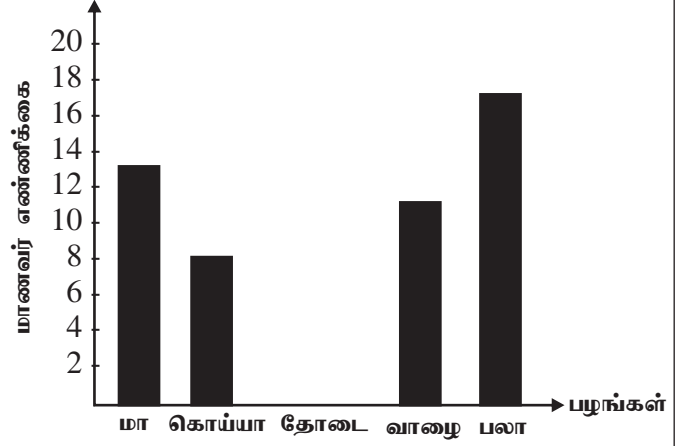
i) கமலன் 2kg பருப்பும் 4 சவர்க்கட்டியும் வாங்கினான். அவன் செலுத்திய பணம் எவ்வளவு?  
.....

ii) அருண் பால்மா பைக்கற் இரண்டும், 2kg 500g சீனியும் வாங்கிக் கொண்டு ரூபாய் 1000.00 ஐக் உரிமையாளருக்கு கொடுத்தால் கிடைக்கும் மீதிப்பணம் எவ்வளவு? .....

27. 4l 250 ml தேனை 125 ml கொண்ட எத்தனை போத்தல்களில் அடைக்கலாம்? .....

28. ஒரு வகுப்பில் உள்ள மாணவர்கள் அதிகம் விரும்பும் பழங்கள் பற்றிய விபரம் அட்டவணையிலும் நிரல் வரைபிலும் காட்டப்பட்டுள்ளது.

பழங்கள்	மாணவர் எண்ணிக்கை
மா	13
கொய்யா	8
தோடை	9
வாழை	10
பலா	.....



i) அட்டவணையிலும், வரைபிலும் வெற்றிடங்களைப் பூர்த்தி செய்க.

ii) மாணவர்கள் எண்ணிக்கை அடிப்படையில் அதிகம் விரும்பும் பழத்திற்கும் குறைவாக விரும்பும் பழத்திற்கு இடையே வித்தியாசம் யாது? .....

29. உருளை, கோளம் என்பவை பற்றிய கூற்றுக்களில் வெற்றிடத்தைப் பூர்த்தி செய்க.

i) கோளம்

கோளத்திற்கு ....., ..... என்பன இல்லை

அதற்கு வளைந்த ..... உண்டு

ii) உருளை

உருளைக்கு ..... சமமான முகங்களும், ஒரு வளைந்த ..... உண்டு.

❖ 31 தொடக்கம் 60 வரையுள்ள ஒவ்வொரு வினாவுக்கும் பொருத்தமான விடையைத் தரப்பட்டுள்ள விடைகளில் இருந்து தெரிவு செய்து அதன் கீழ்க் கோடிடுக.

31. வெள்ளை நிறப்பூக்களை உருவாக்கும் தாவரம் எது?

- 1) பூசனி                      2) பாகல்                      3) வெண்டி                      4) மிளகாய்

32. பல வித்துக்களைக் கொண்ட பழம்

- 1) மா                              2) றம்புட்டான்                      3) தோடை                      4) நெல்லி

33. மருந்தாகப் பயன்படும் இலைவகை அல்லாதது

- 1) வேப்பமிலை                      2) கற்பூரவள்ளி                      3) சாத்தவாரி                      4) அலரிஇலை

34. தாவரத்தின் பூவில் வந்திருந்து, அதிலுள்ள உணவை உட்கொள்ளும் பிராணி

- 1) மயிர்க்கொட்டி                      2) குளவி                      3) வெட்டுக்கிளி                      4) நத்தை

35. காற்றின் மூலம் பரவலடையும் வித்துக்களை மாத்திரம் கொண்ட கூட்டம்

- 1) சிறகவரை, எருக்கலை, காசித்தும்பை  
2) எண்ணெய்வித்து, எருக்கலை, சீதேவியார் செங்கழுநீர்  
3) புலிநகம், குன்றிமணி, பஞ்சுவித்து  
4) முருங்கை, மகோகனி, வேம்பு

36. தலதா மாளிகை எந்த கலைப்படைப்புக்களுக்கு வரலாற்றுச் சிறப்புமிக்கது

- 1) ஓவியம்                      2) நடனக்கலை                      3) செதுக்கல் வேலைக்கலை                      4) சுவர்ச்சித்திரம்

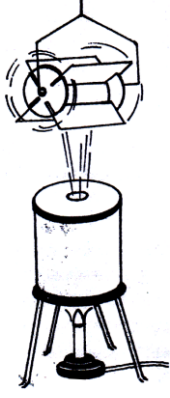
37. இலங்கைக்கு எத்திசையில் ஆபிரிக்க நாடுகள் உள்ளன.

- 1) வடக்கு                      2) தெற்கு                      3) கிழக்கு                      4) மேற்கு

38. எமது உணவின் மீது நடக்கும் போதும் உணவை நக்கும் போதும் நோய்க்கிருமிகளைக் கொண்டுவரும் பிராணி

- 1) நுளம்பு                      2) வண்ணத்துப்பூச்சி                      3) ஈ                      4) தேன்

39.



இங்கு காட்டப்படும் சுழல்தட்டு இயங்குவதற்குரிய சக்தியை வழங்குவது?

- 1) காற்று  
2) வெப்பம்  
3) கொதிநீராவி  
4) நீர்

40. கூடைப்பந்தாட்டம், வொலிபோல் ஆகிய விளையாட்டுக்களில் ஒரு குழுவில் விளையாடும் வீரர்களின் எண்ணிக்கை முறையே

- 1) 6 , 7  
2) 5 , 6  
3) 7 , 6  
4) 11 , 6

41. தேசப்படத்தில் கடல், புகைவண்டிப்பாதை என்பவற்றைக் காட்டும் நிறங்கள் முறையே

- 1) சிவப்பு, நீலம்  
2) நீலம், கறுப்பு  
3) பச்சை, நீலம்  
4) கபிலம், கறுப்பு

42. உடலுக்கு சக்தியை வழங்குவதில் கூடிய பங்களிப்புச் செய்யும் உணவுப் பொருள்களின் கூட்டம்

- 1) சோறு, சீனி, எண்ணெய்  
2) பருப்பு, மாம்பழம் , வல்லாரை  
3) அன்னாசி , பயறு , தூதுவளை  
4) இறைச்சி , சோயா அவரை , பசளி

43. இலங்கை சமூக சீர்திருத்த சங்கத்தைத் தொடங்கிவரும் சிலோன் நஷனல் ரிவீவ் என்னும் சஞ்சிகையின் ஆசிரியராகவும் செயற்பட்டவர்

- 1) சேர்.டீ.பி.ஜயதிலக்க  
2) சேர்.ஆதர்.சி.கிளாக்  
3) கலாநிதி ரீ.பி.ஜாயா  
4) கலாநிதி ஆனந்த குமாரசுவாமி

44. இந்த உடுத்தொகுதியின் பெயர் யாது?

- 1) பெருங்கரடி  
2) விருட்சிகம்  
3) ஓராயன்  
4) சிறுகரடி

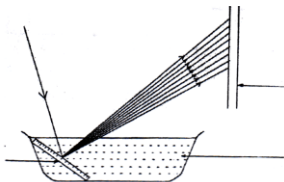
45. இலங்கையில் தற்போது சாதாரண கடிதமொன்றில் ஒட்ட வேண்டிய முத்திரைப் பெறுமதி

- 1) ரூபாய் 10.00  
2) ரூபாய் 15.00  
3) ரூபாய் 20.00  
4) ரூபாய் 35.00

46. வித்து ஒன்று முளைப்பதற்கு அவசியமான காரணிகள் மூன்றையும் உள்ளடக்கிய விடை

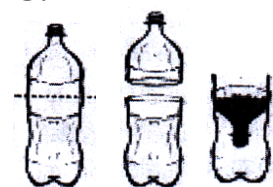
- 1) சூரியஒளி, வெப்பம், வளி  
2) வெப்பம், வளி, நீர்  
3) நீர், சூரியஒளி , வளி  
4) பசளை, மண், சூரியஒளி

45. சூரியஒளியில் உள்ள நிறங்களை அவதானிப்பதற்கான ஒரு செயற்பாட்டைத் தரம் 5 மாணவர்கள் செய்தனர். அந்த செயற்பாட்டில் பயன்படுத்தப்பட்ட உபகரணங்கள் கீழே காட்டப்பட்டுள்ளன. அதில் A, B ஆகிய குறிப்பது முறையே




- 1) அடிமட்டம், மரம்  
2) முகம் பார்க்கும் கண்ணாடி, திரை  
3) முகம் பார்க்கும் கண்ணாடி, குழாய்  
4) கண்ணாடித்தட்டு, சுவர்

46. மாதிரி நீர் வடிகட்டியொன்றை அமைக்கும் போது பெரிய பிளாஸ்திக் போத்தலின் புனல் போன்ற பகுதியின் வாயை சிறைப்படுத்த (அடைக்க) உதவும் பொருள்



- 1) கல்  
2) மணல்  
3) பஞ்சு  
4) கடதாசி

47. அலுமினியப் பாத்திரத்தில் சமைத்த உணவுடன் சேர்க்கக் கூடியது எது?  
1) எலுமிச்சம்பழச்சாறு 2) புளியம்பழச்சாறு 3) வினாகிரி 4) மிளகு
48. நீருள்ள பாத்திரம் ஒன்றினுள் பனிக்கட்டிகளை இட்ட பின்பு அவதானிக்கக் கூடிய விடயம் அல்லாதது  
1) நீரில் பனிக்கட்டி மிதக்கும் 2) நீர் ஆவியாகும்  
3) நீர் குளிர்ச்சியடையும் 4) பாத்திரத்தின் வெளிப்புறம் நீர்த்துளிகள் காணப்படும்
51. இலங்கையன் பெருந்தெருக்களில் பாதசாரிகள் கடவையில் வரையப்படும் கோடுகளுக்கு புதிதாக அறிமுகம் செய்யப்பட்ட நிறம்  
1) சிவப்பு 2) நீலம் 3) மஞ்சள் 4) வெள்ளை
52. நீரில் மாத்திரம் வாழும் விலங்கு  
1) தவளை 2) பாம்பு 3) கணவாய் 4) ஆமை
53. இலங்கை அரச இலட்சினையில் நிறைகலசம் அடையாளப்படுத்துவது  
1) சௌபாக்கியத்தை 2) தன்னிறவை 3) கட்டுப்பாடான நாட்டு மக்களை  
4) நிலைத்திருந்தவை
54. ஜின்கங்கை கடலில் கலக்கும் மாகாணம்  
1) கிழக்கு மாகாணம் 2) தென்மாகாணம் 3) மேல் மாகாணம் 4) வடமேல் மாகாணம்
55. ஒலிம்பிக் கொடி எந்த நிறத்துணியால் ஆனது  
1) வெள்ளை 2) நீலம் 3) மஞ்சள் 4) பச்சை
56. ஓரிகாமி ஆக்கம் என்பது  
1) நீர்ச்சாயங்களைப் பயன்படுத்திச் செய்யப்படும் ஆக்கம்  
2) கடதாசித் துண்டுகளைக் கிழித்து ஒட்டிச் செய்யப்படும் ஆக்கம்  
3) வித்துக்களைப் பயன்படுத்திச் செய்யப்படும் ஆக்கம்  
4) கடதாசியை மடித்து உருவங்கள் செய்யப்படும் ஆக்கம்
57. மாநகரசபையானது தனது எல்லைக்குட்பட்ட குறிப்பிட்ட ஒரு பகுதியில் டெங்கு ஒழிப்பு பற்றிய அறிவித்தல்களை வழங்குவதற்குப் பொருத்தமான தொடர்பாடல் ஊடகம் எது?  
1) தொலைபேசி 2) கணினி 3) ஒலிபெருக்கி 4) தொலைக்காட்சி
58. நீரைச் சிக்கனமாகப் பயன்படுத்துவது தொடர்பான செய்திகளை முன்வைப்பதற்காகச் சுவரொட்டி ஒன்றை ஆக்கும் போது அதில் இடம்பெறப் பொருத்தமற்ற கூற்று  
1) குழாய் வாயிலைத் திறந்து வைத்து வேறு வேலைகளில் ஈடுபடாதீர்கள்  
2) பொதுஇடங்களில் நீர்க்குழாய் வாயில்களை இறுக்கமாக மூடி வைப்புகள்  
3) எல்லாப் பாத்திரங்களையும் ஒரே தடவையாய்க் கழுவிக்கொள்ளுங்கள்  
4) மழைநீரைக் கடலுடன் சேர்வதற்கு இடமளியுங்கள்
59. மஞ்சள் நிறத்தையும், நீல நிறத்தையும் கலக்கும் போது உண்டாகும் நிறம்?  
1) கபிலம் 2) செம்மஞ்சள் 3) பச்சை 4) ஊதா
60.  இக் குறியீடு குறிப்பது  
1) இலங்கை பெற்றோலியக் கூட்டுத்தாபனம்  
2) பெருந்தெரு  
3) எரிபொருள் நிரப்பு நிலையம்  
4) வாகனங்கள் நிறுத்தக்கூடாது

**மாகாணக் கல்வித் திணைக்களம் - வடமாகாணம்**  
**பயிற்சிப் பரீட்சை 06 இன் விடைகள்**

தரம் - 05

6

வினாத்தாள் - II

01. i) வரக்காப்பொல                      ii) சென்றோம்                      iii) தொழிற்சாலை  
iv) அங்குமிங்கும்                      v) வியப்பாக                      vi) வெண்மை + நிறம்
02. i) ஆளுநர்                      ii) தொடங்கியது                      iii) ஒளிந்து
03. i) அரவு                      ii) மடக்கேறு
04. i) துயில்                      ii) ஈகை
05. i) செம்படவன்                      ii) கரும்பு                      iii) பருப்பு
06. i) பாதையில் பாறாங்கற்கள் விழுந்து கிடந்தன.
07. i) பிடிவாதம்                      ii) ஏமாற்றுதல்
08. i) சகபாடி                      ii) உடன்பாடு / சமாதானம் / சமரசம்
09. i) சீரைத் தேடின ஏரைத் தேடு / உண்டி கொடுத்தோர் உயிர் கொடுத்தோர்  
ii) அடியற்ற மரம்
10. i) பாய்ந்து வெள்ளம் வழிந்தது                      ii) மன்னும் அன்போடு நீ என்றும்
11. அ i) Pencil                      ii) Elephant  
ஆ Come here?
12. i) சி(க்) குறா (Dh) தா                      ii) லியன்ன
13. i) எனக்குப் புத்தகம் தாருங்கள்                      ii) பஸ் வண்டி வந்து விட்டது / பஸ் வந்துவிட்டது
14. பொருத்தமான வாக்கியங்களுக்குப் புள்ளியிடுக.
15. நாற்பதாயிரத்து தொண்ணூற்று மூன்று                      16. i. xiv                      ii. 19
17. 8                      18. i) நான்முகி                      ii) நான்கு
19. i) 22 : 10 மணித்தியாலம்                      ii) பி.ப 7. 40 மணி
20. i)  $\frac{2}{4}$  ,  $\frac{4}{8}$  ,  $\frac{5}{10}$                       ii) 1 . 7
21. 102                      22. i) 32 m                      ii) 40 சதுரமீற்றர்
23. i) 35                      ii) 21                      24. 202, 2 மீதி
25. 1700g                      26. 840g                      27. 500ml
28. i) 0.4                      ii)  $\frac{6}{10} = \frac{3}{5}$
29. i) 

38 . 50
98 . 00
51 . 00
187 . 50

                      30. ரூ. 312.50                      31. iv                      32. iii  
ii)                      33. iv                      34. iv                      35. ii
39. iii                      40. ii                      41. i                      42. ii                      43. iii  
44. iv                      45. iii                      46. ii                      47. i                      48. ii  
49. iv                      50. ii                      51. ii                      52. i                      53. i  
54. i                      55. i                      56. ii                      57. i                      58. iv  
59. ii                      60. iii