



හත















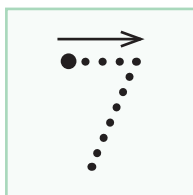


7



7

7

7 හත නිවැරදි ව ලියමු.



අට 8



8



8

8

අට නිවැරදි ව ලියමු.

8	8	8		

නවය 9








9

9

9

① ② ③ නවය නිවැරදි ව ලියමු.



ගැලපෙන පරිදි යා කරමු.

හත



අට
8



නවය



ගැළපෙන ඉලක්කම ලියමු.








ඉලක්කමට ගැළපෙන රූප අඳිමු.


4



8

6


රූප ගණනට ගැළපෙන ඉලක්කම් වටා රවුමක් අඳිමු.



3




8 3



6

රූප ගණනට ගැලපෙන ඉලක්කම වටා රවුමක් අඳිමු.



1 4 6




8



3

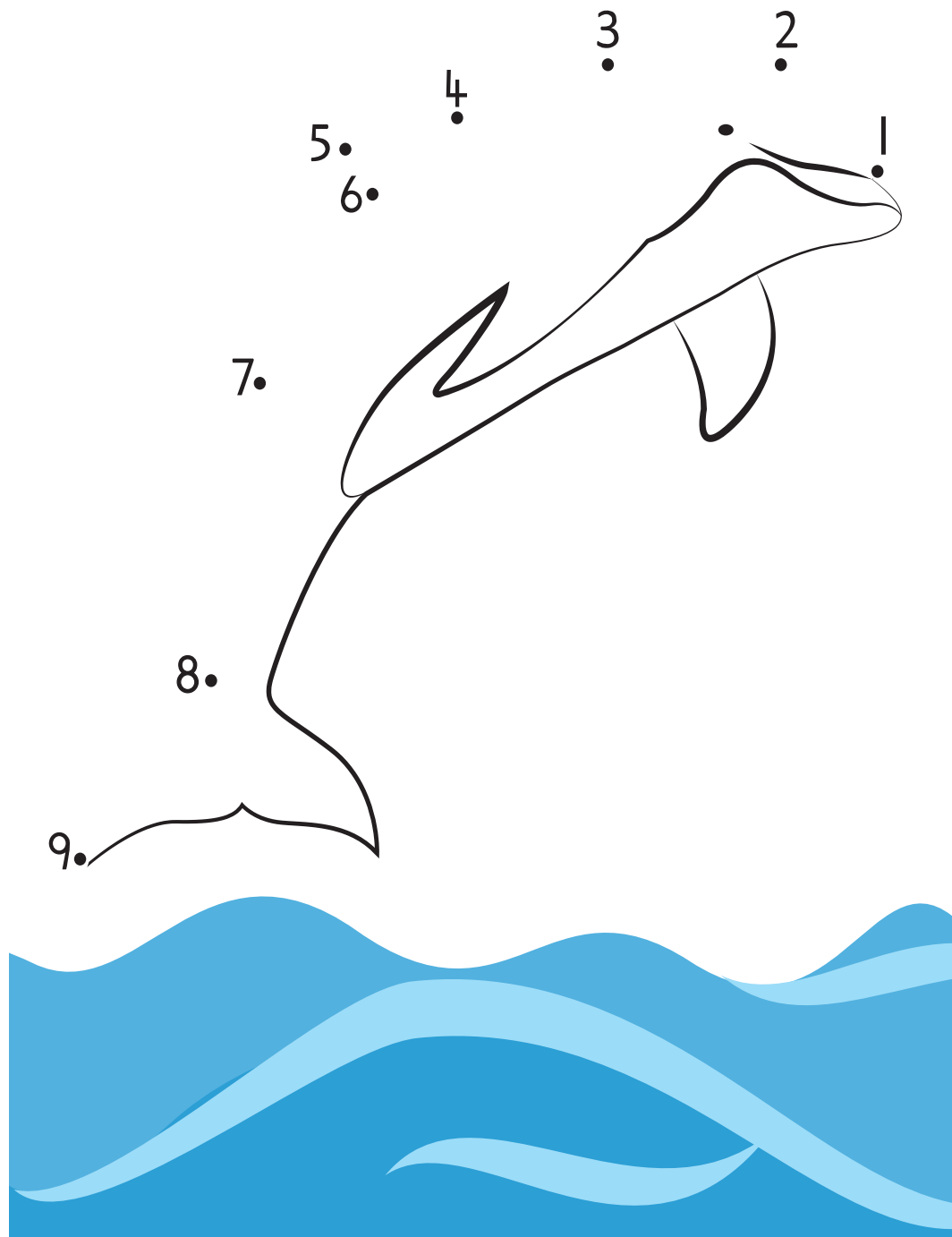
ඉලක්කම් පිළිවෙලින් යා කරමු. ලස්සනට පාට කරමු.












ඉලක්කම් පිළිවෙලින් යා කරමු. ලස්සනට පාට කරමු.



ඉලක්කම් පිළිවෙලින් යා කරමු. ලස්සනට පාට කරමු.



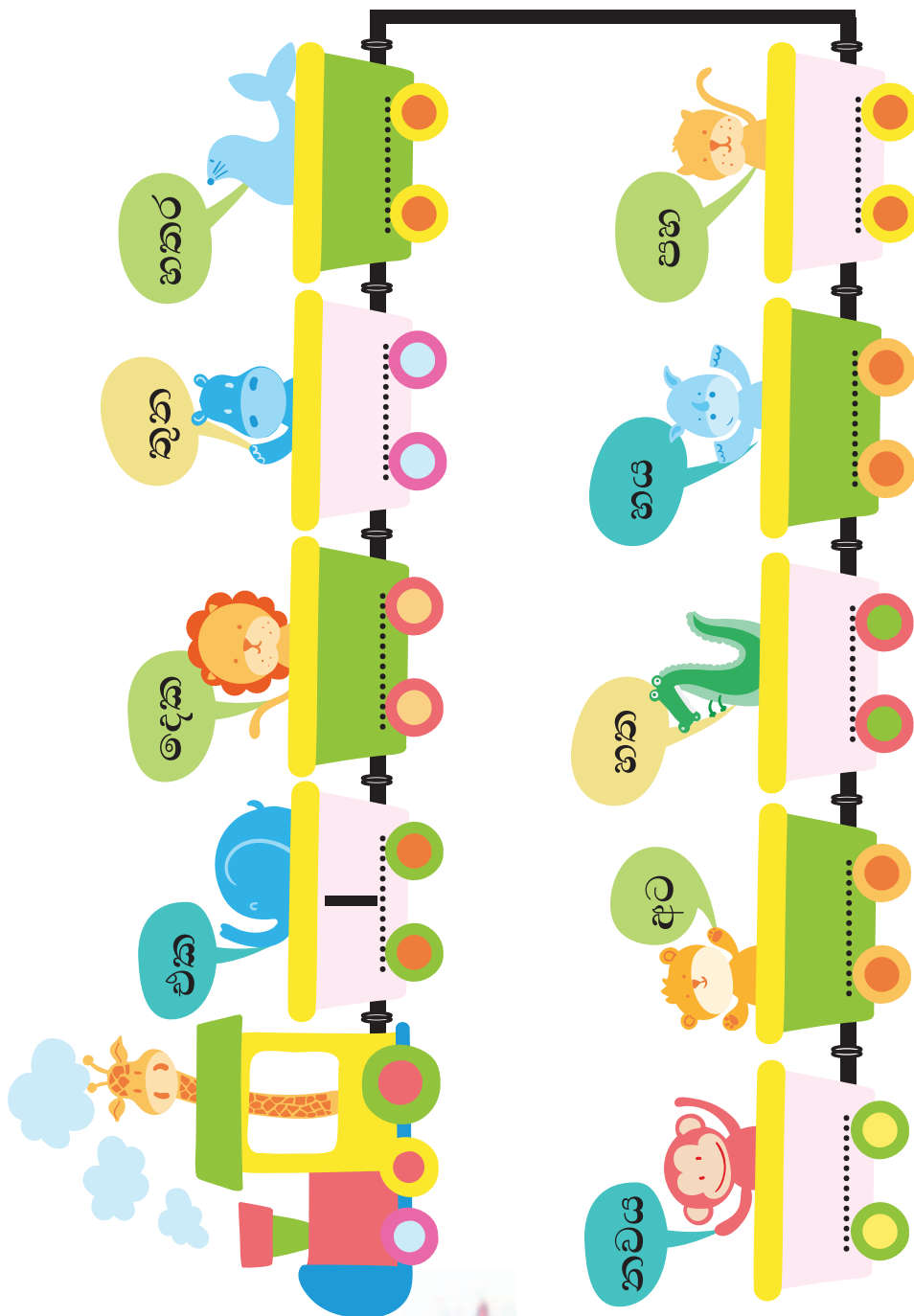
ඉලක්කමෙන් ලියමු.

එක		1
තුන		
හත		
නවය		
පහ		
දෙක		
අට		
හතර		
හය		


අකුරෙන් ලියමු.

1		එක
6		
8		
		
		
		
3		
		
4		

ඉලක්කමෙන් ලියමු.



අකුරෙන් ලියමු.



අකුරෙන් ලියමු.

1	එක
3	
4	
6	
8	

ඉලක්කමෙන් ලියමු.

එක	1
දෙක	
තුන	
හතර	
පහ	
හය	
හත	
අට	
නවය	

හිස්තැන් පුරවමු.

1	එක
4
.....	හත
8
.....	දෙක

6
.....	තුන
.....
.....	නවය
.....

නිවැරදි පිළිතුර යටින් ඉරක් අඳිමු.



කැලේ ලොකු තරඟයක් ...

දෙවෙනියා කවුද? **සිංහයා / ජීරාල්**

ගෝනා කීවෙනියා ද? **දෙවෙනියා / පළමුවෙනියා**

අලියා කීවෙනියා ද? **තුන්වෙනියා / හතරවෙනියා**

තුන්වෙනියා කවුද? **ජීරාල් / සිංහයා**

නිවැරදි පිළිතුර යටින් ඉරක් අඳිමු.



මාලා සමන් රාධා අමර රාජු රහිමි පානිමා රවී නයනා

අපි තරගයට දුවමු.

පළමුවෙනියා කවුද? **නයනා / මාලා**

රාධා කීවෙනියා ද? **තුන්වෙනියා / පස්වෙනියා**

නවවෙනියා කවුද? **පානිමා / නයනා**

රවී කීවෙනියා ද? **නවවෙනියා / අටවෙනියා**

හතරවෙනියා කවුද? **අමර / රාජු**





පාරේ වාහන ජේලියක් ...






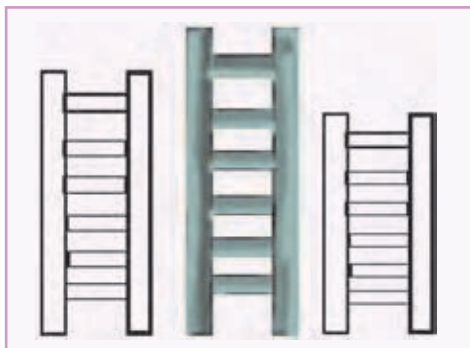
පළමුවෙනි වාහනය වටේ රවුමක් ඇදීම.

හතරවෙනි වාහනය යටින් ✓ යොදමු.

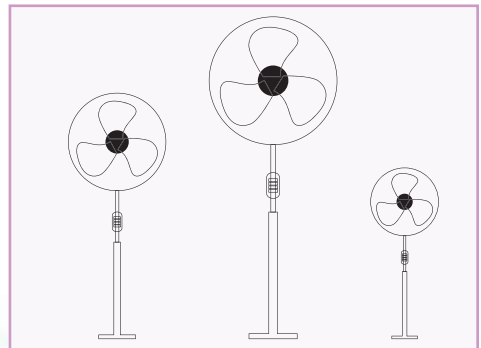


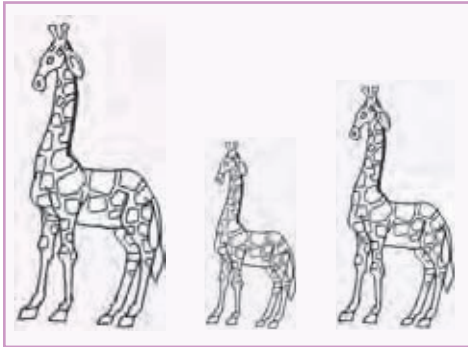


තුන්වෙනි වාහනය පාට කරමු.

දෙවෙනි වාහනය යටින් X යොදමු.



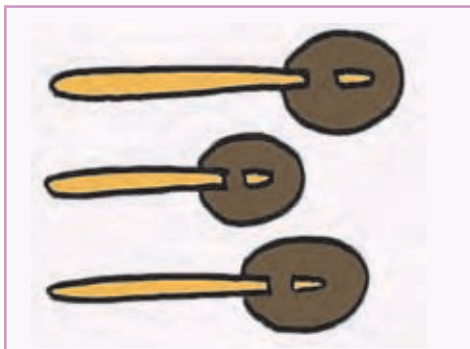
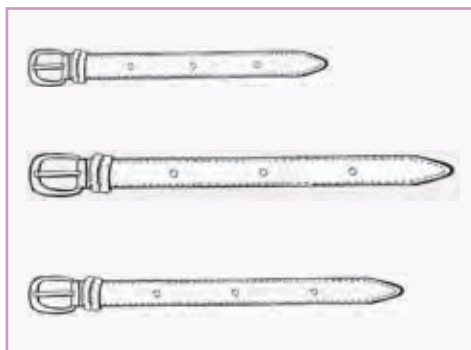

උස වැඩි ම රූපය පාට කරමු.



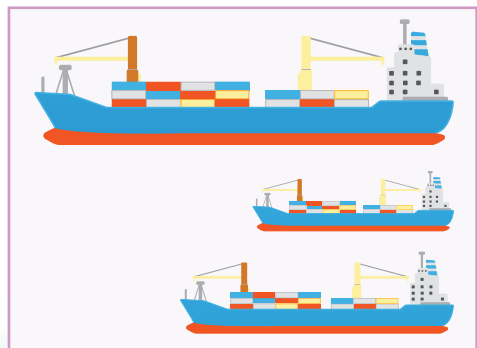
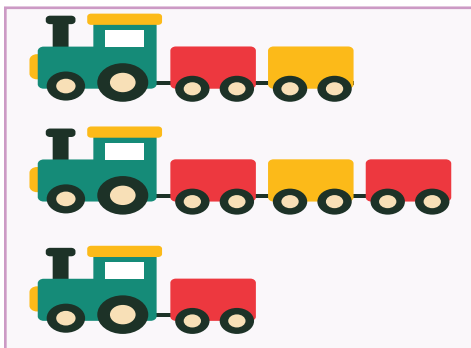



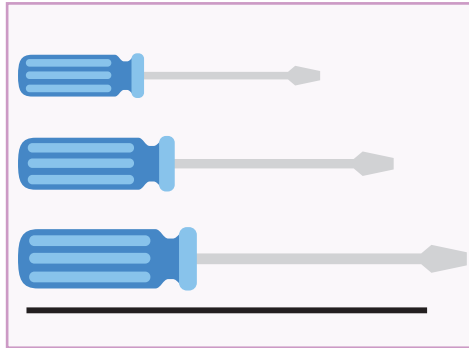
උස අඩු ම රූපය පාවිච්චි කරමු.




දිග අඩු ම රූපයට යටින් ඉරක් අඳිමු.



දිග වැඩි ම රූපයට යටින් ඉරක් අඳිමු.



එකතු කරමු.



සරුංගල් 2යි සරුංගල් 1යි මක්කොම




පැන්සල් ෩යි පැන්සල් 3යි මක්කොම

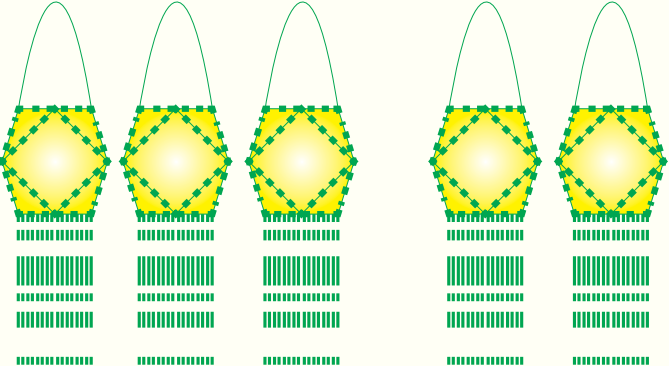


ටොෆි 2යි ටොෆි 2යි මක්කොම

එකතු කරමු.



රුවල් ඔරු 3යි රුවල් ඔරු 1යි ඔක්කොම







වෙසක් කුඩු 3යි වෙසක් කුඩු 2යි ඔක්කොම



කරත්ත 4යි කරත්ත 1යි ඔක්කොම



පෙර සංඛ්‍යාව ලියමු.



පසු සංඛ්‍යාව ලියමු.



පෙර සංඛ්‍යාව හා පසු සංඛ්‍යාව ලියමු.



එකතු කරමු.



ඔක්කොම ඇපල් ගෙඩි ගණන යි



ඔක්කොම කෙසෙල් ගෙඩි ගණන යි



ඔක්කොම ජම්බු ගෙඩි ගණන යි







ඔක්කොම අලිගැටපේර ගෙඩි ගණන යි





ඔක්කොම ගස්ලබු ගෙඩි ගණන යි

එකතු කරමු.




 1

 $+$
 5
 $=$


 $+$

 4
 $=$


 $+$

 3
 $=$


 $+$



 $=$




 4
 $+$

 5
 $=$


එකතු කරමු.


$+ 1 = 3$	$+ = \square$
$3 + = \square$	$4 + 1 = \square$
$6 + = \square$	$4 + 4 = \square$
$+ 1 = \square$	$1 + 1 = \square$
$3 + = \square$	$+ 6 = \square$
$4 + 3 = \square$	$8 + 1 = \square$
$6 + 3 = \square$	$3 + 4 = \square$
$+ 1 = \square$	$4 + = \square$
$1 + 8 = \square$	$+ = \square$
$3 + 1 = \square$	$+ 3 = \square$



ඔක්කොම කීය ද?



 3
 +
 ඔක්කොම කීය ද?

 6
 + 3
 ඔක්කොම කීය ද?

 4
 + 1
 ඔක්කොම කීය ද?

 5
 +
 ඔක්කොම කීය ද?

 6
 +
 ඔක්කොම කීය ද?

 4
 + 4
 ඔක්කොම කීය ද?

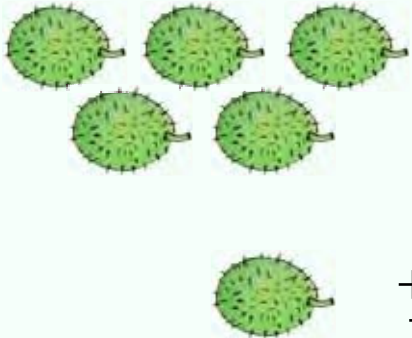
ඔක්කොම කීය ද?



5 birds are shown in two rows: three in the top row and two in the bottom row.

+ 3


ඔක්කොම කීය ද? _____



5 cacti are shown in two rows: three in the top row and two in the bottom row.

+ 1


ඔක්කොම කීය ද? _____



7 red cars are shown in two rows: four in the top row and three in the bottom row.

4
+ _____


ඔක්කොම කීය ද? _____



6 peacocks are shown in two rows: two in the top row and four in the bottom row.

+ 3


ඔක්කොම කීය ද? _____



10 green leaves are shown in two rows: seven in the top row and three in the bottom row.

+ _____

ඔක්කොම කීය ද? _____



6 squirrels are shown in two rows: three in the top row and three in the bottom row.

3
+ 3

ඔක්කොම කීය ද? _____

එකතු කරමු.

$$\begin{array}{r} 1 \\ + \quad \underline{\quad} \\ \hline 3 \end{array}$$

$$\begin{array}{r} 3 \\ + 1 \\ \hline \end{array}$$

$$\begin{array}{r} + 1 \\ \hline \end{array}$$

$$\begin{array}{r} + \quad \underline{\quad} \\ \hline \end{array}$$

$$\begin{array}{r} + 4 \\ \hline \end{array}$$

$$\begin{array}{r} 4 \\ + \quad \underline{\quad} \\ \hline \end{array}$$

$$\begin{array}{r} + \quad \underline{\quad} \\ \hline \end{array}$$

$$\begin{array}{r} 3 \\ + 4 \\ \hline \end{array}$$

$$\begin{array}{r} 3 \\ + 3 \\ \hline \end{array}$$

$$\begin{array}{r} 4 \\ + 3 \\ \hline \end{array}$$

$$\begin{array}{r} 1 \\ + 4 \\ \hline \end{array}$$

$$\begin{array}{r} 1 \\ + 3 \\ \hline \end{array}$$

$$\begin{array}{r} + \quad \underline{\quad} \\ \hline \end{array}$$

$$\begin{array}{r} 1 \\ + \quad \underline{\quad} \\ \hline \end{array}$$

$$\begin{array}{r} 1 \\ + 6 \\ \hline \end{array}$$

$$\begin{array}{r} 3 \\ + 6 \\ \hline \end{array}$$

$$\begin{array}{r} + 3 \\ \hline \end{array}$$

$$\begin{array}{r} 1 \\ + \quad \underline{\quad} \\ \hline \end{array}$$


$$\begin{array}{r} 6 \\ + 1 \\ \hline \end{array}$$

$$\begin{array}{r} + 4 \\ \hline \end{array}$$



✓ ලකුණ යොදමින් ගණන් කරමු.

පහ



අට



දහය




පහළොව




දහහත



දහනවය



ගණන් කරමු. අකුරෙන් ලියමු.



අරලිය මල් යි.



මුද්දර යි.

රූප ගණන් කරමු. අකුරෙන් ලියමු.




අඹ ගෙඩි

..... යි.



අපල් ගෙඩි

..... යි.



පෙයාර්ස් ගෙඩි


..... යි.




දොඩම් ගෙඩි

..... යි.

✓ ලකුණ යොදමින් රූප ගණන් කරමු.
අකුරෙන් ලියමු.



මී මැස්සෝ යි.




කෙසෙල් ගෙඩි යි.

✓ ලකුණ යොදමින් රූප ගණන් කරමු.
අකුරෙන් ලියමු.



ප්‍රමාණය යි.

ගණන් කරමු. අකුරෙන් ලියමු.



ගිරව් යි.

කාසි හඳුනා ගනිමු.

		
රුපියලයි	රුපියල් දෙකයි	රුපියල් පහයි

අවිච්චි ගැසූ කාසි අලවමු.

			
රුපියලයි			
			
රුපියල් දෙකයි			
			
රුපියල් පහයි			

යා කරමු.



රුපියල් පහයි

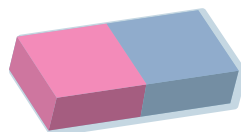


රුපියලයි



රුපියල් දෙකයි

යා කරමු.



මිල රුපියල් දෙකයි



මිල රුපියලයි



මිල රුපියල් පහයි

රූපයට ගැළපෙන වචනය රවුම් කරමු.



උදෑසන

දහවල

රාත්‍රී



උදෑසන

දහවල

රාත්‍රී



උදෑසන

දහවල


රාත්‍රී

කාලයට සුදුසු චිත්‍ර යටින් ඉරක් අඳිමු.

උදෑසන
කාලය



දහවල්
කාලය



රාත්‍රී
කාලය

