

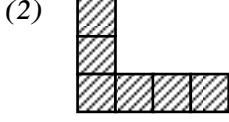
அலகு - 25

பரப்பளவு

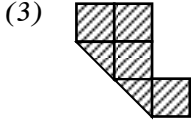
01) தரப்பட்ட உருவில் 1 கட்டத்தின் பரப்பளவு 1 cm^2 எனின் இவ்வருக்களின் பரப்பளவுகளைக் காண்க.



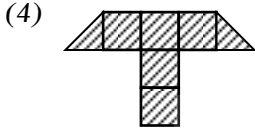
.....



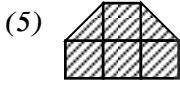
.....



.....

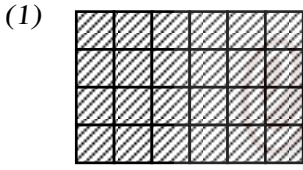


.....

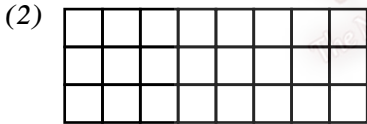


.....

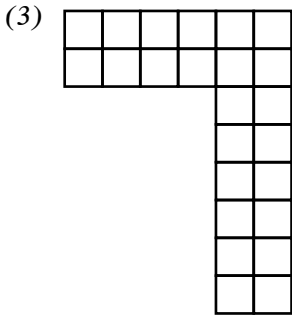
02) 1 சதுரத்தின் பரப்பளவு 1 cm^2 எனின் தரப்பட்ட உருக்களின் பரப்பளவைக் காண்க.



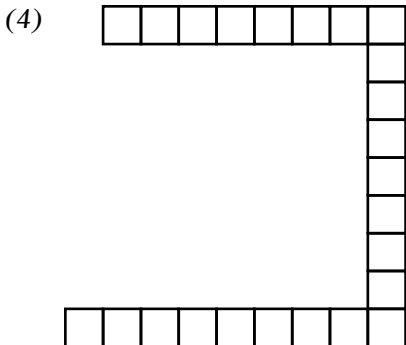
.....



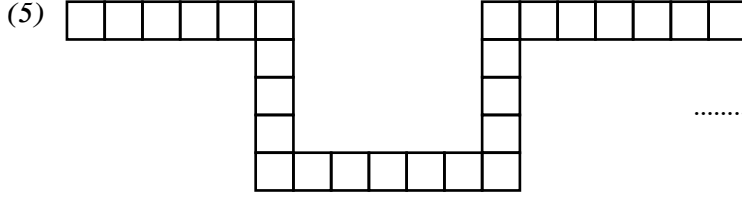
.....



.....



.....



03) சிறிய சதுரக் கட்டம் 1 cm^2 எனின் உருக்களின் பரப்பளவுகளைக் காண்க.

