

ශ්‍රී ලංකා විභාග දෙපාර්තමේන්තුව ශ්‍රී ලංකා විභාග දෙපාර්තමේන්තුව ශ්‍රී ලංකා විභාග දෙපාර්තමේන්තුව ශ්‍රී ලංකා විභාග දෙපාර්තමේන්තුව ශ්‍රී ලංකා විභාග දෙපාර්තමේන්තුව
 இலங்கைப் பரீட்சைத் திணைக்களம் இலங்கைப் பரීட்சைத் திணைக்களம் இலங்கைப் பரීட்சைத் திணைக்களம் இலங்கைப் பரීட்சைத் திணைக்களம் இலங்கைப் பரීட்சைத் திணைக்களம்
 Department of Examinations, Sri Lanka Department of Examinations, Sri Lanka Department of Examinations, Sri Lanka Department of Examinations, Sri Lanka Department of Examinations, Sri Lanka
 இலங்கைப் பரීட்சைத் திணைக்களம் இலங்கைப் பரීட்சைத் திணைக்களம் இலங்கைப் பரීட்சைத் திணைக்களம் இலங்கைப் பரීட்சைத் திணைக்களம் இலங்கைப் பரīட்சைத் திணைக்களம்
 Department of Examinations, Sri Lanka Department of Examinations, Sri Lanka Department of Examinations, Sri Lanka Department of Examinations, Sri Lanka Department of Examinations, Sri Lanka

අධ්‍යයන පොදු සහතික පත්‍ර (උසස් පෙළ) විභාගය, 2022(2023)
 கல்விப் பொதுத் தராதரப் பத்திர (உயர் தர)ப் பரீட்சை, 2022(2023)
 General Certificate of Education (Adv. Level) Examination, 2022(2023)

රසායන විද්‍යාව II
 இரசாயனவியல் II
 Chemistry II

02 S II

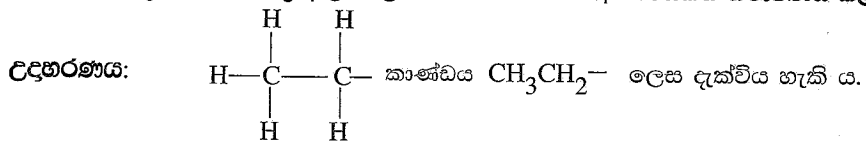
පැය තුනයි
 மூன்று மணித்தியாலம்
 Three hours

අමතර කියවීමේ කාලය - මිනිත්තු 10 යි
 மேலதிக வாசிப்பு நேரம் - 10 நிமிடங்கள்
 Additional Reading Time - 10 minutes

අමතර කියවීමේ කාලය ප්‍රශ්න පත්‍රය කියවා ප්‍රශ්න තෝරා ගැනීමටත් පිළිතුරු ලිවීමේදී ප්‍රමුඛත්වය දෙන ප්‍රශ්න සංවිධානය කර ගැනීමටත් යොදා ගන්න.

- * ආවර්තිතා වගුවක් 15 වැනි පිටුවෙහි සපයා ඇත.
- * ගණක යන්ත්‍ර භාවිතයට ඉඩ දෙන නොලැබේ.
- * සාර්වත්‍ර වායු නියතය, $R = 8.314 \text{ J K}^{-1} \text{ mol}^{-1}$
- * ඇවගාඩ්රෝ නියතය, $N_A = 6.022 \times 10^{23} \text{ mol}^{-1}$
- * මෙම ප්‍රශ්න පත්‍රයට පිළිතුරු සැපයීමේදී ඇල්කයිල් කාණ්ඩ සංකීර්ණ ආකාරයකින් නිරූපණය කළ හැකි ය.

විභාග අංකය :



□ A කොටස - ව්‍යුහගත රචනා (පිටු 02 - 08)

- * සියලුම ප්‍රශ්නවලට මෙම ප්‍රශ්න පත්‍රයේම පිළිතුරු සපයන්න.
- * ඔබේ පිළිතුරු එක් එක් ප්‍රශ්නයට ඉඩ සලසා ඇති තැන්වල ලිවිය යුතු ය. මේ ඉඩ ප්‍රමාණය පිළිතුරු ලිවීමට ප්‍රමාණවත් බවද දීර්ඝ පිළිතුරු බලාපොරොත්තු නොවන බවද සලකන්න.

□ B කොටස සහ C කොටස - රචනා (පිටු 09 - 15)

- * එක් එක් කොටසින් ප්‍රශ්න දෙක බැගින් තෝරා ගනිමින් ප්‍රශ්න හතරකට පිළිතුරු සපයන්න. මේ සඳහා සපයනු ලබන කඩඉසි භාවිත කරන්න.
- * සම්පූර්ණ ප්‍රශ්න පත්‍රයට නියමිත කාලය අවසන් වූ පසු A, B සහ C කොටස් තුනට පිළිතුරු, A කොටස මුලින් තිබෙන පරිදි එක් පිළිතුරු පත්‍රයක් වන සේ අමුණා විභාග ශාලාධිපතිට භාර දෙන්න.
- * ප්‍රශ්න පත්‍රයෙහි B සහ C කොටස් පමණක් විභාග ශාලාවෙන් පිටතට ගෙන යාමට ඔබට අවසර ඇත.

පරීක්ෂකවරුන්ගේ ප්‍රයෝජනය සඳහා පමණි

කොටස	ප්‍රශ්න අංකය	ලැබූ ලකුණු
A	1	
	2	
	3	
	4	
B	5	
	6	
	7	
C	8	
	9	
	10	
එකතුව		

එකතුව	
ඉලක්කමෙන්	
අකුරෙන්	

සංකේත අංක	
උත්තර පත්‍ර පරීක්ෂක 1	
උත්තර පත්‍ර පරීක්ෂක 2	
පරීක්ෂා කළේ :	
අධීක්ෂණය කළේ :	

A කොටස - ව්‍යුහගත රචනා

ප්‍රශ්න හතරටම මෙම පත්‍රයේම පිළිතුරු සපයන්න. (එක් එක් ප්‍රශ්නය සඳහා නියමිත ලකුණු ප්‍රමාණය 100 කි.)

මෙම තීරයේ කඩවස් නොලියන්න

1. (a) පහත සඳහන් ප්‍රකාශ සත්‍ය ද නැතහොත් අසත්‍ය ද යන බව තීන් ඉරි මත සඳහන් කරන්න. හේතු අවශ්‍ය නැත.

- (i) පරමාණුක හයිඩ්‍රජන්වල විමෝචන වර්ණාවලියේ නිරීක්ෂණය වන ලයිමන් ශ්‍රේණිය විද්‍යුත් චුම්බක වර්ණාවලියේ පාරජම්බුල ප්‍රදේශයේ පවතී.
- (ii) කැල්සියම් පරමාණුවක උද්දිගංශ ක්වොන්ටම් අංකය $l = 0$ වන ඉලෙක්ට්‍රෝන 10 ක් පමණක් ඇත.
- (iii) N_2O අණුව සඳහා ඇදිය හැකි ලුවීස් තීන්-ඉරි ව්‍යුහ (සම්ප්‍රයුක්ත ව්‍යුහ) සංඛ්‍යාව 3 කි.
- (iv) ආවර්තිතා වගුවේ දෙවන ආවර්තයේ ඇති මූලද්‍රව්‍ය අතුරෙන්, ෆ්ලෝරීන්වලට ඉලෙක්ට්‍රෝන ලබාගැනීමේ ශක්තියේ විශාලතම සෘණ අගය ඇත.
- (v) ආර්ගන් (Ar) වල තාපාංකය ක්ලෝරීන් (Cl_2) හි එම අගයට වඩා ඉහළ ය.
- (vi) He, Ne සහ Ar යන උච්ච වායු අතුරෙන් Ne වලට ඉහළම පළමු අයනීකරණ ශක්තිය ඇත.

(ලකුණු 24 යි)

(b) (i) N, F සහ S යන මූලද්‍රව්‍ය පමණක් අඩංගු අණුවක සැකිල්ල පහත දී ඇත. මෙම අණුව සඳහා වඩාත්ම පිළිගත හැකි ලුවීස් තීන්-ඉරි ව්‍යුහය අඳින්න.

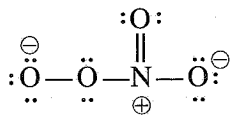


(ii) ඉහත (i) හි අඳින ලද ව්‍යුහයේ (I) N සහ S පරමාණු වටා හැඩයයන් සහ (II) පරමාණුවල ඔක්සිකරණ අංක දෙන්න.

(I) N , S (හැඩය)

(II) N , S (ඔක්සිකරණ අංකය)

(iii) NO_4^- අයනය සඳහා ලුවීස් තීන්-ඉරි ව්‍යුහයක් පහත දී ඇත. NO_4^- අයනය සඳහා තවත් ලුවීස් තීන්-ඉරි ව්‍යුහ (සම්ප්‍රයුක්ත ව්‍යුහ) තුනක් අඳින්න.



(iv) පහත සඳහන් ලුවීස් තීන්-ඉරි ව්‍යුහය සහ එහි ලේබල් කරන ලද සැකිල්ල පදනම් කරගෙන දී ඇති වගුව සම්පූර්ණ කරන්න.



		C ¹	N ²	N ³	N ⁴
I.	පරමාණුව වටා VSEPR යුගල් සංඛ්‍යාව				
II.	පරමාණුව වටා ඉලෙක්ට්‍රෝන යුගල් ජ්‍යාමිතිය				
III.	පරමාණුව වටා හැඩය				
IV.	පරමාණුවේ මූහුම්කරණය				

මෙම කිරීමේ කිසිවක් නොලියන්න

● කොටස් (v) සිට (viii), ඉහත (iv) කොටසෙහි දී ඇති ලුවීස් තිත්-ඉරි ව්‍යුහය මත පදනම් වේ. පරමාණු ලේබල් කිරීම (iv) කොටසෙහි ආකාරයටම වේ.

(v) පහත දැක්වෙන පරමාණු දෙක අතර σ බන්ධන සෑදීමට සහභාගි වන පරමාණුක/මුහුම් කාක්ෂික හඳුනාගන්න.

- I. $H-C^1$ H C^1
- II. C^1-N^2 C^1 N^2
- III. N^2-N^3 N^2 N^3
- IV. N^3-N^4 N^3 N^4
- V. N^4-N N^4 N

(vi) පහත දැක්වෙන පරමාණු දෙක අතර π බන්ධන සෑදීමට සහභාගි වන පරමාණුක කාක්ෂික හඳුනාගන්න.

- I. C^1-N^2 C^1 N^2
- II. N^4-N N^4 N
- N^4 N

(vii) C^1, N^2, N^3 සහ N^4 පරමාණු වටා ආසන්න බන්ධන කෝණ සඳහන් කරන්න.

C^1, N^2 , N^3 , N^4

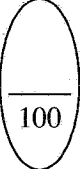
(viii) N^2, N^3 සහ N^4 පරමාණු ඒවායේ විද්‍යුත් සාණතාව වැඩිවන පිළිවෙලට සකසන්න.

..... < < (ලකුණු 56 යි)

(c) වරහන් තුළ දක්වා ඇති ගුණය වැඩිවන පිළිවෙලට පහත සඳහන් විශේෂ සකසන්න. හේතු අවශ්‍ය නැත.

- (i) $CaF_2, CaCl_2, CaBr_2, CaI_2$ (අයනික ස්වභාවය)
..... < < <
- (ii) ClF_5, ClF_2^+, ClF_2^- (බන්ධන කෝණය)
..... < <
- (iii) Na^+, S^{2-}, Cl^-, K^+ (අයනික අරය)
..... < < <
- (iv) $CO, CO_3^{2-}, HCO_2^-, H_2CO, CH_3OH$ (C—O බන්ධන දිග)
..... < < < <
- (v) Li, N, F, Mg, P (පළමුවන අයනීකරණ ශක්තිය)
..... < < < <

(ලකුණු 20 යි)



2. (a) (i), (ii) සහ (iii) ප්‍රශ්න පදනම් වී ඇත්තේ පහත දැක්වෙන ප්‍රතික්‍රියා මත ය.

A යනු 1 : 4 : 1 අනුපාතයෙන් ඇති (රසායනික සූත්‍රයෙහි පිළිවෙලට නොවේ) මූලද්‍රව්‍ය තුනකින් සමන්විත අයනික සංයෝගයකි. මින් එකක් ආවර්තිතා වගුවේ හතරවන ආවර්තයට අයත් d-ගොනුවේ මූලද්‍රව්‍යයකි. පහත් සිළු පරීක්ෂාවට A භාජනය කළ විට ලයිලැක් (දම්) පැහැති දැල්ලක් දක්නට ලැබේ. A ජලයෙහි ද්‍රවණය කළ විට දම් පැහැති ද්‍රාවණයක් ලැබේ.

B ද, A හි ඇති මූලද්‍රව්‍ය තුනෙන්ම සමන්විත අයනික සංයෝගයකි. B ජලයෙහි ද්‍රවණය වී කොළ පැහැති ද්‍රාවණයක් ලබාදෙයි.

C යනු මූලද්‍රව්‍ය දෙකකින් සමන්විත අවර්ණ දුස්ස්‍රාවී ද්‍රවයකි. එය ද්විධාකරණය වී එක් ඵලයක් ලෙස තවත් අවර්ණ ද්‍රවයක් වන D ලබාදෙයි. C ට ඔක්සිකාරකයක් මෙන්ම ඔක්සිහාරකයක් ලෙස ද ක්‍රියා කළ හැක. B හි ද්‍රාවණයකට C එක් කළ විට, E දුඹුරු පැහැති අවක්ෂේපය ලැබේ.

F මූලද්‍රව්‍ය තුනකින් සමන්විත සංයෝගයකි. මින් එක් මූලද්‍රව්‍යයක් හිමටයිච්චල අඩංගු 3d මූලද්‍රව්‍යයකි. F හි ජලීය ද්‍රාවණයකට BaCl₂(aq) එක් කළ විට, තනුක H₂SO₄ හි අද්‍රාව්‍ය G සුදු අවක්ෂේපය සෑදේ.

H මූලද්‍රව්‍ය තුනකින් සමන්විත වේ. පරීක්ෂණ නළයක් තුළ ඇති H හි ජලීය ද්‍රාවණයක්, F හි සංතෘප්ත ද්‍රාවණයක් සමග පිරියම් කර, ඉන්පසු සාන්ද්‍ර H₂SO₄ කුඩා පරිමාවක් පරීක්ෂණ නළයේ බිත්තිය දිගේ සෙමින් එක් කළ විට, ද්‍රව හමුවන පෘෂ්ඨය මත දුඹුරු පැහැති වර්ණයක් දක්නට ලැබේ. දුඹුරු පැහැති වර්ණයට හේතුවන විශේෂය I වේ. H ට තනුක H₂SO₄ එක් කළ විට දුඹුරු පැහැති දුමාරයක් පිට නොවේ. පහත් සිළු පරීක්ෂාවට H භාජනය කළ විට කහ පැහැති දැල්ලක් දක්නට ලැබේ.

J යනු දුර්වල ද්විභාෂ්මික අම්ලයක සෝඩියම් ලවණයයි. J හි ද්‍රාවණයක් CaCl₂(aq) සමග පිරියම් කළ විට, K සුදු පැහැති අවක්ෂේපය සෑදේ. K තනුක H₂SO₄ සමග ප්‍රතික්‍රියා කර එක් ඵලයක් ලෙස දුර්වල ද්විභාෂ්මික අම්ලය L ලබාදෙයි. තනුක H₂SO₄ සමග ආම්ලික කළ J හි උණුසුම් ද්‍රාවණයක්, A හි ජලීය ද්‍රාවණයක් අවර්ණ කරයි.

(i) A සිට L දක්වා හඳුනාගන්න. සැ.යු.: රසායනික සූත්‍ර ලියන්න.

- | | |
|---------|---------|
| A | G |
| B | H |
| C | I |
| D | J |
| E | K |
| F | L |

(ii) පහත දී ඇති දෑ සඳහා තුලිත රසායනික සමීකරණ දෙන්න (භෞතික තත්ත්ව අනවශ්‍යයි).

I. C වලින් D සෑදීම

II. I සෑදීම

III. K සෑදීම

මෙම
පිරවීම
කිරීමක්
නොලියන්න

(iii) පහත දී ඇති ද්‍රාවණවලට **A** එකතු කළ විට සිදුවන ප්‍රතික්‍රියා සඳහා තුලිත අයනික සමීකරණ දෙන්න (භෞතික තත්ත්ව අනවශ්‍යයි).

I. **C** හි ආම්ලිකාන ද්‍රාවණයක්

II. තනුක H_2SO_4 මගින් ආම්ලික කළ **F** හි ජලීය ද්‍රාවණයක්

III. **J** හි ආම්ලිකාන ද්‍රාවණයක්

(ලකුණු 80 යි)

(b) පහත දෑ අතර සිදුවන ප්‍රතික්‍රියා සඳහා තුලිත රසායනික සමීකරණ දෙන්න (භෞතික තත්ත්ව අනවශ්‍යයි). ප්‍රතික්‍රියා (i)–(iii) හි H_2S හා SO_2 වල ක්‍රියාව (මක්සිකාරක/මක්සිහාරක) සඳහන් කරන්න.

(i) $Mg(s)$ සහ $H_2S(g)$

H_2S :

(ii) $Mg(s)$ සහ $SO_2(g)$

SO_2 :

(iii) $H_2S(g)$ සහ $SO_2(g)$

H_2S :, SO_2 :

(iv) $S(s)$ සහ සාන්ද්‍ර $HNO_3(aq)$

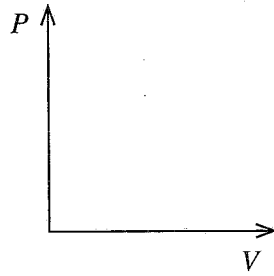
(ලකුණු 20 යි)

3. (a) (i) T නියත උෂ්ණත්වයකදී පිස්ටනයක් සහිත සංවෘත බඳුනක් තුළ පරිපූර්ණ වායුවක දෙන ලද ස්කන්ධයක් අඩංගු වේ. මෙම වායුවෙහි පීඩනය P සහ පරිමාව V අතර සම්බන්ධතාවය ගණිතමය ප්‍රකාශනයක් මගින් දක්වන්න.

(ii) T නියත උෂ්ණත්වයකදී ඉහත (i) හි සඳහන් පරිපූර්ණ වායුවෙහි ඝනත්වය d , පීඩනය P ට අනුලෝමව සමානුපාතික බව පෙන්වන්න.

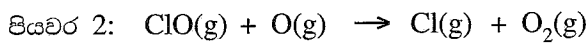
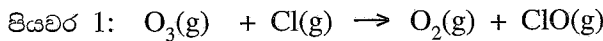
100

(iii) ඉහත (i) හි පද්ධතිය, 300 K සහ 500 K යන වෙනස් උෂ්ණත්ව දෙකකදී, V සමග P හි විචලනය විමසන දී ඇති රූපසටහනේ ප්‍රස්තාර දෙකක් ලෙස ඇඳ දක්වන්න. එක් එක් ප්‍රස්තාරයට අනුරූප උෂ්ණත්වය පැහැදිලිව දක්වන්න.



(ලකුණු 30 යි)

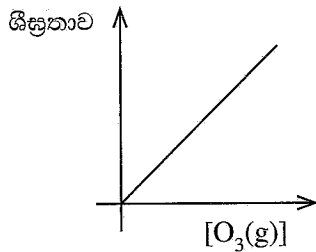
(b) Cl(g) සහ O(g) පරමාණු හමුවේ, $\text{O}_3(\text{g})$ හි ක්ෂය වීම පහත යන්ත්‍රණය අනුව සිදු වේ.



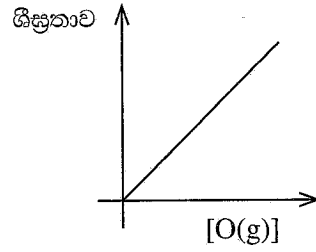
(i) ඉහත දී ඇති යන්ත්‍රණය සඳහා සම්පූර්ණ ප්‍රතික්‍රියාව ලියන්න.

(ii) හේතු දක්වමින් ඉහත යන්ත්‍රණයෙහි උත්ප්‍රේරකය සහ අතරමැදි එලෙස හඳුනාගන්න.

(iii) T උෂ්ණත්වයකදී ඉහත (i) හි සම්පූර්ණ ප්‍රතික්‍රියාව සම්බන්ධයෙන් සිදු කරන ලද පරීක්ෂණයකදී පහත දැක්වෙන ප්‍රස්තාර ලබාගන්නා ලදී. ශීඝ්‍රතා සහ සාන්ද්‍රණ මනින ලද ඒකක වන්නේ $\text{mol dm}^{-3} \text{s}^{-1}$ සහ mol dm^{-3} වේ.



ප්‍රස්තාරය 1



ප්‍රස්තාරය 2

ප්‍රස්තාරය 1 ලබාගන්නා ලද්දේ, $[\text{O}(\text{g})]$ නියතව තබාගනිමිනි.

ප්‍රස්තාරය 2 ලබාගන්නා ලද්දේ, $[\text{O}_3(\text{g})]$ නියතව තබාගනිමිනි.

I. ප්‍රස්තාර 1 හා 2 උපකාරයෙන්, $\text{O}_3(\text{g})$ සහ $\text{O}(\text{g})$ ට අනුබද්ධව ප්‍රතික්‍රියාවේ පෙළ අපෝහනය කරන්න. ප්‍රතික්‍රියාවේ සමස්ත පෙළ කුමක් ද?

II. T උෂ්ණත්වයේදී ප්‍රතික්‍රියාවෙහි වේග නියතය k නම් ප්‍රතික්‍රියාවේ වේග නියමය ලියන්න.

III. k හි ඒකක ව්‍යුත්පන්න කරන්න.

IV. T උෂ්ණත්වයේදී සිදු කරන පරික්ෂණයකදී භාවිත කළ $O_3(g)$ හා $O(g)$ සාන්ද්‍රණ පිළිවෙලින් $1.0 \times 10^{-3} \text{ mol dm}^{-3}$ සහ $1.0 \times 10^{-4} \text{ mol dm}^{-3}$ විය. මෙහිදී ප්‍රතික්‍රියාවෙහි වේගය $1.0 \times 10^{-3} \text{ mol dm}^{-3} \text{ s}^{-1}$ බව සොයාගන්නා ලදී. k හි අගය ගණනය කරන්න.

(ලකුණු 70 යි)

100

4. (a) **A, B** සහ **C** යනු අණුක සූත්‍රය C_5H_{10} සහිත හයිඩ්‍රොකාබන වේ. ඉන් කිසිවක් ජ්‍යාමිතික සමාවයවිකතාව දක්වන්නේ නැත. **A** සහ **B** යන දෙකම, **C** හි දෘම සමාවයවික වේ. **A** සහ **B** වෙත වෙනම සිසිල් සාන්ද්‍ර H_2SO_4 සමග පිරියම් කළ විට සෑදෙන ඵල ජලය යොදා තනුක කර රත් කළ විට, පිළිවෙලින් **D** සහ **E** සෑදේ. **D** සහ **E** සංයෝග දෙකෙන් **D** පමණක් ප්‍රකාශ සමාවයවිකතාවය දක්වයි. උත්ප්‍රේරිත හයිඩ්‍රජනීකරණයේදී, **A** සහ **B** සංයෝග දෙක, එකම **F** සංයෝගය ලබා දෙන අතර, **C** සංයෝගය **G** ලබා දේ. පෙරොක්සයිඩ් හමුවේ **HBr** සමග **B** ප්‍රතික්‍රියා කළ විට, ප්‍රාථමික ඇල්කයිල් හේලයිඩයක් වන **H** සෑදේ. **H** සංයෝගය ජලීය **NaOH** සමග පිරියම් කළ විට **I** ලබාදෙයි.

(i) **A, B, C, D, E, F, G, H** සහ **I** වල ව්‍යුහ, පහත දී ඇති කොටු තුළ අඳින්න.

A

B

C

D

E

F

G

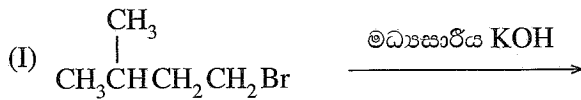
H

I


(ii) D, E සහ I එකිනෙකින් වෙන් කර හඳුනාගැනීම සඳහා, රසායනික පරීක්ෂාවක් විස්තර කරන්න.

(ලකුණු 60 යි)

(b) (i) පහත දී ඇති (I-V) ප්‍රතික්‍රියාවල, J, K, L, M සහ N ඵලවල ව්‍යුහයන් දී ඇති කොටු තුළ අඳින්න.



J



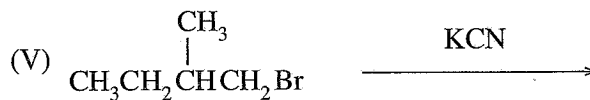
K



L



M



N

(ii) ප්‍රතික්‍රියා I-V අතරින් තෝරාගනිමින්, පහත දැක්වෙන එක් එක් ප්‍රතික්‍රියා වර්ගයකට එක් නිදසුනක් බැගින් දෙන්න.

- න්‍යූක්ලියෝෆිලික ආකලනය
- ඉලෙක්ට්‍රෝෆිලික ආකලනය
- ඉවත්වීමේ ප්‍රතික්‍රියාව

(ලකුණු 40 යි)

සියලු ම හිමිකම් ඇවිරිණි / முழுப் பதிப்புரிமையுடையது / All Rights Reserved

ශ්‍රී ලංකා විභාග දෙපාර්තමේන්තුව ශ්‍රී ලංකා විභාග දෙපාර්තමේන්තුව ශ්‍රී ලංකා විභාග දෙපාර්තමේන්තුව ශ්‍රී ලංකා විභාග දෙපාර්තමේන්තුව ශ්‍රී ලංකා විභාග දෙපාර්තමේන්තුව
 இலங்கைப் பரீட்சைத் திணைக்களம் இலங்கைப் பரීட்சைத் திணைக்களம் இலங்கைப் பரීட்சைத் திணைக்களம் இலங்கைப் பரීட்சைத் திணைக்களம் இலங்கைப் பரීட்சைத் திணைக்களம்
 Department of Examinations, Sri Lanka Department of Examinations, Sri Lanka Department of Examinations, Sri Lanka Department of Examinations, Sri Lanka Department of Examinations, Sri Lanka
 ශ්‍රී ලංකා විභාග දෙපාර්තමේන්තුව ශ්‍රී ලංකා විභාග දෙපාර්තමේන්තුව ශ්‍රී ලංකා විභාග දෙපාර්තමේන්තුව ශ්‍රී ලංකා විභාග දෙපාර්තමේන්තුව ශ්‍රී ලංකා විභාග දෙපාර්තමේන්තුව
 இலங்கைப் பரීட்சைத் திணைக்களம் இலங்கைப் பரීட்சைத் திணைக்களம் இலங்கைப் பரීட்சைத் திணைக்களம் இலங்கைப் பரීட்சைத் திணைக்களம் இலங்கைப் பரීட்சைத் திணைக்களம்
 Department of Examinations, Sri Lanka Department of Examinations, Sri Lanka Department of Examinations, Sri Lanka Department of Examinations, Sri Lanka Department of Examinations, Sri Lanka

අධ්‍යයන පොදු සහතික පත්‍ර (උසස් පෙළ) විභාගය, 2022 (2023)
 கல்விப் பொதுத் தராதரப் பத்திர (உயர் தர)ப் பரீட்சை, 2022 (2023)
 General Certificate of Education (Adv. Level) Examination, 2022 (2023)

රසායන විද්‍යාව II
 இரசாயனவியல் II
 Chemistry II

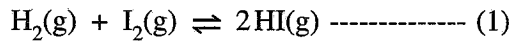


* සාර්වත්‍ර වායු නියතය $R = 8.314 \text{ J K}^{-1} \text{ mol}^{-1}$
 * ඇවගාඩරෝ නියතය $N_A = 6.022 \times 10^{23} \text{ mol}^{-1}$

B කොටස - රචනා

ප්‍රශ්න දෙකකට පමණක් පිළිතුරු සපයන්න. (එක් එක් ප්‍රශ්නයට ලකුණු 150 බැගින් ලැබේ.)

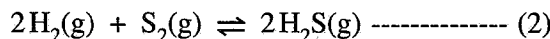
5. (a) උෂ්ණත්වය 800 °C දී පහත දී ඇති (1) ප්‍රතික්‍රියාව සලකන්න.



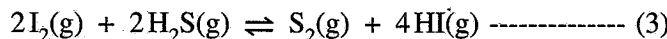
ආරම්භයේදී, HI(g) 0.45 mol රේචනය කරන ලද 800 °C ඇති දෘඪ සංචාක 1.0 dm³ බඳුනක් තුළට ඇතුළු කර ඉහත සමතුලිතතාවයට එළඹීමට ඉඩ හරින ලදී. සමතුලිතතාවයේදී H₂(g) 0.05 mol ඇති බව සොයාගන්නා ලදී.

(i) උෂ්ණත්වය 800 °C දී ඉහත සමතුලිතතාවය සඳහා සමතුලිතතා නියතය K_{C1} ගණනය කරන්න.

(ii) උෂ්ණත්වය 800 °C ඇති වෙනත් සමාන රේචනය කරන ලද බඳුනක් තුළ සමතුලිතතා නියතය K_{C2} = 1.2 × 10⁸ mol⁻¹ dm³ සහිත (2) ප්‍රතික්‍රියාව සිදුවේ.



බඳුන් දෙක එකිනෙකට සම්බන්ධ කළ විට උෂ්ණත්වය 800 °C දී පහත (3) ප්‍රතික්‍රියාව සිදුවේ.



උෂ්ණත්වය 800 °C දී (3) ප්‍රතික්‍රියාව සඳහා සමතුලිතතා නියතය K_{C3} ගණනය කරන්න.

(iii) උෂ්ණත්වය 800 °C ඇති 1.0 dm³ දෘඪ සංචාක බඳුනක් තුළ ඉහත (ii) හි සඳහන් (3) හි සමතුලිතතා මිශ්‍රණයක HI(g) 5.00 × 10⁻⁵ mol, S₂(g) 1.25 × 10⁻⁶ mol සහ H₂S(g) 2.50 × 10⁻⁵ mol අඩංගු වේ. ඉහත මිශ්‍රණයෙහි ඇති I₂(g) මවුල ප්‍රමාණය ගණනය කරන්න.

(iv) උෂ්ණත්වය 800 °C ඇති ඉහත (iii) හි සමතුලිතතා මිශ්‍රණයට අමතර I₂(g) 2.50 × 10⁻⁵ mol එකතු කරන ලදී.

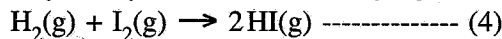
I. අමතර I₂(g) එකතු කරන ලද මොහොතේදී ප්‍රතික්‍රියා ලබ්ධිය (Q_C) ගණනය කරන්න.

II. වැඩිපුර I₂(g) එකතු කළ විට, සමතුලිතතාවයෙහි සිදුවන වෙනස පැහැදිලි කරන්න.

III. අමතර I₂(g) එකතු කළ විට කාලයත් සමග මිශ්‍රණයෙහි ඇති එක් එක් සංඝටකයන්හි සාන්ද්‍රණවල වෙනස්වීම දළ සටහනකින් දක්වන්න.

(ලකුණු 60 යි)

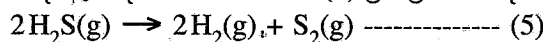
(b) (i) පහත දී ඇති දත්ත භාවිතයෙන් (4) ප්‍රතික්‍රියාව සඳහා 27 °C දී ΔH°, ΔS° සහ ΔG° ගණනය කරන්න.



27 °C දී: $\text{H}_2(\text{g}) + \text{I}_2(\text{s}) \rightarrow 2\text{HI}(\text{g}) ; \Delta H^\circ = 53 \text{ kJ mol}^{-1}, \Delta S^\circ = 410 \text{ J K}^{-1} \text{ mol}^{-1}$

$\text{I}_2(\text{s}) \rightarrow \text{I}_2(\text{g}) ; \Delta H^\circ = 63 \text{ kJ mol}^{-1}, \Delta S^\circ = 260 \text{ J K}^{-1} \text{ mol}^{-1}$

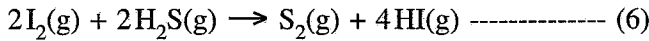
(ii) පහත දී ඇති දත්ත භාවිතයෙන් (5) ප්‍රතික්‍රියාව සඳහා 27 °C දී ΔH°, ΔS° සහ ΔG° ගණනය කරන්න.



27 °C දී: $\Delta H_f^\circ / \text{kJ mol}^{-1}$ $\Delta S_f^\circ / \text{J K}^{-1} \text{ mol}^{-1}$

H ₂ (g) :	0	130
S ₂ (g) :	127	230
H ₂ S(g) :	-20	200

(iii) ඉහත (b)(i) හා (b)(ii) න් ලබාගත් පිළිතුරු භාවිතයෙන් 27 °C දී පහත දී ඇති (6) ප්‍රතික්‍රියාව ස්වයංසිද්ධ ද නැත් ද යන වග හේතු දක්වමින් පුරෝකථනය කරන්න.



(ලකුණු 60 යි)

(c) උෂ්ණත්වය 25 °C දී බිකරයක ඇති ජලීය ද්‍රාවණ 1.0 dm³ පරිමාවක Cl⁻(aq) අයන 2.0 × 10⁻² mol සහ CrO₄²⁻ (aq) අයන 2.0 × 10⁻² mol අඩංගු වේ. ඉහත ද්‍රාවණයට ජලීය සාන්ද්‍ර AgNO₃ ද්‍රාවණයක ස්වල්ප ප්‍රමාණය බැගින් සෙමින් එකතු කරන ලදී. 25 °C දී K_{sp} (AgCl(s)) = 1.60 × 10⁻¹⁰ mol² dm⁻⁶ සහ K_{sp} (Ag₂CrO₄(s)) = 8.0 × 10⁻¹² mol³ dm⁻⁹ වේ. AgNO₃(aq) ද්‍රාවණය එකතු කිරීමේදී ද්‍රාවණ පරිමාවෙහි සැලකිය යුතු වෙනසක් සිදු නොවන බව උපකල්පනය කරන්න.

- (i) පළමුව අවක්ෂේප වන්නේ AgCl බව සුදුසු ගණනය කිරීමකින් පෙන්වන්න.
- (ii) Ag₂CrO₄ අවක්ෂේප වීම ආරම්භ වන අවස්ථාවේදී, ද්‍රාවණයෙහි පවතින Cl⁻(aq) අයන සාන්ද්‍රණය ගණනය කරන්න.

(ලකුණු 30 යි)

6. (a) 25 °C ඇති සෝඩියම් ඇසිටේට් (CH₃COONa) ජලීය ද්‍රාවණයක් මඬට සපයා ඇත.

- (i) ජලීය මාධ්‍යයේදී සෝඩියම් ඇසිටේට්හි ජල විච්ඡේදනය සඳහා සමතුලිත ප්‍රතික්‍රියාව ලියන්න.
- (ii) ඉහත (i) හි සමතුලිතතාවයෙහි සමතුලිතතා නියතය K_h සඳහා ප්‍රකාශනය ලියන්න.
- (iii) 25 °C දී CH₃COOH (aq), හා H₂O (l) හි විඝටන නියත පිළිවෙළින් K_a සහ K_w නම් $K_h = \frac{K_w}{K_a}$ බව පෙන්වන්න.
- (iv) 25 °C දී K_a = 1.8 × 10⁻⁵ mol dm⁻³ සහ K_w = 1.0 × 10⁻¹⁴ mol² dm⁻⁶ නම්, 25 °C දී K_h වල අගය ගණනය කරන්න.
- (v) 0.10 mol dm⁻³ CH₃COONa ද්‍රාවණයක 25.00 cm³ කොටසක් 0.10 mol dm⁻³ HCl ද්‍රාවණයක් සමග අනුමාපනය කරනු ලැබේ. සමකතා ලක්ෂ්‍ය සඳහා අවශ්‍ය වන 0.10 mol dm⁻³ HCl පරිමාව කුමක් ද? සමකතා ලක්ෂ්‍යයේදී ද්‍රාවණයේ pH අගය ගණනය කරන්න.
- (vi) ඉහත (v) හි අනුමාපනයෙහි අනුමාපන වක්‍රය (pH ට එදිරිව HCl පරිමාව) දළ සටහනකින් දක්වන්න.
- (vii) ඉහත (v) හි අනුමාපනය සඳහා භාවිත කළ හැකි දර්ශකයක් සඳහන් කරන්න.
- (viii) 0.10 mol dm⁻³ CH₃COOH ද්‍රාවණයක් 0.10 mol dm⁻³ ජලීය ඇමෝනියා ද්‍රාවණයක් සමග අනුමාපනය කළ නොහැකි වන්නේ මන්දැයි පැහැදිලි කරන්න.

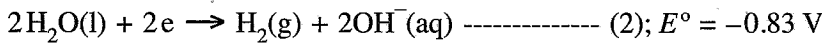
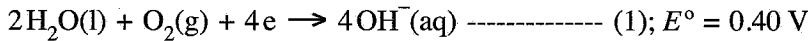
(ලකුණු 90 යි)

(b) දී ඇති උෂ්ණත්වයකදී වාෂ්පශීලී A සහ B ද්‍රව දෙකක් මිශ්‍ර කිරීමෙන් ද්වයංගී පරිපූර්ණ ද්‍රව මිශ්‍රණයක් සාදන ලදී. ද්‍රව කලාපයෙහි සංයුතිය X_A = 0.2 සහ X_B = 0.8 වන විට වාෂ්ප කලාපයෙහි පීඩනය P වේ (X_A හා X_B යනු ද්‍රව කලාපයේදී පිළිවෙළින් A හා B හි මවුල භාග වේ). ද්‍රව කලාපයෙහි සංයුතිය X_A = 0.5 සහ X_B = 0.5 ලෙස වෙනස් කළ විට, වාෂ්ප කලාපයෙහි පීඩනය $\frac{5}{3}P$ බවට පත් වේ. මෙම උෂ්ණත්වයේදී A හා B හි සන්තෘප්ත වාෂ්ප පීඩන පිළිවෙළින් P_A⁰ සහ P_B⁰ වේ.

- (i) P_A⁰ = 5P_B⁰ බව පෙන්වන්න.
- (ii) P_A, P_B සහ P_{මිශ්‍ර} හි වෙනස් වීම් දක්වමින් A හා B මිශ්‍රණය සඳහා අදාළ සංයුති-වාෂ්ප පීඩන සටහන ඇඳ ලේබල් කරන්න.
- (iii) P_A = P_B වන ලක්ෂ්‍යයට අදාළ ද්‍රව කලාපයෙහි සංයුතිය ගණනය කරන්න.

(ලකුණු 60 යි)

7. (a) 25 °C දී පහත (1) සහ (2) අර්ධ-ප්‍රතික්‍රියාවන් පදනම් කොටගෙන ගැල්වානික විද්‍යුත් රසායනික කෝෂයක් ගොඩනගන ලදී.



- (i) මෙම කෝෂයෙහි ඇනෝඩය හා කැතෝඩය අර්ධ ප්‍රතික්‍රියාවන් හඳුනාගන්න.
- (ii) මෙම කෝෂයෙහි සම්පූර්ණ තුලිත කෝෂ ප්‍රතික්‍රියාව ලියන්න.
- (iii) 25 °C දී කෝෂයෙහි E_{cell}° ගණනය කරන්න.
- (iv) කෝෂය 600 s ක කාලයක් තුළ ක්‍රියාත්මක කරන ලදී. මෙම කාලය තුළ $\text{H}_2(\text{g})$ 1.0 mol වැය විය.
 - I. කෝෂය තුළින් ගමන් කළ ඉලෙක්ට්‍රෝන මවුල සංඛ්‍යාව ගණනය කරන්න.
 - II. කෝෂය ක්‍රියාත්මක වන කාලය තුළ දී උත්පාදනය වූ විද්‍යුත් ප්‍රමාණය (කුලෝම්වලින්) ගණනය කරන්න.
(1 F = 96500 C mol⁻¹)
 - III. කෝෂය ක්‍රියාත්මක වන කාලය තුළ දී එමගින් ලැබුණු ධාරාව නියත ලෙස උපකල්පනය කරමින් එහි අගය ගණනය කරන්න.
- (v) ඉහත ගැල්වානික විද්‍යුත් රසායනික කෝෂයේ $\text{H}_2(\text{g})$ වෙනුවට ප්‍රොපේන් ($\text{C}_3\text{H}_8(\text{g})$) භාවිත කරයි.
 - I. මෙහිදී ප්‍රොපේන්, $\text{CO}_2(\text{g})$ හා $\text{H}_2\text{O}(\text{l})$ බවට පරිවර්තනය වන බව උපකල්පනය කරමින් ප්‍රොපේන් ඉලෙක්ට්‍රෝඩය සඳහා අර්ධ-කෝෂ ප්‍රතික්‍රියාව ලියන්න.
 - II. ඉහත (ii) හි පිළිතුරෙහි $\text{H}_2(\text{g})$ වෙනුවට ප්‍රොපේන් භාවිත කර, සම්පූර්ණ කෝෂ ප්‍රතික්‍රියාව සඳහා තුලිත සමීකරණය ව්‍යුත්පන්න කරන්න.
 - III. ප්‍රොපේන් භාවිත කරන කෝෂයට වඩා $\text{H}_2(\text{g})$ භාවිත කරන කෝෂයෙන් ලැබෙන පාරිසරික වාසියක් හේතු දක්වමින් සඳහන් කරන්න.

(ලකුණු 75 යි)

(b) (i) X යනු ආවර්තිතා වගුවේ හතරවන ආවර්තයට අයත් d-ගොනුවේ මූලද්‍රව්‍යයකි. තනුක HCl සමග X ප්‍රතික්‍රියා කළ විට X_1 අවර්ණ ද්‍රාවණය හා X_2 වායුව ලැබේ. තනුක $\text{NH}_4\text{OH}/\text{NH}_4\text{Cl}$ සමග X_1 පිරියම් කර, ඉන්පසු මෙම ද්‍රාවණය තුළින් H_2S බුබුලනය කළ විට, X_3 සුදු අවක්ෂේපය ලැබේ. තනුක HCl හි X_3 ද්‍රාවණය වේ. X_1 ට තනුක NaOH එක් කළ විට, X_4 සුදු ජෙලටීනීය අවක්ෂේපය සෑදේ. වැඩිපුර තනුක NaOH හි සහ වැඩිපුර තනුක NH_4OH හි X_4 ද්‍රාවණය වී පිළිවෙලින් X_5 හා X_6 ලබාදෙයි. X_5 හා X_6 යන දෙකම අවර්ණ වේ.

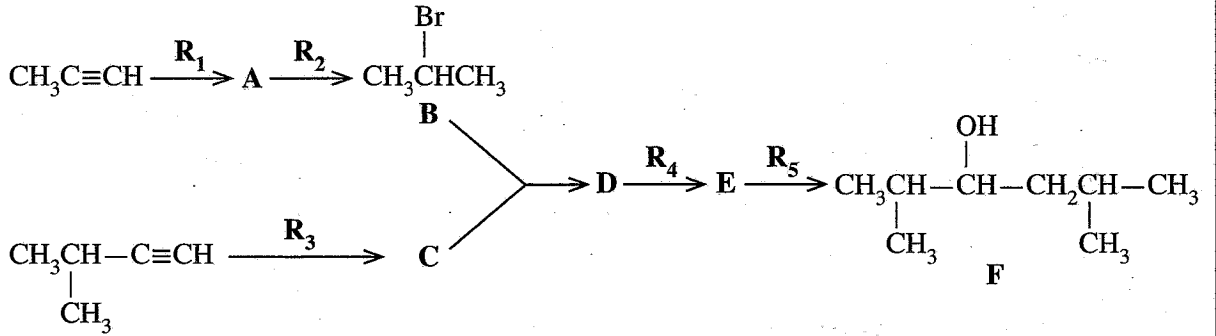
- I. X සහ X_1 සිට X_6 දක්වා විශේෂ හඳුනාගන්න. (රසායනික සූත්‍ර දෙන්න) සැ.ගු.: හේතු අවශ්‍ය නැත.
- II. X හි ඉලෙක්ට්‍රෝන වින්‍යාසය ලියන්න.
- III. X_1 අවර්ණ මන්දැයි පැහැදිලි කරන්න.
- IV. X_6 හි IUPAC නම ලියන්න.
- (ii) Y ද ආවර්තිතා වගුවේ X අයත් ආවර්තයේම ඇති d-ගොනුවේ මූලද්‍රව්‍යයකි. Y ට n හා m සුලභ ඔක්සිකරණ අංක දෙක ඇත. n ට වඩා m විශාල වේ. ජලීය ද්‍රාවණයේදී Y^{n+} රෝස පැහැති Y_1 විශේෂය සාදයි. Y_1 අඩංගු ද්‍රාවණය තනුක NaOH සමග පිරියම් කළ විට Y_2 රෝස පැහැති අවක්ෂේපය සෑදේ. Y_1 අඩංගු යන්ත්‍රික භාස්මික ද්‍රාවණයක් තුළින් H_2S බුබුලනය කළ විට, Y_3 කළු පැහැති අවක්ෂේපය ලැබේ. Y_1 අඩංගු ද්‍රාවණයට වැඩිපුර සාන්ද්‍ර ඇමෝනියා එක් කළ විට කහ පැහැති දුඹුරු Y_4 විශේෂය සෑදේ. Y_1 අඩංගු ද්‍රාවණය සාන්ද්‍ර HCl සමග පිරියම් කළ විට නිල් පැහැති Y_5 විශේෂය ලැබේ. Y_4 වාතයට නිරාවරණය කළ විට Y_6 දුඹුරු පැහැති ඊතුව විශේෂය සෑදේ.
 - I. n හා m හි අගයයන් දෙන්න.
 - II. Y සහ Y_1 සිට Y_6 දක්වා විශේෂ හඳුනාගන්න. (රසායනික සූත්‍ර දෙන්න) සැ.ගු.: හේතු අවශ්‍ය නැත.
 - III. Y^{n+} හා Y^{m+} හි ඉලෙක්ට්‍රෝන වින්‍යාසය ලියන්න.
 - IV. Y_5 හි IUPAC නම ලියන්න.

(ලකුණු 75 යි)

C කොටස - රචනා

ප්‍රශ්න දෙකකට පමණක් පිළිතුරු සපයන්න. (එක් එක් ප්‍රශ්නයට ලකුණු 150 බැගින් ලැබේ.)

8. (a) $\text{CH}_3\text{C}\equiv\text{CH}$ සහ $(\text{CH}_3)_2\text{CHC}\equiv\text{CH}$ භාවිත කරමින් පහත දැක්වෙන ප්‍රතික්‍රියා අනුක්‍රමයට අනුව **F** සංයෝගය පිළියෙල කර ඇත.



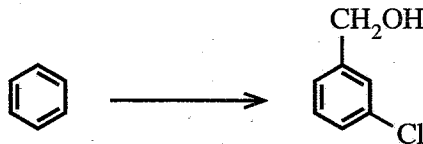
(i) **A, C, D** සහ **E** සංයෝගවල ව්‍යුහ සහ ප්‍රතිකාරක $\text{R}_1, \text{R}_2, \text{R}_3, \text{R}_4$ සහ R_5 දෙන්න. ප්‍රතිකාරක වශයෙන් පහත දී ඇති රසායනික ද්‍රව්‍ය පමණක් තනි තනිව හෝ සංයෝජන ලෙස භාවිත කළ යුතු ය.

රසායනික ද්‍රව්‍ය:
 $\text{H}_2, \text{NaNH}_2, \text{NaBH}_4, \text{HgSO}_4, \text{HBr}, \text{dil. H}_2\text{SO}_4, \text{Pd-BaSO}_4/\text{Quinoline catalyst}, \text{CH}_3\text{OH}$

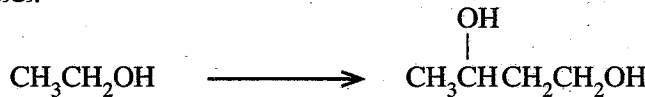
(ii) **F** සංයෝගය $\text{H}^+/\text{K}_2\text{Cr}_2\text{O}_7$ සමග ප්‍රතික්‍රියා කරවන ලදී. මෙම ප්‍රතික්‍රියාවෙන් ලැබුණු එලය 2, 4-ඩයිනයිට්‍රෝෆීනයිල්හයිඩ්‍රජින් (2, 4-DNP) සමග ප්‍රතික්‍රියා කළ විට **G** සංයෝගය සෑදේ. **G** හි ව්‍යුහය දෙන්න.

(ලකුණු 60 යි)

(b) (i) පහත දැක්වෙන පරිවර්තනය, හතරකට (04) නොවැඩි පියවර සංඛ්‍යාවකින් සිදු කරන්නේ කෙසේදැයි පෙන්වන්න.

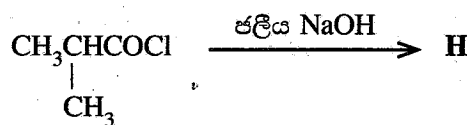


(ii) පහත දැක්වෙන පරිවර්තනය, තුනකට (03) නොවැඩි පියවර සංඛ්‍යාවකින් සිදු කරන්නේ කෙසේදැයි පෙන්වන්න.



(ලකුණු 60 යි)

(c) පහත දී ඇති ප්‍රතික්‍රියාවේ **H** එලයෙහි ව්‍යුහය දෙන්න. මෙම ප්‍රතික්‍රියාවේ යන්ත්‍රණය ලියන්න.



(ලකුණු 30 යි)

9. (a) A හා B ජලයෙහි ද්‍රාව්‍ය අකාබනික සංයෝග වේ. A වර්ණවත් වන අතර B අවර්ණ වේ. A හා B හි ජලීය ද්‍රාවණ එකට මිශ්‍ර කළ විට, C සුදු අවක්ෂේපය හා ජලයෙහි ද්‍රාව්‍ය D සංයෝගය සෑදේ. තනුක HCl හි C ද්‍රවණය වී, එක් එලයක් ලෙස කටුක ගන්ධයක් ඇති E වායුව දෙයි. E, ආම්ලිකතා $K_2Cr_2O_7$ ද්‍රාවණයක් තුළින් යැවූ විට ද්‍රාවණය කොළ පැහැයට හැරෙයි. A හි ජලීය ද්‍රාවණයකට තනුක NH_4OH එක් කිරීමේදී F කොළ පැහැති අවක්ෂේපය ලැබේ. වැඩිපුර තනුක NH_4OH හි F ද්‍රවණය වී තද නිල් පැහැති G ද්‍රාවණය ලබාදෙයි. NH_4OH/NH_4Cl එකතු කරන ලද ජලීය ද්‍රාවණයක් තුළින් H_2S බුබුලනය කළ විට කළු අවක්ෂේපයක් සෑදේ. B හි ජලීය ද්‍රාවණයකට $AgNO_3(aq)$ එක් කළ විට තනුක NH_4OH හි ද්‍රාව්‍ය සුදු පැහැති H අවක්ෂේපය සෑදේ. B හි ජලීය ද්‍රාවණයකට $Pb(NO_3)_2(aq)$ එක් කළ විට, උණුසුම් ජලයෙහි ද්‍රාව්‍ය I සුදු අවක්ෂේපය ලැබේ. B හි ජලීය ද්‍රාවණයකට තනුක H_2SO_4 එක් කළ විට තනුක HCl හි අද්‍රාව්‍ය J සුදු අවක්ෂේපය සෑදේ. පහත සිළු පරීක්ෂාවේදී B කොළ පැහැති දැල්ලක් ලබාදෙයි.

- (i) A සිට J දක්වා විශේෂ හඳුනාගන්න. (රසායනික සූත්‍ර දෙන්න) සැ.යු.: හේතු අවශ්‍ය නැත.
- (ii) පහත දෑ සඳහා තුලිත රසායනික සමීකරණ ලියන්න.

- I. C හා D සෑදීම
- II. තනුක HCl හි C ද්‍රවණය වීම

(ලකුණු 75 යි)

(b) යපස්, X, වල FeO, Fe_2O_3 සහ නිෂ්ක්‍රීය ද්‍රව්‍ය අඩංගු වේ. X වල ඇති FeO සහ Fe_2O_3 ස්කන්ධ ප්‍රතිශතයන් නිර්ණය කිරීම සඳහා පහත දැක්වෙන පරීක්ෂණාත්මක ක්‍රියාපිළිවෙළ යොදාගන්නා ලදී.

X වල 0.4800 g ස්කන්ධයක් සාන්ද්‍ර අම්ල 10 cm^3 හි ද්‍රවණය කරන ලදී. අද්‍රාව්‍ය ද්‍රව්‍ය ඉවත් කිරීමට මෙම ද්‍රාවණය පෙරා, ඉන්පසු 50.00 cm^3 දක්වා ආසුන් ජලය යොදාගනිමින් තනුක කරන ලදී. මෙම තනුක කරන ලද සම්පූර්ණ ද්‍රාවණයම 0.020 mol dm^{-3} $KMnO_4$ ද්‍රාවණයක් සමඟ අනුමාපනය කරන ලදී. අන්ත ලක්ෂ්‍යයේදී ලැබුණු අනුමාපන පාඨාංකය 20.00 cm^3 විය. අනුමාපනයෙන් පසු ලැබුණු සම්පූර්ණ ද්‍රාවණය pH අගය 12 දක්වා ඉහළ නංවන ලදී. මෙම අවස්ථාවේදී ද්‍රාවණයේ ඇති ලෝහ අයන ඒවායේ හයිඩ්‍රොක්සයිඩ් ලෙස අවක්ෂේප විය. මෙම අවක්ෂේපය පෙරා නියත ස්කන්ධයක් ලැබෙන තුරු වියළන ලදී. ලැබුණු අවක්ෂේපයේ ස්කන්ධය 0.5706 g වේ.

- (i) අනුමාපන සහ අවක්ෂේපණ ප්‍රතික්‍රියා සඳහා තුලිත රසායනික සමීකරණ ලියන්න.
- (ii) X වල ඇති FeO සහ Fe_2O_3 ස්කන්ධ ප්‍රතිශතයන් ගණනය කරන්න.
 සැ.යු.: ලෝහ හයිඩ්‍රොක්සයිඩ් වියළීමේදී ඒවායෙහි සංයුතියේ වෙනසක් නොවන සහ ද්‍රාවණයේ ද්‍රාවිත ඔක්සිජන් මගින් බලපෑමක් නොවන බව උපකල්පනය කරන්න.
 (H = 1, O = 16, Mn = 55, Fe = 56)

(ලකුණු 75 යි)

10.(a) පහත දැක්වෙන ප්‍රශ්න [(i) – (v)] ස්පර්ශ ක්‍රමය මගින් සල්ෆියුරික් අම්ලය නිෂ්පාදනය මත පදනම් වේ.

- (i) යොදාගන්නා අමුද්‍රව්‍ය තුන සඳහන් කරන්න.
- (ii) සිදුවන ප්‍රතික්‍රියා සඳහා තුලිත රසායනික සමීකරණ ලියන්න. නිසි තත්වයන් අදාළ පරිදි සඳහන් කරන්න.
- (iii) ස්පර්ශ ක්‍රමයේ කාර්යක්ෂමතාව වැඩි කිරීමට ගෙන ඇති උපායමාර්ග දෙකක් සඳහන් කරන්න.
- (iv) ස්පර්ශ ක්‍රමයේ ප්‍රශස්ත තත්ව නිර්ණය කිරීමේදී භාවිතවන මූලධර්ම දෙකක් සඳහන් කොට, මෙම එක් එක් මූලධර්මය, ඔබ ඉහත (ii) කොටසේ දැක්වූ ප්‍රතික්‍රියාවක් ආධාරයෙන් කෙටියෙන් පහදන්න.
- (v) සල්ෆියුරික් අම්ලය අමුද්‍රව්‍යයක් ලෙස භාවිත කරන කර්මාන්ත දෙකක් නම් කරන්න.

(ලකුණු 50 යි)

(b) කාබන්, නයිට්‍රජන් සහ සල්ෆර්හි විවිධ ඔක්සිකරණ අංක ඇති වායුමය සංයෝග ගෝලීය පාරිසරික ප්‍රශ්නවලට සෘජුවම දායක වෙයි.

- (i) ගෝලීය උණුසුම ඉහළ යාමට සෘජුවම දායකවන හැලපත් අඩංගු නොවන කාබන් සංයෝග දෙකක් සහ එක් නයිට්‍රජන් සංයෝගයක් නම් කර මෙම සංයෝගවල C හා N හි ඔක්සිකරණ අංක සඳහන් කරන්න.
- (ii) ඉහත (i) හි ඔබ නම් කළ සංයෝග තුන මිනිස් ක්‍රියාකාරකම් හේතුවෙන් වායුගෝලයට එක්වන ආකාර සඳහන් කරන්න.
- (iii) ඉහත (i) හි ඔබ සඳහන් කරන ලද සංයෝග ගෝලීය උණුසුම ඉහළ යාමට දායකවන ආකාරය පැහැදිලි කරන්න.
- (iv) ප්‍රකාශ රසායනික ධූමිකාවට සෘජුවම දායකවන නයිට්‍රජන් සංයෝග දෙකක් N හි ඔක්සිකරණ අංක සමග නම් කරන්න.
- (v) ඔබ (iv) හි සඳහන් කළ නයිට්‍රජන් සංයෝගයක් මගින් පරිවර්තී ගෝලයේ ඕසෝන් සාදන ආකාරය තුලිත රසායනික සමීකරණ මගින් ලියා දක්වන්න.
- (vi) පරිවර්තී ගෝලයේ ඕසෝන් මට්ටම දහවල් කාලයේ (afternoon) උපරිමයකට ළඟා වන්නේ මන්දැයි පැහැදිලි කරන්න.
- (vii) නයිට්‍රජන් සහ සල්ෆර්වල ඔක්සයිඩ් ජල ප්‍රභවවල ද්‍රාව්‍ය වීම හේතුවෙන් බලපෑමට ලක්වෙන ජල තත්ව පරාමිති තුනක් සඳහන් කරන්න.

(ලකුණු 50 යි)

(c) පහත දැක්වෙන ප්‍රශ්න ශාක ප්‍රභව ආශ්‍රිත රසායනික නිෂ්පාදන මත පදනම් වේ.

- (i) මීරා පැසවීම මගින් පොල් රා හි එතනෝල් නිපදවන විට සිදුවන රසායනික වෙනස්කම් දැක්වීමට අදාළ තුලිත සමීකරණ දෙන්න.
- (ii) ජෛව ඩීසල් නිෂ්පාදනයේදී අමුද්‍රව්‍ය ලෙස ගන්නා ශාක තෙල්වලින් නිදහස් මේද අම්ල ඉවත් කිරීමට අවශ්‍ය වන්නේ මන්දැයි පැහැදිලි කරන්න.
- (iii) හුමාල ආසවනය මගින් ශාක ද්‍රව්‍ය වලින් සගන්ධ තෙල් නිස්සාරණය, සංශුද්ධ ජලය සහ භගන්ධ තෙල් යන දෙකෙහිම තාපාංක වලට වඩා අඩු උෂ්ණත්වයකදී කළ හැකි වන්නේ මන්දැයි කෙටියෙන් පැහැදිලි කරන්න.

(ලකුණු 50 යි)

ආවර්තික වගුව

1	1																	2						
	H																	He						
2	3	4													5	6	7	8	9	10				
	Li	Be													B	C	N	O	F	Ne				
3	11	12																	13	14	15	16	17	18
	Na	Mg																	Al	Si	P	S	Cl	Ar
4	19	20	21	22	23	24	25	26	27	28	29	30	31	32	33	34	35	36						
	K	Ca	Sc	Ti	V	Cr	Mn	Fe	Co	Ni	Cu	Zn	Ga	Ge	As	Se	Br	Kr						
5	37	38	39	40	41	42	43	44	45	46	47	48	49	50	51	52	53	54						
	Rb	Sr	Y	Zr	Nb	Mo	Tc	Ru	Rh	Pd	Ag	Cd	In	Sn	Sb	Te	I	Xe						
6	55	56	La-	72	73	74	75	76	77	78	79	80	81	82	83	84	85	86						
	Cs	Ba	Lu	Hf	Ta	W	Re	Os	Ir	Pt	Au	Hg	Tl	Pb	Bi	Po	At	Rn						
7	87	88	Ac-	104	105	106	107	108	109	110	111	112	113	114	115	116	117	118						
	Fr	Ra	Lr	Rf	Db	Sg	Bh	Hs	Mt	Ds	Rg	Cn	Nh	Fl	Mc	Lv	Ts	Og						

57	58	59	60	61	62	63	64	65	66	67	68	69	70	71
La	Ce	Pr	Nd	Pm	Sm	Eu	Gd	Tb	Dy	Ho	Er	Tm	Yb	Lu
89	90	91	92	93	94	95	96	97	98	99	100	101	102	103
Ac	Th	Pa	U	Np	Pu	Am	Cm	Bk	Cf	Es	Fm	Md	No	Lr