

OL/2010/50-S-I,II

සියලු ම හිමිකම් ඇවිරිණි
 முழுப் பதிப்புரிமையுடையது
 All Rights Reserved

ශ්‍රී ලංකා විභාග දෙපාර්තමේන්තුව ශ්‍රී ලංකා විභාග දෙපාර්තමේන්තුව ශ්‍රී ලංකා විභාග දෙපාර්තමේන්තුව ශ්‍රී ලංකා විභාග දෙපාර්තමේන්තුව ශ්‍රී ලංකා විභාග දෙපාර්තමේන්තුව
 இலங்கைப் பரீட்சைத் திணைக்களம் இலங்கைப் பரීட்சைத் திணைக்களம் இலங்கைப் பரීட்சைத் திணைக்களம் இலங்கைப் பரීட்சைத் திணைக்களம் இலங்கைப் பரීட்சைத் திணைக்களம்
 Department of Examinations, Sri Lanka Department of Examinations, Sri Lanka Department of Examinations, Sri Lanka Department of Examinations, Sri Lanka Department of Examinations, Sri Lanka
 இலங்கைப் பரීட்சைத் திணைக்களம் இலங்கைப் பரීட்சைத் திணைக்களம் இலங்கைப் பரීட்சைத் திணைக்களம் இலங்கைப் பரīட்சைத் திணைக்களம் இலங்கைப் பரīட்சைத் திணைக்களம்
 Department of Examinations, Sri Lanka Department of Examinations, Sri Lanka Department of Examinations, Sri Lanka Department of Examinations, Sri Lanka Department of Examinations, Sri Lanka

50 S I,II

අධ්‍යයන පොදු සහතික පත්‍ර (සාමාන්‍ය පෙළ) විභාගය, 2010 දෙසැම්බර්
 கல்விப் பொதுத் தராதரப் பத்திர (சாதாரண தர)ப் பரீட்சை, 2010 டிசெம்பர்
 General Certificate of Education (Ord. Level) Examination, December 2010

නාට්‍ය හා රංග කලාව I, II நாடகமும் அரங்கியலும் I, II Drama and Theatre I, II	පැය තුනයි மூன்று மணித்தியாலங்கள் Three hours
---	--

නාට්‍ය හා රංග කලාව I

සැලකිය යුතුයි :

- (i) සියලු ම ප්‍රශ්නවලට පිළිතුරු සපයන්න.
- (ii) අංක 1 සිට 40 තෙක් ප්‍රශ්නවල, දී ඇති (1), (2), (3), (4) උත්තරවලින් කිවැරදි හෝ වඩාත් ගැළපෙන හෝ උත්තරය තෝරන්න.
- (iii) ඔබට සැපයෙන උත්තර පත්‍රයේ එක් එක් ප්‍රශ්නය සඳහා දී ඇති කව අතුරෙන්, ඔබ තෝරා ගත් උත්තරයෙහි අංකයට සැසඳෙන කවය තුළ (X) ලකුණ යොදන්න.
- (iv) එම උත්තර පත්‍රයේ පිටුපස, දී ඇති අනෙක් උපදෙස් ද සැලකිල්ලෙන් කියවා, ඒවා පිළිපදින්න.

● පහත දක්වෙන පද්‍ය ආශ්‍රයෙන් අංක 1 සිට 5 තෙක් ප්‍රශ්නවලට පිළිතුරු සපයන්න.

- (i) වෙ ද තටත්තේ පළමුව සබේට එන්නේ
 යොද කියන්නේ තාලට ගත වෙවුලන්නේ
 කු දේ වෑනෙන්නේ සබයේ කොක් හඬලන්නේ
 වි ද පාන්නේ අත් දෙක තෑගි කියන්නේ
- (ii) රජුන් අණ විලසට
 මුදලිඳු බසින් සහ කුට
 ආරම්භි මෙ සබේට
 ඒය විසිතුරු බලනු කදිමට
- (iii) දේවදර වෘක්ෂ වම්පකා අයෝක වන්දනා
 පුග තාල මුනමල් ද බදිර මේවන නන්දනා
 මුරු ගෝණ හස්ති අශ්ව මේ වනේ පෙනෙන් විශාල
 පෙන්නේ මෙතන වෘක්ෂ ශාල ගුමු තද දෙති හෘංග ලෝල
- (iv) දුල් නිමල් සිසි සේ දිසි
 සරදඹරේ - සිරි
 කල් ලකල් නිතරේ-ධදි-උර මැදුරේ-පුර මැදුරේ
 කින් පතලා-දිසි ලන්දු ගයන නිති
 ඇන්දු රසදුන බන්ද මපිය තරනින්ද සයොබන

1. ඉහත (i) වැනි පද්‍යය අයත් වන්නේ කවර නාට්‍ය සම්ප්‍රදයට ද?
 (1) කෝලම් (2) සොකරි (3) නාඩගම් (4) නූර්කි
2. පහතරට ගැමි නාටකයකට අයත් වන පද්‍යයෙහි අංකය වන්නේ,
 (1) (i) ය. (2) (ii) ය. (3) (iii) ය. (4) (iv) ය.
3. 'උත්තරරාමවර්ත' නූර්කියට අයත් වන පද්‍යයෙහි අංකය වන්නේ,
 (1) (i) ය. (2) (ii) ය. (3) (iii) ය. (4) (iv) ය.
4. නාඩගම් සම්ප්‍රදයට අයත් වන පද්‍යයෙහි අංකය වන්නේ,
 (1) (i) ය. (2) (ii) ය. (3) (iii) ය. (4) (iv) ය.
5. සියුම් උපහාසය හා භාසා රසය දනවන, කාරියකරවන රාළ වර්ත හැසිරවූ පද්‍යයෙහි අංකය වනුයේ,
 (1) (i) ය. (2) (ii) ය. (3) (iii) ය. (4) (iv) ය.

● පහත දැක්වෙන වගුව ආශ්‍රයෙන්, අංක 6 සිට 9 තෙක් ප්‍රශ්නවලට පිළිතුරු සපයන්න.

ක	ග	ජ	ච
කුවේණි ජනේලය මනරංජන වැඩවර්ජන	සඳකිඳුරු මුදු පුත්තු දේවතා ඵලී	වෙස්සන්තර පබාවතී බවකඩතුරාව	සුභ සහ යස පුස්ලෝධි ගගන සරන කුරුල්ලෝ

6. ඵදිරිවර සරච්චන්ද්‍ර විසින් නිර්මාණය කරන ලද නාට්‍ය කාණ්ඩය,
(1) ක ය. (2) ග ය. (3) ජ ය. (4) ච ය.
7. සයිමන් නවගන්නේගම විසින් නිර්මාණය කරන ලද නාට්‍ය කාණ්ඩය,
(1) ක ය. (2) ග ය. (3) ජ ය. (4) ච ය.
8. හෙත්ථි ජයසේන විසින් නිර්මාණය කරන ලද නාට්‍ය කාණ්ඩය,
(1) ක ය. (2) ග ය. (3) ජ ය. (4) ච ය.
9. ගුණසේන ගලප්පත්ති විසින් 'යෙරමා' නාට්‍යය ඇසුරෙන් අනුවර්තනය කරන ලද නාට්‍යය වන්නේ
(1) සඳකිඳුරු ය. (2) මුදු පුත්තු ය.
(3) පුස්ලෝධි ය. (4) දේවතා ඵලී ය.
10. 'තෘත්ත' යනු
(1) භාව ප්‍රකාශනයෙන් තොර නර්තනය වේ. (2) බටහිරින් බිහි වූ සංකල්පයකි.
(3) 'හරනනාට්‍යමි'හි ප්‍රධාන මාධ්‍යයයි. (4) සතර අභිනය මගින් ඉදිරිපත් කැරෙන්නකි.

● පහත දැක්වෙන සංවාද කොටස් ඇසුරු කරගනිමින් අංක 11 සිට 14 තෙක් ප්‍රශ්නවලට පිළිතුරු සපයන්න.

- (අ) "මං මේ කැලේ ඉන්න නරියෙක්. වංශ බොහෝම උසයි. සිභාල ගෝත්තරේ. ඒකට මොකද තවම පෙළවාසියක් කරගන්න බැරි උනා"
 - (ඉ) "(මඳක් කල්පනා කර) බය වෙන්න එපා. මේ කටයුත්ත මට භාර දෙන්නකො. කාටත් හිරිහැරයක් කණගාටුවක් ඇති නොවන විදියට සමාදානෙන් වැඩේ ඉෂ්ට කරන්නමිකෝ."
 - (උ) "අනේ ඔව්ව කොයිතරම් හොඳ සිරිත් ද? අපේ ජාතියේ උනත් ඒක තමයි අපි හුඟක්ම ගරු කරන සිරිත."
 - (ඵ) "අනේ කොච්චර එකක් ද? දුටුව ලැබෙන දැවැද්ද කොච්චර උකුම් එකක් ද? ජීවිතාත්තෙ දක්වා මකක් වෙන්න කියාගන්න ඕනෑ දේවල්නේ. මං ඉතින් දවැද්දට දෙන්නෙ මොනව ද කියල ඇහුවෙවත් නෑ. සතුටෙන් දෙන එව්ව ගැන මොනවට ද අහන්නෙ, ඔය සංගයක් නැති අය ඇහුවට."
 - (ඹ) "මොනවද ඉතිං දුටු සතුටු දේ තමයි අපි ගෙනාවෝ."
11. අසන්නා ගේ සිතේ කුතුහලයක් ඇති කරවන්නට සමත් ප්‍රකාශය වනුයේ,
(1) අ ය. (2) උ ය. (3) ඵ ය. (4) ඹ ය.
 12. මිනිස් වර්ගයාට හොඳ පාඩමක් කියාදෙන ප්‍රකාශය අතුළත් සංවාද බණ්ඩය,
(1) ඉ ය. (2) උ ය. (3) ඵ ය. (4) ඹ ය.
 13. ඒකල භාෂණයක් මගින් ඉදිරිපත් කැරෙන සංවාද බණ්ඩය වනුයේ,
(1) අ ය. (2) උ ය. (3) ඵ ය. (4) ඹ ය.
 14. ඉදිරියේ හොඳ ප්‍රතිඵලයක බලාපොරොත්තු ඇති කරවන සංවාද බණ්ඩය වනුයේ,
(1) අ ය. (2) ඉ ය. (3) උ ය. (4) ඹ ය.

- පහත සඳහන් තොරතුරු ඇසුරෙන් අංක 15 සිට 20 තෙක් ප්‍රශ්නවලට පිළිතුරු සපයන්න.

A - සොකරි නාටකය	B - සන්නියකුම
C - ගම්මඩුව	D - සුනියම් යාගය
E - රටයකුම	F - කොහොඹාකංකාරිය
G - කෝළම්	H - පහන් මඩුව
I - ගරායකුම	

15. උඩරට ප්‍රදේශයට ආවේනික ශාන්තිකර්ම ලෙස සැලැකෙන්නේ,

(1) G, H ය.	(2) A, F ය.	(3) C, E ය.	(4) H, D ය.
-------------	-------------	-------------	-------------
16. පහතරට ප්‍රදේශයෙහි බෙහෙවින් ප්‍රචලිත වූ ශාන්තිකර්ම වනුයේ,

(1) A, B, D ය.	(2) B, D, E ය.	(3) C, F, H ය.	(4) E, H, I ය.
----------------	----------------	----------------	----------------
17. සබරගමු ප්‍රදේශයෙහි පවත්නා ශාන්තිකර්ම ලෙස සැලැකෙන්නේ,

(1) A, F ය.	(2) E, I ය.	(3) C, H ය.	(4) D, F ය.
-------------	-------------	-------------	-------------
18. උඩරට ප්‍රධාන ශාන්තිකර්මය වනුයේ,

(1) F ය.	(2) A ය.	(3) C ය.	(4) H ය.
----------	----------	----------	----------
19. සශ්‍රීකත්වය අපේක්ෂාවෙන් සිදු කැරෙන ශාන්තිකර්ම වන්නේ,

(1) B, D, E, G ය.	(2) E, F, D, H ය.	(3) E, H, G, D ය.	(4) A, C, F, I ය.
-------------------	-------------------	-------------------	-------------------
20. පෞද්ගලික යහපත අපේක්ෂාවෙන් සිදු කැරෙන ශාන්තිකර්ම සේ සැලැකෙන්නේ,

(1) E, G, I ය.	(2) C, F, G ය.	(3) B, D, E ය.	(4) D, C, G ය.
----------------	----------------	----------------	----------------
21. සිංහල නාට්‍ය කලාවේ නූතන යුගය සනිටුහන් වන්නේ

(1) නාඩගම්වලින් පසු ව ය.	(2) නූර්කිවලට පසු ව ය.
(3) මනමේ නාටකයට පසු ව ය.	(4) සොකරි රහඳක්වීමත් සමග ය.
22. දේශානුරාහි හැඟීම් දනවන තේමා පදනම් කරගත් නාට්‍ය විශේෂය වනුයේ,

(1) කෝළම් ය.	(2) නාඩගම් ය.	(3) නූර්කි ය.	(4) සොකරි ය.
--------------	---------------	---------------	--------------

- පහත දැක්වෙන වගුව ආශ්‍රයෙන් අංක 23 සිට 28 තෙක් ප්‍රශ්නවලට පිළිතුරු සපයන්න.

නාට්‍යයේ නම	මුල් කෘතියේ රචක	පරිවර්තනයේ/අනුවර්තනයේ නම	මෙරට නිෂ්පාදක ගේ නම
ඉක්තෙව්ටාඉ	ක	ග	ජ
ච	ඛ	අහස් මාලිගා	ණ

23. වගුවේ 'ක' කොටුවේ සඳහන් විය යුතු නම කුමක් ද?

(1) ටෙනසි විලියම්ස්	(2) සොලොක්ලීස්	(3) සැමුවෙල් බෙකට්	(4) යූරිපිඩීස්
---------------------	----------------	--------------------	----------------
24. වගුවේ 'ග' කොටුවේ සඳහන් විය යුතු නාට්‍යයේ නම කුමක් ද?

(1) අපට පුනේ මගක් නෑනේ	(2) පුත්‍ර සමාගම
(3) බෙර හඬ	(4) ජන හතුරා
25. වගුවේ 'ජ' කොටුවේ සඳහන් විය යුතු නම කුමක් ද?

(1) බන්ඩුල ජයවර්ධන	(2) හෙන්රි ජයසේන	(3) ධම්ම ජාගොඩ	(4) සුනන්ද මහේන්ද්‍ර
--------------------	------------------	----------------	----------------------
26. වගුවේ 'ච' කොටුවේ සඳහන් විය යුතු නම කුමක් ද?

(1) ද වෙරි ඔවාර්ඩ්	(2) ග්ලාස් මෙනාජරි	(3) ද සීගල්	(4) ද ලෝවර් ඩෙජන්ස්
--------------------	--------------------	-------------	---------------------
27. වගුවේ 'ඛ' කොටුවේ සඳහන් විය යුතු නම කුමක් ද?


(1) ශාර්මිෂා ලොරිකා	(2) ඇන්ටන් වෙකොස්	(3) ටෙනසි විලියම්ස්	(4) බර්නාර්ඩ් ෂෝ
---------------------	-------------------	---------------------	------------------
28. මෙහි "ණ" කොටුවේ සඳහන් විය යුතු නම කුමක් ද?

(1) හෙන්රි ජයසේන	(2) රංජිත් ධර්මකිරිති
(3) සුගතපාල ද සිල්වා	(4) පියදස නිශ්ශංක

● පහත දැක්වෙන ඡායාරූප දෙක ආශ්‍රයෙන් අංක 29 සිට 32 තෙක් ප්‍රශ්නවලට පිළිතුරු සපයන්න.



ක



ඔ

29. මෙහි 'ක' ඡායාරූපයේ දැක්වෙන්නේ,
 (1) සී. දෙන් බස්නියන් ය. (2) බී. ඒ. ඩබ්ලිව්. ජයමාන්න ය.
 (3) සිරිසේන විමලවීර ය. (4) වාලේස් ඩයස් ය.
30. මෙහි 'ක' රූපයේ දැක්වෙන නාට්‍යකරු ප්‍රසිද්ධියට පත් ව සිටියේ,
 (1) විටර් නාට්‍යයට ය. (2) නාඩගමට ය.
 (3) නූර්නියට ය. (4) ඉංග්‍රීසි නාට්‍යයට ය.
31. 'ඔ' ඡායාරූපයේ දැක්වෙන නාට්‍යකරු වන්නේ,
 (1) දයානන්ද ගුණවර්ධන ය. (2) ගුණසේන ගලප්පත්ති ය.
 (3) එදිරිවීර සරච්චන්ද්‍ර ය. (4) එස්. විදානනන්දන් ය.
32. 'ඔ' රූපයේ දැක්වෙන නාට්‍යකරු හේ නාට්‍ය නිර්මාණ දෙකක් වන්නේ,
 (1) නර්බුණා හා පිංගුකර ය. (2) මුදු පුත්තු හා සඳකිදුරු ය.
 (3) මනමේ හා සිංහබාහු ය. (4) කරුණේ පොර් හා රාවණේසන් ය.

● පහත දැක්වෙන වෙස් මුහුණු දෙක ආශ්‍රයෙන් 33 සහ 34 වැනි ප්‍රශ්නවලට පිළිතුරු සපයන්න.



ක



ඔ

33. මෙහි දැක්වෙන වෙස් මුහුණු අතුරින්,
 (1) 'ක' සන්නි මුහුණෙකි. 'ඔ' කෝළම් මුහුණෙකි. (2) 'ක' කෝළම් මුහුණෙකි. 'ඔ' සන්නි මුහුණෙකි.
 (3) 'ක' හා 'ඔ' සන්නි මුහුණු දෙකෙකි. (4) 'ක' හා 'ඔ' කෝළම් මුහුණු දෙකෙකි.
34. මෙම වෙස් මුහුණු දෙක,
 (1) අමුක්කු සන්නිය හා පොලිස් කෝළම යි. (2) ජය කෝළම හා මුදලි කෝළම යි.
 (3) ආරච්චි කෝළම හා ගුල්ම සන්නිය යි. (4) වාන සන්නිය හා බිහිරි සන්නිය යි.

- පහත දක්වන තොරතුරු ඇසුරු කොටගනිමින් අංක 35 සිට 37 තෙක් ප්‍රශ්නවලට පිළිතුරු සපයන්න.

A - මහාකෝල සත්තිය	B - දරු නැඟවිල්ල
C - නානු මුරය	D - වඩිග පටුන
E - අඹ විදමන	F - ගුරුගේ මාලාව
G - උරා යක්කම	H - සුනියම් යක්කම
I - රාම මැරීම	J - මරා ඉපැද්දීම

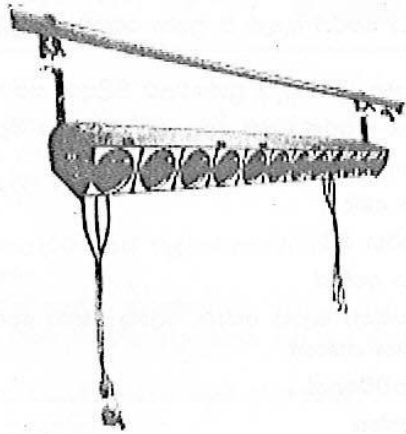
35. ගම්මඩුව ශාන්තිකර්මයෙහි දක්නට ලැබෙන නාට්‍යමය අවස්ථා දක්වනු ලැබ ඇත්තේ,

(1) D, J, G හි ය.	(2) A, C, D හි ය.	(3) E, I, J හි ය.	(4) F, G, J හි ය.
-------------------	-------------------	-------------------	-------------------
36. සුනියම් යාගයෙහි ඇති නාට්‍යමය අවස්ථාව වන්නේ

(1) D ය.	(2) C ය.	(3) H ය.	(4) F ය.
----------	----------	----------	----------
37. කොහොඹාකංකාරියෙහි දක්නට ලැබෙන භාසෝත්පාදක අංගය වන්නේ,

(1) I ය.	(2) B ය.	(3) F ය.	(4) G ය.
----------	----------	----------	----------

38.



- ඉහත දක්වන විදුලිය පහත
- (1) ස්පොට් (හින්) පහතෙකි.
 - (2) ස්ට්‍රිප් පහතෙකි.
 - (3) ෆ්ලෑට් පහතෙකි.
 - (4) ධාරාලෝක පහතෙකි.

- පහත දක්වන ඡායාරූපය ආශ්‍රයෙන් අංක 39 සහ 40 ප්‍රශ්නවලට පිළිතුරු සපයන්න.




39. මෙම ඡායාරූපයෙන් දක්වන්නේ,

(1) සෝමලතා සුබසිංහ ය.	(2) වරීරා වික්‍රමේශ්වරී ය.
(3) රුක්මණි දේවි ය.	(4) සන්ධ්‍යාකුමාරි ය.
40. ඇය ප්‍රසිද්ධියට පත් ව සිටියේ,

(1) 'මිනර්වා' නිළියක, ගායිකාවක හා චිත්‍රපට නිළියක ලෙසිනි.
(2) ළමා නාට්‍ය නිර්මාතෘවරියක හා චිත්‍රපට නිළියක ලෙසිනි.
(3) මුද්‍රානාට්‍ය ශිල්පිනියක හා නර්තන ශිල්පිනියක ලෙසිනි.
(4) ගායිකාවක, මුද්‍රානාට්‍ය ශිල්පිනියක හා නිළියක ලෙසිනි.

**

2.



- (i) මෙම ඡායාරූපයෙන් දක්වෙන ශාන්තිකර්මය නම් කරන්න. (ලකුණු 03 යි)
- (ii) එම ශාන්තිකර්මය ප්‍රචලිත ලංකාවේ කවර ප්‍රදේශයක ද? (ලකුණු 03 යි)
- (iii) මෙම රංග අවස්ථාවට පැහැදිලි කරන්න. (ලකුණු 06 යි)


3. 'සමාරෝපය' යනු වේදිකා නාට්‍යකලාවට අයත් වැදගත් සංකල්පයකි.

- (i) 'සමාරෝපය' යන්න පහදන්න. (ලකුණු 02 යි)
- (ii) එහි ප්‍රභේද නිදසුන් ඇසුරෙන් තහවුරු කරන්න. (ලකුණු 04 යි)
- (iii) එම අවස්ථාවට අවතීර්ණ වීමට තඵවකු අනුගමනය කළ යුතු ක්‍රියාමාර්ග මොනවා ද? (ලකුණු 06 යි)

4. 'ගැටුම' යනු ප්‍රේක්ෂක ආකර්ෂණය වඩාත් දිනාගත හැකි අවස්ථාවකි.

- (i) නාට්‍යයක 'ගැටුම' යන්න පහදන්න. (ලකුණු 03 යි)
- (ii) ගැටුම ප්‍රභේද කැර දක්වන්න. (ලකුණු 04 යි)
- (iii) ඔබ තැරවූ ලංකාවේ ප්‍රසිද්ධ නාට්‍යයක් ඇසුරෙන් එකී ගැටුම් ප්‍රභේද ඔබගේ දක්වන අවස්ථා නිදසුන් මගින් විස්තර කරන්න. (ලකුණු 05 යි)

5.



- (i) මෙම රංග භූමිය කුමන නාට්‍ය විශේෂය සඳහා භාවිත කරන ලද්දක් ද? (ලකුණු 02 යි)
- (ii) මෙම නාට්‍ය විශේෂයේ ප්‍රභවය පිළිබඳ ඇති මතවාද මොනවා ද? (ලකුණු 04 යි)
- (iii) උක්ත ගැමි නාටක විශේෂයේ රංග ශෛලිය පැහැදිලි කරන්න. (ලකුණු 06 යි)

- 6. ආහාරය අහිතය නළු කාර්යයේ දී ඉතා වැදගත් මෙහෙයක් ඉටු කරයි.
 - (i) 'ආහාරය අහිතය' යන්න කෙටියෙන් හඳුන්වන්න. (ලකුණු 03 ය)
 - (ii) ආහාරය අහිතයට අයත් ප්‍රධාන අංග තුන නම් කරන්න. (ලකුණු 03 ය)
 - (iii) නළුවා ගේ රංග කාර්යය වඩාත් ඔපවත් කරගැනීමට ආහාරය අහිතයෙන් සිදු වන පිටිවහල විමසන්න. (ලකුණු 06 ය)

- 7. පහත දක්වන කතා සැකිල්ල ඔබට කැමති පරිදි අවසානයක් කරා ගෙනයමින් නාට්‍ය පෙළක් රචනා කරන්න. මෙහි දී ඔබට අවශ්‍ය පරිදි වර්ත සංඛ්‍යාව අඩු වැඩි කැරගත හැකි ය.

තමා හිතදී නිලියක තරම් රුමක් යැ යි සිතාසිටින සඳරේඛා ගේ එක ම අභිප්‍රාය වූයේ රිදී නිරයේ නිලියක වීම ය. තම පාසලේ අධ්‍යයන කටයුතු නිසි ලෙස නොකිරීම නිසා ඇයට ගුරුවරුන් හා යහළු-යෙහෙළියන් කිහිප විටක් ම අවවාද කළ ද, ඔ නිලියක වීම සඳහා දහවල් සිහින දැකීම නතර නොකළා ය. දිනක් පුවත්පතක දන්වීමකට අනුව, ඔ ආධුනික නිලියන් තෝරාගැනීමේ සම්මුඛ පරීක්ෂණයක් සඳහා අයැදුම් පතක් දැමීමා ය. එතැන් සිට ඔ සම්මුඛ පරීක්ෂණය සඳහා ලිපිය පැමිණෙන තුරු මග බලා සිටියා ය. . . .

 - (i) නාට්‍යෝචිත අවස්ථා නිර්මාණය සඳහා (ලකුණු 04 ය)
 - (ii) සංවාද සහ රංගවිධාන සහිත ව පෙළ රචනා කිරීම සඳහා (ලකුණු 08 ය)

