

130512

OL/2010/43-S-I

සියලු ම හිමිකම් ඇවිරිණි]
முழுப் பதிப்புரிமையுடையது]
All Rights Reserved]

ශ්‍රී ලංකා විභාග දෙපාර්තමේන්තුව ශ්‍රී ලංකා විභාග දෙපාර්තමේන්තුව ශ්‍රී ලංකා විභාග දෙපාර්තමේන්තුව ශ්‍රී ලංකා විභාග දෙපාර්තමේන්තුව ශ්‍රී ලංකා විභාග දෙපාර්තමේන්තුව
ශ්‍රී ලංකා විභාග දෙපාර්තමේන්තුව ශ්‍රී ලංකා විභාග දෙපාර්තමේන්තුව ශ්‍රී ලංකා විභාග දෙපාර්තමේන්තුව ශ්‍රී ලංකා විභාග දෙපාර්තමේන්තුව ශ්‍රී ලංකා විභාග දෙපාර්තමේන්තුව
Department of Examinations, Sri Lanka Department of Examinations, Sri Lanka Department of Examinations, Sri Lanka Department of Examinations, Sri Lanka Department of Examinations, Sri Lanka
இலங்கைப் பரீட்சைத் திணைக்களம் இலங்கைப் பரීட்சைத் திணைக்களம் இலங்கைப் பரීட்சைத் திணைக்களம் இலங்கைப் பரීட்சைத் திணைக்களம் இலங்கைப் பரීட்சைத் திணைக்களம்
Department of Examinations, Sri Lanka Department of Examinations, Sri Lanka Department of Examinations, Sri Lanka Department of Examinations, Sri Lanka Department of Examinations, Sri Lanka

43 S I


I	
II	
III	
එකතුව	

අධ්‍යයන පොදු සහතික පත්‍ර (සාමාන්‍ය පෙළ) විභාගය, 2010 දෙසැම්බර්
கல்விப் பொதுத் தராதரப் பத்திர(சாதாரண தர)ப் பரீட்சை, 2010 டிசெம்பர்
General Certificate of Education (Ord. Level) Examination, December 2010

විඳ	I	පැය එකයි
சித்திரம்	I	ஒரு மணித்தியாலம்
Art	I	One hour

සියලු ම ප්‍රශ්නවලට මෙම ප්‍රශ්න පත්‍රයේ ම පිළිතුරු සපයන්න. විභාග අංකය :.....

● පහත සඳහන් ඡායාරූපය ඇසුරු කරගෙන අංක 01 සිට 05 තෙක් ප්‍රශ්නවලට කිවැරදි පිළිතුරු සපයන්න.



1. නූතන විහාර සිතුවම් අතර විශේෂයක් ගන්නා විහාරයේ සිතුවම් අතුරෙන් උපුටාගන්නා ලද සිතුවම් කොටසකි.
2. ජාත්‍යන්තර කීර්තියට පත් සිත්තරාණන් විසින් අඳින ලද මෙම සිතුවම් ඔහුට ම ආවේණික ගෞලියකින් ඇඳ ඇත.
3. මෙම සිතුවම් කොටසින් සිදුහත් කුමරු සැරසෙන අයුරු නිරූපණය කෙරෙයි.
4. අඛණ්ඩ බාහිර සෘජු හා වක්‍ර රේඛා අතරට තැනින් තැන යොදන ලද රේඛා ශිල්පියාගේ අනන්‍යතාව නිරූපණය කරයි.
5. මහාමායා දේවියගේ සිහිනයේ සිට දක්වා විත්තාලියක් සේ ඇඳ ඇති මෙම සිතුවම් සඳහා දීප්තිමත් වර්ණ භාවිත කොට ඇත.

[දෙවැනි පිටුව බලන්න.

● අංක 6 සිට 10 තෙක් දී ඇති ප්‍රශ්නවලට නිවැරදි පිළිතුරු සපයන්න.

6. මහනුවර දළදා මාලිගාව හා සම්බන්ධ පත්තිරිප්පුව නිර්මාණය කළ ශිල්පියා කවු ද?

.....

7. "සිරිබිඳි" නම් වූ සුප්‍රකට කාව්‍ය නිකායේ නිර්මාණයක් ද?

.....

8. තාත්වික නිරූපණයෙන් බැහැරව ගෞලිගත අයුරින් නෙළා ඇති ඉන්ද්‍රනිමිත ශිෂ්ටාචාරයෙන් හමු වූ මූර්තිය කුමක් ද?

.....

9. ස්වර්ගය, මනුලොව, නිරය නිරූපණය කෙරෙන සිස්ටමින් දෙව් මැදුරේ දක්නට ඇති සුවිසල් ප්‍රේෂකෝ සිතුවම් කුමන නමකින් හැඳින්වේ ද?

.....

10. ශ්‍රී ලංකාවේ සංස්කෘතික උරුමයක් සේ සැලකෙන ස්ථානයක් හා සම්බන්ධ වන සමූහයක් නොබෝදා දුර්වරණ වූ බවට පුවතක් පළවිය. ඒ කොයි ද?

.....

● අංක 11 සිට 15 තෙක් දී ඇති ප්‍රශ්නවලට වඩාත් නිවැරදි පිළිතුරු තෝරා යටින් ඉරක් අඳින්න.

11. ගම්පොල යුගයේ නිර්මාණයක් වන ඇම්බැක්කේ දේවාලයේ කැටයම්

- (1) සම්මත හා කල්පිත සැරසිලි ඇසුරෙන් නිර්මිත අල්පෝත්තන කැටයම් වේ.
- (2) සම්මත සැරසිලි, කල්පිත රූ හා මානව රූ අල්පෝත්තනව නෙළා ඇත.
- (3) ස්වභාවික හා කල්පිත රූ සටහන් අල්පෝත්තනව නෙළා ඇත.
- (4) පුෂ්පලතා හා සත්ව මෝස්තර ගැඹුරට භාරා ඇත.

12. පොළොන්නරුවේ නිවංක පිළිමගෙය තුළ

- (1) දක්නට ඇති සිතුවම් ගෞලිය පොළොන්නරුවේ වෙනත් ස්ථානයක දක්නට නොමැත.
- (2) දක්නට ඇති සිතුවම් ගෞලියේ ආභාසය ඉන්පසු යුගවලට බලපා ඇත.
- (3) මහනුවර යුගයේ සිතුවම් සම්ප්‍රදායට සම්පතම් දක්වන චිත්‍ර රැසක් හමුවේ.
- (4) පොළොන්නරු යුගයේ හා ඉන් පසු කලෙක බිහිවූ චිත්‍ර කලා ආරක ලක්ෂණ දක්නට ලැබේ.

13. තටරාජා පිළිරුවේ සංකේත අතුරෙන් අවිද්‍යාව සංකේතවත් කිරීම සඳහා යොදාගෙන ඇත්තේ

- (1) උඩුකකියයි.
- (2) ගිනිසිළුවයි.
- (3) වාමනරුවයි.
- (4) ගජසේන මුද්‍රාවයි.






14. ජ.පී.ඒ.එස්. අමරසේකර






- (1) ආගමික කේමා ඇසුරෙන් විශාල චිත්‍ර ප්‍රමාණයක් නිර්මාණය කළ ශිල්පියෙකි.
- (2) ශාස්ත්‍රාලීය සිද්ධාන්ත අනුගමනය කරමින් යථාර්ථවාදීව සිත්තම් කළ ශිල්පියෙකි.
- (3) කල්පිත නිරූපණය හා භාවරූපී ශිල්ප ක්‍රම අගය කළ චිත්‍ර ශිල්පියෙකි.
- (4) කෙල්සායම් මාධ්‍යයෙන් ආලේඛන චිත්‍ර පමණක් නිර්මාණය කළ ශිල්පියෙකි.

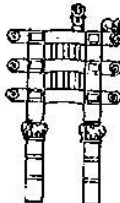
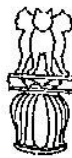



15. මීඩම්හි පාත්තයෝ නැමති සුප්‍රසිද්ධ පැරණි සිතුවම






- (1) යොහාන් ගෙයක බිත්තියක ඇඳ ඇති පක්ෂි රූ ඇසුරෙන් කළ සිතුවමකි.
- (2) මීසර් දේවස්ථානයක දෙර පතේලයක ඇඳ ඇති පක්ෂි රූ සමූහයකි.
- (3) කැටයම් කරන ලද පක්ෂි රූප වර්ණාලේප කොට නිම කරන ලද්දකි.
- (4) පක්ෂීන් සිටු දෙනෙකු එක් දිසාවකට ගමන් කරන අයුරු දක්වන සිතුවමකි.






● අංක 16 සිට 20 තෙක් දී ඇති රූපවලට වඩාත් සෘජු සබඳතාවක් දක්වන රූප සටහන ඒ ඉදිරියෙන් ඇති 1, 2, 3, 4 යන රූප අතුරෙන් තෝරා හිත් ඉරි මත අංකය යොදන්න.

16.  (.....)  (1)  (2)  (3)  (4)

17.  (.....)  (1)  (2)  (3)  (4)

18.  (.....)  (1)  (2)  (3)  (4)

19.  (.....)  (1)  (2)  (3)  (4)

20.  (.....)  (1)  (2)  (3)  (4)

● අංක 21 සිට 25 තෙක් ප්‍රශ්නවල දී ඇති වැකිවල හිස්තැනට සුදුසු වචනය යොදා හිස් තැන් පුරවන්න.

21. අවිභේදනීය යුචනයේ ශිල්පියාගේ සතරුපි කලා ආර ඇරඹූ විනය ලෙස සැලකේ.
22. "ගෝලය, කේතුව, සිලින්ඩරය තුළින් සියලු දේ නිර්මාණය වී ඇතැ"යි යන සංකල්පයට දායක වූ ප්‍රකාශ කරන ලද්දේ විසිනි.
23. ඇම්. සාර්ලිස් ශිල්පියා විහාර සිතුවම් කලාවට මෙන්ම බෞද්ධ සිතුවම්වලට ද මහත් ප්‍රසිද්ධියක් ඉසිලීය.
24. ගම්පොල යුගයේ ලංකාතිලක විහාරය සැලසුම් කර නිර්මාණය කරන ලද වාස්තුවිද්‍යා නිර්මාණශිල්පියා වනුයේ නම් වූ ඉන්දිය ශිල්පියෙකි.
25. පොළොන්නරුවේ දළදා මලුව යයි සැලකෙන භූමියේ නිශ්ශංකමල්ල රජු විසින් ඉදිකරන ලද වෘත්තාකාර ගොඩනැගිල්ල නමින් හැඳින්වේ.


- ප්‍රශ්න අංක 26 සිට 30 තෙක් දී ඇති ප්‍රශ්නවලට A, B, C, D, E යන රූප සටහන් ඇසුරෙන් පිළිතුරු සපයන්න.



A



B



C



D




E

26. A - කටුනායක ගුවන් තොටුපලේ දක්නට ඇති මෙම සිතුවම කාගේ නිර්මාණයක් ද?
27. B - ජෝර්ජ් කීට් ශිල්පියා විසින් නිර්මාණය කරන ලද මෙම සිතුවම කිනම් නමකින් හැඳින්වේ ද?
28. C - ඩේවිඩ් ජෝන්ටර් ශිල්පියා විසින් අඳිනු ලැබූ මෙම සිතුවම කිනම් නමකින් හැඳින්වේ ද?
29. D - ගල් බිත්තියක ඇඳ ඇති මෙම සිතුවම දක්නට ඇත්තේ කිනම් ස්ථානයක ද?
30. E - මෙම සිතුවම නිර්මාණය කළ ඉතාලි ජාතික ශිල්පියා කවුද?

- අංක 31 සිට 35 තෙක් දී ඇති වචනවල අර්ථය පැහැදිලි වන සේ සම්පූර්ණ වාක්‍යය බැගින් ලියන්න.

31. ගෝපුර
32. මිනාර
33. පර්යාලෝකය
34. සංගත වර්ණ
35. ටෙම්පෙරා

- පහත දැක්වෙන කලා කෘතිය හඳුනාගෙන එහි කලාත්මක අගය විග්‍රහ කෙරෙන පරිදි පහත සඳහන් උප මාතෘකා අනුව අර්ථවත් වාක්‍ය පහක් ලියන්න.



36. තෝමාව :

.....

37. සංරචනය :

.....

38. වර්ණ හා රේඛාව:

.....

39. ගෞලිය :

.....

40. ශිල්පීය කුසලතා :

.....



* * *

OL/2010/43-S-II

සියලු ම හිමිකම් ඇවිරිණි]
முழுப் பதிப்புரிமையுடையது]
All Rights Reserved]

ශ්‍රී ලංකා විභාග දෙපාර්තමේන්තුව ශ්‍රී ලංකා විභාග දෙපාර්තමේන්තුව ශ්‍රී ලංකා විභාග දෙපාර්තමේන්තුව ශ්‍රී ලංකා විභාග දෙපාර්තමේන්තුව ශ්‍රී ලංකා විභාග දෙපාර්තමේන්තුව
 Department of Examinations, Sri Lanka Department of Examinations, Sri Lanka Department of Examinations, Sri Lanka Department of Examinations, Sri Lanka Department of Examinations, Sri Lanka
43 S II
 Department of Examinations, Sri Lanka Department of Examinations, Sri Lanka Department of Examinations, Sri Lanka Department of Examinations, Sri Lanka Department of Examinations, Sri Lanka

අධ්‍යයන පොදු සහතික පත්‍ර (සාමාන්‍ය පෙළ) විභාගය, 2010 දෙසැම්බර්
 கல்விப் பொதுத் தராதரப் பத்திர (சாதாரண தர)ப் பரீட்சை, 2010 டிசம்பர்
 General Certificate of Education (Ord. Level) Examination, December 2010

විභූ	II	පැය දෙකයි
சித்திரம்	II	இரண்டு மணித்தியாலம்
Art	II	Two hours

සැලකිය යුතුයි :

- * ඔබේ විභාග අංකය උත්තර පත්‍රයේ පසු පිටේ දී ඇති තීරුවේ පැහැදිලි ව ලියන්න.
- * උත්තර පත්‍රය විභාග ශාලාධිපතිට භාර දෙන විට වියළී තිබිය යුතු ය. තෙත් වීම් එකට ඇලී තිබීම ඔබට අවාසිදායක විය හැකි ය.
- * දිය සායම්, පෝස්ටර් සායම්, ටේම්පරා සායම්, පැස්ටල් හෝ අනේ නොගැවෙන ඔනෑ ම වර්ණ මාධ්‍යයක් හෝ භාවිත කළ හැකි ය. ("ලෙට්ට්" පෑන් භාවිතය යුද්දු නැත.)
- * සියලු ම ද්‍රව්‍ය ඇස් මට්ටමෙන් පහළ සිටින සේ තැබීමට ශාලාධිපතින්ට උපදෙස් දී ඇත. එසේ නොකැබු අවස්ථාවක් වුවහොත්, ඇදීම පටන් ගැනීමට පෙර, විභාග ශාලාධිපතිට දන්වීමට ඔබට අවසර තිබේ.

තිදහස් රේඛාමය ඇදීම හා වර්ණ විභූ සම්පිණ්ඩනය

- * ඔබ ඉදිරියේ තබා ඇති ද්‍රව්‍ය සමූහය හොඳින් නිරීක්ෂණය කොට,
 1. රේඛා මගින් පූර්ව අධ්‍යයනයක යෙදෙන්න. මේ සඳහා ඔබට සපයා ඇති රළු කඩදැසිය භාවිත කරන්න.
 2. ද්‍රව්‍ය සමූහය ඔබට පෙනෙන අයුරින් ඇඳ වර්ණ කරන්න. මේ සඳහා සපයා ඇති විශේෂ කඩදැසිය භාවිත කරන්න.
- * මෙම විභූ දෙක ම එකට අමුණා විභාග ශාලාධිපතිට භාර දෙන්න.
- * ඔබේ විභූය ඇගයීමේ දී පහත සඳහන් කරුණු කෙරෙහි සැලකිලිමත් වන බව සලකන්න.
 - රේඛා අධ්‍යයනය :-
 1. මුල් කඩදැසියේ කරනු ලබන පූර්ව අධ්‍යයනයේ දී දක්වන කුසලතා
 - වර්ණ විභූය :-
 2. ද්‍රව්‍ය සමූහය, තලය මත කලාත්මක ව සම්පිණ්ඩනය වීම
 3. පරිමාණ, පර්යාලෝක රිති හා ත්‍රිමාණ ලක්ෂණ පිළිබඳ අවබෝධය
 4. දෙන ලද ද්‍රව්‍ය සමූහයේ මතුපිට ස්වභාවය හා ගති ලක්ෂණ දැක්වීම
 5. වර්ණ හැසිරවීමේ ශිල්පීය කුසලතාව
 6. උචිත පසුබිමක් යෙදීම හා සමස්ත නිමාව

සැ.යු. ද්‍රව්‍ය සමූහය තබා ඇති ලෑල්ල විශාල ලෙස ඇදීම අවශ්‍ය නො වේ. ලෑල්ලේ පරිමාණය ද්‍රව්‍ය සමූහයට ගැලපෙන අයුරින් වෙනස් කර ඇදීමට ඔබට අවසර ඇත.

OL/2010/43 S-III

සියලු ම හිමිකම් ඇවිරිණි
முழுப் பதிப்புரிமையுடையது
All Rights Reserved

ශ්‍රී ලංකා විභාග දෙපාර්තමේන්තුව ශ්‍රී ලංකා විභාග දෙපාර්තමේන්තුව ශ්‍රී ලංකා විභාග දෙපාර්තමේන්තුව ශ්‍රී ලංකා විභාග දෙපාර්තමේන්තුව ශ්‍රී ලංකා විභාග දෙපාර්තමේන්තුව
 Department of Examinations, Sri Lanka Department of Examinations, Sri Lanka Department of Examinations, Sri Lanka Department of Examinations, Sri Lanka Department of Examinations, Sri Lanka
43 S III

අධ්‍යයන පොදු සහතික පත්‍ර (සාමාන්‍ය පෙල) විභාගය, 2010 දෙසැම්බර්
 ස්වකීර්ෂිත පොදු පාලන පද්ධති (සාමාන්‍ය පෙල) විභාගය, 2010 දෙසැම්බර්
 General Certificate of Education (Ord. Level) Examination, December 2010

විභාග சித்திரம் Art	III III III	පැය දෙකයි இரண்டு மணித்தியாலம் Two hours
---------------------------	-------------------	---

සැලකිය යුතුයි :

- * ඔබ ඇදිය යුත්තේ එක විභාගයක් පමණි.
- * ඔබේ විභාග අංකය හා අදාළ ප්‍රශ්න අංකය උත්තර පත්‍රයේ පසු පිටේ දී ඇති කිරුවේ පැහැදිලි ව ලියන්න.
- * උත්තර පත්‍රය විභාග ශාලාවට පිවිසීමට භාර දෙන විට වියළි තිබිය යුතු ය. තෙත් වීම් එකට ඇලී තිබීම ඔබට අවාසිදායක විය හැකි ය.
- * දිය සායම්, පෝස්ටර් සායම්, පැස්ටල් ඇතුළු අනෙක් කොන්දාසි මිනුම් ම වර්ණ මාධ්‍යයක් වර්ණ කිරීම සඳහා භාවිත කළ හැකි ය. (තෙල්ටි පෑන් භාවිතය සුදුසු නැත.)
- * ඇදීමේ සුදු කඩදාසි හා අවශ්‍ය අයව විෂු කඩදාසි සපයනු ලැබේ.

'අ' කොටසින් හෝ 'ආ' කොටසින් හෝ 'ඉ' කොටසින් හෝ එක් මාතෘකාවක් පමණක් තෝරාගන්න.

'අ' කොටස - විභාග සංරචකය

1. බෝ සෙවනේ භාවනාවේ යෙදෙන සිල්ලන් උවදියෝ හැඟහොත් කෝවිලක / පල්ලියක ආගමික වතාවත්වල යෙදෙන බැතිමතුන්
2. අභය භූමියක් තුළ සතුන් නරඹන පිරිසක්
3. මාළු අස්වනු රැගත් ධීවර බෝට්ටු වෙරළට ඇවිල්ලා
4. සොදුරු කතාබහක යෙදෙන යෙහෙළියෝ

'ආ' කොටස - මෝස්තර නිර්මාණය

5. ළමා කාටූන් වර්තයක් ඇසුරු කරගනිමින්, ළමා ඇඳුම් මැසීමට සුදුසු වින්ත රෙද්දකට ගැලපෙන ව්‍යාප්ත මෝස්තරයක් නිර්මාණය කරන්න.
6. ආයතන වතුරප්‍රාකාර භූමියක මේය රෙද්දක් සඳහා සුදුසු මූලික මෝස්තරයක් පාරම්පරික සැරසිලි මෝස්තර ඇසුරින් නිර්මාණය කරන්න. පසුබිම් වර්ණය සේ තිල් වර්ණය යොදා ගන්න.
7. වතුරප්‍රාකාර කුහන් කවරයක් ඇල්ලික් ක්‍රමයට සැරසිලි කිරීම සඳහා ජ්‍යාමිතික හැඩතල ඇසුරෙන් නිර්මාණය කරන්න.

'ඉ' කොටස - ග්‍රැපික් විභාග

8. "අසිරිමත් හෙට දවසක්" යන තේමාව යටතේ විචිත්‍රවත් පෝස්ටරයක් නිර්මාණය කරන්න.
9. පාසලේ නිවාසාන්තර ක්‍රීඩා උළෙලට සමඟාමිච සකස් කෙරෙන සමරු කලබක මුල් පිටුවට සුදුසු නිර්මාණයක් කරන්න.
10. කිරිපිටි වර්ගයක් ප්‍රචාරය කිරීම සඳහා වෙළෙඳසල්වල එල්ලා තැබීමට සුදුසු වලනමය ප්‍රචාරක දන්වීමක් සැලසුම් කරන්න.
