



ET/SSS/2022(2023)/OL/61/S/Q/S-2

අධ්‍යාපන අමාත්‍යාංශය
கல்வி அமைச்சு
Ministry of Education

G. C. E. Ordinary Level | අ. තො. ස. කාමාන්‍ය පෙළ | 2022 (2023)
Student Seminar Series

ශිෂ්‍ය සම්මන්ත්‍රණ මාලාව

Practice Paper | උපකාරක ප්‍රශ්න පත්‍ර

Geography

භූගෝල විද්‍යාව



Questions Paper - I, II | ප්‍රශ්න පත්‍ර - I, II (සිංහල මාධ්‍යය)

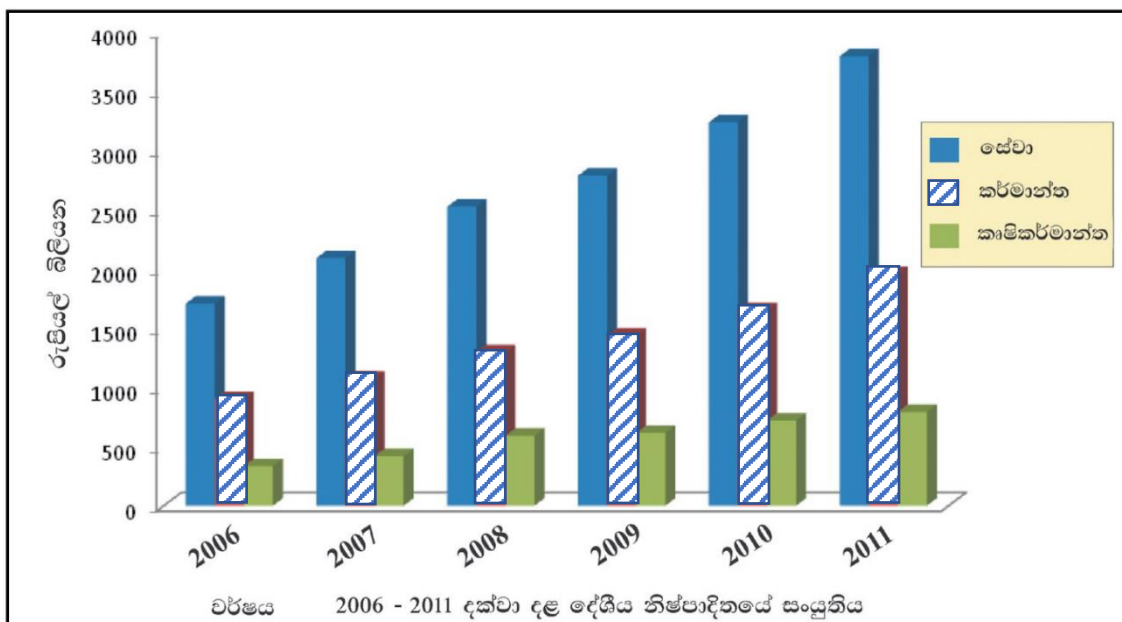


දුරස්ථ අධ්‍යාපන පුවර්ධන ශාඛාව | තාක්ෂණ භාෂා හා මානව ශාස්ත්‍ර ශාඛාව

• අංක 11 සිට 15 තෙක් හිස්තැන්වලට සුදුසු වචන යොදා සම්පූර්ණ කරන්න.

11. පෘථිවිය මත ව්‍යාප්ත ව ඇති සමස්ත ජල ස්කන්ධය සහ කිලෝමීටර් මිලියන ක් පමණ වේ.
12. යමහල් ක්‍රියාකාරිත්වය නිසා අත්ලාන්තික් සාගරයේ නිර්මාණය වී ඇති දූපතක් වන්නේ යි.
13. කෙටි කාලයක් තුළ ජන සංඛ්‍යාවේ සිදු වන ශීඝ්‍ර වර්ධනය ලෙස හැඳින්වේ.
14. සුළු අපනයන බෝග පර්යේෂණ මධ්‍යස්ථානය පිහිටා ඇත.
15. දක්ෂිණ දුම්රිය මාර්ගයේ අවසන් නැවතුම දුම්රිය ස්ථානය යි.

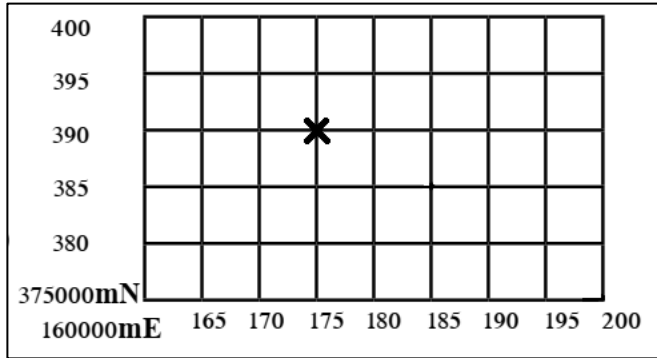
• අංක 16 සිට 18 තෙක් ප්‍රශ්නවලට පිළිතුරු සැපයීම සඳහා පහත දී ඇති ප්‍රස්තාරය උපයෝගී කර ගන්න.



ඉහත ප්‍රස්තාරයට අනුව,

16. සේවා අංශයෙන් ඉහළ ම දළ දේශීය නිෂ්පාදනයක් ලැබී ඇත්තේ වර්ෂයේ දී ය.
17. දළ දේශීය නිෂ්පාදනයට අඩු ම දායකත්වයක් දක්වා ඇත්තේ අංශය යි.
18. අංශ තුනෙන් ම ඉහළ ම දළ දේශීය නිෂ්පාදන දායකත්වයක් වාර්තා වී ඇත්තේ..... වර්ෂයේ දී ය.

- අංක 23 සිට 36 තෙක් ඇති එක් එක් ප්‍රශ්නයට දී ඇති පිළිතුරු හතර අතරින් නිවැරදි හෝ වඩාත් ගැලපෙන හෝ පිළිතුර තෝරා ඊට හිමි අංකය ඉදිරියේ ඇති තිත් ඉර මත ලියා දක්වන්න.



23. ඉහත ඡාතික (මෙට්‍රික්) බණ්ඩාංක අනුව X ලකුණින් දැක්වෙන ස්ථානයෙහි පිහිටීම නිවැරදි ව දැක්වෙන්නේ,

- | | | |
|--------------|--------------|---------|
| 1. 175000 mE | 2. 175000mE | |
| 395000 mN | 390000 mN | |
| 3. 175000 mN | 4. 175000 mN | |
| 390000 mE | 395000 mE | (.....) |

24. ශ්‍රී ලංකාවේ දැඩි ස්වාභාවික රක්ෂිතයක් වන්නේ ,

- | | | |
|--------------|-------------|---------|
| 1. විල්පත්තු | 2. සිංහරාජය | |
| 3. හග්ගල | 4. කන්තලිය | (.....) |

25. උල්පතකින් ආරම්භ වන ගංගාවක් වන්නේ,

- | | | |
|----------|-------------|---------|
| 1. රයින් | 2. තේම්ස් | |
| 3. නයිල් | 4. මිසිසිපි | (.....) |

26. ශ්‍රී ලංකාවේ භූ ලක්ෂණ සිතියමක ඡාතික (මෙට්‍රික්) බණ්ඩාංක දක්වා ඇති වර්ණය,

- | | | |
|---------|-----------|---------|
| 1. කළු | 2. රතු | |
| 3. නිල් | 4. දුඹුරු | (.....) |

27. ශ්‍රී ලංකාවේ තේ වගා කරන ප්‍රදේශ අතුරෙන් උඩරට තේ වගා කරන දිස්ත්‍රික්කයක් වන්නේ ,

- | | | |
|-------------|-----------|---------|
| 1. නුවරඑළිය | 2. බදුල්ල | |
| 3. මහනුවර | 4. කෑගල්ල | (.....) |

28. සංයුතිය දක්වන දත්ත ව්‍යාප්තියක් නිරූපණය කිරීමට වඩාත් සුදුසු ප්‍රස්තාර ක්‍රමය,

- | | | |
|-----------------|---------------|---------|
| 1. සරල රේඛා | 2. බහු තීරු | |
| 3. ද්විත්ව තීරු | 4. බෙදූ වෘත්ත | (.....) |

29. 21 වන සියවස සඳහා පරිසර සංවර්ධනය පිළිබඳ වැඩපිළිවෙළක් සකස් කළ ජාත්‍යන්තර සමුළුව වන්නේ,

- 1. ස්ටෝක්හෝම්
- 2. බ්‍රිස්බේන්
- 3. මහිකත
- 4. ට්‍රික්ස් (.....)

30. භූමිකම්පාවක තීව්‍රතාව මැනීම සඳහා පරිමාණයක් හඳුන්වා දෙනු ලැබුවේ,

- 1. රිච්ඩ් හාර්ට්ෂොන්
- 2. වාල්ස් එල්. රිච්ටර්
- 3. වොන් හම්බෝල්ට්
- 4. ඇල්ෆ්‍රඩ් වෙග්නර් (.....)

31. මුළු වායු පරිමාවෙන් 50% ක් අන්තර්ගත වන්නේ පෘථිවි තලයේ සිට කොපමණ උසකින් ද ?

- 1. 5-6 km
- 2. 8-10 km
- 3. 10-12 km
- 4. 12-14 km (.....)

32. මානුෂ සංවර්ධන දර්ශකයේ මූලික අංග තුනට ඇතුළත් නොවන්නේ,

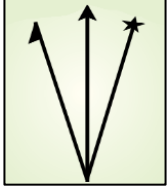
- 1. උපතේ දී ආයු අපේක්ෂාව
- 2. සාක්ෂරතාව
- 3. ක්‍රියා ශක්තිය
- 4. භෞතික ජීවන තත්ත්ව දර්ශකය (.....)

33. 2012 ශ්‍රී ලංකාවේ ජන සංඛ්‍යා දත්ත අනුව ජන සංඛ්‍යාව මිලියනය ඉක්ම වූ දිස්ත්‍රික්කයක් වන්නේ,

- 1. ගාල්ල
- 2. යාපනය
- 3. නුවරඑළිය
- 4. කෑගල්ල (.....)

34. මෙම දිශා සටහනින් දැක්වෙන සම්පූර්ණ ඊ හිස සහිත දිශාව වන්නේ ,

- 1. සැබෑ උතුර
- 2. චුම්බක උතුර
- 3. ජාල උතුර
- 4. සත්‍ය උතුර (.....)



35. යකඩ හා වානේ නිෂ්පාදන මධ්‍යස්ථානයක් වන 'කුෂ්නෙට්ස්ක් කලාපය' පිහිටි රට වන්නේ,

- 1. එක්සත් රාජධානිය
- 2. චීනය
- 3. ඇ.එ.ජනපදය
- 4. රුසියාව (.....)

36. ශ්‍රී ලංකාවේ බනිජ තෙල් පිරිපහදු කිරීමේ කර්මාන්තශාලාව පිහිටා ඇත්තේ ,

- 1. කොළොන්නාව
- 2. සපුගස්කන්ද
- 3. කිරිඳිගොඩ
- 4. ඔරුගොඩවත්ත (.....)

- පහත A, B, C, D වලින් දක්වා ඇති මාතෘකා යුගල හොඳින් අධ්‍යයනය කර 37 සිට 40 තෙක් අසා ඇති ප්‍රශ්නවලට පිළිතුරු සපයන්න.

A - 1. නාගරීකරණය
2. පරිසර දූෂණය

B - 1. ජන සංඛ්‍යා වර්ධන වේගය
2. වියපත් ජන සංඛ්‍යාව

C - 1. ගෝලීය උෂ්ණත්වය
2. ළැවිගිනි

D - 1. උන්නතාංශය
2. වායු පීඩනය

37. පළමුවැන්නේ වැඩි වීම දෙවැන්නේ අඩු වීමට හේතු වන මාතෘකා යුගලය වන්නේ ,

1. A 2. B 3. C 4. D (.....)

38. පළමුවැන්න හා දෙවැන්න අතර සෘජු සම්බන්ධතාවක් නොදක්වන මාතෘකා යුගලය වන්නේ ,

1. A 2. B 3. C 4. D (.....)

39. පළමුවැන්නේ වැඩි වීම දෙවැන්නේ වැඩි වීමට ද, දෙවැන්නේ වැඩි වීම පළමුවැන්නේ වැඩිවීමට ද හේතු වන මාතෘකා යුගලය වන්නේ ,

1. A 2. B 3. C 4. D (.....)

40. පළමුවැන්නේ වැඩි වීම දෙවැන්නේ වැඩි වීමට හේතු වන මාතෘකා යුගලය වන්නේ ,

1. A 2. B 3. C 4. D (.....)

අ. පො. ස. සාමාන්‍ය පෙළ විභාගය - උපකාරක සම්මන්ත්‍රණ මාලාව - 2022 (2023)
 கல்விப் பொதுத் தராதரப் பத்திர (சாதாரண தர)ப் பரீட்சை- ஆதரவு கருத்தரங்கு தொடர் - 2022 (2023)
 G. C. E. Ordinary Level Examination - Support Seminar Series - 2022 (2023)

භූගෝල විද්‍යාව I, II
 புயியியல் I, II
 Geography I, II

භූගෝල විද්‍යාව II

- ❖ මෙම ප්‍රශ්න පත්‍රය I හා II වශයෙන් කොටස් දෙකකින් සමන්විත ය.
- ❖ I කොටසේ පළමු ප්‍රශ්නය අනිවාර්ය වේ. එහි (අ), (ආ) සහ (ඉ) කොටස් තුනට ම පිළිතුරු සැපයිය යුතු ය.
- ❖ II කොටසින් ප්‍රශ්න හතරකට පිළිතුරු සැපයිය යුතු ය.
- ❖ පිළිතුරු සැපයිය යුතු මුළු ප්‍රශ්න සංඛ්‍යාව පහති.

I - කොටස

1.

(අ) ඔබ වෙත සපයා ඇති ශ්‍රී ලංකාවේ 1:50,000 භූ ලක්ෂණ සිතියම් කොටස අධ්‍යයනය කර ඒ ඇසුරින් අසා ඇති ප්‍රශ්නවලට පිළිතුරු සපයන්න. පිළිතුරු ලිවීම සඳහා ඔබ වෙත සපයා ඇති කඩදාසිය යොදා ගන්න.

- i. A අක්ෂරයෙන් දක්වා ඇත්තේ කුමක් ද ?
 (පුළුල් ද්විත්ව දුම්රිය මාර්ගය / පටු දුම්රිය මාර්ගය / පුළුල් ඒකීය දුම්රිය මාර්ගය) (ලකුණ 01)
- ii. B අක්ෂරයෙන් දක්වා ඇත්තේ කුමක් ද ?
 (පළාත් මායිම / දිස්ත්‍රික්ක මායිම / නගර සභා සීමාව) (ලකුණ 01)
- iii. C අක්ෂරයෙන් දක්වා ඇති රේඛාව කුමක් ද ?
 (සම ගැඹුරු රේඛාව / සමෝච්ච රේඛාව / අතිරේක සමෝච්ච රේඛාව) (ලකුණ 01)
- iv. D අක්ෂරයෙන් දැක්වෙන ජලවහන ලක්ෂණය කුමක් ද ?
 (ගං දහය / ඩෙල්ටාව / ගං මෝය) (ලකුණ 01)
- v. ඉදි කළ ප්‍රදේශය තුළ දක්නට ලැබෙන පොදු සේවා සපයන ආයතන තුනක් සඳහන් කරන්න.
 (ලකුණු 03)

• සිතියම් ප්‍රදේශය පිළිබඳ ප්‍රකාශ තුනක් පහත දැක්වේ. ඒ එක් එක් ප්‍රකාශය කියවා බලා නිවැරදි නම් 'නි' යන්න වටා ද, වැරදි නම් 'වැ' යන්න වටා ද රවුමක් අඳින්න.

- vi. මෙම ප්‍රදේශයේ වී වගාව සිදු කරන්නේ ගංගා ජලය උපකාරයෙනි. නි / වැ
- vii. අංක ① වතුරසුය තුළ වැඩි වශයෙන් ජීවත් වන්නේ බෞද්ධාගමිකයන් ය. නි / වැ
- viii. අංක ② න් දැක්වෙන්නේ මගීන් ගෙන යන තොටුපළකි. නි / වැ

(ලකුණු 03)

1. (ආ)



1:50,000

භූගෝල විද්‍යාව II

Geography II

1. (අ)

I. -----

II. -----

III. -----

IV. -----

V. -----

VI. -----

VII. -----

10

(ආ) ඔබ වෙත සපයා ඇති ලෝක සිතියම හොඳින් අධ්‍යයනය කර, පහත සඳහන් ප්‍රශ්නවලට පිළිතුරු සපයන්න.
පිළිතුරු සැපයීම සඳහා ලෝක සිතියමට යාබද ව දක්වා ඇති තීරුව යොදා ගන්න.

- අංක (i) සිට (v) තෙක් එක් එක් ප්‍රශ්නයට ඉදිරියෙන් දී ඇති ඉංග්‍රීසි අක්ෂර තුන අතුරෙන් නිවැරදි පිළිතුර දැක්වෙන අක්ෂරය සිතියමෙන් තෝරා, සිතියමට යාබද ව ඇති තීරුවේ එක් එක් ප්‍රශ්න අංකය ඉදිරියේ ඇති කොටුව තුළ ලියා දක්වන්න.

i. හරිකේන් සුළි කුණාටු ඇති වන සාගර ප්‍රදේශය - H I K

ii. අප්‍රිකාවේ නයිල් ගංගාව ආශ්‍රිත ද්විතීයික අධිජන සංකේන්ද්‍රණ කලාපය - L M N

iii. තේ වගාව සඳහා මෑත කාලයේ ප්‍රසිද්ධියට පත් වූ කෙන්යාව - O P S

iv. මරේ ඩාලිං ගංගා නිම්නය - T V W

v. අල්තායි කඳු වැටිය - X Y Z

(ලකුණු 05)

(ඉ) ඔබ වෙත සපයා ඇති ශ්‍රී ලංකා සිතියම හොඳින් අධ්‍යයනය කර, පහත සඳහන් ප්‍රශ්නවලට පිළිතුරු සපයන්න.
පිළිතුරු සැපයීම සඳහා ශ්‍රී ලංකා සිතියමට යාබද ව දක්වා ඇති තීරුව යොදා ගන්න.

- අංක (i) සිට (v) තෙක් එක් එක් ප්‍රශ්නයට ඉදිරියෙන් දී ඇති ඉංග්‍රීසි අක්ෂර තුන අතුරෙන් නිවැරදි පිළිතුර දැක්වෙන අක්ෂරය සිතියමෙන් තෝරා, සිතියමට යාබද ව ඇති තීරුවේ එක් එක් ප්‍රශ්න අංකය ඉදිරියේ ඇති කොටුව තුළ ලියා දක්වන්න.

i. බෝඹුවල වී පර්යේෂණායතනය - A B C

ii. කෝකිලායි මසුන් ගොඩ බාන මධ්‍යස්ථානය - D E F

iii. කටුගම්පල බුලත් අපනයන ගම්මානය - G H I

iv. මුලතිව් දිස්ත්‍රික්කය - J K L

v. දෙදියගල රක්ෂිතය - M N O

(ලකුණු 05)

(අ)

(i)

(ii)

(iii)

(iv)

(v)

5

(ඉ)

(i)

(ii)

(iii)

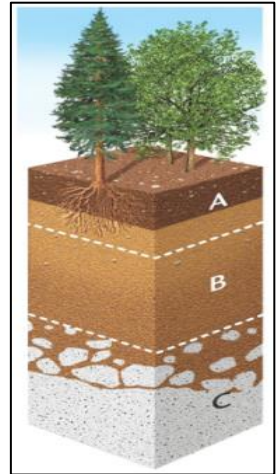
(iv)

(v)

5

1. (අ) $\frac{10}{10}$ + (ආ) $\frac{5}{5}$ + (ඉ) $\frac{5}{5}$ = $\frac{20}{20}$

II - කොටස



2. මෙම රූපයෙන් දක්වා ඇත්තේ පාංශු පැතිකඩක හරස්කඩකි.

- i). (a) හයුමස් පස දක්නට ලැබෙන මහලේ අක්ෂරය ද,
(b) ලවණ හා මැටි වර්ග තැන්පත් ව ඇති මහලේ අක්ෂරය ද ලියා දක්වන්න.

(ලකුණු 2)

ii). දේශීය කර්මාන්ත සඳහා මිනිරන් භාවිත වන අවස්ථා තුනක් සඳහන් කරන්න.

(ලකුණු 3)

iii). (a). ඛනිජ සම්පත් අසීමිත ලෙස පරිභෝජනය හේතුවෙන් සිදු වන පාරිසරික ගැටලු තුනක් සඳහන් කරන්න.

(b). ඉන් එක් ගැටලුවක් පරිසරයට ඇති කරන අහිතකර බලපෑම කෙටියෙන් විස්තර කරන්න.

(ලකුණු 5)

3. i). ශ්‍රී ලංකාවේ වී වගා බිම් අතුරෙන්,

(a). අඩු ම ව්‍යාප්තියක් ඇති දිස්ත්‍රික්කය,

(b). වැඩි ම ව්‍යාප්තියක් ඇති දිස්ත්‍රික්කය නම් කරන්න .

(ලකුණු 2)

ii). ශ්‍රී ලංකාවේ වී වගාව සිදු කරන ප්‍රධාන කලාප තුනක් නම් කරන්න .

(ලකුණු 3)

iii). (a). වර්තමානයේ ශ්‍රී ලංකාවේ පොල් නිෂ්පාදනය අඩු වීමට බලපා ඇති හේතු තුනක් සඳහන් කරන්න.

(b). පොල් නිෂ්පාදනය වැඩි කිරීම සඳහා ඔබ යෝජනා කරන එක් ක්‍රියාමාර්ගයක් පැහැදිලි කරන්න.

(ලකුණු 5)

4. i). නිෂ්පාදන කර්මාන්තයක් යන්න හඳුන්වන්න .

(ලකුණු 2)

ii). කර්මාන්ත ස්ථාන ගත වීම කෙරෙහි බලපාන සාධක අතරින් අමුද්‍රව්‍ය වර්ග තුනක් නම් කරන්න .

(ලකුණු 3)

iii). වර්තමානයේ දී දෙමුහුන් (Hybrid) වාහන හා විදුලි (EV) වාහනවලට ඇති ඉල්ලුම ඉහළ යාමට බලපා ඇති හේතු දෙකක් කෙටියෙන් පැහැදිලි කරන්න .

(ලකුණු 5)

5. i). මැටි කර්මාන්තය ආශ්‍රිත ව භාවිත වන,

(a) කෙඹලින් මැටි

(b) බෝල මැටි නිධි ව්‍යාප්ත වී ඇති එක් ප්‍රදේශය බැගින් නම් කරන්න . (ලකුණු 2)

ii). පෙට්‍රෝ රසායන කර්මාන්ත ආශ්‍රිත නිෂ්පාදන තුනක් සඳහන් කරන්න .

(ලකුණු 3)

iii). (a) වර්තමානයේ පවතින ඛනිජ තෙල් අර්බුදය නිසා පෙට්‍රෝ රසායන කර්මාන්ත මුහුණ දෙන ගැටලු තුනක් නම් කරන්න.

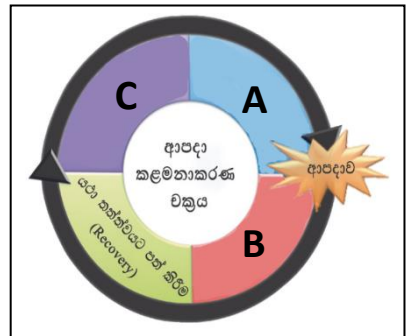
(b) ඔබ ඉහත සඳහන් කළ එක් ගැටලුවක් පැහැදිලි කරන්න .

(ලකුණු 5)

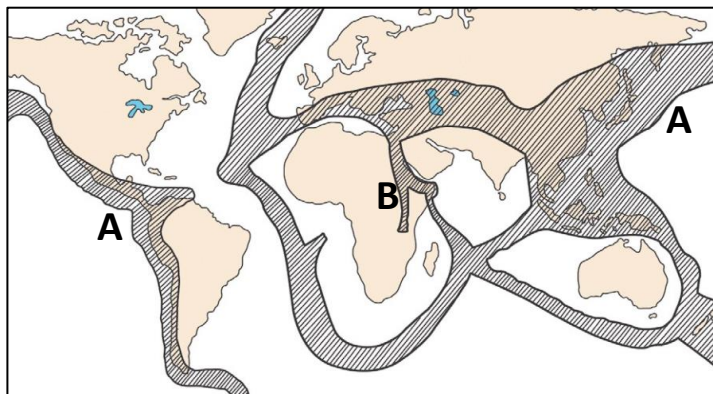
- 6. i). ජන සංඛ්‍යාව පිළිබඳ සැලකීමේ දී ප්‍රධාන වශයෙන් වැදගත් වන ක්ෂේත්‍ර දෙකක් ඇත .ඉන්,
 - (a). මිනිසාට උපතින් උරුම වන ලක්ෂණයක් ද,
 - (b). උපතින් පසු ව උරුම කර ගනු ලබන ලක්ෂණයක් ද සඳහන් කරන්න. (ලකුණු 2)
- ii). ශ්‍රී ලංකාවේ ජන සංඛ්‍යාවේ වාර්ෂික වර්ධන අනුපාතිකය පහළ බැසීමට හේතු වී ඇති කරුණු තුනක් නම් කරන්න . (ලකුණු 3)
- iii). තෙත් කලාපයට අයත් කළුතර සහ ගම්පහ දිස්ත්‍රික්කවල ජන සංඛ්‍යා වර්ධන වේගය ඉහළ අගයක් ගැනීමට හේතු දෙකක් පැහැදිලි කරන්න . (ලකුණු 5)

- 7. i). ස්වාභාවික ආපදාවක් යනු කුමක් දැයි හඳුන්වන්න . (ලකුණු 2)
- ii). මෙම උපද්‍රව වර්ග කර දක්වන්න.
 - (භූමි කම්පා , නියඟ , වසංගත රෝග , අකුණු සැර , ගිනිකඳු , මහා පරිමාණයෙන් සතුන් වදවීම)
 - (a). භූ විද්‍යාත්මක උපද්‍රව -
 - (b). දේශගුණ විද්‍යාත්මක උපද්‍රව -
 - (c). ජෛව විද්‍යාත්මක උපද්‍රව - (ලකුණු 3)

- iii) (a) ආපදා කළමනාකරණ චක්‍රයේ A, B, C අවස්ථාවන් පිළිවෙලින් නම් කරන්න.
- (b) ආපදා කළමනාකරණ චක්‍රයේ යථා තත්ත්වයට පත් කිරීමේ අවස්ථාවේ දී ගත හැකි ක්‍රියාමාර්ග දෙකක් විස්තර කරන්න. (ලකුණු 5)



- 8. i). ලෝකයේ භූමිකම්පා ඇතිවන කලාප ලකුණු කර ඇති මෙම සිතියමෙහි A හා B කලාප දෙක පිළිවෙලින් නම් කරන්න .



- (ලකුණු 2)
- ii). ගෝලීය උෂ්ණත්වය ඉහළ දැමීම කෙරෙහි බලපෑම් ඇති කරන අහිතකර වායු වර්ග තුනක් නම් කරන්න. (ලකුණු 3)
- iii). (a). දේශගුණික වෙනස් වීම් මානුෂ කටයුතු කෙරෙහි ඇති කරන බලපෑම් දෙකක් සඳහන් කරන්න .
- (b). දේශගුණික වෙනස් වීම් අවම කර ගැනීමට ගත හැකි ක්‍රියා මාර්ග තුනක් නම් කරන්න. (ලකුණු 5)