



யாழ்ப்பாணம் இந்துக் கல்லூரி

முதலாம் தவணை மதிப்பீட்டுப் பரீட்சை - 2022

தரம் - 8

சீத்திரம்

நேரம் :- 2 மணித்தியாலம்

பெயர் / சுட்டெண்

பகுதி I

* எல்லா வினாக்களுக்கும் இத்தாளிலேயே விடை தருக.

* 1 - 5 வரையான வினாக்களுக்கு கீழே தரப்பட்டுள்ள படத்தை அடிப்படையாகக் கொண்டு விடை தருக.



01. மேலே காட்டப்படும் கொட்டகை அலங்காரம் சாந்திக் கிரிகையுடன் தொடர்புபட்டது.

02. இது பிரதேச நடன பாரம்பரியத்துடன் தொடர்புபட்டது.

03. இது தெய்வங்களுக்காக மேற்கொள்ளப்படும்.

04. இக்கிரிகை அரசன் தலையில் ஏற்பட்ட நோயைக் குணப்படுத்த உருவாக்கப்பட்டது.

05. இக் கொட்டகையை அலங்கரிக்க இயற்கை பொருட்கள் பயன்படும்.

* 6 - 10 வரையான வினாக்களுக்கு சரியாயின் (✓) எனவும் பிழையாயின் (×) எனவும் அடைப்புக்குள் இருக.

06. புத்தர் சிலைகளில் இருக்கும் மெய்நிலை (ஆசனமுறை) பத்மாசனம், வீராசனம், பத்திராசனம் என மூன்று வகைப்படும். ()

07. "மடுசெரசிலி" எனப்படும் கொட்டகை அமைப்பு கும்பாபிஷேக சாந்திக் கிரியையுடன் தொடர்புபட்டது. ()

08. வேப்பக் தெய்வத்தை ஆதாரமாகக் கொண்டு கொஹெம்ப கங்காரிய சாந்திக்கிரி மேற்கொள்ளப்படும். ()

09. நின்ற நிலை புத்தர் சிலைகளில் பெரும்பாலும் தியான, தர்மசக்கர,வரத, பூமிபரிச முத்திரைகள் பயன்படுத்தப்பட்டுள்ளன. ()

10. பிரச்சனைகளை தீர்க்கும் சந்தர்ப்பத்தை விதர்க்க முத்திரை குறிக்கிறது. ()


* 11 – 15 வரையான வினாக்களுக்கு சரியான விடையின் கீழ் கீறிடுக.

11. இடப்பாத்தின் மீது வலப்பாதம் இருக்கும் தன்மையில் அமர்ந்து இருக்கும் ஆசன முறை எது?
 1. வீராசனம்
 2. பத்மாசனம்
 3. பத்ராசனம்
 4. வஜ்ராசனம்
12. கொஹொம்பகங்காரிய சாந்திக்கிரியை முதலில் மேற்கொள்ளப்பட்ட பூங்கா எது?
 1. ரன் மசுப் பூங்கா
 2. மகாமேகவன பூங்கா
 3. சிகிரியா பூங்கா
 4. யானைப் பொய்கை
13. பத்தினித் தெய்வத்தையும், தொவல் தெய்வத்தையும் அடிப்படையாகக் கொண்டு ரூவன் வெல்ல பிரதேசத்தை அண்மித்து மேற்கொள்ளப்பட்ட சாந்திக்கிரியை எது?
 1. பஹன்மடுவ சாந்திக்கிரியை
 2. தொவல்மடுவ சாந்திக்கிரியை
 3. கொஹொம்ப கங்காரிய சாந்திக்கிரியை
 4. கும்பாபிஷேக கிரியை
14. இந்து ஆலயங்களில் நாள் தோறும் நடத்தப்படும் “நைமித்திய” பூஜைகளில் இழந்த சக்தியை மீள்ப் பெற 12 ஆண்டுகளுக்கு ஒருமுறை மேற்கொள்ளப்படும் கிரியை எது?
 1. மகோற்சவம்
 2. வேள்வி
 3. கும்பாபிஷேகம்
 4. நவராத்திரி
15. யாதேனும் ஒன்றை பிடித்திருக்கும் விதத்தை குறிக்கும் முத்திரை எது?
 1. பூமி பரிஸ முத்திரை
 2. கடகஹஸ்த முத்திரை
 3. வரத முத்திரை
 4. அபய முத்திரை

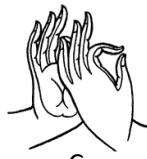
* 16 – 20 வரையான வினாக்களுக்கு தரப்பட்டுள்ள படங்களை அடிப்படையாக கொண்டு விடை தருக.



A




B



C



D



E

16. A எனும் ஆங்கில எழுத்து குறிக்கும் புத்தர் சிலையின் ஆசன முறை எது?
.....
17. B எனும் ஆங்கில எழுத்து குறிக்கும் புத்தர் சிலையின் முத்திரை எவ்வாறு அழைக்கப்படும்?
.....
18. C எனும் புத்தர்சிலை வெளிப்படுத்தும் முத்திரையின் பெயர் யாது?
.....
19. D எனும் ஆங்கில எழுத்து வெளிப்படுத்தும் ஆசன முறையின் பெயர் யாது?
.....
20. E எனும் ஆங்கில எழுத்து வெளிப்படுத்தும் ஆசன முறை எவ்வாறு அழைக்கப்படும்
.....

(20 x 2 = 40 புள்ளிகள்)

பகுதி II

கீழே தரப்பட்டுள்ள தலைப்புகளில் ஏதேனும் ஒன்றை தெரிவு செய்து வரைந்து வர்ணம் தீட்டுக.

01. துக்கத்துடன் இருக்கும் மனிதன்
02. சாரம் ஒன்றிற்கான கரை அலங்காரம்
03. சேனைப் பயிர்ச் செய்கையில் ஈடுபடும் விவசாயிகள்
04. பாடசாலை பெயர்ப்பலகையை வரைவோம்
05. சாறி ஒன்றின் கரை அலங்காரம்

(60 புள்ளிகள்)