



யாழ்ப்பாணம் இந்துக் கல்லூர்

முதலாம் தவணை மதிப்பீட்டுப் பரீட்சை - 2022

தரம் - 6

சீத்திரம்


நேரம் :- 2 மணித்தியாலம்

பெயர் / சுட்டெண்

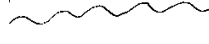
பகுதி I

* பின்வரும் இரேகைகளை அவதானித்து அவற்றின் பெயர்களை எழுதுக.

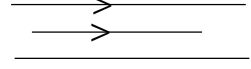
01.



02.



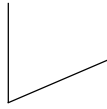
03.



04.



05.



(5 x 2 = 10 புள்ளிகள்)

* பின்வரும் வினாக்களுக்கு சரியான விடை என்று கோடு இடுக

01. மூல வர்ணங்கள் மூன்று அவையாவன

1. மஞ்சள், பச்சை, சிவப்பு

2. நீலம், மஞ்சள், பச்சை

3. சிவப்பு, மஞ்சள், நீலம்

4. வெள்ளை மஞ்சள் பச்சை

02. உலகமெங்கும் வாழும் பௌத்த மத மக்கள் கொண்டாடும் சிறப்பான பண்டிகை எது.

1. தைப் பொங்கல் பண்டிகை

2. வெசாக்பௌர்ணமி தினம்

3. ரமழான் பண்டிகை

4. நத்தார் பண்டிகை

03. பொது வர்ணங்கள் யாவை

1. சிவப்பு, மஞ்சள்

2. மஞ்சள், பச்சை

3. கறுப்பு மஞ்சள்

4. கறுப்பு வெள்ளை

04. இலங்கை தாது கோபுரங்களில், காணப்படும் சதுர கோட்டம் எனும் அமைப்பு இந்தியாவில் உள்ள சாஞ்சி தூபியின் அமைப்பு போன்றது அது எது.

1. கலசம்

2. ஹர்மிகா

3. அண்டம்

4. கலசபீடம்

05. தாது கோபுரத்தின் அண்டம் எத்தனை வகைப்படும்.

1. 8

2. 6

3. 4

4. 3

(5 x 2 = 10 புள்ளிகள்)

* பின்வருவனவற்றில் மிக சரியான விடையினை தொடர்புபடுத்துக.

01. வெசாக் பண்டிகை

தாமரை வடிவம்

02. களனி தாதுகோபுரம்

சிவப்பு நிறம்

03. ஆபத்து கோபம் வெளிப்படுத்தும் நிறம்

வெளிச்சக்கூடு

04. இலங்கையில் காணப்படாத பகுதி

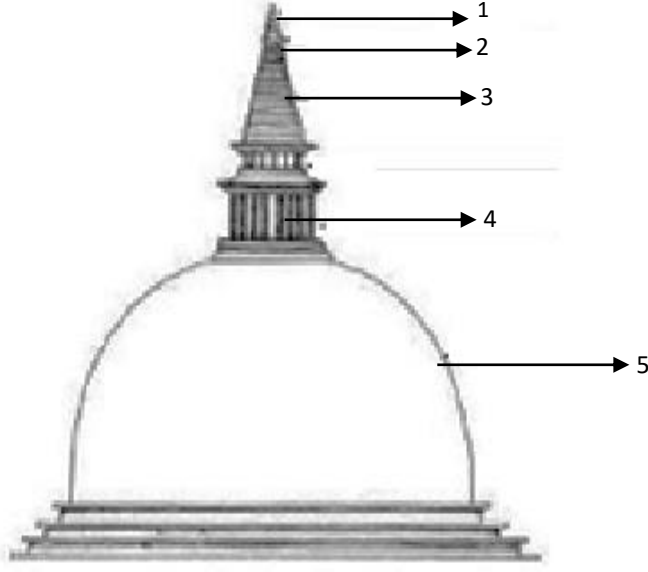
நீர்குமிழி வடிவம்

05. ருவான்வெலிசாய

தானிய குவியல் வடிவம்

(5 x 2 = 10 புள்ளிகள்)

தாது கோபுரத்தின் பகுதிகளை குறித்து காட்டுக



01.
02.
03.
04.
05.

(5 x 2 = 10 புள்ளிகள்)

(மொத்தம் 40புள்ளிகள்)

பகுதி II

பின்வரும் தலைப்புகளில் விரும்பியதை தெரிவு செய்து ஒன்றை வரைந்து முழுமையாக வர்ணம் தீட்டுங்கள்

01. காலைக்காட்சி
02. விரும்பிய காட்டுன் ஓவியம்
03. அலங்கார கோலம்
04. பூக்கள் கொண்ட சீத்தைத் துணி அலங்காரம்

(60 புள்ளிகள்)