

බස්නාහිර පළාත් අධ්‍යාපන දෙපාර්තමේන්තුව - කොළඹ අධ්‍යාපන කලාපය Western Provincial Education Department - Colombo Educational Zone இமல் மாகாணக் கல்வித் திணைக்களம் - கொழும்பு கல்வி வலயம் Western Provincial Education Department - Colombo Educational Zone	බස්නාහිර පළාත් අධ්‍යාපන දෙපාර්තමේන්තුව - කොළඹ අධ්‍යාපන කලාපය இமல் மாகாணக் கல்வித் திணைக்களம் - கொழும்பு கல்வி வலயம் Western Provincial Education Department - Colombo Educational Zone	කොළඹ අධ්‍යාපන දෙපාර්තමේන්තුව - කොළඹ අධ්‍යාපන කලාපය Education Department - Colombo Ed இமல் மாகாணக் கல்வித் திணைக்களம் - கொழும்பு கல்வி வலயம் Education Department - Colombo Ed
දෙවන වාර ඇගයීම - 2016 இரண்டாம் தகவண மதிப்பீடு - 2016 Second Term Evaluation - 2016		
11 ශ්‍රේණිය தரம் 11 Grade 11	විභූ - I පත්‍රය சித்திரம் வினாத்தாள் - I Art Paper - I	පැය එකයි இரண்டு மணித்தியாலங்கள் Two Hours

- ❖ ප්‍රශ්න සියල්ලටම පිළිතුරු මෙම පත්‍රයේම සපයන්න.
- ❖ පහත දැක්වෙන රූප සටහන ඇසුරු කරගෙන අංක 01-05 දක්වා දී ඇති ප්‍රශ්න වලට පිළිතුරු සපයන්න.



01. මෙම ඡායාරූපයෙන් දැක්වෙන මුද්ධ ප්‍රතිමාව පොළොන්නරු යුගයට අයත් හි දක්නට ලැබෙන නිර්මාණයකි. 02. උස අඩි 22 ක් පමණ වන මෙම ප්‍රතිමාව ඉරියව්වෙන් යුක්තව නෙලා ඇත. 03. විවරයේ රැළි යෙදීම මෙම යුගයට අයත් මුද්ධ ප්‍රතිමාවල දක්නට ලැබෙන ලක්ෂණයකි.
 04. මුදු පිළිමයේ දැකින් නිරූපණය වන මුද්‍රාව ලක්දිව මුදු පිළිම අතර හමුවන දුලහ මුද්‍රාවකි.
 05. ප්‍රතිමාව නිර්මාණය කර ඇත්තේ මාධ්‍යයෙනි.
- ❖ අංක 06-10 දක්වා ප්‍රශ්න වලට නිවැරදි පිළිතුරු සපයන්න.
06. ලාක්ෂා නෂ්ණයේ දී භාවිත කෙරෙන ලාක්ෂා වර්ග දෙකෙන් එක් වර්ගයක් කෝන් ලාකඩය. අනෙක් වර්ගය හඳුන්වන්න.
 07. ටවර්හෝල් නාට්‍ය සඳහා චිත්‍ර වස්ත්‍ර සකස් කළ රිචඩ් හෙන්රිකස්ගේ බටහිර චිත්‍ර කලා ශෛලිය ලක්ෂණ ඇසුරින් බොද්ධ සිතුවම් කලාවක් ලාංකීය බොදු ජනයා අතර ජනප්‍රිය කළ චිත්‍ර ශිල්පියා නම් කරන්න.
 08. සොබාදහමේ නෙළුම් මල් හා කොළ වල රිද්මයානුකූල බව ආදර්ශයට ගනිමින්, ඉඳිකළ සුවිශේෂී කුළුණු හැඩ සහිත පොළොන්නරු යුගයට අයත් අලංකාර ගෘහ නිර්මාණය කුමක් ද?
 09. පැරණි වාස්තු ශිල්පියාගේ, ශිල්පීය දක්ෂතාව විදහා දැක්වමින්, එක් දැව ඇණයකින් පරාළ විසිභයක් රඳවා ඇති ඇම්බැක්ක දේවලයේ වහළ නිර්මාණ ක්‍රමය හඳුන්වන නම කුමක්ද?
 10. ගෙඩිගේ නම් වූ වෘත්තාකාර පියස්සකින් සමන්විත වූ, ගම්පළ යුගයට අයත් ගඩලාදෙණි විහාරයේ දක්නට ලැබෙන ගෘහනිර්මාණ ලක්ෂණ කුමන සම්ප්‍රදායට අයත් වේද?

❖ ප්‍රශ්න අංක 11-15 තෙක් දී ඇති එක් එක් ප්‍රශ්නයට වඩාත් නිවැරදි පිළිතුර තෝරා ගත් ඉරක් අඳින්න.

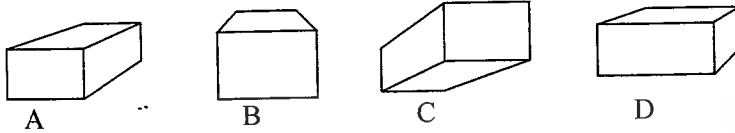
11. 19 වන සියවසේ, යුරෝපීය මූර්ති කලාව නව මගකට යොමු කළ හෙත්රි මුල් ශිල්පියා

- විසුක්ත රූපී හැඩතල ඇසුරින් විශාල ප්‍රමාණයේ උද්‍යාන මූර්ති රැසක් නිර්මාණය කරන ලදී.
- ස්වාභාවික හැඩතල භාවිත කරමින් විශාල උද්‍යාන මූර්ති නිර්මාණය කරන ලදී.
- මූර්ති නිර්මාණයේදී අප්‍රිකානු වෙස්මුහුණු කලාවේ ආභාෂය ලබා ගන්නා ලදී.
- ශ්‍රීත රෝම කලාවේ හා පුනරුද යුගයේ පැවති සාම්ප්‍රදායික මූර්ති නිර්මාණය කරන ලදී.

12. නවතාරී කුඤ්ජරය නැමැති සම්ප්‍රදායික සැරසිලි මෝස්තරය,

- කාන්තා රූප ඇසුරින් කළයක ආකාරයට නිර්මාණාත්මකව ඉදිරිපත් කර ඇත.
- කාන්තා රූප හා භංස මෝස්තර ඒකාබද්ධ කර නිර්මාණය කර ඇත.
- කාන්තා රූප ඇසුරින් හස්තියකුගේ ගමන් විලාශය අතිශය නිර්මාණාත්මකව ඉදිරිපත් කර ඇත.
- කාන්තා රූප ඇසුරින් අශ්වයකුගේ ස්වරූපය දක්වා ඇත.

13. පහත දැක්වෙන සෘජුකෝණාස්‍රාකාර වස්තූන් අතරින්, ක්ෂය වෘද්ධි ලක්ෂණය හොඳින් දර්ශනය වන රූප සටහන වනුයේ,



- A රූපය යි.
- B රූපය යි.
- C රූපය යි.
- D රූපය යි.

14. පෝස්ටර් චිත්‍රයක දක්නට ලැබෙන වඩාත් වැදගත් ලක්ෂණය වනුයේ,

- සංගත වර්ණ රාශියක් භාවිතා කර පණිවිඩයක් ලබා දීමය.
- සරල සංකේත භාවිත කරමින් නිරවුල් පණිවිඩයක් වේගවත්ව ප්‍රකාශ කිරීමයි.
- අර්ථවත් දිගු වැකි යොදා පණිවිඩය ඉදිරිපත් කිරීමයි.
- සංකීර්ණ හැඩතල භාවිතාකර පණිවිඩය ඉදිරිපත් කිරීමයි.

15. ඩේවිඩ් පේන්ටර් නම් ලාංකික චිත්‍ර ශිල්පියා විසින් අඳින ලද 'යහපත් සමරිතානුවරයා' නම් සිතුවමෙන්,

- යුරෝපීය පරිසරයේ දක්නට ලැබෙන ඇඳුම් පැළඳුම් හා පරිසර ස්වරූපය මෑතවත් නිරූපණය කර ඇත.
- ශ්‍රී ලාංකීය භූගෝලීය පසුබිම, සංස්කෘතිය හා මනාව රූප පිළිබිඹු කෙරේ.
- යුරෝපීය ශාස්ත්‍රාලීය චිත්‍ර කලා ලක්ෂණ හා යුරෝපීය සංස්කෘතිය දක්නට ලැබේ.
- විසුක්ත හැඩතල සහිත ශ්‍රී ලාංකීය මිනිස් රූප, පරිසරය හා සංස්කෘතිය නිරූපණය වේ.

❖ ප්‍රශ්න අංක 16-20 තෙක් දී ඇති රූප සටහන් වලට වඩාත් සෘජු සබඳතාවක් දක්වන රූප සටහන ඉදිරියේ ඇති A,B,C,D,E අතරින් තෝරා අදාල අක්ෂරය හිස්තැනෙහි ලියන්න.

16.




:*



A

17.



:*



B

18.




:*



C

19.



:*



D

20.



:*



E

❖ අංක 21 - 25 දක්වා දී ඇති වාක්‍ය වල හිස්තැනට සුදුසු වචනය යොදා හිස්තැන් පුරවන්න.

21. තෙ මාසයේදී හිරු දෙවියන් මුල්කරගෙන පවත්වන ආගමික උත්සවය ආගමිකයන් විසින් අතිශයෙන් උත්සවාකාරයෙන් පවත්වනු ලැබේ.

22. මහනුවර යුගයේ සිතුවම් හා මූර්ති රාශියකින් සමන්විත මහා කලාශාරයක් ලෙස සැලකෙන දඹුල්ල විහාරය රජු විසින් ඉදිකර ඇති බව සැලකේ.

23. අතීතයේ පසින් ගමන්ගත් ජනතාව තම විඩාව සංසිදුවා ගැනීමට නවාතැන් ගැනීම සඳහා ඉදි කළ දැනට ශේෂව පවත්නා දුර්ලභ ඥාති කැටයම් සහිත වාස්තු නිර්මාණයකි.

24. ඉතාලියේ ශාන්ත මරියා ඩෙලාග්‍රෙසි තාපසාරාමයේ හෝපනාගාර බිත්තියක ඇඳ ඇති ලියනාඩෝ ඩාවින්චිගේ අවසන් හෝපන සංග්‍රහය චිත්‍රය ශිල්ප ක්‍රමය අනුව නිර්මාණය කරන ලද්දකි.

25. ඉන්දීය කලා සම්ප්‍රදායට අයත් අනගිභවනීය මුද්ධ ප්‍රතිමාවක් ලෙස සැලකෙන සාරානාත් මුද්ධ පිළිමය, විශිෂ්ඨ භාව ප්‍රකාශයකින් සමන්විත වේ.

❖ 26 -30 දක්වා දී ඇති වචන වල අර්ථය පැහැදිලි වන පරිදි වාක්‍යයක් ලියන්න.

- 26. කියරොස්කුරෝ -
- 27. වයනය -
- 28. ටැම්පිට විහාරය -
- 29. අර්මිබුව -
- 30. කැලියෝග්‍රැෆි -

❖ අංක 31-35 දක්වා අසා ඇති ප්‍රශ්න සඳහා F,G,H,I,J යන රූප ඇසුරින් පිළිතුරු සපයන්න.



F




G



H



I



J

31. F අක්ෂරයෙන් දැක්වෙන ඉසුරුමුණි විහාරයට අයත් කැටයම් වල දක්නට ලැබෙන කලා සම්ප්‍රදාය කුමක් ද ?

.....?


32. G අක්ෂරයෙන් දැක්වෙන මූර්තිය හඳුන්වන නම කුමක්ද ?

33. H අක්ෂරයෙන් දැක්වෙන ගොඩනැගිල්ල, නිර්මාණ කර ඇති ශිල්පියා නම් කරන්න.

34. I අක්ෂරයෙන් දැක්වෙන මූර්තිය නිර්මාණය කර ඇති මාධ්‍යය කුමක් ද?

35. J අක්ෂරයෙන් දැක්වෙන සිතුවම නිර්මාණය කළ ශිල්පියා නම් කරන්න.

❖ 36-40 දක්වා විත්‍රය හඳුනාගෙන,දී ඇති තේමා යටතේ වාක්‍ය 05 කින් කලාත්මක ඇගයීමක් කරන්න.



36. දක්නට ලැබෙන ස්ථානය -

37. තේමාව -

38. ශිල්පක්‍රමය -

39. වර්ණ භාවිතය -

40. ශිල්පීය කුසලතා -

සියලු ම හිමිකම් ඇවිරිණි]
 முழுப் பதிப்புரிமையுடையது]
 All Rights Reserved]

ඉස්කෝල පලාත් අධ්‍යාපන දෙපාර්තමේන්තුව - කොළඹ අධ්‍යාපන කලාපය இலங்கைப் பகுதி கல்வித் திணைக்களம் - කොළඹ අධ්‍යාපන කලාපය Western Provincial Education Department - Colombo Educational Zone Western Provincial Education Department - Colombo Educational Zone	විස්තාරිත පලාත් අධ්‍යාපන දෙපාර්තමේන්තුව - කොළඹ අධ්‍යාපන කලාපය மேல் மாகாணக் கல்வித் திணைக்களம் - கொழும்பு கல்வி வலயம் Western Provincial Education Department - Colombo Educational Zone Western Provincial Education Department - Colombo Educational Zone	කොළඹ අධ්‍යාපන දෙපාර්තමේන්තුව - කොළඹ අධ්‍යාපන කලාපය இலங்கைப் பகுதி கல்வித் திணைக்களம் - කොළඹ අධ්‍යාපන කලාපය Colombo Educational Zone Western Provincial Education Department - Colombo Educational Zone Colombo Educational Zone Western Provincial Education Department - Colombo Educational Zone
දෙවන වාර අගයීම් - 2016 இரண்டாம் தகவண மதிப்பீடு - 2016 Second Term Evaluation - 2016		
11 ශ්‍රේණිය தரம் 11 Grade 11	විභූ - III පත්‍රය சித்திரம் வினாத்தாள்- III Art Paper - III	පැය දෙකයි இரண்டு மணித்தியாலங்கள் Two Hours

සැලකිය යුතුයි.

- ❖ ඔබ ඇඳිය යුත්තේ එක් විභූයක් පමණි.
- ❖ ඔබේ විභූ අංකය / නම , පාසල හා අදාල ප්‍රශ්න අංකය උත්තර පත්‍රයේ පසු පිටේ පැහැදිලිව ලියන්න.
- ❖ උත්තර පත්‍රය විභූග ඔලොම්පිකට දෙන විට වියළි තිබිය යුතුය.
- ❖ දිය සායම්, පෝස්ටර් සායම්, පැස්ටල් ආදී අනෙක් නොගැවෙන ඕනෑම මාධ්‍යයක් වර්ණ සහිත භාවිත කළ හැකිය. (ඟල්ට් පෑන් භාවිතය සුදුසු නැත.)

• “අ” හෝ “ආ” යන කොටසින් හෝ “ඉ” කොටසින් එක් මාතෘකාවක් පමණක් තෝරා ගන්න.

“අ” කොටස - විභූ සංරචනය

1. සිරිපා වන්දනාවේ ශිෂ්‍ය බැව්වතුන්
2. වනෝද්‍යානයක් තුළ අනතුරක ඉව වැටුණු මුව රංචුවක්
3. දොළක දිය නාන ගමේ කොලු ගැටවු
4. පහත ඡායාරූප කවිය අර්ථවත් කරමින් වර්ණවත් විභූයක් අඳින්න.

දාඩිය මුතු වැල් ගතේ	දිලෙන්තේ
සතුටු සිනාමල් වතේ	පිපෙන්තේ
රටේ දියුණුවයි තිතේ	තියෙන්තේ
කවි කියමින් ලිය කෙතේ	නෙළන්නේ

“ආ” කොටස - ග්‍රැෆික් නිර්මාණ

5. “මන් උවදුර දුර කරමු” තේමාව යටතේ වර්ණවත් පෝස්ටරයක් නිර්මාණය කරන්න.
6. “ළදරු ඇඳුම් මෝස්තර” යන මැයෙන් පොත් පිටකවරයක් සැලසුම් කරන්න.
7. පාසලේ විභූ කලා සංගමය මගින් පවත්වනු ලබන විභූ ප්‍රදර්ශනය සඳහා ආරාධනා පත්‍රයක් සැලසුම් කරන්න.
8. නවතම ගුවන් විදුලි සේවාවක් සඳහා සුදුසු ලාංඡනයක් නිර්මාණය කරන්න.

“ඉ” කොටස - මෝස්තර නිර්මාණය

9. ස්වාභාවික මල් හා කොළ ඇසුරු කරගෙන වින්ත රෙද්දක් සඳහා භාවිත මෝස්තරයක් නිර්මාණය කරන්න.
10. බතික් සම්ප්‍රදායට අනුකූලව නිම කෙරෙන ඔසර් පල්ලුවකට සුදුසු සැරසිල්ලක් පාරම්පරික සැරසිලි ඒකක ඇසුරින් සැලසුම් කර වර්ණ ගන්වන්න.
11. නිවසේ පිරිත් මණ්ඩපයකට පිවිසෙන දොරටුව අලංකාර කිරීම සඳහා සුදුසු අලංකාර සැරසිල්ලක් සැලසුම් කරන්න. (භාවිත අමු ද්‍රව්‍ය ගැලපෙන අයුරින් වර්ණ ගන්වන්න.)
12. වතුරසාකාර කුෂන් කවරයක් සඳහා විසුකන් මෘත්ත හැඩතල භාවිතයෙන් මුළු තල මෝස්තරයක් නිර්මාණය කරන්න.

