



யாழ். வலயக் கல்வித் திணைக்களத்தின் அனுசரணையுடன்  
தொண்டைமானாறு வெளிக்கள நிலையம் நடாத்தும்

Field Work Centre  
தவணைப் பரீட்சை, மார்ச் - 2016  
Term Examination, March - 2016

தரம் :- 13 (2016)

பொருளியல் - I

இரண்டு மணித்தியாலங்கள்

சுட்டெண் : .....

கவனிக்குக:-  
\* எல்லா வினாக்களுக்கும் இத்தாளிலேயே விடை எழுதுக.  
\* 01 தொடக்கம் 50 வரையுள்ள வினாக்கள் ஒவ்வொன்றிற்கும் சரியான அல்லது மிகப் பொருத்தமான விடையைத் தெரிவு செய்து அதன் இலக்கத்தைத் தரப்பட்டுள்ள புள்ளிக்கோட்டின் மீது எழுதுக.  
\* மேலே தரப்பட்டுள்ள இடைவெளியில் உமது சுட்டெண்ணைத் தெளிவாக எழுதுக.

- 01) ஒரு பொருளாதாரத்தில் குடும்பம் மற்றும் உற்பத்தி அமைப்புக்கள் வெவ்வேறாகவே தீர்மானம் எடுக்கின்றன. இவ்வாறாக வெவ்வேறாக எடுக்கப்படுகின்ற தீர்மானம் தொடர்பில் கற்கை செய்கின்ற பொருளியல் விடத்துறை எது?  
(1) பேரண்டப் பொருளியல்  
(2) நடைமுறைப் பொருளியல்  
(3) நுண்பாகப் பொருளியல்  
(4) மனைப் பொருளியல்  
(5) நேர்ப் பொருளியல் (.....)
- 02) பின்வருவனவற்றுள் நேர்க்கணிய நிலைக்கூற்று எது?  
(1) அரசு ஊழியர்களின் ஓய்வுபெறும் வயதெல்லையை 65 ஆக உயர்த்த வேண்டும்.  
(2) சமமற்ற வளப்பகிர்வு நியாயமற்றதாகும்.  
(3) இலங்கை தனது பொருளாதார வளர்ச்சியை அடுத்த ஐந்து வருடங்களுக்குள் 8 – 10 வீதம் வரை பேணுதல் வேண்டும்.  
(4) அரசாங்கம் சமூக நலன்புரிச் சேவைகளிலான செலவீட்டைக் குறைக்க வேண்டும்.  
(5) சமூக நலன்புரிச் சேவைகள் மீதான செலவுகள் அரசாங்கமொன்றின் செலவீட்டிற் கணிசமானதோர் இடத்தை எடுத்துக் கொள்கின்றன. (.....)
- 03) பின்வருவனவற்றுள் பொருளாதாரப் பண்டமொன்றின் பண்புகளைக் காட்டும் சரியான விடையினைத் தெரிவு செய்க.  
A - அருமையான வளங்களைப் பயன்படுத்தி உற்பத்தி செய்யப்படுவது.  
B - சந்தர்ப்பக்கிரமம் நேர்ப்பெறுமதி கொள்ளும்  
C - நுகர்வோர் செலவொன்றை ஏற்க நேரிடல்  
D - குறைந்து செல்லும் எல்லைச் செலவொன்று காணப்படுதல்  
(1) A மற்றும் B (2) B மற்றும் C (3) C மற்றும் D  
(4) A, B மற்றும் C (5) B, C மற்றும் D (.....)
- 04) சந்தைப் பொருளாதார முறை தொடர்பான விமர்சனங்களில் ஒன்று பின்வருவனவற்றுள் எது?  
(1) மிகச்சிறந்த தீர்மானங்களை மேற்கொள்வதற்கான மிகச் சிறந்த தகவல்களை திரட்டிக் கொள்வதற்கான சிக்கல் நிலை காணப்படல்.  
(2) ஒழுங்கமைப்பு மற்றும் தொடர்புபடுத்தல் போன்ற பிரச்சனைகள் ஏற்படல்.  
(3) இயக்கிகள் இல்லாமையின் காரணமாக நெகிழ்ச்சியற்ற சூழ்நிலை காணப்படுதல்.  
(4) வெளிவாரி விளைவுகள் காணப்படும் பண்டங்கள் தொடர்பில் வினைத்திறனற்ற வள ஒதுக்கீடு இடம்பெறல்.  
(5) ஏகாதிபத்திய அதிகாரம் காரணமாக வினைத்திறனற்ற சூழ்நிலை உருவாதல். (.....)

- 05) சந்தைப் பொருளாதாரமொன்றில் வள ஒதுக்கீட்டுப் பிரச்சனைக்கான தீர்வு மேற்கொள்ளப்படுவது
- (1) காரணி விலைகளின் அடிப்படையிலாகும்.
  - (2) பொருட்களின் விலைகளின் அடிப்படையிலாகும்.
  - (3) அரசாங்கத்தினாலாகும்.
  - (4) உற்பத்தியாளர்களால் ஆகும்.
  - (5) காரணி விலை மற்றும் பொருட்களின் விலைகளின் அடிப்படையிலாகும். (.....)
- 06) உற்பத்தி சாத்திய எல்லையினுள் அமைந்துள்ள புள்ளியின் மூலம் சுட்டிக்காட்டப்படுவது
- (1) வளங்கள் முழுமையாகவே உற்பத்தியின் பொருட்டு பயன்படுத்தப்பட்டுள்ளன என்பதாகும்.
  - (2) மேலும் பயன்படுத்தப்படாதுள்ள ஒரு தொகை வளங்கள் காணப்படுகின்றன என்பதாகும்.
  - (3) அமையச் செலவு பற்றிய கருத்தாகும்.
  - (4) குறித்த புள்ளி உற்பத்தி வினைத்திறனைக் கொண்டதாகும்.
  - (5) மேற்படி சந்தர்ப்பம் உற்பத்தி சாத்திய வளைகோட்டின் மீது அமைந்துள்ள புள்ளியை விட சிறந்ததென்பதாகும். (.....)
- 07) பொருளாதார வினைத்திறனுடன் தொடர்புபடாத கூற்று பின்வருவனவற்றுள் எது?
- (1) ஏதேனும் ஒரு பொருள்கள் சேவைகளின் சேர்கையினை மிகவும் குறைந்த செலவில் உற்பத்தி செய்தல்.
  - (2) நிறை தொழில்மட்டம், பூரண வெளியீட்டு மட்டம் காணப்படுதல்.
  - (3) ஒவ்வொரு பொருளையும் உற்பத்தி செய்வதில் ஏற்படும் எல்லைச் செலவு அப்பொருளின் விலைக்கு சமப்படல்.
  - (4) விருப்பம் மற்றும் ஆற்றலுடைய நபர்களினால் பொருட்களும் சேவைகளும் உற்பத்தி செய்யப்படுதல்.
  - (5) சமூகத்தால் அதிகம் விரும்பப்படும் பொருட்கள் சேவைகளை உற்பத்தி செய்யும் பொருட்டு வளங்களை ஒதுக்கீடு செய்தல். (.....)
- 08) உள்ளூர் பால்மாவுக்கான கேள்விச் சமன்பாடு  $Q_d = 1200 - 2P$  ஆகும். உள்ளூர் பால்மாவுக்கான நிரம்பல் சமன்பாடு  $Q_s = 2P$  ஆகும். இவ் உற்பத்தியாளர்களுக்கு அரசு ரூபா 10 இனை அலகு மானியமாக வழங்கின் பால்மாவுக்கான புதியவிலை என்ன?
- (1) ரூபா 295
  - (2) ரூபா 300
  - (3) ரூபா 305
  - (4) ரூபா 310
  - (5) ரூபா 420 (.....)
- 09) பின்வருவனவற்றுள் தவறான கூற்று எது?
- (1) கேள்வி நெகிழ்ச்சியற்றதாக இருக்குமாயின் விலையும் மொத்த வருமானமும் ஒரே திசையில் அசைந்து செல்லும்.
  - (2) கேள்வி நெகிழ்ச்சியுடையதாக விளங்குமாயின் விலையும் மொத்த வருமானமும் எதிர்த்திசையில் அசைந்து செல்லும்.
  - (3) கேள்வி அலகு நெகிழ்ச்சி கொண்டதாக காண்படுமாயின் விலை மாறுகின்ற போது மொத்த வருமானம் எதுவித மாற்றத்திற்கும் உட்படாது.
  - (4) நேர்கோட்டு வடிவிலான ஒரு கேள்விக்கோடு மாறாத சரிவு கொண்டதாகும். எனவே நெகிழ்ச்சி மாற்றமடையாது.
  - (5) நெகிழ்ச்சியற்ற கேள்வி நிலவும் போது விலையில் உண்டாகும் ஓர் அதிகரிப்பு கேள்வித் தொகையின் மீது விகிதாசார ரீதியில் குறைவானதொரு வீழ்ச்சியையே கொண்டு வரும். (.....)

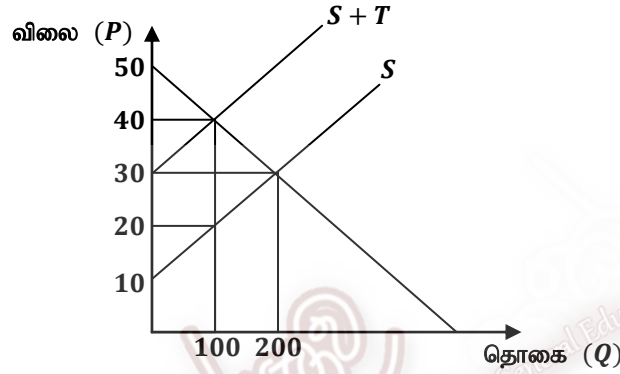
10) பின்வரும் அட்டவணை நுகர்வோர் வருமானம் மற்றும் கேள்வித் தொகையைக் காட்டுகின்றது.

நுகர்வோர் வருமானம்	கேள்வித்தொகை
2000 ரூ	15 அலகு
4000 ரூ	20 அலகு
6000 ரூ	25 அலகு

அட்டவணையில் குறிப்பிடப்படும் பொருள் பின்வருவனவற்றுள் எதுவாக இருக்கலாம்?

- (1) கிபன் பொருள்
  - (2) இழிவுப் பொருள்
  - (3) அத்தியாவசியப் பொருள்
  - (4) பொதுப் பொருள்
  - (5) ஆடம்பரப் பொருள்
- (.....)

11) கிழே தரப்பட்டுள்ள வரைபடம் அலகுவரியொன்று விதிக்கப்படுவதனால் ஏற்படக்கூடிய விளைவுகளைக் காட்டுகின்றது.



அலகு வரி மற்றும் அலகு வரியின் காரணமாக ஏற்படும் மிகையான வரிச்சுமை என்பன முறையே பின்வருவனவற்றுள் எது?

- (1) ரூபா 10, ரூபா 1000
  - (2) ரூபா 10, ரூபா 500
  - (3) ரூபா 20, ரூபா 500
  - (4) ரூபா 10, ரூபா 2000
  - (5) ரூபா 20, ரூபா 1000
- (.....)

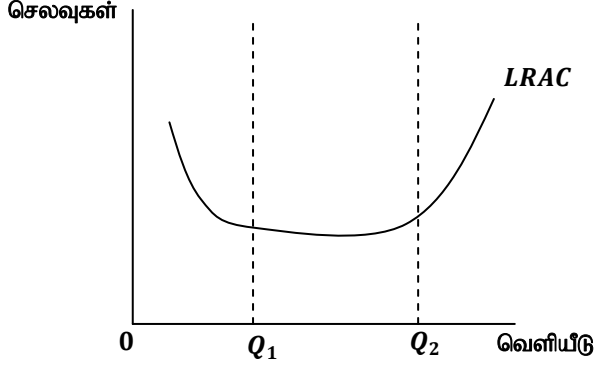
12) போட்டிச் சந்தையொன்றில் விற்கப்படும் பொருளொன்றின் கேள்விச் சமன்பாடு  $Qd = 100 - 2P$  ஆகவும் நிரம்பல் சமன்பாடு  $Qs = 30 + 3P$  ஆகவும் உள்ளது. 10 ரூபா விலையில் மிகைக்கேள்வி அளவும் ரூபா 15 விலையில் மிகை நிரம்பல் அளவும் யாது?

- |     | மி.கே | மி.நி |         |
|-----|-------|-------|---------|
| (1) | 20    | 5     |         |
| (2) | 80    | 10    |         |
| (3) | 10    | 80    |         |
| (4) | 5     | 20    |         |
| (5) | 10    | 15    | (.....) |

13) பின்வருவனவற்றுள் பொருத்தமற்றது

- (1) எல்லை உற்பத்தி பூச்சியமாகவுள்ள போது மொத்த உற்பத்தி அதன் உச்சநிலையில் காணப்படும்.
  - (2) சராசரி உற்பத்தியை விட எல்லை உற்பத்தி அதிகமாக உள்ளபோது சராசரி உற்பத்தி அதிகரிக்கும் போக்குடையது.
  - (3) எல்லை உற்பத்தியை விட சராசரி உற்பத்தி அதிகமாக உள்ள போது சராசரி உற்பத்தி குறைவடையும் போக்குடையது.
  - (4) எல்லை உற்பத்தி சராசரி உற்பத்திக்கு சமனாக உள்ள போது சராசரி உற்பத்தி அதன் கீழ் நிலையில் காணப்படும்.
  - (5) எல்லை உற்பத்தியும் சராசரி உற்பத்தியும் சமனாக உள்ள நிலையில் சராசரி உற்பத்தி அதன் உச்ச நிலையில் இருக்கும்.
- (.....)

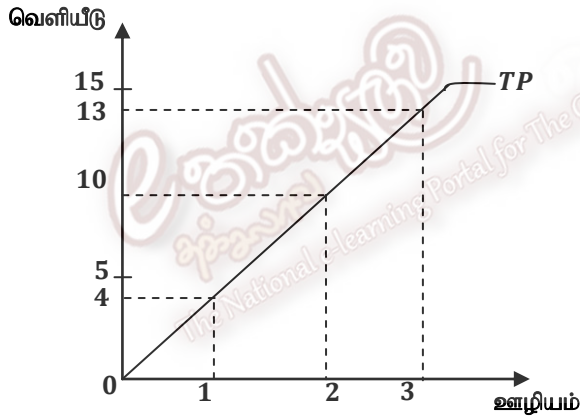
14) பின்வரும் வரைபடம் நீண்டகால சராசரிச் செலவு வளையியைக் காட்டுகின்றது.



வெளியீட்டினை  $Q_2$  இனை விட அதிகமாக மேற்கொண்டால்

- (1) உற்பத்தி அதிகரிப்பதால் செலவுகள் வீழ்ச்சியடையும்
- (2) பொருளாதார சிக்கனமின்மைகள் காணப்படும்
- (3) பொருளாதார சிக்கனங்கள் காணப்படும்
- (4) நிலையான செலவுகள் காணப்படும்
- (5) உள்ளீடுகள் அதிகரிப்பதை விட வெளியீடுகள் கூடுதலாக இருக்கும் (.....)

15) பின்வரும் வரைபடம் குறுங்கால மொத்த உற்பத்தி வளையியைக் காட்டுகின்றது.



ஊழியம் 2 அலகில் இருந்து 3 அலகுகளாக அதிகரிக்கும் போது மூன்றாவது வேலையாளர்க்கான எல்லை உற்பத்தி

- (1) 1 அலகு வெளியீடு
- (2) 2 அலகு வெளியீடுகள்
- (3) 3 அலகு வெளியீடுகள்
- (4) 4 அலகு வெளியீடுகள்
- (5) 5 அலகு வெளியீடுகள் (.....)

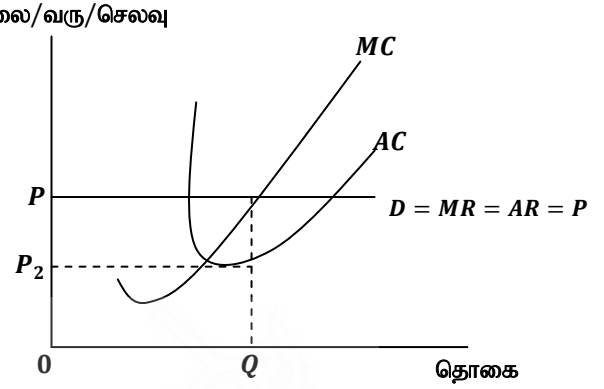
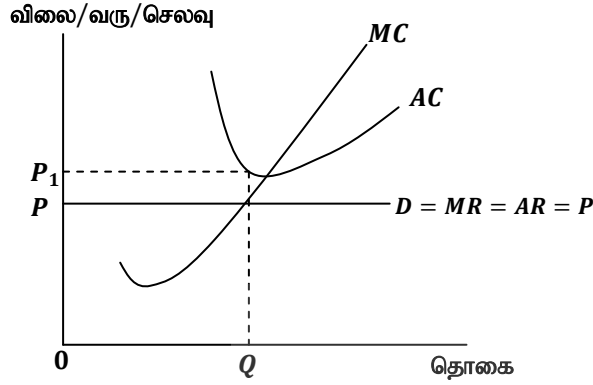
16) பின்வருவனவற்றுள் ஒரு நிறுவனத்தின் நிலையான கிரயமாகக் கொள்ளப்படாதது எது?

- (1) தேய்வுக் கட்டணம்
- (2) காப்புறுதிக் கட்டணம்
- (3) மூலதனத்திற்கான வட்டிக் கொடுப்பனவு
- (4) மூலப்பொருள் கொடுப்பனவு
- (5) ஒப்பந்த அடிப்படையில் வேலையில் இணைத்துக் கொள்ளப்பட்டுள்ள முகாமையாளர்களுக்கான சம்பளக் கொடுப்பனவு (.....)

17) உற்பத்தியில் ஒருவகைச் சிறப்புத் தன்மையைக் கொண்டிருத்தல். கைத்தொழிலுக்குள் நுழைவதற்குப் பூரண தடைகள் காணப்படுதல் என்ற பண்புகள் கொண்ட சந்தை அமைப்பு எது?

- (1) நிறை போட்டி
- (2) தனியரிமை
- (3) தனியரிமைப் போட்டி
- (4) சிலருரிமை
- (5) முதலாளித்துவ சந்தை (.....)

18) பின்வரும் வரைபடங்கள் A, B என்ற இரண்டு நிறைபோட்டி நிறுவனங்களின் சமநிலைகளை வெளிப்படுத்துகின்றது.



A, B நிறுவனங்கள் அனுபவிக்கும் சமநிலைகள் எது?

- (1) நிறுவனம் A சாதாரண இலாபம் B அசாதாரண இலாபம்
- (2) நிறுவனம் A அசாதாரண இலாபம் B சாதாரண இலாபம்
- (3) வெளியீடு மாற்றமின்றி இருப்பதால் இரண்டு நிறுவனங்களும் சாதாரண இலாபம்
- (4) நிறுவனம் A நட்டம் B சாதாரண இலாபம்
- (5) நிறுவனம் A நட்டம் B அசாதாரண இலாபம் (.....)

19) பின்வருவனவற்றுள் எது நிறைபோட்டித் தொழிலின் பண்பு அல்லாதது

- (1) மேலிருந்து கீழாக இடமிருந்து வலமாக சரிந்துசெல்லும் கேள்விக்கோடு
- (2) தனிப்பட்ட ஒவ்வொரு நிறுவனத்திற்கும் பூரண நெகிழ்ச்சி கொண்ட கேள்விக்கோடு
- (3) ஓரளவு வேறுபடுத்தப்பட்ட உற்பத்திகள்
- (4) ஒவ்வொரு நிறுவனமும் தனது வெளியீட்டு மட்டத்தை நிர்ணயித்தல்
- (5) தொழிலினது மொத்த நிரம்பலில் ஒவ்வொன்றும் ஒரு சிறு விகிதாசாரத்தை நிரம்பல் செய்யும் பல நிறுவனங்கள் இருத்தல் (.....)

20) நிறைபோட்டி நிறுவனமொன்றின் குறுங்கால செலவு தொடர்பான தகவல்கள் வருமாறு

வெளியீடு அளவு Q	எல்லைச் செலவு MC
0	—
1	50
2	28
3	20
4	14
5	18
6	20

இந்நிறுவனத்தின் ஐந்தாவது அலகு வெளியீட்டிற்கான சராசரிச் செலவு யாது?

- (1) 36
- (2) 36.3
- (3) 45
- (4) 49.3
- (5) 64 (.....)

- 21) உற்பத்தி காரணிகளுக்கான நிரம்பல் நெகிழ்ச்சி ஒன்றுக்கு குறைவாக இருக்கும் போது
- (1) மாற்றல் கட்டணத்தைவிட சிக்கன வாடகை பெரிதாக இருக்கும்.
  - (2) சிக்கன வாடகையை விட மாற்றல் கட்டணம் பெரிதாக இருக்கும்.
  - (3) சிக்கன வாடகையும் மாற்றல் கட்டணமும் சமமாக இருக்கும்.
  - (4) முழுவதும் சிக்கன வாடகையாக இருக்கும்.
  - (5) முழுவதும் மாற்றல் கட்டணமாக இருக்கும். (.....)
- 22) வர்த்தக சகட ஓட்டம் தொடர்பான பின்வரும் கூற்றுகளில் தவறானது எது?
- (1) வர்த்தக சகட ஓட்டத்தின் மந்தம் என்பது பொருளாதாரப் பின்னடைவு முடிவடைந்து விரிவாக்கம் ஆரம்பமாகும் கட்டமாகும்.
  - (2) விரிவாக்கக் கட்டத்தின் மிக உச்சமான சந்தர்ப்பமாக உச்சியைக் கருத முடியும்.
  - (3) உச்சிக்கும் பள்ளத்திற்கும் (*Trough*) இடையிலான காலஎல்லை பின்னடைவுக் காலகட்டமாகும்.
  - (4) பள்ளத்திற்கும் உச்சிக்கும் இடையிலான காலகட்டம் விரிவாக்க காலகட்டமாகும்.
  - (5) விரிவாக்கக் காலம் பின்னடைவுக் காலத்தை விடக் குறுகியதாக இருக்கும். (.....)
- 23) வருமானம் ரூபா 2000 ஆக உள்ளபோது சராசரி நுகர்வு நாட்டம் 0.8 ஆகும். வருமானம் ரூபா 4000 ஆக உள்ள போது எல்லை நுகர்வு நாட்டம் 0.7 ஆகும். இவ் எளிய பொருளாதாரத்தின் சேமிப்புச் சார்பு யாது?
- (1)  $S = 200 + 0.7y$
  - (2)  $S = -400 + 0.8y$
  - (3)  $S = -200 + 0.7y$
  - (4)  $S = -400 + 0.4y$
  - (5)  $S = -400 + 0.3y$  (.....)
- 24) பின்வருவனவற்றுள் எது மொத்தக் கேள்வியின் கூறான நுகர்வுச் செலவில் மாற்றத்தை ஏற்படுத்துவதில்லை?
- (1) செல்வம்
  - (2) எதிர்கால விலை அல்லது வருமானம்
  - (3) வட்டிவீதம்
  - (4) உற்பத்தித்திறன்
  - (5) வருமானவரி (.....)
- 25) தன்னியல்பான முதலீடு ( $I$ ) 50 இலிருந்து 100 வரை அதிகரிக்கும் போது நுகர்வு நாட்டம் 0.75 என எடுகோள் கொள்ளப்படுமாயின் உற்பத்தியில் ஏற்பட்ட மாற்றம் எது?
- (1) 100
  - (2) 200
  - (3) 250
  - (4) 325
  - (5) 420 (.....)
- 26) உள்நாட்டு வருமானம் மற்றும் சந்தை விலையில் மொத்த உள்நாட்டு உற்பத்தி என்பவற்றுக்கிடையிலான வேறுபாடு எது?
- (1) தேறிய நேரில் வரி மற்றும் தேறிய ஏற்றுமதி
  - (2) மூலதனத் தேய்வு மற்றும் தேறிய வெளிநாட்டுக் காரணி வருமானம்
  - (3) மூலதனத் தேய்வு மற்றும் நேர் வரிகள்
  - (4) தேறிய நேரில் வரிகள் மற்றும் தேறிய வெளிநாட்டுக் காரணி வருமானம்
  - (5) தேறிய நேரில் வரிகள் மற்றும் மூலதனத் தேய்வு (.....)
- 27) நாணயத்தின் சுற்றோட்ட வேகம் என்பதன் மூலம் கருதப்படுவது
- (1) பொதுமக்கள் வைத்திருக்கும் நாணயத் தொகையாகும்.
  - (2) குறுகிய பணநிரம்பலுக்கும் விரிந்த பணநிரம்பலுக்கும் இடையிலான விகிதமாகும்.
  - (3) நாணய அலகொன்று குறிப்பிட்டதொரு காலத்தினுள் எத்தனை தடவைகள் கொடுக்கல் வாங்கல்களுக்காகப் பயன்படுத்தப்படுகின்றதென்பதாகும்.
  - (4) பொது மக்கள் வைத்திருக்கும் நாணயத் தொகையும் பொது மக்களுக்கு உரியதாக வர்த்தக வங்கிகளில் காணப்படுகின்ற கேள்வி வைப்புக்களின் தொகையுமாகும்.
  - (5) பொருளாதாரத்தில் வெளியீட்டின் பௌதீக ரீதியான பருமன் ஆகும். (.....)

28) குறிப்பிட்டதொரு பொருளாதாரத்தில் ஊழியர்களுக்குச் செலுத்துகின்ற பணச் சம்பளம் அதிகரித்தது. ஆயினும் அவர்களது உண்மைச் சம்பளம் வீழ்ச்சியடைந்தது. அதற்கான காரணமாக இருக்கக் கூடியது

- (1) பணச் சம்பளம் அதிகரிக்கின்ற வேகத்தைவிட அதிக பணவீக்க வேகம் காணப்பட்டமையாகும்.
- (2) நலன்புரிச் செலவுகள் குறைக்கப்பட்டமையாகும்.
- (3) மேலதிக நேர வேலை குறைந்தமையாகும்.
- (4) வாழ்க்கைச் செலவு அதிகரித்தமையாகும்.
- (5) பொருளாதார வளர்ச்சி ஏற்பட்டமையாகும். (.....)

29) உயர்வலு நாணயத்தொகை அதிகரிப்பதில் கீழே குறிப்பிடப்பட்டுள்ள எந்தக் காரணி தாக்கத்தை ஏற்படுத்தும்?

- (1) வர்த்தக வங்கிகள் அரசாங்கத்திற்கு வழங்கியுள்ள கடன்கள்
- (2) ஒருங்கிணைந்த வங்கிமுறையின் தேறிய வெளிநாட்டுச் சொத்துக்களிலான குறைவு
- (3) மத்திய வங்கியின் தேறிய வெளிநாட்டுச் சொத்துக்களிலான வீழ்ச்சி
- (4) மத்திய வங்கி அரசாங்கத்திற்கு வழங்கியுள்ள தேறிய கடனின் அதிகரிப்பு
- (5) மத்திய வங்கியில் வணிக வங்கிகளுக்கு வழங்கப்பட்ட கடன்கள் குறைதல் (.....)

30) குறிப்பிட்டதொரு பொருளாதாரம் தொடர்பாக பின்வரும் தகவல்கள் உமக்குத் தரப்படுகின்றன. பொதுமக்களிடமுள்ள சட்டமுறைப் பணத்தொகை ரூபா 1000 ஆகும்.

வணிக வங்கிகள் பேணிச்செல்ல வேண்டுமென மத்தியவங்கி விதித்துள்ள ஒதுக்கு வீதம் 10% வணிக வங்கி அமைப்பின் ஐந்தொகை வருமாறு

மொத்த வைப்பு	1000	ஒதுக்கங்கள்	125
		கடன்	875
	<u>1000</u>		<u>1000</u>

மேலுள்ள வங்கியமைப்பில் மிகை ஒதுக்கு பூச்சிமாகும் நிலையில் வங்கி அமைப்பின் ஆரம்ப வைப்பு மற்றும் ஒடுங்கிய பணநிரம்பல் எவ்வளவு?

ஆரம்பவைப்பு	$M_1$ ஒடுங்கிய பணநிரம்பல்
(1) 1125	2125
(2) 1250	2250
(3) 1250	1250
(4) 2250	3250
(5) 2250	1250

(.....)

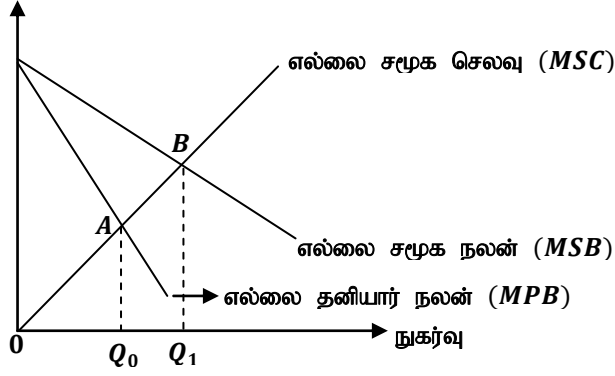
31) இலங்கை மத்திய வங்கி அரசு பிணையங்களைக் கொள்வனவு செய்வதன் மூலம் எதிர்பார்ப்பது

- (1) பிணைகளின் சந்தையை விரிவாக்கல்
- (2) சந்தையில் குறை திரவத்தன்மை நிலைமையின் போது திரவத் தன்மையைப் பெற்றுக் கொடுத்தல்
- (3) ஏனைய முதலீட்டாளர்களைப் போன்று முதலீட்டு அனுகூலத்தைப் பெறல்
- (4) முன்மாதிரியை வழங்குதல்
- (5) மேற்கூறிய எதுவும் பொருத்தமற்றது (.....)

32) பின்வருவனவற்றுள் பண்புக்கடன் கட்டுப்பாட்டுக் கருவி அல்லாதது எது?

- (1) கடன்களை மட்டுப்படுத்தல்
- (2) தெரிவு வட்டி வீதங்களை நிர்ணயித்தல்
- (3) நியதி ஒதுக்கு வீதம்
- (4) நல் ஊக்குவிப்பு
- (5) கடனுக்கான பிணைகளை நிர்ணயித்தல் (.....)

33) விலை/செலவு/நலன்



$Q_0$  - சந்தை உருவாக்கிய தொகை

$Q_1$  - வினைத்திறனான தொகை

மேலுள்ள வரைபடம் குறிக்கும் வெளிவாரி விளைவு பின்வருவனவற்றுள் எது?

- (1) பாடசாலைக்கு அருகில் காணப்படும் மதுபானக்கடைகள்
- (2) தொழிற்சாலையிலிருந்து வெளியேறும் கழிவுகளால் நிலத்தடி நீர் மாசுபடல்
- (3) புதிய தொழினுட்பம் காரணமாகச் செய்யப்பட்ட ஆய்வுகள்
- (4) கல்வி சார்ந்த இணையத்தள வெளியீடுகள்
- (5) வீதியின் கரையோரங்களில் குவிக்கப்படும் கழிவுப் பொருட்கள் (.....)

34) சந்தைத் தோல்வி என்பது

- (1) விலைக் கட்டுப்பாட்டின் காரணமாக கறுப்புச் சந்தை உருவாகுதலாகும்.
- (2) சந்தை சக்திகளின் மூலம் வளங்கள் வினைத் திறனான விதத்தில் பகிர்நதளிக்கப்படாத நிலையாகும்.
- (3) கேள்விக்கு ஏற்றவாறு நிரம்பலை அதிகரிக்கச் செய்ய முடியாத நிலையாகும்.
- (4) மிகை நிரம்பலினூடாக விலைகள் துரிதமாக வீழ்ச்சியடைதலாகும்.
- (5) சந்தைப் பொருளாதாரமொன்றில் அரசு தலையிடும் போது எதிர்பார்த்த விளைவுகளைப் பெற்றுக் கொள்ளாமல் பொருளாதாரத்தில் வினைத்திறன்ற தன்மை விருத்தி பெறுவது ஆகும். (.....)

35) பின்வருவனவற்றுள் நிறுவனக் கீழ் கட்டமைப்பு வசதி எது?

- (1) கண்காணிப்பு நிறுவனங்கள்
- (2) பெருந்தொருக்கள்
- (3) அதிவேகப் பாதைகள்
- (4) பாலங்கள்
- (5) கட்டிடங்கள் (.....)

36) 2014 ஆம் ஆண்டில் மொத்த உள்நாட்டு உற்பத்தியின் விகிதமாக வரியரசிறையின் பங்கு யாது?

- (1) 12
- (2) 12.8
- (3) 13
- (4) 13.2
- (5) 14 (.....)

37) பொதுப்பண்டம் அல்லாதது

- (1) வீதி விளக்குகள்
- (2) தேசிய பாதுகாப்பு
- (3) கலங்கரை விளக்கம்
- (4) உலக அறிவு
- (5) விமானச் சேவை (.....)



38) குறிப்பிட்ட பொருளாதாரத்தின் வருமான மட்டங்களும் அறவிடப்படும் வரிப்பணமும் பின்வருமாறு தரப்படுகின்றது.

வருமானம்	வரிப்பணம்
50 000	15 000
100 000	25 000
200 000	40 000

மேற்குறிப்பிட்ட பொருளாதாரத்தில் அறவிடப்படும் வரிமுறைமை

- (1) விருத்திமுறை வரி (2) விகிதசம வரி (3) வருமான வரி  
(4) ஒடுங்குமுறை வரி (5) தனிப்பட்ட வரி (.....)

39) அரசு வருமானத்தின் பிரதான வருமான மூலமாக வரி அரசிறை காணப்படுகின்றது. பின்வருவனவற்றுள் எது வரி அரசிறையில் உள்ளடங்குவதில்லை?

- (1) வருமான வரி (2) பெறுமதிசேர் வரி (3) ஏற்றுமதி வரி  
(4) கலால் தீர்வை (5) இறக்குமதி வரி (.....)

40) அரசின் இறைத் தொழிற்பாட்டுத் தரவுகள் பின்வருமாறு தரப்படுகின்றது. (மொத்த உள்நாட்டு உற்பத்தியின் விகிதமாக)

மொத்த அரசிறை மற்றும் கொடைகள்	13.6
கொடைகள்	0.3
மீள் கொடுப்பனவைக் கழித்த செலவினமும் கடன் வழங்கலும்	18.0
மீண்டெழும் செலவினம்	13.7

தரவுகளின் படி நடைமுறைக் கணக்கு நிலுவை, முதன்மைக் கணக்கு நிலுவை திரண்ட நிலுவை என்பவற்றைச் சரியாகக் காட்டும் விடைத் தொகுதி

	நடைமுறைக் கணக்கு நிலுவை	முதன்மைக் கணக்கு நிலுவை	திரண்ட நிலுவை
(1)	-0.4	-0.7	-4.4
(2)	0.4	0.7	4.4
(3)	-1.3	-1.6	-6.0
(4)	1.3	1.6	6.0
(5)	1.1	-0.8	-5.2 (.....)

41) ஒப்பீட்டு நன்மைக் கோட்பாட்டுக்கு அடிப்படையாகக் கொள்ளும் கருதுகோள் அல்லாதது எது?

- (1) பூரணமான காரணி அசைவு  
(2) நிலையான அளவுத்திட்ட விளைவு  
(3) உற்பத்தி தொடர்பிலோ நுகர்வு தொடர்பிலோ வெளிவாரி விளைவு ஏற்படுவதில்லை  
(4) உற்பத்திக்கு அதிகளவு உழைப்பு பயன்படுத்தப்படல்  
(5) போக்குவரத்துச் செலவு கருத்தில் கொள்ளப்படுவதில்லை (.....)

42) இலங்கையின் மிகப்பெரிய இறக்குமதிச் சந்தை எது?

- (1) சீனா (2) இந்தியா (3) மத்திய கிழக்கு  
(4) சிங்கப்பூர் (5) அமெரிக்கா (.....)

43) ஒரு நாட்டின் பண்ட வர்த்தக மாற்றுவிசைத் 120 ஆக உள்ளபோது பின்வரும் எவ்விளைவு இடம்பெறலாம்?

- (1) நாட்டின் மெய்வருமானம் குறைவடைந்து மெய் தேசிய வருமானம் குறைவடையும்.  
(2) உள்நாட்டு நாணயத்தின் வெளிநாட்டுப் பெறுமதி உயர்வடையும்.  
(3) குறித்த நாட்டின் ஏற்றுமதி அலகொன்றின் இறக்குமதி இயலாமை வீழ்ச்சியடையும்.  
(4) நாட்டின் வர்த்தக நிலுவை, சென்மதி நிலுவை என்பன பாதக நிலையை அடையும்.  
(5) உள்நாட்டு நாணயத்தின் வெளிநாட்டுப் பெறுமதி வீழ்ச்சியடையும். (.....)

- 44) இலங்கையின் சென்மதி நிலுவையின் நடைமுறைக்கணக்கில் இரண்டாந்தர வருமானம் பின்வருவனவற்றுள் எது?
- (1) ஊழியர்களுக்கான நட்ட ஈடு
  - (2) முதலீட்டு வருமானம்
  - (3) தொழிலாளர் பணவனுப்பல்கள்
  - (4) ஒதுக்கு சொத்துக்கள்
  - (5) கணனி தகவல் பணிகள் (.....)
- 45) கொள்வனவு சக்தி சமமதிப்பு நாணயமாற்று விதத்துடன் பொருத்தமற்ற கூற்று பின்வருவனவற்றுள் எது?
- (1) வெளியக சமநிலையானது தன்னிச்சையாக ஏற்படுத்தப்படும்
  - (2) ஒரே சமமான பொருளுக்கு ஒரே சமமான விலை எல்லா நாடுகளிலும் நிலவவேண்டும்.
  - (3) வியாபாரத்துக்குரிய சமமான பண்டக்கூடையின் பெறுமானங்கள் இரு நாடுகளின் பண அலகுகளில் அளவிடப்படும் பெறுமானங்களுக்கிடையிலான விகிதம்
  - (4) ஒவ்வொரு நாட்டு நாணயத்தைக் கொண்டும் அந்தந்த நாடுகளில் காணப்படும் விலைகளை அடிப்படையாகக் கொண்டது.
  - (5) மக்களின் நுகர்வு அமைப்பு நாட்டுக்கு நாடு வேறுபடுவதால் இதனை வருமான ஒப்பீட்டுக்குப் பயன்படுத்த முடியாது. (.....)
- 46) சாத்தியமான பொருளாதார வளர்ச்சி எண்ணக்கருவுடன் தொடர்பற்ற கூற்று எது?
- (1) உற்பத்தி இயலளவில் ஏற்படும் நீண்டகால அதிகரிப்பு.
  - (2) வளங்களின் அளவிலும் தரத்திலும் ஏற்படும் அதிகரிப்பின் விளைவாக ஏற்பட முடியும்.
  - (3) உற்பத்தி சாத்திய வளையியின் வெளிப்புற நுகர்வின் மூலம் காட்டமுடியும்.
  - (4) நீண்டகால வளர்ச்சியாகும்.
  - (5) வேலையின்றி இருந்த வளங்களைப் பயன்படுத்துவதால் ஏற்படலாம். (.....)
- 47) பொருளாதார வளர்ச்சியின் பிரதான அமையச் செலவொன்றாகக் கருதக் கூடியது பின்வருவனவற்றுள் எது?
- (1) மனித ஆற்றல் பயனொழிந்து போதல்
  - (2) பணவீக்கம் ஏற்படும் அபாயம் காணப்படல்
  - (3) வருமானம் மற்றும் சொத்துப் பரம்பலில் ஏற்றத்தாழ்வுகள்
  - (4) இன்றைய சந்ததியின் நிகழ்கால நுகர்வு இழக்கப்படல்
  - (5) புவி வெப்பமடைதல் (.....)
- 48) பொருளாதார வளர்ச்சியை அதிகரிக்க கையாளக்கூடிய நிரம்பல் பக்க கொள்கை எது?
- (1) உட்கட்டமைப்பு மீதான அரசமுதலீடுகளை அதிகரித்தல்
  - (2) ஆராய்ச்சி அபிவிருத்தி வசதிகளில் முதலீடுகளை அதிகரித்தல்
  - (3) வட்டி வீதத்தைக் குறைத்தல்
  - (4) பேரினப் பொருளாதாரவளர்ச்சி உறுதி பேணல்
  - (5) தனியார் மயமாக்கம், ஊழிய மூலதனச் சந்தைகளை மறுசீரமைத்தல் (.....)
- 49) பின்வரும் கூற்றுக்களில் தவறான கூற்று எது?
- (1) எட்டு சார்க் (SAARC) நாடுகள் மத்தியில் இலங்கை மிகவுயர்ந்த மானிட அபிவிருத்தி மட்டத்தைக் கொண்டுள்ளது.
  - (2) 2013 ஆம் ஆண்டில் இலங்கையின் மானிட அபிவிருத்திச் சுட்டி 0.75 ஆகும்.
  - (3) இலங்கையின் மனிதவள சுட்டியின் பெறுமானம் 73 ஆவது இடத்துக்கு முன்னேறியுள்ளது.
  - (4) உயர்வான மனிதவள அபிவிருத்திப் பெறுமானமுடைய நாடுகளில் இலங்கையும் உள்ளடங்கும்.
  - (5) இலங்கையில் மனிதவள சுட்டியின் பெறுமானம் உயர்வாக இருக்கக் காரணம் வறுமைக்குச் சார்பான பொருளாதார வளர்ச்சித் திட்டங்களாகும். (.....)
- 50) 2013 இல் இலங்கையின் பொருளாதார வளர்ச்சி வீதம் மொத்தத்தேசிய உற்பத்தியின் விகிதமாக எவ்வளவு?
- (1) 5.3%
  - (2) 6%
  - (3) 6.5%
  - (4) 7.9%
  - (5) 8% (.....)