

6 ශ්‍රේණිය තොරතුරු හා සන්නිවේදන තාක්ෂණය

ඒකකය 1

පරිගණකයේ
වැදගත්කම

කාර්ය පත්‍රිකාව



පරිගණක සංරචක
හඳුනා ගනිමු.

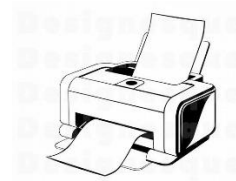
ඩී.එම්.එස්.ආර්. දිසානායක.

ව/ම/ම/ ඇඹලේගොඩ ම.වි. - නාගොල්ලාගම.

පහත උපකරණවලට ගැලපෙන නම සොයා යා කරන්න.


Monitor

පරිගණක තිරය



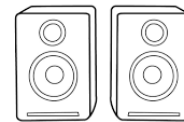
Printer

මුද්‍රණ යන්ත්‍රය



Mouse

මූසිකය



Keyboard

යතුරු පුවරුව



Speaker

ශබ්ද විකාශන



Microphone

මයික්‍රොෆෝනය



System Unit

පද්ධති ඒකකය




උපකාරක පද භාවිතයෙන් ප්‍රභේදිතව පුරවන්න.

උපකාරක පද

1. මෙය යන්ත්‍රයකි.
2. මෙය භාවිතයෙන් පරිගණක තිරයේ එහා මෙහා ගමන් කළ හැකිය.
3. ශබ්ද පටිගත කිරීම සඳහා මෙය යොදා ගනී.
4. අපි ශබ්දවලට සවන්දීමට මෙය භාවිතා කරයි.
5. පරිගණකයේ මොළය වන්නේ මෙයයි.
6. පිටපත් ලබා ගැනීමට මෙය භාවිතා කරයි.
7. මෙම උපකරණය රූපවාහිනියට සමානයි.
8. පරිගණකයට තොරතුරු ඇතුළු කිරීමට මෙය භාවිතා කරයි.

පහත දැක්වෙන්නේ මූලික පරිගණක උපාංග කිහිපයකි.



- I. A සිට G දක්වා ඇති කොටස් නම් කරන්න.
- II. ඉහත කොටස් ආදාන උපාංග, ප්‍රතිදාන උපාංග ලෙස වේ කර දක්වන්න.