

අවසාන වාර පරීක්ෂණය 2015

චිත්‍ර කලාව

6 ශ්‍රේණිය


කාලය පැය 2 යි.

නම/ විභාග අංකය:

I කොටස


- ප්‍රශ්න සියල්ලට ම පිළිතුරු මෙම පත්‍රයේම සපයන්න.
- අංක 01 සිට 05 දක්වා වූ ප්‍රශ්න සඳහා දී ඇති උපදෙස් අනුව රූප අඳින්න.

01




ගස්ලඳු ගෙඩියක්

02



බුලත් කොළයක්

03



ගඩොල් කැටයක්

04



ටී. එකක්

05



බෝලයක්

(2 x 5 = 10)

● අංක 06 සිට 10 තෙක් වූ ප්‍රශ්න සඳහා නිවැරදි පිළිතුර යටින් ඉරක් අඳින්න.

06 නත්තල් උත්සවය පවත්වනු ලබන්නේ

- (1) දෙසැම්බර් 05 වන දින
- (2) දෙසැම්බර් 20 වන දින
- (3) දෙසැම්බර් 25 වන දින
- (4) දෙසැම්බර් 27 වන දින

07 හින්දු ජනයා දේවත්වයෙන් සලකනු ලබන්නේ,

- (1) උගුරා
- (2) මීයා
- (3) ගවයා
- (4) මොනරා

08 මූලික වර්ණ ගණනින්

- (1) 3 කි.
- (2) 4 කි.
- (3) 1 කි.
- (4) 5 කි.

09 බුදුන්වහන්සේ පළමුවෙන්ම වැඩියේ ලංකාවේ

- (1) නාගදීපයට
- (2) මහියංගනයට
- (3) කැලණියට
- (4) යාපනයට

10 පැස්ටල් මාධ්‍ය

- (1) අතේ ගැවේ.
- (2) අතේ නොගැවේ.
- (3) පාවිච්චියට පහසුයි.
- (4) පාවිච්චියට අපහසුයි.

(1 x 5 = 05)

● අංක 11 සිට 15 තෙක් වූ ප්‍රශ්න සඳහා කෙටි පිළිතුරු සපයන්න.

11 දේවානම්පියතිස්ස රජු විසින් කරන ලද ස්තූපයක් නම් කරන්න.

.....

12 හජ්ජ් උත්සවය පවත්වන්නේ කුමන ජාතිකයන් විසින් ද?

13 සිංහල / දෙමළ අවුරුද්ද පවත්වනු ලබන්නේ කුමන මාසයේ ද?

14 බොකු වහල සහිත ආරුක්කු දකින්නට ලැබෙන්නේ රෝමන් ක්‍රමයේ දේවස්ථානයක ද? ගොතික් ක්‍රමයේ දේවස්ථානයක ද?

15 "මිනාර්" කුළුණු විශේෂය දක්නට ලැබෙන්නේ කුමන ජාතීන්ගේ පල්ලියක ද?

(1 x 5 = 05)

● ගර්භයේ හැඩ අනුව ප්‍රධාන වෛත්‍ය වර්ග 6 ක් නම් කරන්න.

16

17

18


19

20

21

(2 x 6 = 12)

- වෛත්මක රූප සටහනක් ඇඳ එහි කොටස් 04 ක් නම් කරන්න.



22

23

24

25

(2 x 4 = 08)

(මුළු ලකුණු 40 යි.)

III කොටස

- ශාලාධිපතිට භාරදෙන විට වියළීමට පත්වී ඇති ඕනෑම වර්ෂ මාධ්‍යයක් භාවිතා කළ හැක.
- පහත සඳහන් “අ”, “ආ”, “ඇ” කොටස් 3 න් එක් මාතෘකාවක් පමණක් තෝරාගෙන විනුණය කරන්න.

“අ” (ප්‍රකාශන)

- 01 අපේ පාසල් වත්ත
- 02 මගේ ගුරුතුමී

“ආ” (මෝස්තර)

- 03 පාරිභෝගික භාණ්ඩයක් සැලසුම් කරන්න.
- 04 විත්ත රෙද්දකට සුදුසු මෝස්තරයක්

“ඇ” (ග්‍රැෆික්)

- 05 කතාන්දර පොතකට පිටකවරයක්
- 06 ක්‍රීඩා උත්සවයකට ආරාධනා පත්‍රයක්

(ල. 30 යි.)