

අවසාන වාර පරීක්ෂණය 2015

2 ශ්‍රේණිය

පරීක්ෂණය

කාලය පැය 1 ඊ වී. 30 ඊ.

මගේ නම:

- සියලුම ප්‍රශ්නවලට පිළිතුරු ලියන්න.

01 රූපයට ගැලපෙන වැකිය යා කරන්න.

(1)




- පලතුරු කනවා.

(2)



- පැණි බොනවා.

(3)



- කුණු ගොඩවල් අවුස්සා කනවා.

(4)



- පැණි එකතු කරනවා.

(5)



- තණකොළ කනවා.

(5 x 2 = 10)

02 හරි වැරදි යොදන්න.

(1) ගෙදර ආරක්ෂාව සඳහා වැටක් බඳියි. ()

(2) අතීතයේ මිනිස්සු බස්වල ගමන් ගියා. ()

- (3) කහ කුඩු ජලයේ පාවේ. ()
- (4) පාරට කෙසෙල් ලෙලි දැමීම හොඳ නැත. ()
- (5) කපුටා රාත්‍රී කාලයේ සිටින සතෙකි. ()
- (6) දිනපතා මිදුල අතුගැම හොඳ නැත. ()
- (7) යහළුවාට කරදර කිරීම හොඳ නැත. ()
- (8) වැහිදාට ඉර අහසේ තිබේ. ()
- (9) වතුරට කුණු රොඩු දැමීම හොඳ නැත. ()
- (10) රෝස මල් වතුරේ සෑදේ. (2 x 10 = 20)

03 ගැලපෙන පිළිතුර යටින් ඉරක් අඳින්න.

- (1) ශරීරය කටුවකින් වසාගෙන සිටින සතෙකි.
(ඉබ්බා / ගෙම්බා)
- (2) ගෙවත්තෙන් ලබාගන්නා දෙයකි.
(සහල් / පලාවර්ග)
- (3) කළුලේලේ ලිවීම සඳහා යොදාගන්නේ
(හුණු කුර / ප්ලැටිග්නම් කුර)
- (4) සමූහයක් වැඩ කිරීමෙන්
(වැඩ පහසුවේ / වැඩ අමාරුවේ)
- (5) ගල්වලින් සාදන භාණ්ඩයකි.
(මිරිස්ගල / උදුල්ල)
- (6) වෛද්‍යවරයා භාවිතා කරන උපකරණයකි.
(වෙදනලාව / හැන්ද)
- (7) ගිලන්රථය යොදාගන්නේ,
(ලෙඩුන් ගෙනයෑමට / සතුන් ගෙනයෑමට)
- (8) ජලයට අයිස් කැටයක් දැමූවිට
(දියවේ / උරාගනියි)
- (9) කැඳ සෑදීමට යොදාගන්නා පලා වර්ගයකි.
(නිවිති කොළ / ගොටුකොළ)
- (10) පොළොව කෙටීම සඳහා යොදාගන්නේ, (2 x 10 = 20)

(උදෑල්ල / පොරොච්ච)

04 ගැලපෙන සේ යා කරන්න.

(1) උදෑසන අවදිවෙයි.

● බල්ලා

(2) මල් පැණි බොයි.

● කුඹියා

(3) වැස්සට කැමැතියි.

● කුකුළා

(4) අපට උදව් කරයි.


● සමනලයා

(5) කඩිසරව වැඩ කරයි.

● ගෙම්බා

(2 x 5 = 10)

(1)



කළුලෑල්ල

(2)




කළය

(3)



ඉඳල

(4)



උදෑල්ල

(5)



පොරොච්ච

(2 x 5 = 10)

05 පහත සඳහන් රූප අඳින්න.

06 හිස්තැනට ගැලපෙන උත්තර වරහන් තුළින් තෝරා ලියන්න.

(දුරකථනයක් / ගස්වැල් / ගොවියා / තෙල් / පොත්)

(1) අපට ආහාර වර්ග ලබාදෙයි.

(2) දිනපතා කියවමු.

(3) ගිනිපෙට්ටිවලින් හදමු.

(4) නියඟය නිසා මැරෙයි. (2 x 5 = 10)

(5) රටකපු සහිත ආහාරයකි.

07 උත්තර ලියන්න.

(1) සුළඟ නිසා සිදුවන හානි 2 ක් ලියන්න.....

1.

2.

(2) රාත්‍රී අහසේ දැකිය හැකි දේවල් 2 ක් ලියන්න.....

1.

2.

(3) ගස්වල ගෙඩි ආහාරයට ගන්නා සතුන් 2 ක් ලියන්න.....

1.

2.

(4) ජලයේ යන වාහන 2 ක් ලියන්න.....

1.

2.

(5) අපි කැමට ගන්නා ඇට වර්ග 2 ක් ලියන්න.....

1.

(2 x 10 = 20)