

# මධ්‍ය වාර පරීක්ෂණය 2015

## පරීසරය






කාලය පැය 1 ඔ වී. 30 ඔ.

### 1 ශ්‍රේණිය

මගේ නම :


● සියලුම ප්‍රශ්නවලට පිළිතුරු ලියන්න.

01 රූපයට අදාළ වචනය යාකරන්න.

(1)		● පොත
(2)		● පුවුව
(3)		● පැන්සල
(4)		● ඉදල
(5)		● කළු ලෑල්ල

(1 x 5 = 05)

02 ඔබේ පන්ති කාමරය හැඩකර ගැනීමට ගන්නා දෙවල් පමණක් පාව කරන්න.



(ල. 05 ඔ.)

03 පහත සඳහන් සතුන් මිනිසාට කරන උදවු මොනවා ද යන්න බලා ගැලපෙන සේ යාකරන්න.

- |     |   |                     |
|-----|---|---------------------|
| (1) |    | ● පෙරහැරේ ගෙනයනවා   |
| (2) |    | ● බර ඇද දෙනවා       |
| (3) |    | ● බිත්තර ලබාදෙනවා   |
| (4) |   | ● මීයන් අල්ලනවා     |
| (5) |  | ● ගෙදර ආරක්ෂා කරනවා |

(2 x 5 = 10)

04 වැකි කියවා හරි වැරදි යොදන්න.

- (1) පාසල ආරම්භ කිරීම සඳහා සිනුව නාද කරනවා. ( )
- (2) තාත්තාගේ තාත්තා මගේ බාප්පාය. ( )
- (3) ගඟවාගේ හොට රතු පාටයි. ( )
- (4) ලුණු ජලයේ පාවෙනවා. ( )
- (5) අවුරුදු කාලයට එරබදු මල් පිපෙනවා. ( )
- (6) දහවල් අහසේ තරු පායලා තිබෙනවා. ( )
- (7) බෝංචි කරල් වර්ගයකි. ( )

(2 x 10 = 20)

(8) වැස්සට පෙර විදුලි කොටනවා. ( )


(9) යහළුවාට කරදර කරනවාට මම කැමතියි. ( )

(10) හාවා පැන පැන යන සතෙකි' ( )

05 ගැලපෙන පිළිතුර යටින් ඉරක් අඳින්න.

(1) පෝයදාට අහසේ හඳ

( රන් තැටියක් සේ පෙනේ / සඳු භාගයක් පෙනේ )  $(2 \times 5 = 10)$



ගිරවෙක්



දොරට දමන ඉබ්බෙක්



උදුල්ලක්



ඉදලක්



ජල බඹරයක්


$(2 \times 5 = 10)$

- (2) ජලයේ ගිලෙන දෙයකි. ( ඇණය / මල් පෙති )
- (3) උදේ කාලයේ අපේ හෙවනැල්ල ( දිගය / කොටය )
- (4) පන්තිය කිලිට්වනවාට අපි ( කැමතියි / අකැමැතියි )
- (5) අපේ ප්‍රධාන ආහාරය ( ආපේප / බත් )

06 පහත සඳහන් රූප අඳින්න.

07 උත්තර ලියන්න.

- (1) රාත්‍රී අහසේ තිබෙන දේවල් 2 ක් අඳින්න.



- (2) අහසේ පාකිරීම සඳහා අපි සාදන දේවල් 2 ක් අඳින්න.



- (3) පන්තියේ භාවිතා කරන උපකරණ 2 ක් අඳින්න.



- (4) ගෙදර සුරතලයට ඇතිකරන සතුන් 2 ක් අඳින්න.

