

අවසාන වාර පරීක්ෂණය 2015

1 ශ්‍රේණිය

පරීක්ෂණය

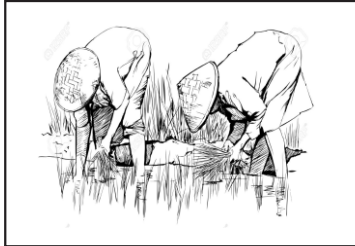
කාලය පැය 1 ඊ ව. 30 ඊ.

මගේ නම :

● සියලුම ප්‍රශ්නවලට පිළිතුරු ලියන්න.


01 රූපයට අදාළ වචනය යාකරන්න.

(1)




● කම්මල්කරුවා

(2)




● පෙදරේරුවා

(3)



● ධීවරයා

(4)



● ගොවියා

(5)



● කුඹල්කරුවා

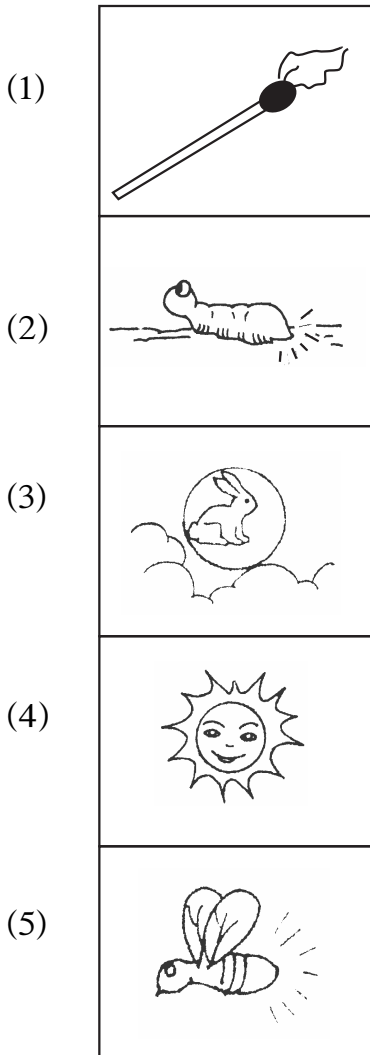
(6)



● වඩුබාස්

(2 x 6 = 12)

02 තේරවිල්ලට ගැලපෙන රූපය යා කරන්න.



● දහවලට ලාම්පුව

● ඉඟිලෙන තරුව

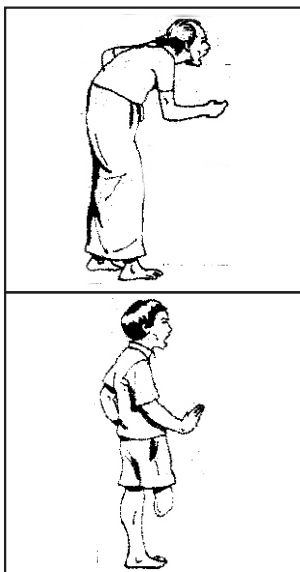
● යෝයදාට බබළනවා
කහපාටින් දිළිසෙනවා

● ඇඳලා ගන්නා දමලා ගැහුවා
මලක් පිපුණා මල පරවුණා

● වත්ත මැද ලාම්පුව

(2 x 5 = 10)

03 රූපවලින් දැක්වෙන අයට ඕනෑකරන උපකරණය තෝරා යා කරන්න.



රෝද පුටුව

කිහිලිකරුව

හැරමටිය


සුදු සැරයටිය



(2 x 4 = 08)


04 පහත සඳහන් උපකරණ අඳින්න.

(1)




ත්‍රිකෝණ

(2)




දැකැත්ත

(3)



උදැල්ල

(4)



ඉනිමග

(5)



හරමනය

(2 x 5 = 10)

05 හරි වැරදි යොදන්න.

(1) තද අවිච්චි යන විට කුඩයක් ඉහළිය යුතුය. ()

(2) පන්තිය අලංකාරව තබාගත යුතුයි. ()

(3) ගවයා බඩගාගෙන යන සතෙකි. ()

(4) ගොවියා අපට බත සපයා දීමට උදව් වේ. ()

(5) දේදුන්න සැමවිටම අහසේ දැකිය හැකිය. ()

(3 x 5 = 15)

06 ගැලපෙන වචනය යටින් ඉරක් අඳින්න.

- (1) ජලයේ සෑදෙන මල් වර්ගයකි. (ඕලු / සේපාලිකා)
- (2) කණ්ණාඩියක් යොදාගෙන ඉර එළිය හරහා යෑමට හැකි වන්නේ, (රාත්‍රියට / දවාලට)
- (3) ඉර බැස යන විට අහස (නිල් පාටයි / රතු පාටයි)
- (4) දිය ගොඩ දෙකෙහිම වාසය කරන සතෙකි.
(මාළුවා / ඉබ්බා)
- (5) කෙසෙල් කොළය (දිගය / රවුමිය) (3 x 5 = 15)

07 පහත සඳහන් දේවල් වලින් සාදන උපකරණ දෙකක් ලියන්න.

- (1) මැටි
- (2) ගල්
- (3) යකඩ
- (4) ලී

(2 x 4 = 08)

08 ගැලපෙන සේ යා කරන්න.

- (1) බල්ලාට කකුල් ● අත්තටු
- (2) අලියාට දිග ● වකුටු හොටක්
- (3) ගොනාට අං ● හතරක්
- (4) ගිරවාට ● හොඬවැලක්
- (5) සමනලයාට ● දෙකක්

(2 x 5 = 10)

09 උත්තර ලියන්න.

- (1) නිවසේ දී අපට සිදුවන අනතුරු 2 ක් ලියන්න.
1. 2.
- (2) ඔබේ ගෙවත්තේ ඇති මල් වර්ග 2 ක් ලියන්න.
1. 2.
- (3) අපි ගමන් යන පොදු වාහන 2 ක් ලියන්න.
1. 2.

(2 x 6 = 12)