

පළමු වාර පරීක්ෂණය 2015

චිත්‍ර කලාව


6 ශ්‍රේණිය

කාලය පැය 2 යි.

නම/ විභාග අංකය:

I කොටස


- ප්‍රශ්න සියල්ලට ම පිළිතුරු මෙම පත්‍රයේම සපයන්න.
- අංක 01 සිට 05 දක්වා වූ ප්‍රශ්න සඳහා දී ඇති රූප සටහන උපයෝගී කරගන්න.



- 01 මෙම රූපයෙන් සිහිපත් කරවන ආගම කුමක් ද?
- 02 කෙසෙල් ගස් හා ගවයා සරසමින් පවත්වන උත්සවය කුමක්ද?
- 03 මෙම උත්සවය පවත්වන්නේ කුමන ජාතීන් ද?
- 04 අවුරුද්දේ කුමන මාසයක මෙම උත්සවය සිදුවේද?
- 05 සැරසිලි සඳහා මෙම ජාතීන් යොදාගන්නා සැරසිලි රටා මොනවාද?
- ප්‍රශ්න අංක 06 10 තෙක් අසා ඇති ප්‍රශ්නවලට නිවැරදි පිළිතුර තෝරා යටින් ඉරක් අඳින්න.
- 06 මූලික වර්ණ ගණනින් තුනකි. ඒවා
- (1) නිල්, කොළ, දම් (2) නිල්, කහ, රතු
- (3) නිල්, රතු, සුදු (4) රතු, කොළ, තැඹිලි
- 07 ගවයා දේවත්වයෙන් සලකන්නේ
- (1) මුස්ලිම් ජනතාව (2) හින්දු ජනතාව
- (3) බෞද්ධ ජනතාව (4) ක්‍රිස්තියානි ජනතාව
- 08 හින්දු බැතිමතුන්ගේ ආගමික උත්සවය කුමක් ද?
- (1) වෙසක් උත්සවය (2) රාමසාන් උත්සවය
- (3) තෙපොංගල් උත්සවය (4) ඇසල උත්සවය
- 09 කෝලම් රටා යනු
- (1) හින්දු ආගමික සැරසිල්ලකි. (2) බෞද්ධ සැරසිල්ලකි
- (3) අන්‍ය ආගමික සැරසිල්ලකි. (4) වෙස්මුහුණු වර්ගයකි.
- 10 කුඩා දරුවන්ට පහසුම වර්ණ මාධ්‍ය වන්නේ,
- (1) දිය සායම් (2) පැන්සල් (3) පෑන් (4) පැස්ටල්


● අංක 11 සිට 15 දක්වා වූ ප්‍රශ්න සඳහා හිස් කොටුව තුළ අදාළ රූප සටහන අඳින්න.

11



බෝලය

12



කුරුසිය

13




අරලිය මල

14



ධර්ම චක්‍රය

15




මගේ නංගි

(2 x 5 = 10)


● ප්‍රශ්න අංක 16 20 තෙක් අසා ඇති ප්‍රශ්නවලට අදාළ රූප සටහනක් අඳින්න.

16



වාත්තාකාර හැඩැති දෙයක්
(බෝලයක් / යගුලියක්)

17



සිලින්ඩරාකාර හැඩැති දෙයක්
(සැමන් ටින් එකක් / බෝතලයක්)

18



සෘජුකෝණාස්‍රාකාර පෙට්ටියක් (බිස්කට්)

19



සමචතුරස්‍රාකාර දෙයක් (පෙට්ටියක්)

20



ත්‍රිකෝණාකාර මල් පෙති සහිත මලක්

(2 x 5 = 10)

- අංක 21 25 තෙක් වූ ප්‍රශ්නවලට පිළිතුරු සැපයීමේ දී වරහන් තුළ දී ඇති පිළිතුරු ප්‍රයෝජනයට ගන්න.

(තෙපොංගල් / මහියංගනය / දෙසැම්බර් / බෙත්ලෙහෙම / දෙවන පැතිස්)

- 21 නත්තල් උත්සවය පවත්වන්නේ අවුරුද්දේ කුමන මාසයකද?
- 22 ට්‍රිපාරාම දාගැබ ඉදිකළේ කුමන රජතුමා ද?
- 23 බුදුන් වහන්සේගේ ප්‍රථම ලංකා ගමනය සිදුවූ ප්‍රදේශය කුමක් ද?
- 24 ජේසු බිලිඳුන් උත්පත්තිය ලැබූ ස්ථානය හඳුන්වන නම කුමක් ද?
- 25 “පූර්ණ කුම්භ තැබීම” යන සැරසිල්ල අදාළ උත්සවය කුමක් ද?

- අංක 26 30 තෙක් වූ ප්‍රශ්න සඳහා පහත රූප සටහන දෙස බලා ඔබට කැමැති පරිදි අර්ථවත් වාක්‍ය 05 ක් ලියන්න.



- 26
- 27
- 28
- 29
- 30

(1 x 10 = 10)

III කොටස

- පහත දැක්වෙන “අ”, “ආ” හා “ඇ” යන කොටස් තුනෙන් එකක් පමණක් තෝරාගෙන විනයක් ඇඳ වර්ණ කරන්න.

“අ” (ප්‍රකාශන)

- 01 මගේ මල් වත්ත
- 02 කුහුඹු රැළක් මිදුල මැදින් ගමන් කරයි.

“ආ” (මෝස්තර)

- 03 මල් සහ කොළ භාවිතයෙන් විත්ත රෙද්දකට සුදුසු මෝස්තරයක් අඳින්න.
- 04 මල් සහ කුරුළු රූප යොදා ගවුමකට සුදුසු මෝස්තරයක් අඳින්න.

“ඇ” (ග්‍රැෆික්)

- 05 ළමා පොත් පිටකවරයකට සුදුසු නිර්මාණයක් ඇඳ පාට කරන්න.
- 06 “නත්තල් තෑගි” නම් වූ ළමා සඟරාවට සුදුසු නිර්මාණයක් ඇඳ පාට කරන්න.

(වැස් 030 x 1)

2015 - පළමු අවුරුදු - 6 වන ශ්‍රේණි - විද්‍යා - ඉගෙනීමේ ක්‍රම

I ප්‍රශ්න

- 01 නිදහස් 02 තේපොංගල් 03 දම්ල / දෙමල 04 ජනවාරි
 05 කෝලම් රටා 06 2 07 2 08 3 09 1 10 4
 11 15 නිවැරදිව ඇඳ ඇත්නම් ලකුණු දෙන්න.
 16 20 නිවැරදිව ඇඳ ඇත්නම් ලකුණු දෙන්න.
 21 දෙසැම්බර් 22 දේවානම් පියතිස්ස 23 මහියංගනය 24 බෙන්ලෙනෙම
 25 තේපොංගල් 26 30 රූපයට අදාළව ඇත්නම් ලකුණු දෙන්න.

II ප්‍රශ්න

ඉගෙනීමේ ක්‍රම (ඊ. 30 x 1)

ඉගෙනීමේ ක්‍රම (ඊ. 30 x 1)

- අයුතු ලෙස ඉගෙනීමේ ක්‍රම භාවිතා කිරීම.
- ඉගෙනීමේ ක්‍රම භාවිතා කිරීමේදී ඉගෙනීමේ ක්‍රම භාවිතා කිරීම.
- ඉගෙනීමේ ක්‍රම භාවිතා කිරීමේදී ඉගෙනීමේ ක්‍රම භාවිතා කිරීම.
- ඉගෙනීමේ ක්‍රම භාවිතා කිරීමේදී ඉගෙනීමේ ක්‍රම භාවිතා කිරීම.

