

පළමු වාර පරීක්ෂණය 2015

චිත්‍ර කලාව

8 ශ්‍රේණිය

කාලය පැය 2 යි.

නම/ විභාග අංකය:

I කොටස

- ප්‍රශ්න සියල්ලට ම පිළිතුරු මෙම පත්‍රයේම සපයන්න.
- අංක 01 සිට 05 දක්වා අසා ඇති ප්‍රශ්නවලට පිළිතුරු සැපයීම සඳහා පහත රූප සටහන ආසුරුකරගන්න.



- 01 ඉහත රූප සටහනින් දක්වෙන විරස්ථානය කුමක්ද?
- 02 මෙම ස්තූපය කරවන ලද්දේ කුමන රජු විසින් ද?
- 03 මෙම ස්තූපය තුළ තැන්පත් කර ඇත්තේ මොනවාද?
- 04 මෙය කිනම් සියවසේ දී ඉදිකරන ලද්දක්ද?
- 05 මෙම ස්තූපයේ හැඩය කුමක් ද?
- අංක 06 සිට 10 තෙක් අසා ඇති ප්‍රශ්නවලට නිවැරදි පිළිතුර තෝරා යටින් ඉරක් අඳින්න.
- 06 “නිවස තුළ සිටින මිනිස් රූප” නමැති කණ්ඩායම් සම්පිණ්ඩන සිතුවමක් ප්‍රාග් ඓතිහාසික ලෙනකින් හමුවී ඇත. එම ලෙන කුමක් ද?
- (1) ආඬියාගල (2) තන්තිරිමලේ (3) දොරවක (4) ගොනාගොල්ල
- 07 අඩි 17 ක් දිග බයිසන් ගව රුවක් දක්නට ඇති යුරෝපයේ ප්‍රාග් ඓතිහාසික ලෙන
- (1) ලැස්කෝ (2) ඇල්ටමීරා (3) නියෝ (4) කෝගුල්

- 08 බොරැල්ලේ සියලු සාන්තුවරයන්ගේ දේවස්ථානයේ ඇත්තේ,
 (1) කොළාඪ් සිතුවමකි. (2) රංජිත වීඳුරු සිතුවමකි.
 (3) දියසායම් සිතුවමකි. (4) පෙනිකඩ සිතුවමකි.
- 09 සංඛ නිධි හා පද්ම නිධි වෛත්‍ය දොරටුව දෙපස දක්නට ලැබෙන බහිරව රූප ඇති ස්ථානය වන්නේ,
 (1) කැලණි දාගැබ (2) අභයගිරි දාගැබ
 (3) රන්කොත් වෙහෙර (4) ථූපාරාමය
- 10 ප්‍රංශයේ ලැස්කෝ ගුහාවේ ඇති සුවිශේෂ වූ දඩයම් දර්ශන සිතුවම හඳුන්වන්නේ,
 (1) බයිසන් නමිනි. (2) වැතිරගත් රුව නමිනි.
 (3) ගවලෙන නමිනි. (4) මළ මිනිසාගේ රචනය නමිනි.
- අංක 11 සිට 15 තෙක් දී ඇති ඇති වචනවලට අර්ථවත් වාක්‍ය බැගින් ලියන්න.
- 11 පර්යාවලෝකනය
- 12 කෝලම් රටා
- 13 ගෝපුරම්
- 14 ධාන්‍යාකාර
- 15 මැමත්
- අංක 16 20 තෙක් අසා ඇති ප්‍රශ්නවලට පිළිතුරු සපයන්න.
- 16 ශ්‍රී ලංකාවේ පිත්තල කර්මාන්තය ප්‍රසිද්ධ ප්‍රදේශයක් නම් කරන්න.



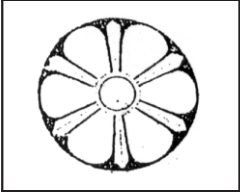




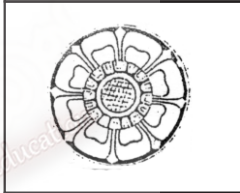


- 17 අනුරාධපුර යුගයට අයත් කලාත්මක සඳකඩපහන දක්නට ලැබෙන්නේ කොහේද?

- 18 තලන වැඩ හා වාත්තු වැඩ යන ක්‍රම දෙකට භාණ්ඩ නිෂ්පාදනය කරන ජනකලා කර්මාන්තය කුමක්ද?

- 19 සම්මත සැරසිලි මෝස්තර ඉගෙනීමේ දී ඉර, හඳ සංකේත දෙක පමණක් ඇතුළත් වන ගණය කුමක් ද?

- 20 හින්දු ආගමේ ශුද්ධ ලකුණු හා ස්වර්ග පක්ෂියා ලෙස යොදා ඇති සත්වයා කවුරුන්ද?



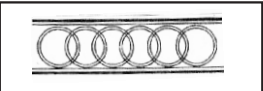
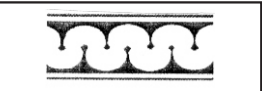

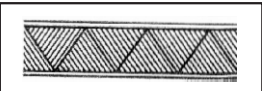
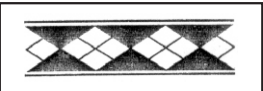
● අංක 21 25 තෙක් වූ ප්‍රශ්නවලට, දී ඇති A B C D E රූප සටහන් වලින් නිවැරදි රූපය තෝරා තිත් ඉර මත අදාළ ඉංග්‍රීසි අක්ෂරය යොදන්න.

21		(.....)		A
22		(.....)		B
23		(.....)		C
24		(.....)		D
25		(.....)		E

● අංක 26 සිට 30 තෙක් වූ ප්‍රශ්න සඳහා හරි නම් (✓) ලකුණ ද. වැරදි නම් (✗) ලකුණ ද වරහන් තුළ යොදන්න.

- 26 සිංහල, දෙමළ ජාතීන් එක්ව පවත්වන්නේ වෙසක් උත්සවයයි. ()
- 27 මහියංගන දාගැබ ශ්‍රී ලංකාවේ පළමු දාගැබයි. ()
- 28 රුවන්වැලි සෑය හැඩයෙන් බුබුලාකාර වේ. ()
- 29 ශ්‍රී මහා බෝධීන් වහන්සේ ශ්‍රී ලංකාවට වැඩම කළේ මිහිඳු හිමි විසිනි. ()
- 30 නිල්, කහ, රතු යන වර්ණ මූලික වර්ණ ලෙස සැලකේ. ()

● අංක 31 සිට 35 දක්වා වූ ප්‍රශ්නවලට පිළිතුරු සැපයීමට පහත රූප සටහන් උපයෝගී කරගන්න.

			
A	B	C	D
			
E	F	G	

31 සම්මත සැරසිලි මෝස්තර වර්ගීකරණයට අනුව මෙහි බහුල වශයෙන් දක්නට

- ලැබෙන්නේ කුමන වර්ගයට අයත් මෝස්තරද?
- 32 මෙහි ඇති A, B මෝස්තර හැඳින්වෙන්නේ කුමන නමකින් ද?
- 33 මෙහි දැක්වෙන එක් මෝස්තරයක් වෙනත් වර්ගයකට අයත් වේ. එහි අක්ෂරය ලියන්න.
.....
- 34 මෙවැනි මෝස්තර යොදා සැරසිලි කර ඇති භාණ්ඩයක නම ලියන්න.
.....
- 35 ගල්බිංදුව දැක්වෙන්නේ කුමන සංකේත දෙකෙන්ද?

● අංක 36 සිට සපයන්න.



නට අනුව පිළිතුරු

- 36 ස්ථම්භයේ මුහුණතේ කුමන මාතෘකා ද?
.....
- 37 යුගය
- 38 අනුරාධපුරයේ දැක්වූ රජු කවුරුන්ද?
..... (ල. 40 යි.)
- 39 ස්ථම්භයේ හැඩය නම් කරන්න.
.....
- 40 මෙම ස්ථම්භය දක්නට ලැබෙන්නේ කුමන නගරයේද?

III කොටස

● පහත දැක්වෙන “අ”, “ආ” හා “ඇ” යන කොටස් තුනෙන් එකක් පමණක් තෝරාගෙන විත්‍යයක් ඇඳ වර්ණ කරන්න.

“අ” (ප්‍රකාශන)

- 01 තොටුපළක් 02 කන්ද උඩ විහාරයට යමු

“ආ” (මෝස්තර)

- 03 කුඩයකට සුදුසු නිර්මාණාත්මක මෝස්තරයක්

- 04 කුෂන් කවරයක් හැඩ කරමු