

දෙකෙන් දෙක ගණන් කරමු.

උදාහරණය :



කරාබු ගණන් කරන්න.

2, 4, 6, 8, 10, 12

මුළු කරාබු ගණන **12** යි.

දෙකෙන් දෙක ගණන් කරමින් මුළු සපත්තු ගණන සොයමු.



මුළු සපත්තු ගණන

දෙකෙන් දෙක ගණන් කරමින් මුළු මල් ගණන සොයමු.



මුළු මල් ගණන

ගණන් කිරීම

පොල් ගෙඩි දෙකෙන් දෙක ගණන් කරමින් රවුම් කරමු. මුළු පොල් ගෙඩි ගණන සොයමු.



මුළු පොල් ගෙඩි ගණන

පහෙන් පහ ගණන් කරමු.

උදාහරණය :



5, 10, 15, 20, 25


මුළු කෙසෙල් ගෙඩි **25** යි.

පහෙන් පහ ගණන් කරමින් අත්වල මුළු ඇඟිලි ගණන සොයමු.



මුළු ඇඟිලි ගණන

පහෙන් පහ ගණන් කරමින් මල්වල මුළු පෙති ගණන සොයමු.



මුළු මල් පෙති ගණන

පහෙන් පහ ගණන් කරමින් මාලයේ ඇති මුළු පබලු ගණන සොයමු.



මුළු පබලු ගණන

ගණන් කිරීම

දහයෙන් දහය ගණන් කරමු.

උදාහරණය :



10, 20, 30, 40, 50

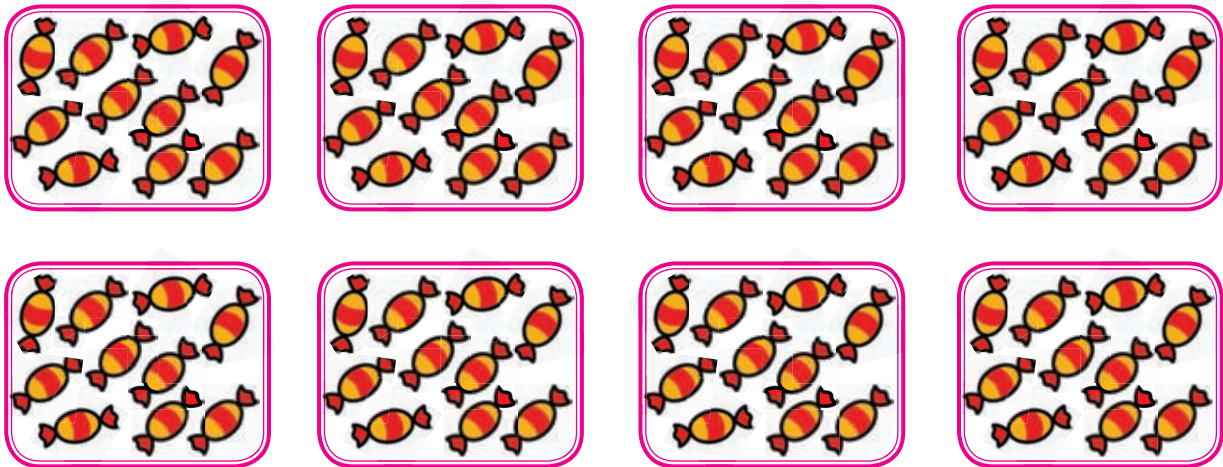
මුළු කොළ ගණන **50** යි.

දහයෙන් දහය ගණන් කරමින් ගස්වල ඇති මුළු ජම්බු ගණන සොයමු.




මුළු ඇපල් ගණන

දහයෙන් දහය ගණන් කරමින් කොටුවල ඇති මුළු ටොෆි ගණන සොයමු.




මුළු ටොෆි ගණන

දහයෙන් දහය ගණන් කරමින් මුළු කිරි ටින් ගණන සොයමු.



මුළු කිරි ටින් ගණන

දහයෙන් දහය ගණන් කරමින් රාක්කයේ ඇති මුළු පොත් ගණන සොයමු.



මුළු පොත් ගණන