



மாணவர்களைப் பாடசாலைக்குத் தேர்ந்தெடுப்பதற்கும் மாணவர்களுக்கு உதவிப்பணம் வழங்குவதற்குமாகத் தரம் ஐந்து மாணவர்களுக்கு நடத்தப்படும் பரீட்சைக்கான வழிகாட்டல்.

**வினாத்தாள் - I**

**8**

45 நிமிடம்

சுட்டெண் .....

பரீட்சைக்குத் தோற்றும் உங்களுக்குரிய அறிவுறுத்தல்கள்.

- ★ உங்கள் சுட்டெண்ணை மேற்குறித்த அடைப்பினுள்ளே இருக்கும் புள்ளிக்கோட்டின் மீது எழுதுங்கள்
- ★ மூன்றாம் பக்கத்தில் குறித்த இடத்திலும், உங்கள் சுட்டெண்ணை எழுதுக.
- ★ இவ்வினாத்தாளில் 40 வினாக்கள் உள்ளன.
- ★ 1 - 38 வரையுள்ள ஒவ்வொரு வினாவிலும் மூன்று விடைகள் தரப்பட்டுள்ளன. மிகச் சரியான விடையைத் தெரிவுசெய்து அதன்கீழ்க் கோடிடுக.
- ★ 39ஆம், 40ஆம் வினாக்களிற்குரிய விடைகளைப் புள்ளிக்கோட்டில் எழுதுக.
- ★ செய்கை வேலைக்காக ஒருதாள் வழங்கப்படும்.


**விடைத்தாள் பரீட்சகர்களுக்கு மாத்திரம்**

பக்க இலக்கம்	பெற்ற புள்ளிகள்
02	
03	
04	
05	
06	
மொத்தம்	
இறுதிப்புள்ளிகள்	
இலக்கத்தில்	
எழுத்தில்	

	ஒப்பம்
முதலாவது பரீட்சகர் புள்ளி வழங்கும் விதிமுறைக்கேற்ப விடைத்தாள் மதிப்பீடு செய்யப்பட்டதெனச் சான்றுப் படுத்துகின்றேன்.	V/II/T/
இரண்டாவது பரீட்சகர் முதலாவது பரிசீலனையின் மதிப்பீடு சரியானதெனச் சான்று பகிரகின்றேன்.	V/II/T/
கணித பரீட்சகர் மதிப்பீடு வழங்கப்பட்ட புள்ளிகள் மற்றும் இறுதிப் புள்ளி சரியானதென தெரிவிக்கின்றேன்	V/II/T/EMF/
பிரதம பரீட்சகர் மேற்பார்வை செய்வதற்கு இணங்க இறுதிப் புள்ளி சரியானதெனத் தெரிவிக்கின்றேன்	V/II/T/CH/

❖ 1- 38 வரையான வினாக்களுக்குச் சரியான விடையினைத் தெரிவு செய்து அதன் கீழ்க் கோட்டுக.

01.



வினா 1 தொடக்கம் 2 வரையுள்ள வினாக்களில் படத்துடன் தொடர்புடைய மிகப் பொருத்தமான விடையைத் தெரிவுசெய்க.

1. இயற்கை                      2. இரவு                      3. குளிர்மை

02.



1. காடு                      2. மாமிச உண்ணி                      3. நன்றியுணர்வு

03. பின்வரும் கட்டங்களில் வேறுபட்ட சொல் இடம்பெறும் கட்டங்களைத் தெரிவு செய்க.

1. மாம்பழம்  
வாழைப்பழம்  
பலாப்பழம்

2. தக்காளி  
வெண்டி  
மரக்கறி

3. வட்டம்  
சதுரம்  
முக்கோணம்

04.

1. வைத்தியர்  
நோயாளி  
தாதி

2.

அதிபர்  
ஆசிரியர்  
மாணவர்

3.

சந்தை  
வியாபாரி  
நூலகம்

❖ தரப்பட்டுள்ள கவிதையைக் கொண்டு விடையைத் தெரிவுசெய்க.

வண்ண வண்ணப் பூக்களாய்  
வானில் சிதறும் தீப்பொறி  
விண்ணில் ..... வேடிக்கை  
விழா வென்றாலே வாடிக்கை.

05. மேலே உள்ள பாடலில் குறிப்பிடப்படும் வெற்றிடத்திற்குப் பொருத்தமான சொல்.

1. தரை                      2. விண்                      3. கடல்

06. வேடிக்கை நடைபெறும் நாள்.

1. பண்டிகை                      2. பௌர்ணமி                      3. நோன்பு

❖ 7ஆம், 8 ஆம் வினாக்களில் கோலத்திற்கேற்ப வெற்றிடத்திற்குப் பொருத்தமான விடையைத் தெரிவு செய்க.

07. 3, 43, 543 .....

1. 4563                      2. 6543                      3. 7543

08.



.....

1.



2.



3.



09.

நான்கு சமச்சீர் கோடுகளை மாத்திரம் கொண்ட உருவைத் தெரிவுசெய்க.

1.



2.



3.



❖ வெற்றிடத்திற்குப் பொருத்தமான விடையைத் தெரிவு செய்க.

10. கீரிக்கு - பிள்ளை அதுபோல நெல்லுக்கு.....

1. கன்று    2. குட்டி    3. நாற்று

11. தொப்பிக்கு தலை எனின் கைக்கடிகாரத்திற்கு

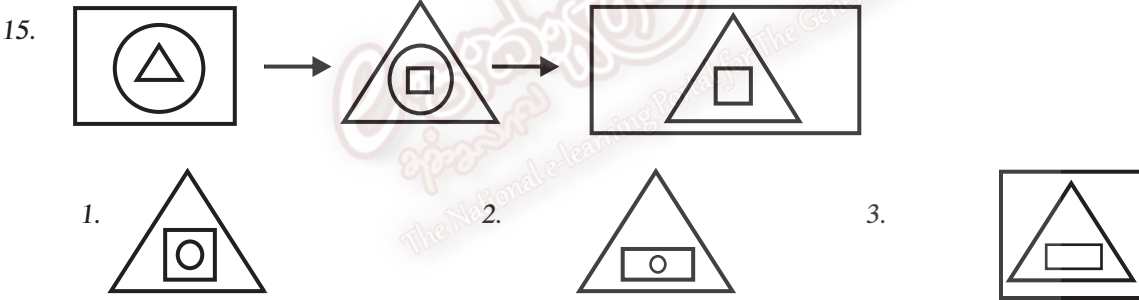
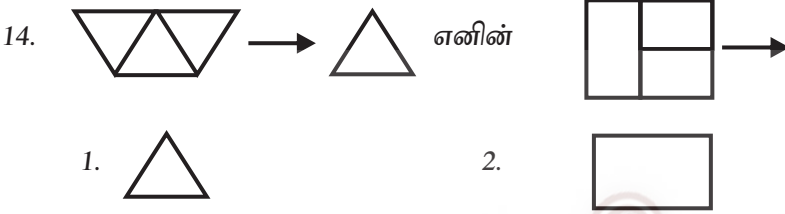
1. கால்    2. கை    3. கழுத்து

12. சாதாரண வருடம் ஒன்றின் இறுதிக் காலாண்டில் வரும் நாட்களின் எண்ணிக்கை.

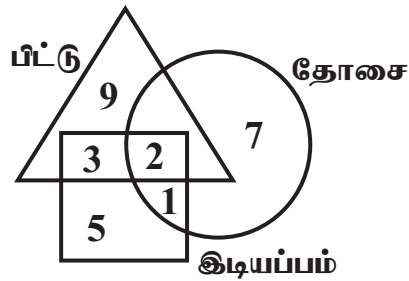
1. 180    2. 100    3. 92

13. பங்குனி மாதம் 31 ஆம் திகதி வியாழக்கிழமை எனின் அம்மாதத்தில் வரும் செவ்வாய்க்கிழமைகளின் திகதிகளின் கூட்டுத்தொகை.

1. 75    2. 80    3. 85



❖ வகுப்பறை, ஒன்றில் உள்ள மாணவர்களுக்கு விருப்பமான காலை உணவு பற்றிய தகவல்கள் பின்வருமாறு.

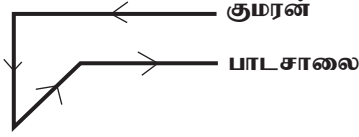




16. பிட்டை மட்டும் விரும்புவோர்

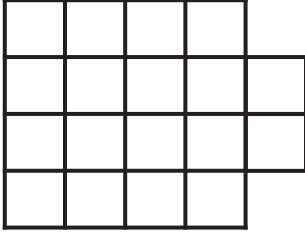
1. 19    2. 9    3. 12

17. தோசையையும் இடியப்பத்தையும் விரும்புவோர்

1. 3    2. 7    3. 1

18. மழை பெய்தால் நிலம் நனையும்  
மழை பெய்துள்ளது. ஆகவே,  
1. நிலம் நனைய வில்லை                      2. நிலம் காய்ந்துள்ளது                      3. நிலம் நனைந்துள்ளது.
19. எல்லாப் பிள்ளைகளும் மழலை பேசுவார்கள். பாலா மழலை பேசுவான். ஆகவே பாலா ஒரு மழலை, என்னும் கூற்று.....  
1. சரியானது                      2. தவறானது                      3. கூற முடியாது
20. வடக்கிற்கும் மேற்கிற்கும் இடைப்பட்ட திசையின் எதிர்த்திசை யாது?  
1. தென்கிழக்கு                      2. தென்மேற்கு                      3. வடமேற்கு
21.  குமரன் பாடசாலைக்குச் சென்ற திசை ஒழுங்கு முறையினைத் தெரிவு செய்க.  
1. மேற்கு → தெற்கு → வடகிழக்கு → கிழக்கு  
2. தெற்கு → வடகிழக்கு → மேற்கு → கிழக்கு  
3. மேற்கு → வடகிழக்கு → தெற்கு → வடக்கு
22. 20 ஆம் நூற்றாண்டின் ஐந்தாம் தசாப்தத்தில் வரும் ஆண்டு.  
1. 1955                      2. 1946                      3. 2046
23. 2001 ஆம் ஆண்டு வரும் நூற்றாண்டு  
1. 19 ஆம் நூற்றாண்டு                      2. 20 ஆம் நூற்றாண்டு                      3. 21 ஆம் நூற்றாண்டு
24. மைதானம் ஒன்றைச் சுற்றி சம இடைவெளியில் கம்பங்கள் நடப்பட்டுள்ளன. இரண்டு கம்பங்களுக்கிடையிலான தூரம் 10 மீற்றர், 150 மீற்றர் சுற்றளவுள்ள மைதானத்திற்கு நடப்பட்டுள்ள கம்பங்கள் எத்தனை?  
1. 14                      2. 16                      3. 15
25.   
1. 18                      2. 16                      3. 25
26.   
1. 14                      2. 7                      3. 8
27. குறைவான தீக்குச்சிகளைக் கொண்டு உருவாக்கக் கூடிய உரோமன் எண்  
1. X                      2. VI                      3. XIX

28.



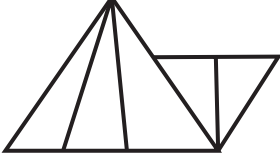
இவ்வருவில் உள்ள சதுரங்களின் எண்ணிக்கை?

1. 33

2. 36

3. 18

29.



இவ்வருவில் உள்ள முக்கோணிகளின் எண்ணிக்கை.

1. 5

2. 9

3. 12

30.

11 - 20 வரையுள்ள இரட்டை எண்களின் எண்ணிக்கை.

1. 3

2. 6

3. 5

31.

மகளின் வயது தாயின் வயதின்  $\frac{2}{6}$  பங்காகும். மகளின் வயது 8 எனின் தாயின் வயது?

1. 48

2. 24

3. 16

32.

பின்வரும் எழுத்துக்களைக் கண்ணாடியில் பார்க்கும்போது மாற்றமின்றித் தெரியும் எழுத்துக்கள்.

1. T, Q

2. R, A

3. V, A

33.



இக் கடிகாரத்தைக் கண்ணாடியில் பார்க்கும் போது கண்ணாடியில் தோன்றும் நேரம்.

1. 2.00 மணி

2. 2.45 மணி

3. 10.10 மணி

34.

விமலின் மகள் திவாணி, சந்திரனின் மகன் விமலன் எனின் சந்திரனின் மனைவியை திவாணி அழைக்கும் முறை.

1. அம்மா

2. பாட்டி

3. மாமி

35.

ஒரு நாளைக்கு 5 தடவை மேசைக்கரண்டியால் எடுக்க வேண்டிய மருந்தை தேக்கரண்டியால் எத்தனை தடவை எடுக்க வேண்டும்?

1. 25

2. 6

3. 10

36.

கட்டடம் ஒன்று கட்டி முடிப்பதற்கு 20 மாதங்கள் தேவை. இக்கட்டடம் 2015 தை மாதம் கட்ட ஆரம்பிக்கப்பட்டால் அவ் வேலை முடிவடையும் காலம்?

1. 2016 தை

2. 2016 ஆவணி

3. 2017 பங்குனி

37.

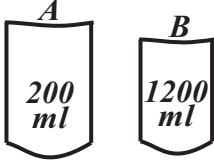
415, 315, 515 இவ்வெண்களை மூன்றால் வகுக்கும் போது மீதியின்றி வகுபடும் எண்?

1. 415

2. 315

3. 515

38.



பாத்திரம் A யை முழுமையாக நிரப்புவதற்கு பாத்திரம் B ஆல் எத்தனை தடவை நீர் ஊற்ற வேண்டும்?

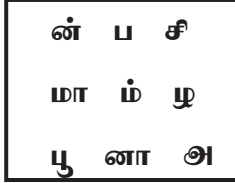
1. 4 தடவை

2. 5 தடவை

3. 6 தடவை

❖ 39 - 40 வரையான வினாக்களுக்குச் சரியான விடையை எழுதுக.

39. அடைப்பில் உள்ள எழுத்துக்களைத் தெரிவு செய்து பழம் ஒன்றின் பெயரை எழுதுக.



.....

40. எழுத்துக் கூட்டங்களில் மறைந்துள்ள பழமொழியைத் தெரிவுசெய்து எழுதுக.

அ, ஆ, க, னை, பா, க்கு, வ, ம், அபவடி, பூசடறுக்கடகுன்ம்

.....

The National e-learning Portal for The General Education