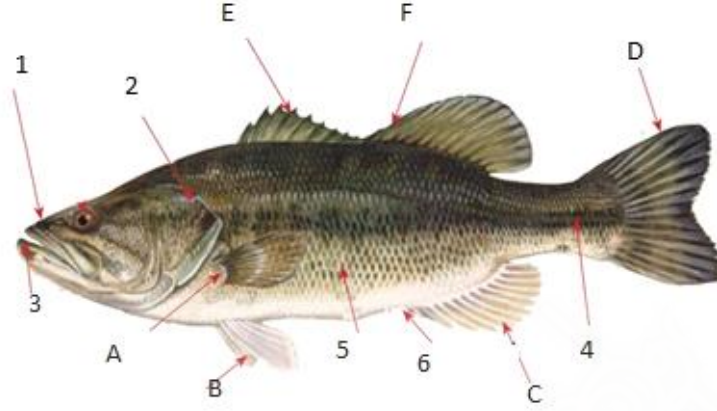


## நீருயிரின வளத் தொழினுட்பவியல்

அலகு 3

தவணை 3

செயலட்டை 1



- A தொடக்கம் F வரை அடையாளமிடப்பட்ட செட்டைகளை இனங் காண்க

A ..... B..... C.....

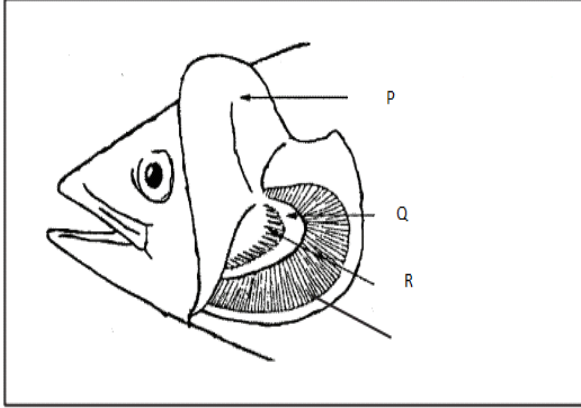
D..... E ..... F .....

- 1 தொடக்கம் 6 வரை இலக்கமிடப்பட்டுள்ள உறுப்புக்களை இனங்கண்டு எழுதுக

• ..... 2. .... 3. ....

• ..... 5. .... 6. ....

தயாரிப்பு - திரு.ரி.ஜெயபிரகாஷ், யா.இமையாணன் அ.த.க.பாடசாலை  
திரு.கே.அருட்கரன், யா.மறவன்புலோ சகலகலாவல்லி வித்தியாலயம்  
தட்டச்சு - திரு.க.குமரன்,ISA, கிளிநொச்சி வலயம்

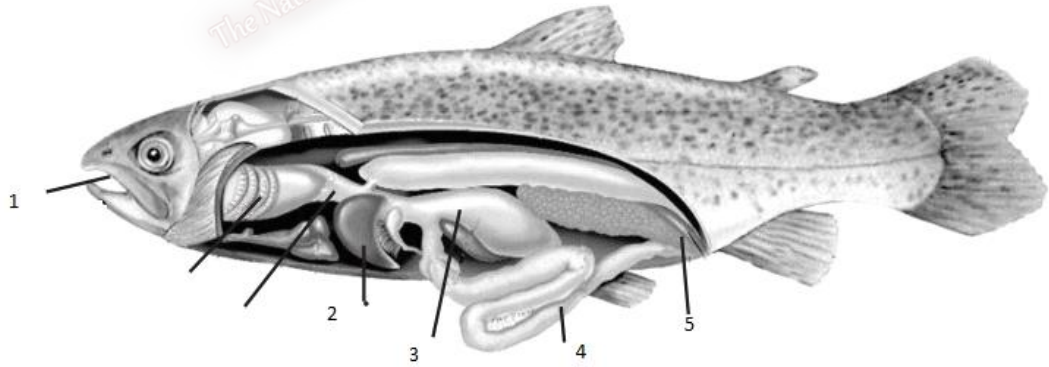


- படத்தில் காட்டப்பட்டுள்ள அங்கங்களை பெயரிடுக

P ..... Q ..... R .....

4. என்பு மீனிற்஑ும் , கசியிழைய மீன்களிற்஑ுமிடையிலான வேறுபாடுகள் ஡ுன்று வீதம் குறிப்பிடுக

	என்பு மீன்		கசியிழைய மீன்
1		1	
2		2	
3		3	



- பின்வரும் ஁ணவுக்கால்வாய்த் தொகுதியின் அங்கங்களைப் பெயரிடுக

1 ..... 2 .....  
3 ..... 4 .....

தயாரிப்பு - திரு.ரி.ஜெயபிரகாஷ், யா.஁மையாணன் அ.த.க.பாடசாலை  
திரு.கே.அருட்கரன், யா.மறவன்புலோ சகலகலாவல்லி வித்தியாலயம்  
தட்டச்சு - திரு.க.குமரன்,ISA, கிளிநொச்சி வலயம்

5 .....

- மீன்களின் புலனங்க உறுப்புக்கள் மூன்றினைக் குறிப்பிடுக

.....

.....

.....

- மீன்களின் சமூக நடத்தைக் கோலங்கள் நான்கினைக் குறிப்பிடுக

.....

.....

.....

- மீன்கள் குடிபெயர்வதற்கான காரணங்கள் மூன்று தருக

.....

.....

.....

- மீன்கள் கூட்டமாக இடம்பெயர்வதற்கான முக்கியத்துவம் இரண்டினைக் குறிப்பிடுக.

.....

.....

.....

- மீன்களின் உடற்றொழிலியல் செயன்முறைகளுடன் தொடர்புடைய நடத்தைக் கோலங்கள் நான்கினைக் குறிப்பிடுக

.....

.....

.....