

- | | | | | | |
|--------|-----------------|----|-----------------|----|---------------|
| 09) 1) | ඉන්කාවරු | 2) | මයාවරු | 3) | ඇස්ටෙක් වරු |
| 4) | රතු ඉන්දියන්වරු | 5) | ලේප්වාචරු | | (.....) |
| 10) 1) | ඩෙම් ලර් | 2) | ජොන් ස්ටීවන්සන් | 3) | රයිට් සහෝදරයෝ |
| 4) | රොබට් ජුල්ටන් | 5) | මාර්කොනි | | (.....) |

■ අංක 11 සිට 15 තෙක් වූ ප්‍රශ්න සඳහා පද යුගල පහ බැගින් දී ඇත. ඒවා අතරින් එක යුගලයක පද එකිනෙකට නොගැලපේ. එම නොගැලපෙන පද යුගලය කුමක්දැයි හඳුනාගෙන ඊට අදාළ අංකය තිත් ඉර මත ලියන්න.

- | | | | | |
|--------|----------------------|---|----------------------------------|---------|
| 11) 1) | වස්කෝද ගාමා | - | ඉන්දියාවට යාත්‍රා කිරීම. | |
| 2) | බර්තෝලමියු ඩයස් | - | අප්‍රිකා මහාද්වීපයේ කුනාටු තුඩුව | |
| 3) | ක්‍රිස්ටෝපර් කලම්බස් | - | බටහිර ඉන්දිය දූපත් | |
| 4) | ෆර්ඩිනන්ඩ් මැගලන් | - | ලෝකය වටා ගමන් කිරීම | |
| 5) | කබ්රාල් | - | මෙක්සිකෝව | (.....) |

- | | | | | |
|--------|---------|---|--------------------|---------|
| 12) 1) | වෝල්ගා | - | ගඟ කි. | |
| 2) | කිල් | - | ඇළ කි. | |
| 3) | කෝසිකෝව | - | දූපත කි. | |
| 4) | කළු | - | මුහුද කි. | |
| 5) | සෙන් | - | සමුද්‍ර සන්ධිය කි. | (.....) |

- | | | | | |
|--------|----------------------|---|------|---------|
| 13) 1) | උත්කෘෂ්ට විප්ලවය | - | 1688 | |
| 2) | ප්‍රංශ විප්ලවය | - | 1789 | |
| 3) | ජර්මනිය එක්සත් කිරීම | - | 1866 | |
| 4) | ඇමරිකානු නිදහස් සටන | - | 1776 | |
| 5) | රුසියන් විප්ලවය | - | 1917 | (.....) |

- | | | | | |
|--------|------------------|---|-------------------------|---------|
| 14) 1) | වස්කෝද ගාමා | - | දේශ ගවේෂයකි. | |
| 2) | ලියනාඩො ඩාවින්චි | - | චිත්‍ර ශිල්පියෙකි. | |
| 3) | තොමස් මුවර් | - | ගත් කතුවරයෙකි. | |
| 4) | වින්සන් වර්විල් | - | ගෘහ නිර්මාණ ශිල්පියෙකි. | |
| 5) | ඇරිස්ටෝටල් | - | දාර්ශනිකයෙකි. | (.....) |

- | | | | | |
|--------|-------------|---|-----------|---------|
| 15) 1) | ලන්ඩන් | - | නගරය කි. | |
| 2) | මධ්‍ය ධර්නි | - | මුහුද කි. | |
| 3) | සිසිලි | - | දූපත කි. | |
| 4) | රෝමය | - | රටා වේ. | |
| 5) | සුවස් | - | ඇල කි. | (.....) |

- 20) X
- 1) රුමෙනියාව
 - 2) ජර්මනිය
 - 3) ඔස්ට්‍රියාව
 - 4) යුගෝස්ලාවියාව
 - 5) ස්පාඤ්ඤය
- 1) DECBA 2) DCEAB
- Y
- A) බර්ලින්
 - B) විශානා
 - C) බෙල්ග්‍රේඩ්
 - D) බ්‍රුක්ලේන්
 - E) මැඩ්‍රිඩ්
- 3) DABCE 4) DBAEC 5) DEBAC
(.....)

- 21) X
- 1) කොපර් නිකස්
 - 2) ගැලිලියෝ ගැලිලි
 - 3) විලියම් හාවේ
 - 4) අයිසැක් නිව්ටන්
 - 5) ඇල්බට් අයින්ස්ටයින්
- 1) DECBA 2) DCEAB
- Y
- A) සාපේක්ෂතාවාදී
 - B) ගුරුත්වාකර්ෂණ නියාමය
 - C) රුධිරය සංසරණය වන ආකාරය
 - D) සුර්ය කේන්ද්‍රීය විශ්වය පිළිබඳ
 - E) දුරදක්නය නිපදවීම
- 3) DABCE 4) DBAEC 5) DEBAC
(.....)

- 22) X
- 1) මැකියාවලි
 - 2) මොන්ටේස්කියු
 - 3) ඇඩම් ස්මිත්
 - 4) රැසෝ
 - 5) කාල්මාක්ස්
- 1) CABDE 2) CEABD
- Y
- A) ජාතින්ගේ ධනය
 - B) සමාජ සම්මුතිය
 - C) කුමාරයා
 - D) දාස් කැපිටාල්
 - E) නීතියේ සාරය
- 3) CBDEA 4) CDEAB 5) CABDE
(.....)

- 23) X
- 1) 1688 උත්කෘෂ්ට විප්ලවය
 - 2) ඇමරිකානු විප්ලවය
 - 3) ප්‍රංශ විප්ලවය
 - 4) කාර්මික විප්ලවය
 - 5) බොල්ෂෙවික් විප්ලවය
- 1) ABCDE 2) ACDEB
- Y
- A) පාර්ලිමේන්තුවේ අනුමැතිය නැතිව බදු පැන විමට රජුට බැරිය.
 - B) නිදහස, සමානාත්වතාව, සහෝදරත්වය
 - C) නියෝජිතයන් නැති නම් බදුක් නැත.
 - D) නිර්ධන පංතියේ ජයග්‍රහනය
 - E) නව අධිරාජ්‍ය වාදයට මග පෑදීම.
- 3) ACBED 4) AEBCD 5) ADECB
(.....)

- 24) X
- 1) ඉංග්‍රීසි
 - 2) ස්පාඤ්ඤ
 - 3) පෘතුගාලය
 - 4) ප්‍රංශ
 - 5) ඕලන්ද
- 1) EBDAC 2) EDACBB
- Y
- A) පැසිපික් සාගරය හා අත්ලාන්තික් සාගරය
 - B) උතුරු මුහුද හා බොල්ටික් මුහුද
 - C) මෙක්සිකෝ
 - D) ක්වීබෙක්
 - E) වර්ජීනියා
- 3) EACBD 4) ECADB 5) ECBDA
(.....)

25)	X		Y						
1)	වොල්ගා ගඟ		A)	ඉංග්‍රීසි ඕඩය					
2)	තේම්ස් ගඟ		B)	බෝල්ටික් මුහුද					
3)	විස්ටියුලා ගඟ		C)	උතුරු මුහුද					
4)	රයින් ගඟ		D)	ආදියාතික් මුහුද					
5)	පෝ ගඟ		E)	කැස්පියන් මුහුද					
1)	EABCD	2)	EACDB	3)	EADBC	4)	EABDC	5)	EACBD
								(.....)	

▪ අංක 26 සිට 30 තෙක් එක් එක් ප්‍රශ්නයට දක්වා ඇති A, B, C, D, සහ E යන ප්‍රතිචාර පහ අතුරින් එකක් හෝ කිහිපයක් හෝ නිවැරදිය නිවැරදි ප්‍රතිචාරය හෝ ප්‍රතිචාර හෝ තෝරා

- A සහ B පමණක් නිවැරදි නම් 1 ද,
- B සහ C පමණක් නිවැරදි නම් 2 ද,
- C සහ D පමණක් නිවැරදි නම් 3 ද,
- A සහ C පමණක් නිවැරදි නම් 4 ද,

ප්‍රතිචාර එකක් හෝ දෙකකට වැඩි සංඛ්‍යාවක් හෝ නිවැරදි නම් අංක 5 ද තිත් ඉර මත ලියන්න.

26) පහත දැක්වෙන ඒවා අතුරින් යුරෝපය මධ්‍යගත යුගය සිට නූතන යුගයට පරිවර්තනය වීම සලකුණු කරන වර්ධනයන් කවරේද?

- A) බලය විකේන්ද්‍රනය වූ රාජ්‍යයන්
- B) එක්සත් යුරෝපීය ක්‍රියා සභාව
- C) වාණිජ ධනවාදයේ නැගීම
- D) දේශ ගවේෂණය

(.....)

27) පහත දැක්වෙන කරුණු අතුරින් තිස් අවුරුදු යුද්ධය ඇතිවීමට තුඩුදුන් සාධක කවරේද?

- A) ජමනියේ පැවැති ආගමික මතවේද
- B) ඔග්ස්බර්ග් සාම ගිවිසුමේ අඩුපාඩු
- C) ශුද්ධ රෝම අධිරාජ්‍යය සහ ජර්මන් කුමාරවරුන් අතර පැවැති දේශපාලන ගැටුම්
- D) දෙවන පිලිප්, ශුද්ධ රෝම අධිරාජ්‍යය ලෙස ඔටුනු පැළඳවීම.

(.....)

28) පහත දැක්වෙන පනත් අතුරෙන් එංගලන්ත පාර්ලිමේන්තු ක්‍රමයේ වර්ධනය වීම හා සම්බන්ධ ඒවා කවරේද?

- A) 1689 අයිතිවාසිකම් පිළිබඳ පනත
- B) 1928 සර්ව ජන ඡන්ද බලය ප්‍රධානය කිරීම.
- C) 1735 එංගලන්තයේ කැබිනට් ක්‍රමය හඳුන්වා දීමේ පනත
- D) 1767 ටවුන් සෙන්ට්ගේ ආදායම් බදු පනත

(.....)

29) පහත දැක්වෙන කරුණු අතරින් ඉතාලියේ පුනරෝධය ඇතිවීමට තුඩුදුන් සාධක කවරේද?

- A) සම්භාව්‍ය රෝම ශිෂ්‍යාචාරයේ බලපෑම ඉතාලිය තුළ නොනැසී පැවැත්ම
- B) කොන්ස්තන්තිනොපලයේ සිට ඉතාලියට ග්‍රීක - රෝම දැනුම ගලා ඒම.
- C) ඉතාලියේ ආර්ථික සංවර්ධනය
- D) ආගමික ප්‍රතිසංස්කරනයේ බලපෑම

(.....)

30) පහත දැක්වෙන කරුණු අතරින් වැඩවසම් ක්‍රමයේ ලක්ෂණ කවරේද?

- A) ආගමික ප්‍රතිසංස්කරණ
- B) ඒකාධිපති රාජාණ්ඩු
- C) ස්වෛරීභාවය
- D) බලය විකේන්ද්‍රනය

(.....)

■ අංක 31 සිට 35 තෙක් සෑම ප්‍රශ්නයකටම එක් මාතෘකාවක් යටතේ කරුණු පහ බැගින් සපයා ඇත. එම කරුණු අතුරෙන් එකක් අදාළ මාතෘකාවට නොගැළපේ. එම නොගැළපෙන කරුණ තෝරා එහි අංකය තිත් ඉර මත ලියන්න.

- 31) 1) ආගමික ප්‍රතිසංස්කරණය ජර්මනියේ ආරම්භ විය.
- 2) එහි නායකයා වූයේ මාටින් ලුතර් ය.
- 3) ආගමික ප්‍රතිසංස්කරණ ඇතිවීමට තුඩු දුන් ආසන්නම හේතුවූයේ පුණ්‍ය ඵල පත්‍රිකා විකිණීමට හේතු කොටගෙන ඇති මත බෙද යයි.
- 4) ස්විට්සර්ලන්තයේ ආගමික ප්‍රතිසංස්කරණ ව්‍යාපාරයේ වැදගත්ම නායකයා වූයේ ජොන් කැල්වින් ය.
- 5) පාප් වහන්සේ මෙම ව්‍යාපාරයට අනුග්‍රහය දැක්වීය.

(.....)

32) ජාතික රාජ්‍ය,

- 1) බලය රජුවෙන් සංකේන්ද්‍රගත කරන ලද ශක්තිමත් රාජාණ්ඩුව
- 2) බලවත් වැඩවසම් රදළ පංතිය
- 3) ශක්තිමත් ස්ථාවර හමුදාව
- 4) වෙළෙඳාමේ ව්‍යාප්තියට රාජ්‍ය අනුග්‍රහය ලැබීම.
- 5) රජවරුන් විසින් මධ්‍යම පංතියේ ආධාර ලබාගැනීම.

(.....)

33) උතුරු හා දකුණු ඇමෙරිකා මහාද්වීප වල බිහි වූ ශිෂ්‍යාචාර

- 1) රතු ඉන්දියන්
- 2) මායා වරු
- 3) ඉන්කාවරු
- 4) හොවුංහෝ
- 5) ඇස්ටෙක්වරු

(.....)

34) එංගලන්තයෙන් කාර්මික විප්ලවය ඇතිවීමට තුඩුදුන් හේතු,

- 1) අවශ්‍ය ප්‍රග්ධනය තිබීම.
- 2) අවශ්‍ය ස්වාභාවික සම්පත් තිබීම.
- 3) අවශ්‍ය ශ්‍රමය තිබීම.
- 4) අවශ්‍ය වෙළෙඳ පොල තිබීම.
- 5) ශක්තිමත් ගුවන් හමුදාවක් සිටීම.

(.....)

35) දේශ ගවේෂණය

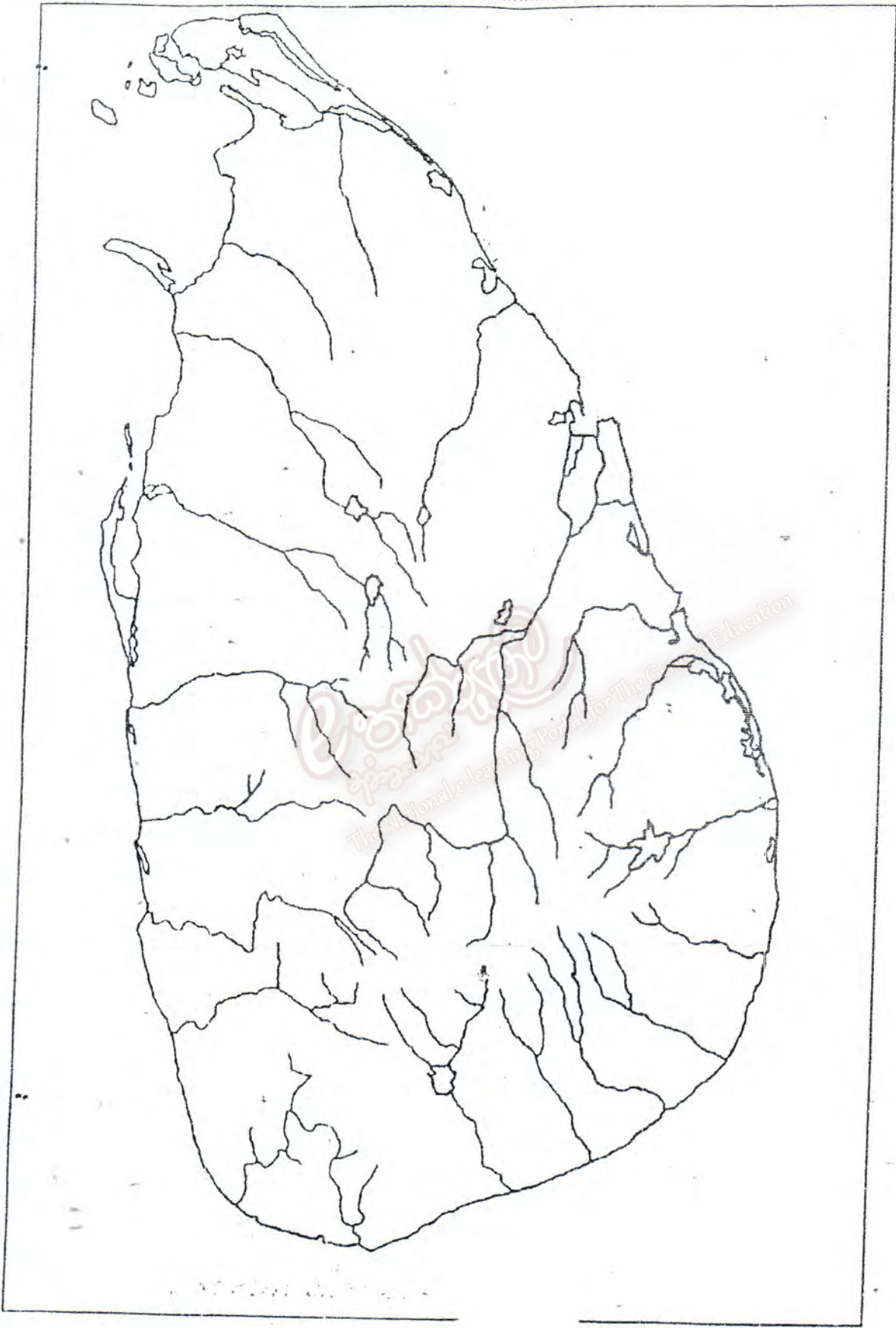
1. වාස්කෝද් ගාමා කැලිකට් වෙත යාම.
2. නාවික හෙන්රි නැගෙනහිර ඉන්දියන් දූපත් වලට යාත්‍රා කිරීම.
3. මැගලන් ලොව වටා ගමන් කිරීම.
4. කම්රාල් බ්‍රසීලය වෙත පැමිණීම.
5. වැම්ලෙන් කැනඩාවට පැමිණීම.

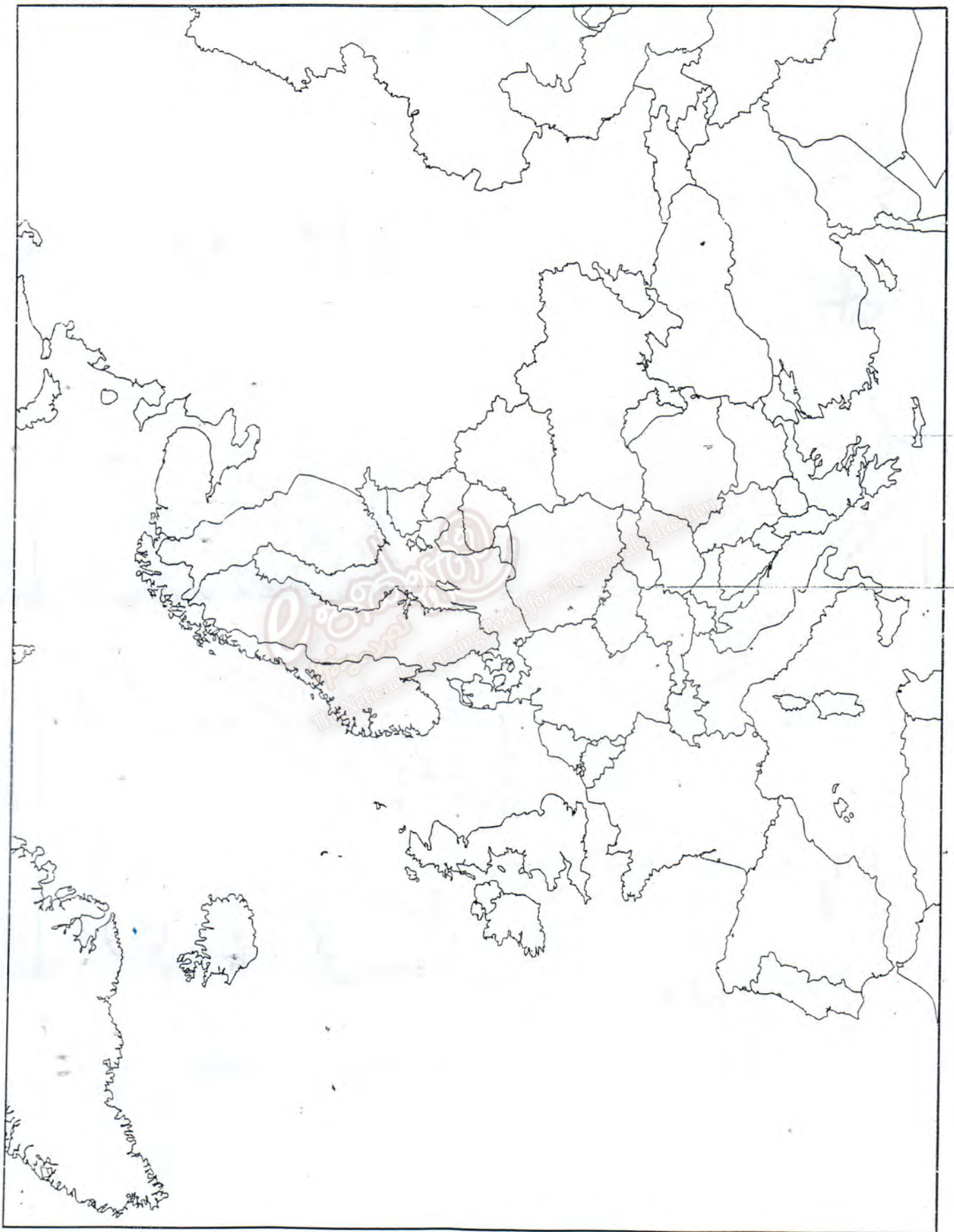
(.....)

■ පහත දැක්වෙන අංක 36 සිට 40 තෙක් වූ ප්‍රශ්නවලට අදාළව ප්‍රකාශ දෙක බැගින් දී ඇත. එක් එක් ප්‍රශ්නය සම්බන්ධයෙන් දී ඇති ප්‍රකාශ යුගලයට හොදින්ම ගැළපෙන්නේ පහත වගුවේ 1, 2, 3, 4, හා 5 යන කවර විග්‍රහය දැයි තෝරා එම අංකය තිත් ඉරමත ලියන්න.

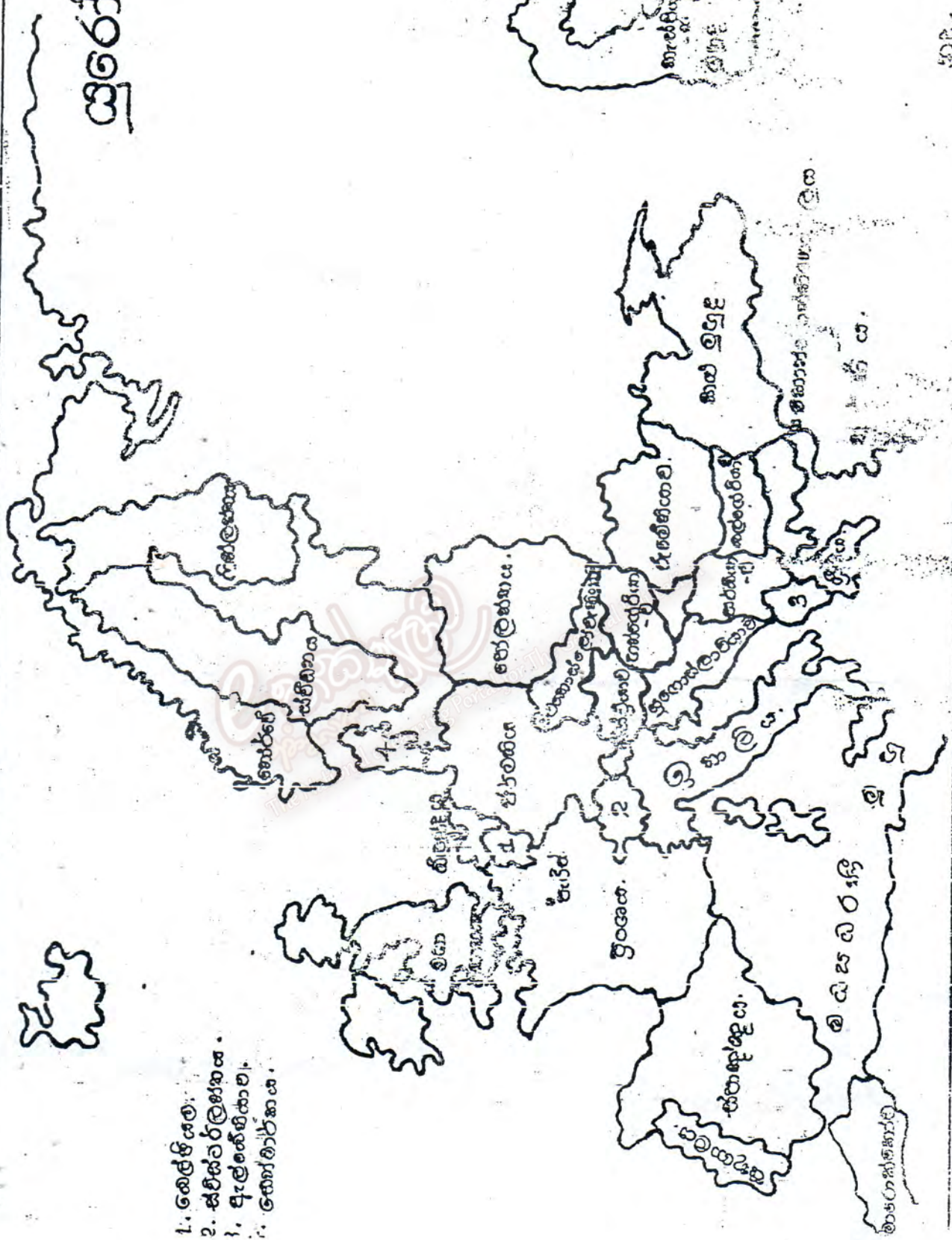
	පලමු ප්‍රකාශය	දෙවැනි ප්‍රකාශය
1)	නිවැරදි ය.	වැරදිය.
2)	නිවැරදිය.	නිවැරදිය.
3)	වැරදිය.	වැරදිය.
4)	වැරදිය.	නිවැරදිය.
5)	නිවැරදිය.	නිවැරදිවන අතර පලමු වැන්න මැනවින් විහිදෙයි.

	පළමුවැනි ප්‍රකාශය	දෙවැනි ප්‍රකාශය
36)	පුනරුදය මෙන්ම ආගමික ප්‍රතිසංස්කරණ ද මධ්‍යගත යුගයෙන් මිදී යාමක් සලකනු කළේය	පුනරුදය මධ්‍යකාලීන කලා හා සාහිත්‍ය සම්ප්‍රදායන්ගෙන් බැහැර වූ අතර ආගමික ප්‍රතිසංස්කරණ මධ්‍යගත යුගයේ තිබූ එක්සත්කම අවසන් කළේය.
37)	උත්කෘෂ්ට විප්ලවයට තුඩුදුන් ප්‍රධාන හේතුව වූයේ කාර්මික විප්ලවය යි.	උත්කෘෂ්ට විප්ලවයේ ප්‍රධාන සටන් පාඨය වූයේ නියෝජනයක් නැතිනම් බදුන් නැත යන්න යි.
38)	මුල්කාලීන ජාතික රාජ්‍යවල ප්‍රවලිතව පැවැති ආණ්ඩු ක්‍රමය නව රාජ්‍යාණ්ඩුව ලෙස හඳුන්වනු ලැබේ.	තිස් අවුරුදු යුද්ධයෙන් පසු යුරෝපයේ ආගමික යුද්ධ ඇති නොවීය.
39)	ඇමරිකාවේ ඇති ඉංග්‍රීසි ජනපද ගණන 13	ඇමරිකාවේ ඇති ජනපද වල ප්‍රංශ පාලනය සිදුවිය.
40)	ඉන්කා හා මායා ශිෂ්ටාචාර දකුණු ඇමරිකාවේ හා මධ්‍යම ඇමරිකාවේ පිහිටා ඇත.	මෙම ශිෂ්ටාචාර විනාශ කලේ ස්පාඤ්ඤ දේශ ගවේශකයින් ය.





ഇരട്ടപ്പടം



1. തെളിപ്പം.
2. ജില്ലാതലത്തിൽ.
3. മുഖ്യനഗരങ്ങൾ.
4. തീരപ്രദേശങ്ങൾ.