



**ඩී.එස්.සේනානායක විද්‍යාලය - කොළඹ 07.**

**මධ්‍ය වාර පරීක්ෂණය - 2015**

**පරීසරය - 3 ශ්‍රේණිය**

01. මෙම කියමන් හරි නම්  $\sqrt{\quad}$  ලකුණ ද වැරදි නම්  $\times$  ලකුණ ද යොදන්න.

1. ආහාර ගැනීමේදී අන් අයගේ පිහන් වලට අත්දැමීම හොඳ පුරුද්දකි. ( )
2. තම ගෙවත්තේම අවශ්‍ය බෝග වගා කිරීම සුදුසුයි. ( )
3. වාහනයකින් කළු දුන් පිටවීම නිසා පරිසරය පිරිසිදු වේ. ( )
4. ජාතික ගීය ගායනා කරන විට සිරුවෙන් සිටිය යුතුය. ( )
5. මිතුරෙකුට ක්ලාන්තයක් සෑදුනු විට ඔහු වටා රොක්වීම ඉතා සුදුසුයි. ( )
6. ජාති ආගම් බේදයකින් තොරව ජාතික උත්සව සමරයි. ( )
7. ජංගම දුරකථන භාවිතා කරමින් පාරේ ගමන් කිරීම නිසා මාර්ග අනතුරු සිදුවේ. ( )
8. ගස්වැල් නිසා පස සේදී යාම සිදුවේ ( )
9. අප පාසල ඉදිරියෙන්ම ඇත්තේ ග්‍රෙගරි පාරයි. ( )
10. උදය ආහාර නොගැනීම නිසා ලෙඩ රෝග සෑදේ. ( )

2 × 10 = 20

02. ගැලපෙන පරිදි යා කරන්න.

- |                                   |                    |
|-----------------------------------|--------------------|
| 1. කඩදාසිවල සිදුරු විදීමට         | ජය ලැබේ.           |
| 2. විදුලිය තිබේදැයි බැලීමට        | ගරිරයට ගිනි ඇවිලේ. |
| 3. සාමුහිකව එකමුතු වීමෙන්         | පන්වරය             |
| 4. මහන මැෂිමට                     | ඇස් ලෙඩ            |
| 5. ගැස් ලිපෙන් ගැස් කාන්දු වීමෙන් | ටෙස්ටරය යොදා ගනී.  |
| 6. කාලීනව බෝවන රෝගයකි.            | රෝද දෙකකි.         |

2 × 6 = 12

03. A කොටසට ගැලපෙන පිළිතුර B කොටසින් තෝරා එහි අංකය ඉදිරියෙන් ලියන්න.

A කොටස	B කොටස
1. පැන්සලක් උල් කිරීම	1. තක්කාලි
2. ශක්තිය වැඩියෙන් වැය වන ක්‍රීඩාවකි.	2. කහ ඉර භාවිතා කරයි.
3. පාර හරහා මාරු වීමට	3. කොට්ටම්බා ගස්
4. බීජ තවාන් කර පැළ ලැබේ.	4. ආඩියා ළිං
5. සෙවන ලබාගැනීමට සිටුවයි.	5. ජල විදුලි බලය
6. යාපන ප්‍රදේශයේ බහුලව ඇත.	6. කටරය
7. ජලය උපයෝගී කරගෙන නිපදවයි.	7. කඹ ඇඳීම
8. රාමසාන් උත්සවය සමරයි.	8. කුරුඳු පොතු
9. ආහාර රසවත් කරන ශාකමය කොටසකි.	9. දුම්බරිය
10. පොදු ප්‍රවාහන සේවයකි.	10. මුස්ලිම් ජනයා

2 × 10 = 20

04. වරහන් තුළ ඇති පිළිතුරු කියවා හිස්තැනට ගැලපෙන සේ ලියන්න.

- ..... පත්‍ර රාශියක් ඇති ශාකයක් වන අතර  
..... පත්‍ර බෙදී ඇති ශාකයකි. (ගස්ලබු / සියඹලා)
- රෙදි කැල්ලක් කපා ගැනීමට ..... යොදා ගන්නා අතර  
පාන් ගෙඩියක් කපා ගැනීමට ..... යොදා ගනී.  
(පිහිය / කතුර)
- දීපවාලි ..... ආගමික උත්සවයක් වන අතර පොසොන්  
උත්සවය ..... ආගමික උත්සවයකි. (බෞද්ධ / හින්දු)
- බල්ලෙක් සපා කෑ විට තුවාලය ..... ජලයෙන් සෝදා වහාම  
..... ප්‍රතිකාර කළයුතුය. (වෛද්‍ය / පිරිසිදු)
- ..... ක් ජලය දැමූවිට ගිලෙන අතර .....  
කැබැල්ලක් දැමූ විට ජලයේ පාවේ. (රිජිලේම්/ කාසියක්)

6. වාහනයක තිරිංග තද කලවිට ..... බල්බය දැල්වෙන අතර වාහනයක් හරවන විට ..... බල්බය දැල්වේ. (රතු / කහ)
7. අපි හොඳ ..... හා අනුන්ගේ සිත් ..... වන ලෙස කතා කරමු. ( සතුටු / වචන)
8. ගෙවත්තක ඇති බෙහෙත් වර්ගයකි ..... පලා වර්ගයකි ..... (ගොටුකොළ / ඉඟුරු)
9. .... පිටි සහිත ආහාරයකි..... විටමින් සී බහුල පලතුරකි. (දොඩම්/ බතල)
10. ඇණයක් ගැලවීමට ..... යොදා ගන්නා අතර කළුගල් කැඩීමට ..... යොදා ගනී. (බෝල මිටිය / අඬු මිටිය)


2 × 10 = 20

05. ප්‍රශ්න සියල්ලටම පිළිතුරු ලියන්න.



1. ජලය උරාගත් දේවල් වලින් ජලය ඉවත් කිරීමට කළහැකි දේවල් 2 ක් ලියන්න.
  1. ....
  2. ....
2. ගෙවත්තක බෝග වගා කිරීමෙන් ඇති ප්‍රයෝජන 2 ක් ලියන්න.
  1. ....
  2. ....
3. වාහන නිසා පරිසරයක සිදුවන අහිතකර බලපෑම 2 ක් ලියන්න.
  1. ....
  2. ....
4. එදිනෙදා වැඩ පහසු කරගැනීමට නිවසේදී ඔබ පාවිච්චි කරන උපකරණ 2 ක් ලියන්න.
  1. ....
  2. ....
5. ජාතික කොඩිය ඔසවන අවස්ථා 2 ක් ලියන්න.
  1. ....
  2. ....

06. මෙම රූප නම් කරන්න.

1.



2.



4.

