

ශ්‍රී ලංකා විභාග දෙපාර්තමේන්තුව ශ්‍රී ලංකා විභාග දෙපාර්තමේන්තුව ශ්‍රී ලංකා විභාග දෙපාර්තමේන්තුව ශ්‍රී ලංකා විභාග දෙපාර්තමේන්තුව ශ්‍රී ලංකා විභාග දෙපාර්තමේන්තුව
 இலங்கைப் பரீட்சைத் திணைக்களம் இலங்கைப் பரීட்சைத் திணைக்களம் இலங்கைப் பரීட்சைத் திணைக்களம் இலங்கைப் பரීட்சைத் திணைக்களம் இலங்கைப் பரීட்சைத் திணைக்களம்
 Department of Examinations, Sri Lanka Department of Examinations, Sri Lanka Department of Examinations, Sri Lanka Department of Examinations, Sri Lanka Department of Examinations, Sri Lanka

අධ්‍යයන පොදු සහතික පත්‍ර (උසස් පෙළ) විභාගය, 2012 අගෝස්තු
 கல்விப் பொதுத் தராதரப் பத்திர(உயர் தர)ப் பரீட்சை, 2012 ஓகஸ்ட்
 General Certificate of Education (Adv. Level) Examination, August 2012

නව නිර්දේශය
 புதிய பாடத்திட்டம்
 New Syllabus

ඉතිහාසය II (I කොටස)
 வரலாறு II (பகுதி I)
 History II (Part I)

25-A T II

පැය තුනයි
 மூன்று மணித்தியாலம்
 Three hours

இந்திய வரலாறு - ஆதி காலம் முதல் கி.பி 1206 வரை

சுட்டெண்:

அறிவுறுத்தல்கள்:

- * இவ்வினாத்தாளில் 40 வினாக்கள் உள்ளன. எல்லா வினாக்களுக்கும் இவ்வினாப்பத்திரத்தில் விடை எழுதுக.
- * ஒவ்வொரு வினா தொடர்பாகவும் ஐவைந்து விடைகள் தரப்பட்டுள்ளன. அவற்றுள் ஒன்று சரியானது.
- * ஒரு வினாவுக்கும் உரிய சரியான விடையைத் தெரிவுசெய்த பின் அதனை இப்பத்திரத்திலேயே அறிவுறுத்தல்களுக்கமைய குறிப்பிடுக.
- * இவ்வினாப்பத்திரத்திற்கு 40 புள்ளிகள் வழங்கப்படும்.
- * உமது விடைத்தாள்களை ஒப்படைக்கும் பொழுது பகுதி I இற்கான விடைகளை எழுதிய பின்னர், அதனைப் பகுதி II இற்கான விடைத்தாள்தான் இணைத்து ஒப்படைக்க வேண்டும். இரண்டு பகுதிகளுக்கும் வழங்கப்பட்டுள்ள நேரம் மூன்று மணித்தியாலமாகும்.

பகுதி I

● 1 - 10 வரையுள்ள வினாக்கள் ஒவ்வொன்றிலும் ஐந்து பெயர்கள் வீதம் தரப்பட்டுள்ளன. அப்பெயர்களுள் ஒன்று ஏதோ காரணத்தினால் ஏனையவற்றுடன் பொருந்தாது. பொருந்தாத அப்பெயரை இனங்கண்டு அதன் இலக்கத்தைப் புள்ளிக் கோட்டில் எழுதுக.

- | | | |
|---|--|-------------------------------------|
| 1. (1) சதுர்வேதம்
(4) உபநிஷதங்கள் | (2) பிராமணங்கள்
(5) புராணங்கள் | (3) ஆரண்யங்கள்
(.....) |
| 2. (1) ரூபார்
(4) சன்ஹுதாரோ | (2) ஹரப்பா
(5) மொஹெஞ்சதாரோ | (3) இந்திரப்பிரஸ்தம்
(.....) |
| 3. (1) விதேக
(4) கோலிய | (2) அவந்தி
(5) லிச்சவி | (3) மல்ல
(.....) |
| 4. (1) டி.மெத்திரியஸ்
(4) குஜால கடபிஸ | (2) மேநாந்தர்
(5) ஹேர்மாயுஸ் | (3) முதலாம் ஸ்ந்ரேந்ரோ
(.....) |
| 5. (1) கார்ளே
(4) மதுரா | (2) அஜந்தா
(5) உதயகிரி | (3) எல்லோரா
(.....) |
| 6. (1) சாகுந்தல
(4) மாலவிகாக்கிமித்திர | (2) நாகநந்த
(5) மிருச்சகடிக | (3) மேகதூத
(.....) |
| 7. (1) சிமுக
(4) விந்தியசக்தி | (2) முதலாம் சாதகர்னி
(5) யக்ஷுஸ் சாதகர்னி | (3) கௌதம்பத்திர சாதகர்னி
(.....) |
| 8. (1) உக்ரசேன
(4) சிங்கவிஷ்ணு | (2) மகேந்திர
(5) விஷ்ணுகோப | (3) வியாக்ரராஜ
(.....) |
| 9. (1) தர்மபால
(4) இரண்டாம் புலிகேசி | (2) ஸஸாங்க
(5) இரண்டாம் துருவசேனன் | (3) ஹர்ஷவர்த்தன
(.....) |
| 10. (1) வசுமித்திர
(4) நாகர்ஜுன் | (2) அஸ்வகோஷ
(5) வான்மீகி | (3) வசுபந்து
(.....) |

● 11 - 15 வரையுள்ள வினாக்கள் ஒவ்வொன்றிலும் ஐந்து சோடிப் பெயர்கள் தரப்பட்டுள்ளன. அவற்றுள் ஒரு சோடியிலுள்ள பெயர்கள் ஒன்றுடனொன்று பொருந்தவில்லை. பொருந்தாத அச்சோடியைத் தெரிந்து அதன் இலக்கத்தைப் புள்ளிக் கோட்டின் மீது எழுதுக.

11. (1) மாமல்புரத்து ரதங்கள் - பல்லவர்
 (2) கஜுராஹோ கந்தர்ய மகாதேவர் கோயில் - வாகடகர்
 (3) எல்லோரா கைலாசநாதர் கோயில் - இராஷ்டிரகூடர்
 (4) தஞ்சாவூர் பிருகதீஸ்வரர் கோயில் - சோழர்
 (5) வேலூர் சென்னகேஸ்வரர் கோயில் - ஹொய்சளர் (.....)
12. (1) பாணினி - அஷ்டாத்யாயி
 (2) விஸாகதத்தர் - முத்ரராக்ஷஸ
 (3) பாரவி - கிராதார்ஜுனீயம்
 (4) தண்டி - தசகுமாரசரிதம்
 (5) ஆர்யபட்டர் - பிருஹத்சம்ஹிதா (.....)
13. (1) தேவகிரி - யாதவர்
 (2) துவாரசமுத்திரம் - ஹொய்சளர்
 (3) குஜராத் - பரமாஹர்
 (4) கல்யாணி - மேலைச்சாளுக்கியர்
 (5) வரங்கல் - காகதீயர் (.....)
14. (1) விந்துசாரன் - அமித்ரகாத
 (2) சமுத்திரகுப்தன் - கவிராஜன்
 (3) இரண்டாம் சந்திரகுப்தன் - விக்ரமாதித்தன்
 (4) ஹர்ஷவர்த்தனன் - மௌகரி
 (5) இரண்டாம் புலிகேசி - பரமேஸ்வரன் (.....)
15. (1) சுப்பாரக - தப்தி
 (2) வாரணாசி - கங்கை
 (3) பாருகச்சம் - நர்மதை
 (4) இந்திரப்பிரஸ்தம் - யமுனை
 (5) பிரதிஸ்தானம் - கோதாவரி (.....)

● 16 - 20 வரையுள்ள ஒவ்வொரு வினாவிலும் சில பெயர்கள்/ திகதிகள்/ கூற்றுக்கள் என்பவற்றின் தொகுதிகள் X, Y என்னும் நிரல்களில் தரப்பட்டுள்ளன. Y நிரலில் தரப்பட்டுள்ள பெயர்கள்/ திகதிகள்/ கூற்றுக்கள் X நிரலில் தரப்பட்டுள்ளவற்றுடன் ஏதோ ஒரு வகையிலே தொடர்புபட்டவை. ஆனால் அவை சரியான தொடர் ஒழுங்கிலே தரப்படவில்லை. X நிரலில் உள்ளவற்றை Y நிரலிற்கேற்பச் சரியாக ஒழுங்குபடுத்தும்போது கீழே தரப்பட்டுள்ள ஐந்து சேர்மானங்களுள் ஒன்று சரியானதாகும். சரியான சேர்மானத்தைத் தெரிவுசெய்து அதன் இலக்கத்தைப் புள்ளிக் கோட்டில் எழுதுக.

16. X Y
 (i) கௌதம்பத்திர சாதகர்னி A ஹதிகும்பா
 (ii) இரண்டாம் புலிகேசி B மஸ்கி
 (iii) அசோகன் C ஐகொளே
 (iv) காரவேல D பித்தாரி
 (v) ஸகந்தகுப்தன் E நாஸிக்
 (1) A D C B E (2) B E D C A (3) C A E D B (4) D B A E C (5) E C B A D (.....)
17. X Y
 (i) டேய்மாக்கோஸ் A புஷ்யமித்திர சுங்க
 (ii) தண்டி B விந்துசாரன்
 (iii) ஃபா-கியான் C ஹர்ஷவர்த்தனன்
 (iv) கியூங்-ஸாங் D இரண்டாம் சந்திரகுப்தன்
 (v) பதஞ்சலி E இரண்டாம் நரசிம்மவர்மன்
 (1) A D C B E (2) B E D C A (3) C A E D B (4) D B A E C (5) E C B A D (.....)

18. X Y
- (i) சிம்மவிஷ்ணு A இரண்டாம் நாகப்பட்டன்
(ii) வத்ஸராஜ B சமுத்திரகுப்தன்
(iii) விந்துசார C மகேந்திரவர்மன்
(iv) ஸ்கந்தகுப்த D பூருகுப்த
(v) முதலாம் சந்திரகுப்தன் E அசோகன்
- (1) A D C B E (2) B E D C A (3) C A E D B (4) D B A E C (5) E C B A D (.....)

19. X Y
- (i) சார்த்தவாஹ A இரண்டாம் சந்திரகுப்தனின் மகள்
(ii) தேவி சந்திரகுப்தம் B ஒரு நாடகம்
(iii) பிரபாவதி தேவி C சுங்கவரி
(iv) மஹாதண்டநாயக D வணிகர் தலைவன்
(v) சுல்க E பிரதம தளபதி
- (1) A D C B E (2) B E D C A (3) C A E D B (4) D B A E C (5) E C B A D (.....)

20. X Y
- (i) இலக்கணம் A சூர்ய சித்தாந்தம்
(ii) வானியல் B ராஜதரங்கினி
(iii) மெய்யியல் C மகாபாஷ்யம்
(iv) இதிகாச காவியம் D ரகுவம்சம்
(v) வரலாறு E சாங்கிய சூத்திரம்
- (1) A D C B E (2) B E D C A (3) C A E D B (4) D B A E C (5) E C B A D (.....)

● 21 - 25 வரையுள்ள ஒவ்வொரு வினாவுக்கும் சரியான விடையைத் தெரிவுசெய்து அதற்குரிய இலக்கத்தைப் புள்ளிக் கோட்டின் மீது எழுதுக

21. பெருங் குளிப்பறையின் அடையாளங்கள் சிந்துவெளியிலுள்ள எந்த நகரத்தில் உள்ளன ?
- (1) கலிபங்கன் (2) ரூபார் (3) ஹரப்பா
(4) மொகெஞ்சதாரோ (5) சன்குதாரோ (.....)
22. அசோகன், அவனுடைய தந்தை இறந்தபோது எந்த நகரத்தில் இராசப்பிரதிநிதியாக இருந்தான் ?
- (1) தக்ஷசீலம் (2) உஜ்ஜயினி (3) தோசலி
(4) தெளலி (5) சுவர்ணகிரி (.....)
23. பௌத்த அறிஞரான வசமித்திரரின் சமகாலத்தவர் யார் ?
- (1) அசோகன் (2) மெநாந்தர் (3) கனிஷ்கன்
(4) ஹர்ஷவர்த்தனன் (5) தர்மபாலன் (.....)
24. அரசியல் பண்பாட்டைத் தென்னிந்தியாவில் அறிமுகஞ் செய்தவர் என்று கொள்ளப்படுபவர்:
- (1) வான்மீசி (2) விஸ்வமித்திரர் (3) வசபந்து
(4) பரதர் (5) அகஸ்தியர் (.....)
25. மும்முடிச் சோழன் என்ற பெயரைக் கொண்ட அரசனின் பெயரைக் குறிப்பிடுக.
- (1) முதலாம் ஆதித்தன் (2) முதலாம் பராந்தகன் (3) முதலாம் ராஜராஜன்
(4) முதலாம் ராஜேந்திரன் (5) முதலாம் குலோத்துங்கன் (.....)

- 26 - 30 வரையுள்ள எல்லா வினாக்களுக்கும் ஒரு தலைப்பின் கீழ் ஐந்து விடயங்கள் வீதம் தரப்பட்டுள்ளன. அவ்விடயங்களுள் ஒன்று உரிய தலைப்பிற்குப் பொருந்தாதுள்ளது. அப்பொருந்தாததைத் தெரிவு செய்து அதன் இலக்கத்தைப் புள்ளிக் கோட்டின் மீது எழுதுக.

26. புராதன இந்திய வரலாற்றை உருவாக்குவதில் சாசனங்களின் முக்கியத்துவம்

- (1) அரசுகளின் எல்லைகளை வரையறை செய்வதற்கு அவை உதவுகின்றன.
- (2) குறிப்பிட்ட காலத்து எழுத்து முறையினை அவற்றின் மூலம் அறிய முடிகின்றது.
- (3) சில பிரதானமான இடங்களை அடையாளம் காண்பதற்கு அவை பயன்படுகின்றன.
- (4) காலநிர்ணயத்திற்கு அவை ஆதாரமாகின்றன.
- (5) அவற்றில் எப்பொழுதும் ஆதாரபூர்வமான சரியான விபரங்கள் காணப்படும். (.....)

27. ஹரப்பா நகரம்

- (1) அந்த நகரம் ஒரு திட்டத்தின்படி அமைக்கப்பட்டது.
- (2) பெருங் கட்டடங்கள் உருளைத் தூண்களோடு அமைக்கப்பட்டன.
- (3) அரண் செய்தபகுதி, பட்டினம் என்னும் இரு பிரிவுகள் அதிற் காணப்பட்டன.
- (4) தெருக்கள் விசாலமானவை. அவை 4 - 10 வரையான மீற்றர் அகலங் கொண்டவை.
- (5) நகரத்தில் ஒரு சிறப்பமான நீர்வடிகால்முறை இருந்தது. (.....)

28. தென்னிந்தியாவும் மௌரியரும்

- (1) தென்னிந்தியாவில், மௌரியருக்குப் பிற்பட்ட காலத்திலும் சேர, சோழ, பாண்டியர் சுதந்திரமான அரசர்களாவர்.
- (2) சி. பி. இரண்டாம் நூற்றாண்டுச் சோழ மன்னர்களின் கரிகாலன் சிறப்புமிக்க ஒருவன்.
- (3) சேரர், குப்தப் பேரரசுடன் நெருக்கமான வாணிபத் தொடர்புகளைக் கொண்டிருந்தனர்.
- (4) பாண்டிய தேசத்திலே பெண் ஒருத்தி அரசு புரிந்தாளென்று சமகாலத்து மேனாட்டு நூலாசிரியர் ஒருவர் கூறியுள்ளார்.
- (5) புலவர்களின் மூன்று அவையான சங்கங்கள் பாண்டிய மன்னரின் ஆதரவிலே கூடின. (.....)

29. குப்தர் காலச் சமயநிலை

- (1) குப்த மன்னர்கள் இந்து சமயத்திலே தீவிரமான அபிமானம் கொண்டவர்கள்.
- (2) குப்தர் காலத்திற் பழமையான, பிராமணர் சார்ந்த நெறி இந்து சமயமாக மாற்றம் பெற்றது.
- (3) இக்காலத்திலே பிரம்மா, விஷ்ணு, சிவன் ஆகிய கடவுளர் முதன்மை பெற்றனர்.
- (4) சமணம், பௌத்தம் ஆகியவற்றை குப்த மன்னர்கள் அடக்கினார்கள்.
- (5) இந்து சமயம் சார்ந்த கடவுளர் வழிபாடு மக்களின் ஆதரவைப் பெற்றது. (.....)

30. கூணர் படையெடுப்புகளின் விளைவுகள்

- (1) வட இந்தியாவின் ஒற்றுமையினைச் சீர்குலைத்தனர்.
- (2) இந்தியரின் செல்வங்களைச் சூறையாடினார்கள்.
- (3) அதன்பின் அவர்கள் வடஇந்தியாவின் முதன்மை அரசராகினர்.
- (4) காஷ்மீரத்துப் பௌத்தப் பள்ளிகளும் கோயில்களும் அவர்களால் அழிக்கப்பட்டன.
- (5) கூணர் இந்திய சமுதாயத்தோடு கலப்புற்றதால் புதிய சாதிகள் தோன்றின. (.....)

ශ්‍රී ලංකා විභාග දෙපාර්තමේන්තුව ශ්‍රී ලංකා විභාග දෙපාර්තමේන්තුව ශ්‍රී ලංකා විභාග දෙපාර්තමේන්තුව ශ්‍රී ලංකා විභාග දෙපාර්තමේන්තුව ශ්‍රී ලංකා විභාග දෙපාර්තමේන්තුව
 இலங்கைப் பரீட்சைத் திணைக்களம் இலங்கைப் பரීட்சைத் திணைக்களம் இலங்கைப் பரීட்சைத் திணைக்களம் இலங்கைப் பரීட்சைத் திணைக்களம் இலங்கைப் பரීட்சைத் திணைக்களம்
 Department of Examinations, Sri Lanka Department of Examinations, Sri Lanka Department of Examinations, Sri Lanka Department of Examinations, Sri Lanka Department of Examinations, Sri Lanka

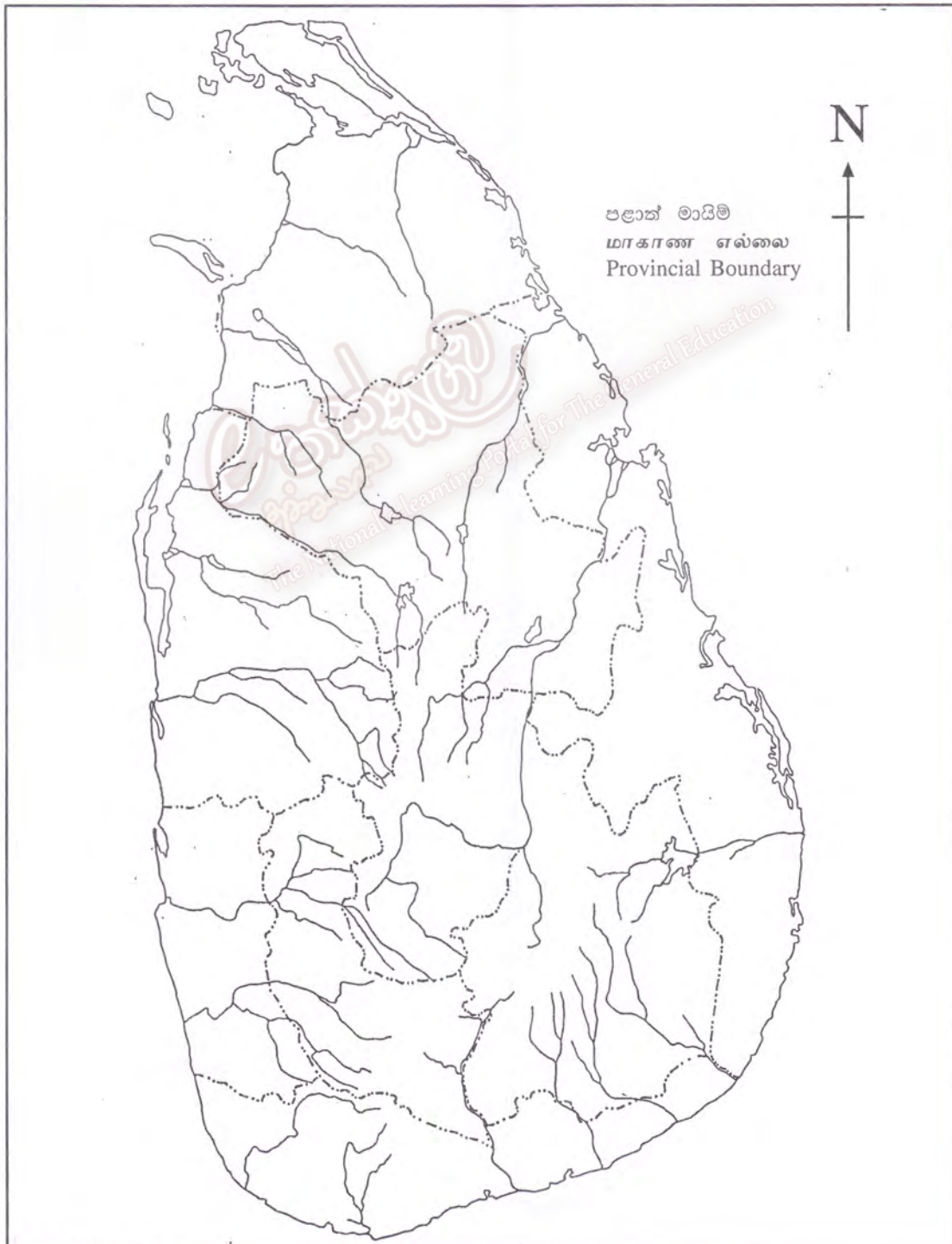
අධ්‍යයන පොදු සහතික පත්‍ර (උසස් පෙළ) විභාගය, 2012 අගෝස්තු
 கல்விப் பொதுத் தராதரப் பத்திர(உயர் தர)ப் பரீட்சை, 2012 ஓகஸ்தர்
 General Certificate of Education (Adv. Level) Examination, August 2012

නව නිර්දේශය
 புதிய பாடத்திட்டம்
 New Syllabus

ඉතිහාසය	I	25	T
வரலாறு	I		
History	I		

ප්‍රශ්න අංකය } 01
 வினா இல. }
 Question No. }

විභාග අංකය }
 சுட்டுஎண் }
 Index No. }



සියලු ම හිමිකම් ඇවිරිණි / முழுப் பதிப்புரிமையுடையது / All Rights Reserved]

ශ්‍රී ලංකා විභාග දෙපාර්තමේන්තුව ශ්‍රී ලංකා විභාග දෙපාර්තමේන්තුව ශ්‍රී ලංකා විභාග දෙපාර්තමේන්තුව ශ්‍රී ලංකා විභාග දෙපාර්තමේන්තුව ශ්‍රී ලංකා විභාග දෙපාර්තමේන්තුව
இலங்கைப் பரீட்சைத் திணைக்களம் இலங்கைப் பரීட்சைத் திணைக்களம் இலங்கைப் பரීட்சைத் திணைக்களம் இலங்கைப் பரීட்சைத் திணைக்களம் இலங்கைப் பரීட்சைத் திணைக்களம்
Department of Examinations, Sri Lanka Department of Examinations, Sri Lanka Department of Examinations, Sri Lanka Department of Examinations, Sri Lanka Department of Examinations, Sri Lanka

අධ්‍යයන පොදු සහතික පත්‍ර (උසස් පෙළ) විභාගය, 2012 අගෝස්තු
கல்விப் பொதுத் தராதரப் பத்திர(உயர் தர)ப் பரீட்சை, 2012 ஓகஸ்த்
General Certificate of Education (Adv. Level) Examination, August 2012

නව නිර්දේශ
புதிய பாடத்திட்டம்
New Syllabus

ඉතිහාසය I (II කොටස)
வரலாறு I (பகுதி II)
History I (Part II)

25 T I

இலங்கை வரலாறு - ஆதி காலம் முதல் கி.பி 1978 வரை

அறிவுறுத்தல்கள் :

* முதலாம் வினாவுக்கும் வேறு ஏதாவது மூன்று வினாக்களுக்கும் விடை எழுதுக.

(முதலாம் வினாவுக்கு விடை அளிப்பதற்கு இலங்கையின் புறவுருவப் படம் வழங்கப்படும்).

பகுதி II

- தரப்பட்டுள்ள இலங்கைப் புறவுருவப் படத்தில் மேல்வரும் எல்லா இடங்களையும் குறித்துப் பெயரிட்டு, அவற்றுள் எவையேனும் இரண்டினைப் பற்றிச் சுருக்கமான வரலாற்றுக் குறிப்புகள் எழுதுக.
 - மாகதித்த
 - அநுராதபுரம்
 - நாச்சதூவ வாவி
 - வளவ சங்கை
 - திருகோணமலை
 - காலி
 - வலன
 - ஊவா மாகாணம்

(சரியாகக் குறித்துப் பெயரிடுவதற்கு 01 புள்ளி ; சிறுகுறிப்பு ஒவ்வொன்றுக்கும் (05 புள்ளிகள்)
- “துட்டகாமனியின் சாதனைகளை மகாவம்சம் மிகைபடப் புகழ்ந்துள்ளது”.
 - துட்டகாமனியின் சாதனைகளை வர்ணிக்கவும் மகாவம்சத்தின் ஆசிரியரின் பெயரைக் குறிப்பிடுக. (01 புள்ளி)
 - துட்டகாமனிக்கு முன் மாகமவில் ஆட்சி புரிந்த அரசர் இருவரின் பெயர்களைக் குறிப்பிடுக. (02 புள்ளிகள்)
 - துட்டகாமனியின் அரசியற் சாதனை பற்றி ஒரு சுருக்கமான கட்டுரை எழுதுக. (04 புள்ளிகள்)
 - மகாவம்ச ஆசிரியர் எவ்வாறு துட்டகாமனியின் சாதனைகளை மிகைபடப் புகழ்ந்துள்ளார் என்பதை ஆராய்க. (07 புள்ளிகள்)
- மகாசேனனின் ஆட்சிக் காலம் முதல் இரண்டாம் அக்கிரபோதியின் ஆட்சி முடிபுறும் வரை இலங்கையில் நீர்ப்பாசன முறை வளர்ந்தவாற்றைச் சுருக்கமாகப் பரிசீலனை செய்க. (14 புள்ளிகள்)
- முதலாம் பராக்கிரமபாகுவின் கொள்கைகள் பொலன்னறுவை இராச்சியத்தின் வீழ்ச்சிக்கு ஏதுவாகவிருந்தன என்ற கருத்தை ஒப்புக்கொள்வீரா ? அதற்கான காரணங்களைக் குறிப்பிடுக. (14 புள்ளிகள்)
- “இரண்டாம் பராக்கிரமபாகுவின் ஆட்சிக்காலம் இலங்கை வரலாற்றில் மிகவும் முக்கியமான ஒன்றாகும்”.
 - இரண்டாம் பராக்கிரமபாகுவிற்கு முன் ஆட்சி புரிந்த அரசனின் பெயரைக் குறிப்பிடுக. (01 புள்ளி)
 - இரண்டாம் பராக்கிரமபாகு எதிர்நோக்கிய இரண்டு சவால்களைக் குறிப்பிடுக. (02 புள்ளிகள்)
 - இரண்டாம் பராக்கிரமபாகு பௌத்த சமயத்திற்கு வழங்கிய ஆதரவினைச் சுருக்கமாகக் குறிப்பிடுக. (04 புள்ளிகள்)
 - இரண்டாம் பராக்கிரமபாகுவின் ஆட்சிக்காலம் மிகவும் முக்கியமானதாகக் கொள்ளப்படுவதற்குரிய காரணங்களை ஆராய்க. (07 புள்ளிகள்)
- இலங்கையின் கரையோர மாகாணங்களைப் போர்த்துக்கேயரும் ஒல்லாந்தரும் ஆட்சி புரிந்ததன் காரணமாகப் பண்பாட்டுத் துறையில் ஏற்பட்ட விளைவுகள் யாவை ? (14 புள்ளிகள்)
- மேல்வருவனவற்றுள் எவையேனும் இரண்டின் வரலாற்று முக்கியத்துவம் பற்றிச் சுருக்கமான குறிப்புகள் எழுதுக.
 - ஆறாம் பராக்கிரமபாகுவின் அரசியற் சாதனைகள்
 - போர்த்துக்கேயருக்கும் யாழ்ப்பாண இராச்சியத்திற்கும் இடையில் ஏற்பட்ட தொடர்புகள்
 - வலிவிறற் ஸ்ரீ சரணங்கார தேரர்
 - 1815 ஆம் ஆண்டு கண்டி ஒப்பந்தம்
 - இருபதாம் நூற்றாண்டின் இரண்டாம் அரைப் பகுதியில் ஏற்பட்ட சமய மறுமலர்ச்சி

(ஒன்றிற்கு 07 புள்ளிகள்)
- அரசியலமைப்பு, நிர்வாகம், நீதிப்பரிபாலனம் என்பன தொடர்பாகக் கோல்புறாக் கமெரன் ஆணைக்குழுவினர் சொன்ன பரிந்துரைகளைப் பரிசீலனை செய்க. (14 புள்ளிகள்)
- ஒன்றில் (A) பகுதிக்கு அல்லது (B) பகுதிக்கு மட்டும் விடை எழுதுக.

(A) சோல்பரி அரசியலமைப்பின் பிரதானமான அம்சங்களை விளக்குக. (14 புள்ளிகள்)

அல்லது

(B) 1956 ஆம் ஆண்டுப் பொதுத் தேர்தலின் முக்கியத்துவத்தை விளக்குக. (14 புள்ளிகள்)

සියලු ම හිමිකම් ඇවිරිණි / முழுப் பதிப்புரிமையுடையது / All Rights Reserved

ශ්‍රී ලංකා විභාග දෙපාර්තමේන්තුව ශ්‍රී ලංකා විභාග දෙපාර්තමේන්තුව ශ්‍රී ලංකා විභාග දෙපාර්තමේන්තුව ශ්‍රී ලංකා විභාග දෙපාර්තමේන්තුව ශ්‍රී ලංකා විභාග දෙපාර්තමේන්තුව
இலங்கைப் பரீட்சைத் திணைக்களம் இலங்கைப் பரீட்சைத் திணைக்களம் இலங்கைப் பரීட்சைத் திணைக்களம் இலங்கைப் பரීட்சைத் திணைக்களம் இலங்கைப் பரීட்சைத் திணைக்களம்
Department of Examinations, Sri Lanka Department of Examinations, Sri Lanka Department of Examinations, Sri Lanka Department of Examinations, Sri Lanka Department of Examinations, Sri Lanka

අධ්‍යයන පොදු සහතික පත්‍ර (උසස් පෙළ) විභාගය, 2012 අගෝස්තු
கல்விப் பொதுத் தராதரப் பத்திர(உயர் தர)ப் பரீட்சை, 2012 ஓகஸ்ட்
General Certificate of Education (Adv. Level) Examination, August 2012

නව නිර්දේශය
புதிய பாடத்திட்டம்
New Syllabus

ඉතිහාසය II (II කොටස)
வரலாறு II (பகுதி II)
History II (Part II)

25-A T II

இந்திய வரலாறு - ஆதி காலம் முதல் கி.பி 1206 வரை

அறிவுறுத்தல்கள்:

* முதலாம் (1) வினாவுக்கும் ஏனையவற்றுள் மூன்று வினாக்களுக்கும் விடை எழுதுக.

(முதலாம் வினாவுக்கு விடையளிப்பதற்கு இந்தியாவின் புறவுருவப்படம் ஒன்று வழங்கப்படும்).

பகுதி II

- கீழே தரப்பட்ட எல்லா இடங்களையும் தரப்பட்ட படத்தில் குறித்துப் பெயரிட்டு, அவற்றுள் எவையேனும் இரண்டினைப் பற்றி வரலாற்றுக் குறிப்புகள் எழுதுக.
 - கைபர் கணவாய்
 - பாருக்ச்ச
 - புருஷ்பரம்
 - காவேரி ஆறு
 - விந்தியமலை
 - தஞ்சாவூர்
 - பாடலிபுத்திர
 - லொதால்

(சரியாகக் குறித்துப் பெயரிடுவதற்கு 01 புள்ளி ; சிறுகுறிப்பு ஒவ்வொன்றுக்கும் 05 புள்ளிகள்)
- புராதன இந்திய வரலாற்றை வடமேற்கிலுள்ள மலையிடைப் பாதைகள் எவ்வாறு பாதித்தன என்பதை விளக்குக. (14 புள்ளிகள்)
- ஹரப்பா நாகரிகத்துச் சமூக, பொருளாதார நிலைகளை ஆராய்க. (14 புள்ளிகள்)
- பிந்திய வேதகால மக்களின் சமய, அரசியல் நிலைகளின் பிரதானமான அம்சங்கள் யாவை ? (14 புள்ளிகள்)
- “மௌரியப் பேரரசின் மன்னரில் அசோகனே மிகச் சிறந்தவன்”.
 - மௌரிய வம்சத்தின் ஸ்தாபகன் யார் ? (01 புள்ளிகள்)
 - அசோகனது வரலாற்றைப் படித்தற்கான இலக்கிய மூலங்கள் இரண்டினைக் குறிப்பிடுக. (02 புள்ளிகள்)
 - மௌரியப் பேரரசு எழுச்சி பெறுவதற்கு ஏதுவான காரணங்களைப் பற்றிச் சுருக்கமாக விளக்குக. (03 புள்ளிகள்)
 - அசோகனது அரசியல், பண்பாட்டுச் சாதனைகளின் அடிப்படையில் மேலே தரப்பட்டுள்ள கூற்றினை ஆராய்க. (08 புள்ளிகள்)
- (அ) பகுதிக்கு அல்லது (ஆ) பகுதிக்கு மட்டும் விடை எழுதுக.
 - இந்தோ கிரேக்கரதும் சகரதும் படையெடுப்புகள் பற்றி ஒரு சுருக்கமான கட்டுரை எழுதுக. (14 புள்ளிகள்)
 - தக்கிணத்திற் சாதவாகன மன்னர்கள் ஏற்படுத்திய சாதனைகளை ஆராய்க. (14 புள்ளிகள்)
- “குப்த பேரரசின் வீழ்ச்சிக்கு ஏதுவான காரணங்களிலே ஹூணர் படையெடுப்புப் பிரதானமானது”. இக்கூற்றினை ஆராய்க. (14 புள்ளிகள்)
- சோழரது நிர்வாக முறையின் பிரதானமான அம்சங்களைப் பரிசீலனை செய்க. (14 புள்ளிகள்)
- கி.பி. 1206 வரை இந்தியா மீது ஏற்பட்ட துருக்கிய-ஆஃப்கானிய படையெடுப்புகள் பற்றி ஒரு சுருக்கமான கட்டுரை எழுதுக. (14 புள்ளிகள்)

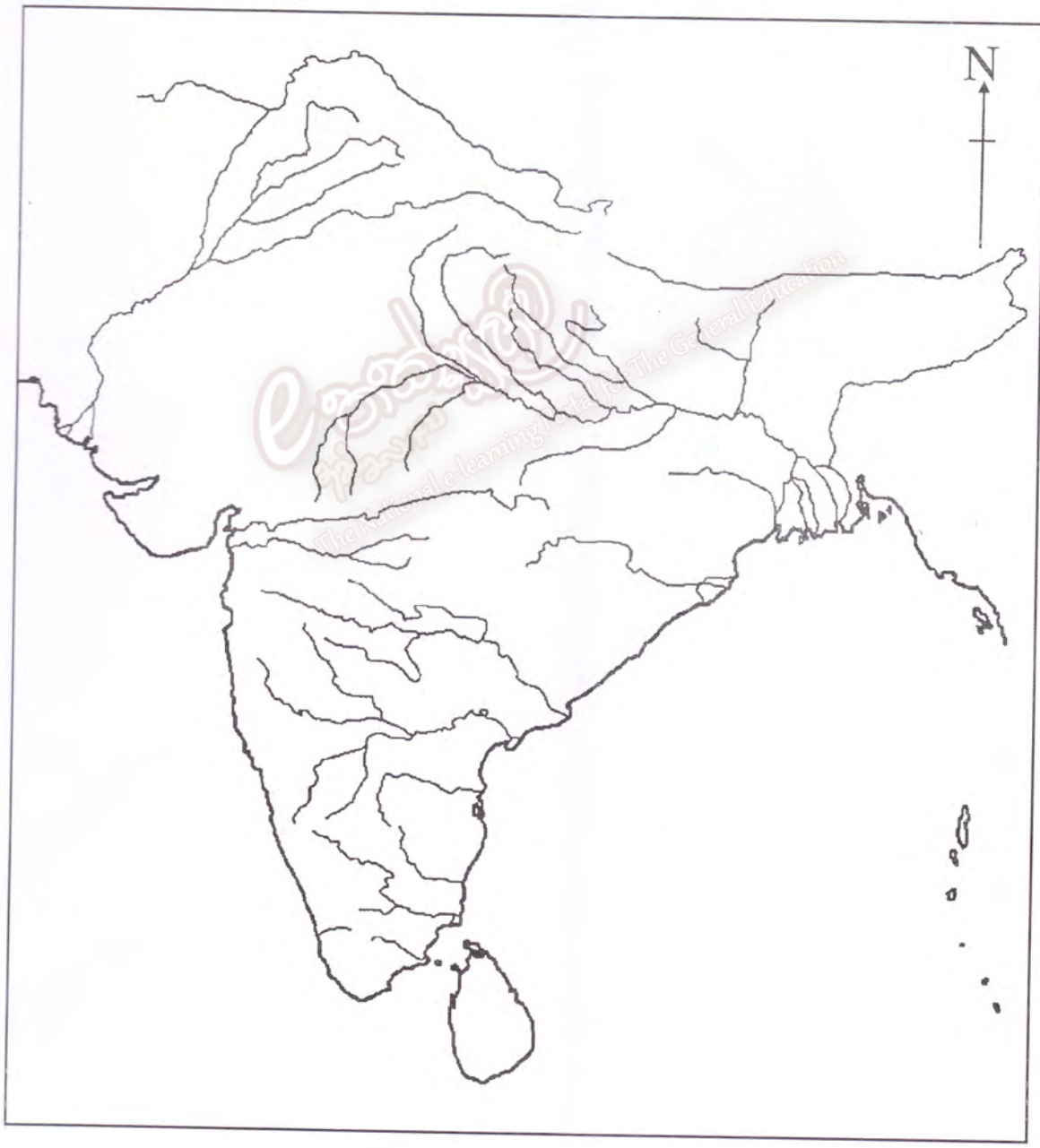
ශ්‍රී ලංකා විභාග දෙපාර්තමේන්තුව ශ්‍රී ලංකා විභාග දෙපාර්තමේන්තුව ශ්‍රී ලංකා විභාග දෙපාර්තමේන්තුව ශ්‍රී ලංකා විභාග දෙපාර්තමේන්තුව ශ්‍රී ලංකා විභාග දෙපාර්තමේන්තුව
 இலங்கைப் பரீட்சைத் திணைக்களம் இலங்கைப் பரීட்சைத் திணைக்களம் இலங்கைப் பரීட்சைத் திணைக்களம் இலங்கைப் பரීட்சைத் திணைக்களம் இலங்கைப் பரීட்சைத் திணைக்களம்
 Department of Examinations, Sri Lanka Department of Examinations, Sri Lanka Department of Examinations, Sri Lanka Department of Examinations, Sri Lanka Department of Examinations, Sri Lanka

අධ්‍යයන පොදු සහතික පත්‍ර (උසස් පෙළ) විභාගය, 2012 අගෝස්තු
 கல்விப் பொதுத் தராதரப் பத்திர(உயர் தர)ப் பரீட்சை, 2012 ஓகஸ்ட்
 General Certificate of Education (Adv. Level) Examination, August 2012

නව නිර්දේශය
 புதிய பாடத்திட்டம்
 New Syllabus

ඉතිහාසය	II	25-A	T
வரலாறு	II		
History	II		

ප්‍රශ්න අංකය විනා ඉ.ල. Question No. } 01	විභාග අංකය சுட்டுஎண் Index No. }
--	--



ලංකා විභාග දෙපාර්තමේන්තුව ශ්‍රී ලංකා විභාග දෙපාර්තමේන්තුව ශ්‍රී ලංකා විභාග දෙපාර්තමේන්තුව විභාග දෙපාර්තමේන්තුව ශ්‍රී ලංකා විභාග දෙපාර්තමේන්තුව
 இலங்கைப் பரீட்சைத் திணைக்களம் இலங்கைப் பரීட்சைத் திணைக்களம் இலங்கைப் பரීட்சைத் திணைக்களம் இலங்கைப் பரීட்சைத் திணைக்களம் இலங்கைப் பரීட்சைத் திணைக்களம்
 Department of Examinations, Sri Lanka Department of Examinations, Sri Lanka Department of Examinations, Sri Lanka Department of Examinations, Sri Lanka Department of Examinations, Sri Lanka

3623

අධ්‍යයන පොදු සහතික පත්‍ර (උසස් පෙළ) විභාගය, 2012 අගෝස්තු
கல்விப் பொதுத் தராதரப் பத்திர(உயர் தர)ப் பரீட்சை, 2012 ஓகஸ்த்
General Certificate of Education (Adv. Level) Examination, August 2012

නව නිර්දේශ
புதிய பாடத்திட்டம்
New Syllabus

ඉතිහාසය I (I කොටස)
 வரலாறு I (பகுதி I)
 History I (Part I)

25 T I

පැය තුනයි
 மூன்று மணித்தியாலம்
 Three hours

இலங்கை வரலாறு - ஆதி காலம் முதல் கி.பி 1978 வரை

சுட்டெண்:

මුக்கියම:

- * இவ்வினாத்தாளில் 40 வினாக்கள் உள்ளன. எல்லா வினாக்களுக்கும் இவ்வினாப்பத்திரத்தில் விடை எழுதுக.
- * ஒவ்வொரு வினா தொடர்பாக ஐவ்வந்து விடயங்கள் தரப்பட்டுள்ளன. அவற்றுள் ஒன்று சரியானது. ஒரு வினாவின் சரியான விடையைத் தெரிவு செய்தவுடன் அதனை இங்கு குறிப்பிடப்பட்ட அறிவுறுத்தல்களுக்கமைய உமது விடையைக் குறித்துக் காட்டுக.
- * இப்பகுதிக்கு 40 புள்ளிகள் வழங்கப்படும்.
- * உமது விடைத்தாள்களை ஒப்படைக்கும் பொழுது பகுதி I இற்கான விடைகளை எழுதிய பின்னர், பகுதி II இற்கான விடைத்தாளுடன் இணைத்து ஒப்படைக்க வேண்டும். இரண்டு பகுதிகளுக்கும் வழங்கப்பட்டுள்ள நேரம் மூன்று மணித்தியாலமாகும்.

பகுதி I

● 1 - 5 வரையுள்ள வினாக்கள் ஒவ்வொன்றிலும் ஐந்து பெயர்கள் வீதம் தரப்பட்டுள்ளன. அப்பெயர்களுள் ஒன்று ஏதோ காரணத்தினால் ஏனையவற்றுடன் பொருந்தாது. பொருந்தாத அப்பெயரை இனங்கண்டு அதன் இலக்கத்தை அடைப்புக்குள் புள்ளிக் கோட்டில் எழுதுக.

1. (1) தீபவம்சம் (2) மகாவம்சம் (3) ஹரிவம்சம்
 (4) தூபவம்சம் (5) போதிவம்சம் (.....)
2. (1) பராக்கிரம சமுத்திரம் (2) கவுடுலு வாவி (3) கிரிதலே வாவி
 (4) கந்தளாய் வாவி (5) மின்னேரி வாவி (.....)
3. (1) இத்திய (2) உத்திய (3) சம்பல
 (4) பத்தசால (5) மகாநாம (.....)
4. (1) தந்துரேப் போர் (2) வெல்லஸப் போர் (3) வலனப் போர்
 (4) ரந்தெனிவலப் போர் (5) கன்னொறுவப் போர் (.....)
5. (1) நொபேர்ட் ப்றவுணர்ரிக் (2) எட்வர்ட் பார்ண்ஸ் (3) சார்ள்ஸ் கமெரன்
 (4) ஜோர்ஜ் அண்டேர்லன் (5) அண்ட்ரா கல்டிகொட் (.....)

● 6 - 10 வரையுள்ள வினாக்கள் ஒவ்வொன்றிலும் ஐந்து சோடியப் பெயர்கள் தரப்பட்டுள்ளன. அவற்றுள் ஒரு சோடியிலுள்ள பெயர்கள் ஒன்றுடன் ஒன்று பொருந்தவில்லை. பொருந்தாத அச்சோடியை இனங்கண்டு அதன் இலக்கத்தைப் புள்ளிக் கோட்டில் எழுதுக.

6. (1) சிறிசங்கபோதி - சத்தாதிஸ்ஸ
 (2) கஜவாகு காமனி - முதலாம் கஜவாகு
 (3) மேகவண்ண அபய - கோட்டாபய
 (4) லமணி வோனா முகலன் - மூன்றாம் முகலன்
 (5) காலிங்க விஜயபாகு - மாகன் (.....)
7. (1) கண்டி இராச்சியத்தின் முதலாவது அரசன் - சேனாசம்மத விக்ரமபாகு
 (2) முதலாவது போர்த்துக்கேய கப்பித்தான் ஜெனரால் - பேதுரு லோபேஸ் டி குஸா
 (3) முதலாவது ஒல்லாந்த தேசாதிபதி - விலெம் ஜெ. கொஸ்தர்
 (4) முதலாவது பிரத்தானிய தேசாதிபதி - ஃபிறெடெறிக் நோர்த்
 (5) முதலாவது நிறைவேற்று அதிகாரமுடைய ஜனாதிபதி - வில்லியம் கொபல்லாவ (.....)

8. (1) 1797 - 98 கிளர்ச்சி - தோமஸ் மெயிர்லாந்து
 (2) 1817 - 18 கிளர்ச்சி - றொபேர்ட் ப்றவுண்ட்ரிக்
 (3) 1848 கிளர்ச்சி - ரொறிங்ஹென்
 (4) 1883 கொட்டாஞ்சேனைக் கலவரம் - ஜேம்ஸ் லோங்டன்
 (5) 1915 சிங்கள - முஸ்லிம் கலவரம் - றொவேர்ட் சாமேர்ஸ் (.....)
9. (1) கோல்புறாக் கமெறன் சீர்திருத்தங்கள் - சட்டசபை, நிர்வாகசபை என்பன ஏற்படுத்தப்பட்டமை
 (2) குறூ - மக்கலம் சீர்திருத்தங்கள் - நிர்வாகசபைக்கு அரசாங்க அதிகாரியல்லாத ஒருவர் நியமிக்கப்பட்டமை
 (3) மனிங் சீர்திருத்தங்கள் - பிரதேசவாரிப் பிரதிநிதித்துவம் அறிமுகப்படுத்தப்பட்டமை
 (4) டொனமூர் சீர்திருத்தங்கள் - சர்வஜன வாக்குரிமை அறிமுகப்படுத்தப்பட்டமை
 (5) சோல்பரி சீர்திருத்தங்கள் - அமைச்சரவை அறிமுகப்படுத்தப்பட்டமை (.....)
10. (1) ஆறுமுகநாவலர் - வண்ணார்பண்ணை சைவப்பிரசாச வித்தியாசாலை நிறுவப்பட்டமை
 (2) மீகெட்டுவத்தே குணாநந்த தேரர் - பரம தம்ம சேதிய பிரிவெனா
 (3) ஹிக்கடுவே ஸ்ரீ சுமங்கல தேரர் - வித்தியோதய பிரிவெனா
 (4) ரத்மலானே தம்மாலோக தேரர் - வித்யாலங்கார பிரிவெனா
 (5) சித்தி லெப்பை - ஸாஹிரா கல்லூரி (.....)

- 11 - 15 வரையுள்ள ஒவ்வொரு வினாவிலும் சில பெயர்கள்/ திகதிகள்/ கூற்றுகள் ஆகியவற்றின் தொகுதிகள் X, Y எனும் நிரல்களில் தரப்பட்டுள்ளன. Y நிரலில் தரப்பட்டுள்ள பெயர்கள்/ திகதிகள்/ கூற்றுகள் X நிரலில் தரப்பட்டுள்ளவற்றுடன் ஏதோ ஒரு வகையில் தொடர்புபட்டவை. ஆனால் அவை சரியான தொடர் ஒழுங்கில் தரப்படவில்லை. X நிரலில் உள்ளவற்றை Y நிரலில் உள்ளவற்றுக்கேற்பச் சரியாக ஒழுங்குபடுத்தும்போது கீழே தரப்பட்டுள்ள ஐந்து சேர்மானங்களுள் ஒன்று சரியானதாகும். சரியான சேர்மானத்தின் இலக்கத்தைப் புள்ளிக் கோட்டில் எழுதுக.

- | X | | Y | | |
|------------------------|---------------|---------------------|---------------|-----------------------|
| 11. (i) தேவநம்பியதிஸ்ஸ | | A சோமாவதி | | |
| (ii) காவந்திஸ்ஸ | | B மிரிஸவட்டி | | |
| (iii) கிரிஅபய | | C அபயகிரி | | |
| (iv) துட்டகாமினி | | D திஸமகாராம | | |
| (v) வலகம்பாகு | | E ஹத்தாள்ஹக மேஹெணவர | | |
| (1) E D C B A | (2) A C B E D | (3) C B A D E | (4) E D A B C | (5) B A D C E (.....) |

- | X | | Y | | |
|-------------------------------|---------------|---------------|---------------|-----------------------|
| 12. (i) முதலாம் பராக்கிரமபாகு | | A குருணாகல் | | |
| (ii) இரண்டாம் பராக்கிரமபாகு | | B கம்பளை | | |
| (iii) நான்காம் பராக்கிரமபாகு | | C கோட்டே | | |
| (iv) ஐந்தாம் பராக்கிரமபாகு | | D பொலன்னறுவை | | |
| (v) ஆறாம் பராக்கிரமபாகு | | E தம்பதெனியா | | |
| (1) E A B C D | (2) C B D E A | (3) D E A B C | (4) E C A B D | (5) D B A E C (.....) |

- | X | | Y | | |
|------------------------------|---------------|---------------|---------------|-----------------------|
| 13. (i) விஜயவாகு பிரிவெனா | | A காரகல | | |
| (ii) பத்மாவதி பிரிவெனா | | B ரயிகம | | |
| (iii) ஸ்ரீ கணாநந்த பிரிவெனா | | C பபிலியான | | |
| (iv) சுனேத்திராதேவி பிரிவெனா | | D தொடகமுல | | |
| (v) இருகல்குலதிலக பிரிவெனா | | E தெவிநுவர | | |
| (1) C D A B E | (2) E C A B D | (3) C D B E A | (4) D A B C E | (5) D B A E C (.....) |

- | X | | Y | | |
|----------------------|---------------|-------------------------|---------------|-----------------------|
| 14. (i) கொட்டல் வத்த | | A யானைப்பாகர் துறை | | |
| (ii) கின்னர வத்த | | B மட்பாண்ட வனைவோர் துறை | | |
| (iii) குருவே வத்த | | C கம்மாளர் துறை | | |
| (iv) மடிகே வத்த | | D நூல் நூற்போர் துறை | | |
| (v) படகல வத்த | | E போக்குவரத்துத் துறை | | |
| (1) B D E A C | (2) C D A E B | (3) C B D E A | (4) A E D B C | (5) D E B A C (.....) |

15. (i) வீதிகள் சட்டம் A 1856
 (ii) கோயில் நிலங்கள் சட்டம் B 1897
 (iii) மாநகர சபைகள் சட்டம் C 1848
 (iv) கிராம சபைகள் சட்டம் D 1865
 (v) பாழ்நிலங்கள் சட்டம் E 1871
 (1) C A D E B (2) B E D C A (3) C B A E D (4) D C B A E (5) A C B E D (.....)

● 16 - 20 வரையுள்ள ஒவ்வொரு வினாவினதும் சரியான விடையைத் தெரிவுசெய்து அதன் இலக்கத்தைப் புள்ளிக் கோட்டில் எழுதுக.

16. மேல்வருவனவற்றுள் எந்த நிரல் தூதுகோபங்களில் சரியான காலக்கிரம வரிசையைக் கொண்டுள்ளது ?
 (1) மிரிசவேதி, தூபாராம, அபயகிரி, ஜேதவனாராம, ரன்கொத் விகாரை
 (2) தூபாராம, மிரிசவேதி, அபயகிரி, ஜேதவனாராம, ரன்கொத் விகாரை
 (3) தூபாராம, அபயகிரி, மிரிசவேதி, ரன்கொத் விகாரை, ஜேதவனாராம
 (4) ஜேதவனாராம, ரன்கொத் விகாரை, தூபாராம, அபயகிரி, மிரிசவேதி
 (5) அபயகிரி, தூபாராம, ஜேதவனாராம, மிரிசவேதி, ரன்கொத் விகாரை (.....)

17. மேல்வருவனவற்றுள் எந்த நிரல் ஆதி அநுராதபுர காலத்து இலங்கை மன்னரின் காலக்கிரம வரிசையைச் சரியாகக் கொண்டுள்ளது ?
 (1) சத்தாதிஸ, லஞ்ஜதிஸ, தூலத்தன, கல்லாட்ட நாக, வலகம்வாகு
 (2) வலகம்வாகு, சத்தாதிஸ, தூலத்தன, கல்லாட்ட நாக, லஞ்ஜதிஸ
 (3) சத்தாதிஸ, தூலத்தன, லஞ்ஜதிஸ, கல்லாட்ட நாக, வலகம்வாகு
 (4) லஞ்ஜதிஸ, தூலத்தன, சத்தாதிஸ, கல்லாட்ட நாக, வலகம்வாகு
 (5) வலகம்வாகு, சத்தாதிஸ, தூலத்தன, லஞ்ஜதிஸ, கல்லாட்ட நாக (.....)

18. மேல்வருவனவற்றில் எந்த நிரலில் இராசதானிகளின் மாற்றம் சரியான காலக்கிரம வரிசையிற் சொல்லப்படுகின்றது ?
 (1) தம்பதெனிய, யாப்பகூவ, குருணாகல், கம்பளை, கோட்டே
 (2) தம்பதெனிய, யாப்பகூவ, கம்பளை, குருணாகல், கோட்டே
 (3) யாப்பகூவ, கோட்டே, தம்பதெனிய, கம்பளை, குருணாகல்
 (4) குருணாகல், யாப்பகூவ, தம்பதெனிய, கோட்டே, கம்பளை
 (5) கம்பளை, தம்பதெனிய, குருணாகல், யாப்பகூவ, கோட்டே (.....)

19. மேல்வருவனவற்றில் எந்த நிரலில் 19 ஆம் நூற்றாண்டின் பிற்பகுதியில் இலங்கையில் ஆட்சி புரிந்த தேசாதிபதிகளின் பெயர்கள் காலக்கிரம வரிசையில் உள்ளன ?
 (1) ஹென்றி வோர்ட், வில்லியம் கிரெகரி, ஆர்தர் கோர்டன், ஹெர்கியூலிஸ் ரொபின்சன், வெஸ்ட் ரிட்ஜ்வே
 (2) ஹென்றி வோர்ட், ஆர்தர் கோர்டன், வில்லியம் கிரெகரி, ஹெர்கியூலிஸ் ரொபின்சன், வெஸ்ட் ரிட்ஜ்வே
 (3) ஹென்றி வோர்ட், வில்லியம் கிரெகரி, ஹெர்கியூலிஸ் ரொபின்சன், வெஸ்ட் ரிட்ஜ்வே, ஆர்தர் கோர்டன்
 (4) வில்லியம் கிரெகரி, ஹென்றி வோர்ட், ஆர்தர் கோர்டன், ஹெர்கியூலிஸ் ரொபின்சன், வெஸ்ட் ரிட்ஜ்வே
 (5) ஹென்றி வோர்ட், ஹெர்கியூலிஸ் ரொபின்சன், வில்லியம் கிரெகரி, ஆர்தர் கோர்டன், வெஸ்ட் ரிட்ஜ்வே (.....)

20. மேல்வரும் நிரல்களில் எது சுதந்திரம் பெற்ற பின் இலங்கையிலே கல்வி அமைச்சர்களாக இருந்த வர்களின் பெயர்களைக் காலக்கிரம வரிசையிற் கொண்டுள்ளது ?
 (1) பதியுத்தீன் மஹமுட், E. A. நுகவெல, W. தகநாயக்க, M. D. பண்டா, B. H. அலுவிஹார
 (2) B. H. அலுவிஹார, E. A. நுகவெல, M. D. பண்டா, W. தகநாயக்க, பதியுத்தீன் மஹமுட்
 (3) E. A. நுகவெல, W. தகநாயக்க, M. D. பண்டா, பதியுத்தீன் மஹமுட், B. H. அலுவிஹார
 (4) E. A. நுகவெல, M. D. பண்டா, W. தகநாயக்க, B. H. அலுவிஹார, பதியுத்தீன் மஹமுட்
 (5) W. தகநாயக்க, E. A. நுகவெல, M. D. பண்டா, பதியுத்தீன் மஹமுட், B. H. அலுவிஹார (.....)

● 21 - 25 வரையுள்ள வினாக்கள் ஒவ்வொன்றிலும் ஐந்து கூற்றுக்கள் தரப்பட்டுள்ளன. அவற்றில் ஒன்று தலைப்புடன் பொருந்தாது. பொருந்தாத கூற்றின் இலக்கத்தை தெரிவு செய்து அதன் இலக்கத்தைப் புள்ளிக் கோட்டில் எழுதுக.

21. இலங்கையிற் பௌத்தம் கொண்டுவரப்பட்டமை
 (1) மூன்றாம் பௌத்த சங்கம்
 (2) மகிந்த தேரர் இலங்கைக்கு வந்தமை
 (3) தேரி சங்கமித்தாவின் வருகை
 (4) மகாமேகவனம் சங்கத்தாருக்கு வழங்கப்பட்டமை
 (5) உபராஜ மகாநாசனைச் சங்கத்திற் சேர்த்தமை (.....)

3623

22. முதலாம் பராக்கிரமபாகுவின் சமய நடவடிக்கைகள்

- (1) வட்டதாஹேயை நிர்மாணித்தமை
- (2) மூன்று நிக்காயங்களையும் இணைத்தமை
- (3) கல்விகாரக் கதிகாவத என்பதை நிறுவியமை
- (4) அம்பகமுல கிராமத்தை ஸ்ரீபாதவிற்கு வழங்கியமை
- (5) ஆளாஹன பிரிவெனாவை நிர்மாணித்தமை

(.....)

23. இரண்டாம் ராஜசிங்கன்

- (1) 1630 இல் ரந்தெனிவெல போரில் கண்டிய படைகளுக்குத் தலைமை தாங்கி வெற்றிபெற்றமை
- (2) 1638 இல் ஒல்லாந்தரோடு உடன்படிக்கை செய்தமை
- (3) உபசம்பதாவை நாடத்துவதற்குச் சீயம் நாட்டிலிருந்து சங்கத்தாரை அழைப்பித்தமை
- (4) ஒல்லாந்தரின் உதவியோடு இலங்கையின் கரையோர மாகாணங்களிலிருந்து போர்த்துக்கேயரை வெளியேற்றியமை
- (5) இரண்டாம் ராஜசிங்கன் காலத்தில் றொபேர்ட் நொக்ஸ் கண்டியிற் சிறைக்கைதியாக வாழ்ந்தான். (.....)

24. பிரித்தானியருக்கு எதிராக 1817-18 இற் கண்டியர் ஏற்படுத்திய கிளர்ச்சி

- (1) வெல்லஸப் பகுதியிற் கிளர்ச்சி தொடங்கியது.
- (2) கண்டிப் பிரபுக்கள் அதற்குத் தலைமை தாங்கினர்.
- (3) வில்பாவே தனது பெயர் துரைசாமி என்று உரிமை கோரினான்.
- (4) கிளர்ச்சி அடக்கப்பட்ட பின் ஜோன் டோய்லி கண்டியிலே தல அதிகாரியாக (Resident) நியமிக்கப்பட்டார்.
- (5) கிளர்ச்சி அடக்கப்பட்ட பின் கண்டி மாகாணங்களிற் பிரித்தானியரின் அதிகாரம் உறுதியாக நிலைநிறுத்தப்பட்டது.

(.....)

25. 1972 அரசியலமைப்பு

- (1) ஜனாதிபதிப் பதவி அறிமுகப்படுத்தப்பட்டது.
- (2) இலங்கை குடியரசாகியது.
- (3) ஒரு சபை மட்டும் கொண்ட பாராளுமன்றம் அமைக்கப்பட்டது.
- (4) பொதுச்சேவை ஆணைக்குழு ஒழிக்கப்பட்டது.
- (5) விகிதாசாரப் பிரதிநிதித்துவ முறை ஏற்பட்டது.

(.....)

● 26 - 30 வரையுள்ள வினாக்கள் ஒவ்வொன்றுக்கும் (A), (B), (C), (D) என்னும் நான்கு மாற்று விடைகள் தரப்பட்டுள்ளன. அவற்றுள் ஒன்று அல்லது பல சரியான விடைகளாகும். சரியான விடையை அல்லது விடைகளைத் தெரிவு செய்து

- (A) யும் (B) யும் மட்டும் சரியாயின் 1 எனவும்
 (B) யும் (C) யும் மட்டும் சரியாயின் 2 எனவும்
 (C) யும் (D) யும் மட்டும் சரியாயின் 3 எனவும்
 (A) யும் (C) யும் மட்டும் சரியாயின் 4 எனவும்

ஒரு விடை மட்டும் அல்லது இரண்டிற்கு மேற்பட்ட விடைகள் சரியாயின் 5 எனவும் புள்ளிக் கோட்டில் எழுதுக.

அறிவுறுத்தல்களின் சுருக்கம்				
1	2	3	4	5
(A) யும் (B) யும் மட்டும் சரி	(B) யும் (C) யும் மட்டும் சரி	(C) யும் (D) யும் மட்டும் சரி	(A) யும் (C) யும் மட்டும் சரி	ஒரு விடை மட்டும் அல்லது இரண்டிற்கு மேற்பட்ட விடைகள் சரி

26. வலகம்பாகுவின் ஆட்சி தொடர்பாக மேல்வரும் கூற்றுகளில் எது / எவை சரியானது / சரியானவை ?

- (A) இளவரசியான ஹேமமாலா புனித தந்ததாதுவை இலங்கைக்கு கொண்டு வந்தாள்.
- (B) ஏழு தமிழ்ப் பிரதானிகள் இலங்கை மீது படையெடுத்தனர்.
- (C) திரிபிடகம் எழுதப்பட்டது.
- (D) மோரியருக்கும் வம்பகர்ணருக்கும் இடையிலான தகராறு ஆரம்பித்தது.

(.....)

27. முதலாம் விஜயபாகுவின் சாதனைகள் தொடர்பாக மேல்வரும் கூற்றுகளில் எது/ எவை சரியானது/ சரியானவை ?

- (A) இலங்கையினை ஒன்றாக இணைத்தமை
- (B) உபசம்பதா சடங்கின் மூலம் சங்கம் புனர்நிர்மாணம் செய்யப்பட்டமை
- (C) காலிங்க மாகணைத் தோற்கடித்தமை
- (D) திபெத் நாட்டுடன் சமய உறவுகளைத் தொடர்ந்து பேணியமை

(.....)

28. சீதாவாக்கை இராச்சியத்தின் வீழ்ச்சி தொடர்பாக மேல்வரும் கூற்றுக்களில் எது /எவை சரியானது/சரியானவை ?
 (A) முதலாம் ராஜசிங்கனது சாதனைகளை உறுதிப்படுத்தக்கூடிய வாரிசு இல்லாமை
 (B) முதலாம் ராஜசிங்கன் சைவனாகச் சமயம் மாறியமை
 (C) சீதாவாக்கை இராச்சியத்தின் பிரதேசங்களைப் போர்த்துக்கேயர் கைப்பற்றியமை
 (D) முதலாம் விமலதர்மசூரியனின் எழுச்சி (.....)
29. 19 ஆம் நூற்றாண்டிலே ஏற்பட்ட சுதேச விவசாயத்தின் புனராக்கம் தொடர்பாக மேல்வரும் கூற்றுகளுள் எது/ எவை சரியானது/ சரியானவை ?
 (A) 12 ஆம் இலக்கமுடைய 1840 ஆண்டுப் 'பயன்படாநிலச் சட்டம்' சுதேச விவசாயத்தின் புனராக்கத் திற்குச் சாதகமானது.
 (B) புராதனமான நீர்ப்பாசன முறையினை மீட்பதற்கு தேசாதிபதி ஹென்றி வார்ட் முக்கியமான சேவை புரிந்தார்.
 (C) கிராமியக் குளங்களைப் புனரமைப்பதற்கும் பேணுவதற்கும் கம்சபா முறை பயன்படுத்தப்பட்டது.
 (D) மின்னேரியா குடியேற்றத் திட்டம் ஆரம்பிக்கப்பட்டது. (.....)
30. இலங்கைத் தேசிய காங்கிரஸ் தொடர்பாக பின்வரும் கூற்றுக்களில் எது/ எவை சரியானது/ சரியானவை ?
 (A) இலங்கைத் தேசிய காங்கிரஸ் 1919 இல் ஆரம்பிக்கப்பட்டது.
 (B) பொன்னம்பலம் இராமநாதன் அதன் முதலாவது தலைவராவார்.
 (C) S. W. R. D. பண்டாரநாயக்கா ஒரு தடவை அதன் செயலாளராக இருந்தார்.
 (D) காங்கிரஸின் முதன்மையான குறிக்கோளாக இருந்தது சர்வஜன வாக்குரிமையாகும். (.....)
- 31 - 35 வரையுள்ள எல்லா வினாக்களிலும் சரியான விடையைத் தெரிவு செய்து அதன் இலக்கத்தைப் புள்ளிக் கோட்டின் மீது எழுதுக.
31. விஜிதபுரத்தின் வீழ்ச்சியின் பின்னர் எல்லா மன்னனுக்கு உதவிபுரிவதற்காக தென்னிந்தியாவிலிருந்து வந்த பிரதானி யார் ?
 (1) வல்லூக (2) தீகஜந்து (3) புளஹத்த
 (4) பனயமாற (5) தாட்டிக (.....)
32. தோட்டசுழுவ ஸ்ரீ ராகுல தேரர் எழுதிய சந்தேஸ காவியம் யாது ?
 (1) திஸர சந்தேஸ (2) மயூர சந்தேஸ (3) கோகில சந்தேஸ
 (4) சளலிஹினி சந்தேஸ (5) கிரா சந்தேஸ (.....)
33. சிங்கள வம்சத்து இறுதி அரசன் யார் ?
 (1) இரண்டாம் ராஜசிங்கன்
 (2) இரண்டாம் விமலதர்மசூரியன்
 (3) ஸ்ரீ வீரபராக்கிரம நரேந்திரசிங்கன்
 (4) கீர்த்தி ஸ்ரீ ராஜசிங்கன்
 (5) ஸ்ரீ விக்ரம ராஜசிங்கன் (.....)
34. எந்தப் பிரித்தானிய தேசாதிபதியின் காலத்தில் விவசாய திணைக்களம் உருவாக்கப்பட்டது ?
 (1) தொமஸ் மெயிர்லாந்து (2) வில்மற் கோர்ட்டன் (3) வெஸ்ற் ரிட்ஜ்வே
 (4) ஹென்றி மக்கலம் (5) றொவேர்ட் சாமேர்ஸ் (.....)
35. இலங்கையின் மகர் தேசாதிபதியாகப் பதவி பெற்ற முதலாவது இலங்கையர் யார் ?
 (1) டி. எஸ். சேனநாயக்க (2) ஜோன் கொத்தலாவல (3) ஒலிவர் குணதிலக
 (4) S. W. R. D. பண்டாரநாயக்க (5) வில்லியம் கொபல்லாவ (.....)

- 36 - 40 வரையுள்ள வினாக்களில் இரண்டு கூற்றுகள் வீதம் தரப்பட்டுள்ளன. ஒவ்வொரு வினா தொடர்பாகவும் உள்ள கூற்றுச் சோடிக்குக் கீழே உள்ள அட்டவணையில் காணப்படும் 1,2,3,4,5 என்பவற்றில் மிகவும் பொருந்துவது எதுவென்பதைத் தெரிந்து அதன் இலக்கத்தைப் புள்ளிக் கோட்டில் எழுதுக.

அட்டவணை

முதலாம் கூற்று	இரண்டாம் கூற்று
1. சரியானது	பிழையானது
2. சரியானது	சரியானது
3. பிழையானது	பிழையானது
4. பிழையானது	சரியானது
5. சரியானது	சரியானதும், முதலாம் கூற்றினை நன்றாக விளக்குவதுமாகும்.

	முதலாம் கூற்று	இரண்டாம் கூற்று	
36.	இந்து சமுத்திரத்திலுள்ள இயற்கைத் துறைமுகங்களில் திருகோணமலையே மிகப் பெரியதும் பாதுகாப்புடையதுமாகும்.	இலங்கையின் புராதனகால வரலாற்றிலே திருகோணமலை மஹாதித்த என்று குறிப்பிடப்பட்டது.	(.....)
37.	பனாக்கடுவச் செப்பேட்டிலே முதலாம் பராக்கிரமபாகு, இரண்டாம் கஜபாகு ஆகியோருக்கிடையில் ஏற்பட்ட உடன்படிக்கை பதிவு செய்யப்பட்டுள்ளது.	பொலன்னறுவைக் காலத்து அரசரில் முதலாம் பராக்கிரமபாகுவே மிகக் கூடுதலான கல்வெட்டுக்களை நிறுவினான்.	(.....)
38.	உரோமன் கத்தோலிக்க சமயம் ஒல்லாந்தர் காலத்தில் முதன்முதலாக இலங்கையிற் பரப்பப்பட்டது.	கரையோர மாகாணங்களில் ஒல்லாந்தர் கால்வாய்களின் வலைப்பின்னலை உருவாக்கினார்கள்	(.....)
39.	கொழும்பு - கண்டி புகையிரதப் பாதை அமைக்கப்பட்டதால் கோப்பிப் பயிர்ச்செய்கை முன்னேற்றங்கண்டது.	கொழும்பு - கண்டி புகையிரதப் பாதை மலைநாட்டிலிருந்து கொழும்புக்குக் கோப்பியினை ஏற்றிச் செல்வதற்கு மட்டுமன்றி, கோப்பிப் பயிர்ச்செய்கைக்கு வேண்டிய உரம், உபகரணங்கள் ஆகியவற்றைக் கொழும்பிலிருந்து ஏற்றிச் செல்வதற்கும் வசதிகளை ஏற்படுத்தியது.	(.....)
40.	குடியரசு அரிசியலமைப்பு 1972 இல் நடைமுறைப்படுத்தப்பட்டது.	ஜே. ஆர். ஜயவர்தனாவே இலங்கையின் முதலாவது நிறைவேற்று அதிகாரங்கொண்ட ஜனாதிபதியாவார்.	(.....)

**

සියලු ම හිමිකම් ඇවිරිණි / முழுப் பதிப்புரிமையுடையது / All Rights Reserved

ශ්‍රී ලංකා විභාග දෙපාර්තමේන්තුව ශ්‍රී ලංකා විභාග දෙපාර්තමේන්තුව ශ්‍රී ලංකා විභාග දෙපාර්තමේන්තුව ශ්‍රී ලංකා විභාග දෙපාර්තමේන්තුව ශ්‍රී ලංකා විභාග දෙපාර්තමේන්තුව
இலங்கைப் பரீட்சைத் திணைக்களம் இலங்கைப் பரීட்சைத் திணைக்களம் இலங்கைப் பரීட்சைத் திணைக்களம் இலங்கைப் பரීட்சைத் திணைக்களம் இலங்கைப் பரීட்சைத் திணைக்களம்
Department of Examinations, Sri Lanka Department of Examinations, Sri Lanka Department of Examinations, Sri Lanka Department of Examinations, Sri Lanka Department of Examinations, Sri Lanka

අධ්‍යයන පොදු සහතික පත්‍ර (උසස් පෙළ) විභාගය, 2012 අගෝස්තු
கல்விப் பொதுத் தராதரப் பத்திர(உயர் தர)ப் பரீட்சை, 2012 ஓகஸ்தர்
General Certificate of Education (Adv. Level) Examination, August 2012

නව නිර්දේශය
புதிய பாடத்திட்டம்
New Syllabus

ඉතිහාසය II (II කොටස)
வரலாறு II (பகுதி II)
History II (Part II)

25-B T II

ஐரோப்பிய வரலாறு - ஆதிகாலம் முதல் கி.பி 1989 வரை

அறிவுறுத்தல்கள்:

* முதலாம் வினாவுக்கும் வேறு ஏதாவது மூன்று வினாக்களுக்கும் விடை எழுதுக.

(முதலாம் வினாவுக்கு விடையளிப்பதற்கு ஐரோப்பாவின் புறவுருவப் படம் வழங்கப்படும்).

பகுதி II

- கீழே தரப்பட்ட எல்லா இடங்களையும் உமக்கு வழங்கப்பட்ட வரைபடத்திற் குறித்துப் பெயரிட்டு, அவற்றுள் எவையேனும் இரண்டிற்கு வரலாற்றுக் குறிப்புகள் எழுதுக.
 - கிறீற் தீவு
 - ரைபர் நதி
 - கொன்ஸ்தாந்தி நோபிள்
 - லண்டன்
 - சுவிற்சர்லாந்து
 - ஆங்கிலக் கால்வாய்
 - வோல்ற்றிக் கடல்
 - டான்ஸிக்

(சரியாகக் குறித்துப் பெயரிடுவதற்கு 01 புள்ளி ; சிறுகுறிப்பு ஒவ்வொன்றுக்கும் 05 புள்ளிகள்)
- உரோமாபுரி ஒரு சிறிய லத்தீன் இராச்சியமாகவிருந்து பரந்தவொரு பேரரசாக வளர்ந்தமையிலுள்ள பிரதான கட்டங்களைப் பரிசீலனை செய்க்க. (14 புள்ளிகள்)
- மத்திய ஐரோப்பாவில் மானியமுறை உருவாகியதற்கான பிரதானமான காரணங்களைச் சுருக்கமாக ஆராய்க. (05 புள்ளிகள்)
 - ஓர் அரசியல், சமூக, பொருளாதார முறை என்ற வகையில் மானியமுறையின் பிரதான அம்சங்களை விளக்குக. (09 புள்ளிகள்)
- “கைத்தொழிற் புரட்சி ஐரோப்பிய சமுதாயத்தில் நிச்சயமாக ஒரு பெரும் மாற்றத்தை ஏற்படுத்தியது”.
 - கைத்தொழிற் புரட்சி ஆரம்பித்த நாட்டின் பெயரைக் குறிப்பிடுக. (01 புள்ளி)
 - கைத்தொழில் துறையில் ஏற்பட்ட ஆரம்பக் கண்டுபிடிப்புகளில் இரண்டினைக் குறிப்பிடுக. (02 புள்ளிகள்)
 - கைத்தொழிற் புரட்சி ஏற்பட்டமைக்கு ஏதுவான காரணங்கள் இரண்டினைச் சுருக்கமாகக் குறிப்பிடுக. (04 புள்ளிகள்)
 - கைத்தொழிற் புரட்சியின் சமூக, பொருளாதார விளைவுகள் தொடர்பாக மேலே குறிப்பிட்ட கூற்றை ஆராய்க. (07 புள்ளிகள்)
- பிரெஞ்சுப் புரட்சி ஏற்படுவதற்கு அடிப்படையாகவிருந்த அரசியல், பொருளாதார, சமூக நிலைகளை ஆராய்க. (14 புள்ளிகள்)
- “பிஸ்மார்க்கின் தலைமையில் ஜேர்மனியை ஒன்றிணைக்க மேற்கொள்ளப்பட்ட கட்டம் ஒவ்வொன்றும் போரில் முடிந்தது”.
 - ஜேர்மனியை ஒன்றாக இணைப்பதற்கு முயற்சிகளை மேற்கொண்ட அரசின் பெயரைக் குறிப்பிடுக. (01 புள்ளி)
 - அந்த இராச்சியத்தின் தலைமையில் ஏற்பட்ட சுங்கவரி விலக்கு ஒன்றியத்தின் பெயரைக் குறிப்பிடுக. (01 புள்ளி)
 - 1815 - 1848 ஆகிய காலத்தில் ஜேர்மனியை இணைப்பதற்கு எதிராகவிருந்த தடைகளைச் சுருக்கமாகக் குறிப்பிடுக. (04 புள்ளிகள்)
 - பிஸ்மார்க்கின் தலைமையில் ஜேர்மனியை ஒன்றிணைத்தமையின் பிரதான கட்டங்களை விளக்குக. (08 புள்ளிகள்)
- “ஐரோப்பாவில் முதலாம் உலகப் போரின் பின்னர், சர்வாதிகார ஆட்சிகள் எழுச்சி பெற்றதால் இரண்டாம் உலகப் போர் ஏற்பட்டமை தவிர்க்கமுடியாத ஒன்றாகிவிட்டது”.
 - முதலாம் உலகப் போரின் முடிவில் ஜேர்மனி ஒப்புக்கொண்ட உடன்படிக்கை யாது ? (01 புள்ளி)
 - முதலாம் உலகப் போரின் பின், சமாதானத்தைக் குறிக்கோளாகக் கொண்டு உருவாக்கப்பட்ட சர்வதேச நிறுவனத்தின் பெயரைக் குறிப்பிடுக. (01 புள்ளி)
 - முதலாம் உலகப் போரின் பின் இத்தாலியிலும் ஜேர்மனியிலும் ஏற்பட்ட சர்வாதிகார ஆட்சிகள் யாவை ? (02 புள்ளி)
 - அந்த ஆட்சிகளின் அதிபர்கள் யார் ? (02 புள்ளி)
 - இரண்டாம் உலகப் போருக்கு ஏதுவான காரணங்கள் தொடர்பாக மேலே குறித்த கூற்றினை ஆராய்க. (08 புள்ளிகள்)
- மேல்வருவனவற்றுள் எவையேனும் இரண்டின் வரலாற்று முக்கியத்துவம் பற்றிச் சுருக்கமான குறிப்புகள் எழுதுக:
 - லியொனார்டோ டா வின்சி
 - மார்டின் லூதர்
 - நெப்போலியன் வொனப்பார்ட்
 - கமிலோ கலூர்
 - V. I. லெனின்

(ஒன்றுக்கு 07 புள்ளிகள்)
- இரண்டாம் உலகப் போர் முடிந்த பின்னுள்ள முதலாவது தசாப்தத்திலே உலக வல்லரசுகள் எவ்வாறு இரு அணிகளாகப் பிரிந்தன என்பதைப் பரிசீலனை செய்க. (14 புள்ளிகள்)

ශ්‍රී ලංකා විභාග දෙපාර්තමේන්තුව ශ්‍රී ලංකා විභාග දෙපාර්තමේන්තුව ශ්‍රී ලංකා විභාග දෙපාර්තමේන්තුව ශ්‍රී ලංකා විභාග දෙපාර්තමේන්තුව ශ්‍රී ලංකා විභාග දෙපාර්තමේන්තුව
 இலங்கைப் பரீட்சைத் திணைக்களம் இலங்கைப் பரීட்சைத் திணைக்களம் இலங்கைப் பரීட்சைத் திணைக்களம் இலங்கைப் பரීட்சைத் திணைக்களம் இலங்கைப் பரීட்சைத் திணைக்களம்
 Department of Examinations, Sri Lanka Department of Examinations, Sri Lanka Department of Examinations, Sri Lanka Department of Examinations, Sri Lanka Department of Examinations, Sri Lanka

අධ්‍යයන පොදු සහතික පත්‍ර (උසස් පෙළ) විභාගය, 2012 අගෝස්තු
 கல்விப் பொதுத் தராதரப் பத்திர(உயர் தர)ப் பரீட்சை, 2012 ஓகஸ்ட்
 General Certificate of Education (Adv. Level) Examination, August 2012

නව නිර්දේශය
 புதிய பாடத்திட்டம்
 New Syllabus

ඉතිහාසය	II	25-B	T
வரலாறு	II		
History	II		

ප්‍රශ්න අංකය வினா இல. Question No.	} 01	විභාග අංකය சுட்டெண் Index No.	}



ලංකා විභාග දෙපාර්තමේන්තුව ශ්‍රී ලංකා විභාග දෙපාර්තමේන්තුව ශ්‍රී ලංකා විභාග දෙපාර්තමේන්තුව ශ්‍රී ලංකා විභාග දෙපාර්තමේන්තුව
 இலங்கைப் பரீட்சைத் திணைக்களம் இலங்கைப் பரීட்சைத் திணைக்களம் இலங்கைப் பரීட்சைத் திணைக்களம் இலங்கைப் பரීட்சைத் திணைக்களம்
 Department of Examinations, Sri Lanka Department of Examinations, Sri Lanka Department of Examinations, Sri Lanka Department of Examinations, Sri Lanka

අධ්‍යයන සොදු සහතික පත්‍ර (උසස් පෙළ) විභාගය, 2012 අගෝස්තු
 கல்விப் பொதுத் தராதரப் பத்திர(உயர் தர)ப் பரீட்சை, 2012 ஓகஸ்ட்
 General Certificate of Education (Adv. Level) Examination, August 2012

නව නිර්දේශය
 புதிய பாடத்திட்டம்
 New Syllabus

ඉතිහාසය II (I කොටස)
 வரலாறு II (பகுதி I)
 History II (Part I)

25-C T II

පැය තුනයි
 மூன்று மணித்தியாலம்
 Three hours

සැද්දෙහි:

நவீன உலக வரலாறு - கி.பி 1500 - 1989

அறிவுறுத்தல்கள்:

- * இவ்வினாத்தாளில் 40 வினாக்கள் உள்ளன. எல்லா வினாக்களுக்கும் இவ்வினாப்பத்திரத்தில் விடை எழுதுக.
- * ஒவ்வொரு வினா தொடர்பாகவும் ஐவைந்து விடைகள் தரப்பட்டுள்ளன. அவற்றுள் ஒன்று சரியானது.
- * ஒரு வினாவுக்கு உரிய சரியான விடையைத் தெரிவு செய்த பின் அதனை இப்பத்திரத்திலே அறிவுறுத்தல்களுக்கமையக் குறிப்பிடுக. இவ்வினாப்பத்திரத்திற்கு 40 புள்ளிகள் வழங்கப்படும்.
- * உமது விடைத்தாள்களை ஒப்படைக்கும் பொழுது பகுதி I இற்கான விடைகளை எழுதிய பின்னர், பகுதி II இற்கான விடைத்தாள்தான் இணைத்து ஒப்படைக்க வேண்டும். இரண்டு பகுதிகளுக்கும் வழங்கப்பட்டுள்ள நேரம் மூன்று மணித்தியாலமாகும்.

பகுதி I

● 1 - 10 வரையுள்ள வினாக்கள் ஒவ்வொன்றிலும் ஐந்து பெயர்கள் வீதம் தரப்பட்டுள்ளன. அப்பெயர்களுள் ஒன்று ஏதோ காரணத்தினால் ஏனையவற்றுடன் பொருந்தாது. பொருந்தாத அப்பெயரை இனங்கண்டு அதன் இலக்கத்தைப் புள்ளிக் கோட்டில் எழுதுக.

1. (1) அமேஸன் (2) டன்யூப் (3) எல்வ்
(4) நைன் (5) ஸைன் (.....)
2. (1) சுருங்கடல் (2) கஸ்பியன் கடல் (3) மத்தியதரைக் கடல்
(4) செங்கடல் (5) மஞ்சள் கடல் (.....)
3. (1) அக்பர் (2) ஜஹங்கீர் (3) மும்தாஜ் மகால்
(4) ஷாஜாஹான் (5) ஒளரங்கசீபு (.....)
4. (1) சென்னை (2) மும்பாய் (3) கல்கத்தா
(4) இஸ்லாமபாத் (5) பாண்டிச்சேரி (.....)
5. (1) நியூயோர்க் (2) வாஷிங்டன் (3) லிவர்பூல்
(4) சிக்காகோ (5) ஸ்பீபிறான்ஸிஸ்கோ (.....)
6. (1) அல்ஜீரியா (2) கௌதமாலா (3) லிபியா
(4) நைஜீரியா (5) சோமாலியா (.....)
7. (1) வாரன்ஹேஸ் ற்ரிங்ஸ் (2) கோர்ண்வஸிஸ் (3) வெலெஸ்லி
(4) வில்லியம் வைன் ற்ரிங் (5) வில்மற் ஹேட்டன் (.....)
8. (1) கார்ள் மார்க்ஸ் (2) V. I. லெனின் (3) ஜோஸெஃப் ஸ்டாலின்
(4) நிகிதா குறுஷ்ஷேவ் (5) மிகாயில் கோர்ப்பேஷ் (.....)
9. (1) லோயிட் ஜோர்ஜ் (2) வூட்றோ வில்ஸன் (3) ஜோர்ஜெஸ் சிளெமென்ஸோ
(4) விற்றோறியோ ஓர்லாந்தோ (5) அடோல்ஃப் ஹிட்லர் (.....)
10. (1) அராபிய தேசங்கள் அணி (Arab League) (2) ஐரோப்பிய பொருளாதார சமூகம் (EEC)
(3) பெற்றோலியம் ஏற்றுமதி செய்யும் நாடுகள் (OPEC) (4) தென்சுழக்கு ஆசிய நாடுகள் தாபனம் (ASEAN)
(5) பிராந்தியக் கூட்டுறவுக்கான தென்னாசிய தாபனம் (SAARC) (.....)

[பக். 2 ஐப் பார்க்க

- 11 - 15 வரையுள்ள வினாக்கள் ஒவ்வொன்றிலும் ஐந்து சோடியம் பெயர்கள் தரப்பட்டுள்ளன. அவற்றுள் ஒரு சோடியிலுள்ள பெயர்கள் ஒன்றுடனொன்று பொருந்தவில்லை. பொருந்தாத அச்சோடியைத் தெரிந்து அதன் இலக்கத்தைப் புள்ளிக் கோட்டின் மீது எழுதுக.

11. (1) பிறேசில் - போர்த்துக்கேயர்
 (2) மெக்ஸிக்கோ - ஸ்பானியர்
 (3) ஹெய்ந்ரி - பிரான்சியர்
 (4) கியூபா - ஒல்லாந்தர்
 (5) ஜமைக்கா - பிரித்தானியா (.....)
12. (1) லெவியதன் - தொமஸ் ஹெப்ஸ்
 (2) சமூக ஒப்பந்தம் - ரூசோ
 (3) சட்டங்களின் இயல்பு - வோல்ஹேயர்
 (4) தேசங்களின் வளம் - அடம் ஸ்மித்
 (5) மைன் காம்ஃப் (எனது போர்) - அடோல்ஃப் ஹிட்லர் (.....)
13. (1) போலந்து - ஸ்ரொக்ஹோலம்
 (2) ஒஸ்திரியா - வியன்னா
 (3) ஹங்கேரி - வடாபெஸ்ட்
 (4) பஸ்கேரியா - ஸொஃபியா
 (5) யூகோஸ்லாவியா - பெல்கிரேட் (.....)
14. (1) ஸிமோன் வொலிவார் - வெனெசுவெலா
 (2) மா சே-துங் - சீனா
 (3) ரமோன் மக்ஸே லே - பிலிப்பீன்ஸ்
 (4) ஃபிடெல் காஸ்த்ரோ - மெக்ஸிக்கோ
 (5) குவாம் நிக் குறுமா - கானா (.....)
15. (1) இந்தியா - மகாத்மா காந்தி
 (2) வியெத்நாம் - ஹோ சி மின்
 (3) பர்மா - ஒளங் ஸான்
 (4) கென்யா - ஜோமோ கென்யாட்டா
 (5) நோடீசியா - மிராண்டா (.....)

- 16 - 25 வரையுள்ள ஒவ்வொரு வினாவிலும் சில பெயர்கள்/ திகதிகள்/ கூற்றுகள் என்பவற்றின் தொகுதிகள் X, Y என்னும் நிரல்களிலே தரப்பட்டுள்ளன. Y நிரலில் தரப்பட்டுள்ள பெயர்கள்/ திகதிகள்/ கூற்றுகள் X நிரலில் தரப்பட்டுள்ளவற்றுடன் ஏதோ ஒரு வகையிலே தொடர்புபட்டவை. ஆனால் அவை சரியான தொடர் ஒழுங்கிலே தரப்படவில்லை. X நிரலில் உள்ளவற்றை Y நிரலிற்கேற்பச் சரியாக ஒழுங்குபடுத்தும்போது கீழே தரப்பட்டுள்ள ஐந்து சேர்மானங்களுள் ஒன்று சரியானதாகும். சரியான சேர்மானத்தைத் தெரிவுசெய்து அதன் இலக்கத்தைப் புள்ளிக் கோட்டில் எழுதுக.

16. X Y
- (i) 'கிறிஸ்தவர்களையும் வாசனைச் சரக்குகளையும் தேடிக்கீழைத்தேயங்களுக்கு வந்தோம்' A லூயி XIV
- (ii) 'அரசனொருவன் சிங்கத்தையும் நரியையும் போல் நடக்க வேண்டும்' B நெப்போலியன் வொனபார்ட்
- (iii) 'நானே அரசு' C றூஸோ
- (iv) 'மனிதன் சுதந்திரமாகப் பிறகின்றான்; ஆனால் அவன் எங்கும் விலங்கிடப்பட்டுள்ளான்' D வால்கோ-டாகாமா
- (v) 'நானே புரட்சியின் வடிவமானவன்' E மக்கியாவெலி
- (1) AECBD (2) DEACB (3) ADECB (4) DCAEB (5) BAECD (.....)

17. X Y
 (i) மொகல் A பிரான்ஸ்
 (ii) வேர்வன் B இங்கிலாந்து
 (iii) தொகுகாவா C இந்தியா
 (iv) மஞ்ச D ஜப்பான்
 (v) ஹனோவர் E சீனா
 (1) CBAED (2) DEBCA (3) ECBDA (4) CADEB (5) DBCAE (.....)
18. X Y
 (i) முதலாம் பானிபாத் போர் A வெலிங்ற்றன்
 (ii) வைற்றில் போர் B பாபர்
 (iii) பிளாசிப் போர் C ரிலி
 (iv) ட்றஃபல்கார்ப் போர் D றொவர்ட் கிளைவ்
 (v) வாட்டலூப் போர் E நெல்ஸன்
 (1) ACEBD (2) BCDEA (3) AECBD (4) BDEAC (5) CEDBA (.....)
19. X Y
 (i) ஆர்ஜென்ற்றீனா A ட்றப்பொலி
 (ii) லிபியா B டாக்கா
 (iii) இற்றோனீசியா C பாங்கொக்
 (iv) தாய்லாந்து D ஜக்கர்த்தா
 (v) வங்கலாதேஷ் E புவநோஸ் ஜறேஸ்
 (1) BDCEA (2) CBDAE (3) ECDAB (4) CABDE (5) EADCB (.....)
20. X Y
 (i) பக்லார் போர் A பாரிஸ் ஒப்பந்தம்
 (ii) கஞ்சாப் போர் B அலஹபாத் உடன்படிக்கை
 (iii) கிறிமியப் போர் C வேர்ஸைல் உடன்படிக்கை
 (iv) ரஷ்யா - ஜப்பான் போர் D நான்கிங் உடன்படிக்கை
 (v) முதலாம் உலகப் போர் E போட்ஸ்மத் உடன்படிக்கை
 (1) CABED (2) BDAEC (3) BAEDC (4) CBEAD (5) DEABC (.....)
21. X Y
 (i) இளைய இத்தால் A சுவாமி தயாநந்தர்
 (ii) ஆர்ய சமாதம் B ஹோ சி மின்
 (iii) சமயஞான சங்கம் C விநோ வா பாவே
 (iv) பூமிதான இயக்கம் D மஸ்ஸினி
 (v) வியெற்றின் E ப்ளவற்ற்சி
 (1) BAEDC (2) ACBDE (3) DAECB (4) BCDEA (5) DECAB (.....)
22. X Y
 (i) சார்ள்ஸ் டிக்கின்ஸ் A 'தாய்' (Mother)
 (ii) ஹற்றிஎற்ற் பீச்சர் ஸற்ற்ரோங் B கீதாஞ்சலி
 (iii) மக்ஸிம் கோர்க்கி C ஒலிவர் ட்விஸற்ற் (Oliver Twist)
 (iv) ரவீற்றிரநாத் தாகூர் D அங்கிள் ரொம்ஸ் கபின் (Uncle Tom's Cabin)
 (v) பேர்ள் எஸ். பக் E நல்ல பூமி (Good Earth)
 (1) CDABE (2) DABCE (3) CADEB (4) DBCAE (5) ECDAB (.....)
23. X Y
 (i) மார்ஷல் ரற்ற்ரோ A பாகிஸ்தான்
 (ii) முகம்மது அலி ஜன்னா B எகிப்து
 (iii) அப்துர் நாஸர் C சிங்கப்பூர்
 (iv) லீ குவான் யூ D சிலி
 (v) சல்வடோர் அலெண்டே E யூகோசிலாவியா
 (1) EBCAD (2) CABED (3) DEBAC (4) CDEAB (5) EABCD (.....)

24. X
 (i) சர்வதேச நீதிமன்றம் (ICJ)
 (ii) உலக வங்கி
 (iii) ஐக்கிய நாடுகள் சிறுவர் நிதியம் (UNICEF)
 (iv) ஐக்கிய நாடுகள் கல்வி, விஞ்ஞான பண்பாட்டு நிறுவனம் (UNESCO)
 (v) உலக சுகாதார நிறுவனம் (WHO)
- Y
 A நியூ யோர்க்
 B ஹெக்
 C வாஷிங்டன்
 D ஜெனீவா
 E பாரிஸ்
- (1) CBAED (2) DACBE (3) CDABE (4) BCAED (5) BAECD (.....)
25. X
 (i) 1947
 (ii) 1949
 (iii) 1960
 (iv) 1963
 (v) 1971
- Y
 A இந்தோனேசியாவின் சுதந்திரம்
 B வெல்ஜியன் கொங்கோவின் சுதந்திரம்
 C பங்களாதேஷ் உருவானமை
 D இந்தியாவின் சுதந்திரம்
 E கென்யாவின் சுதந்திரம்
- (1) DABCA (2) ECDBA (3) DBACE (4) EDBCA (5) BDCAE (.....)
- 26 - 30 ஆகிய வினாக்கள் ஒவ்வொன்றிலும் ஒரு தலைப்பின் கீழ் ஐந்து விடயங்கள் தரப்பட்டுள்ளன. அவற்றில் ஒன்று உரிய தலைப்புடன் பொருந்தாது. அதனைத் தெரிவு செய்து அதன் இலக்கத்தைப் புள்ளிக் கோட்டின் மீது எழுதுக.
26. 1770 இல் ஒஸ்திரேலியாவைக் கண்டுபிடித்த ஆங்கிலேயர் யார் ?
 (1) ஜோன் கபொந் (2) ஹென்றி ஹட்ஸன்
 (3) வால்ட்ரர் றலி (4) ஜேம்ஸ் குக்
 (5) ஜோர்ஜ் மக்கார்ட்னி (.....)
27. எந்தக் காலனித்துவ நாடு பிரித்தானியப் பேரரசின் முடிக்குரிய அணிகலன் என்று கருதப்பட்டது ?
 (1) கனடா (2) இந்தியா
 (3) இலங்கை (4) ஒஸ்திரேலியா
 (5) நியூசீலாந்து (.....)
28. 1853 இல் ஜப்பானைக் கடல்வழியாக அடைந்த அமெரிக்கக் கடற்படை அதிகாரியின் பெயர் யாது ?
 (1) ஹென்றி ஹார்டிஞ் (2) மிலார்ட் ஃபில்மோர்
 (3) மதியூ C. பெரி (4) வில்லியம் ற்ராஃப்ற்
 (5) பிரான்சிஸ் வேர்டன் ஹரிஸன் (.....)
29. கூமிங் தாங் கட்சியின் ஸ்தாபகர் யார் ?
 (1) சுங் யு - வேய் (2) யூஆன் ஷீ - கை
 (3) சன் யற் - லென் (4) சென் தூ ஸியூ
 (5) சூ என் - லாய் (.....)
30. சர்வதேச சங்கத்தின் தலைமைச் செயலகம் எந்த நகரத்தில் அமைந்திருந்தது ?
 (1) நியூயோர்க்
 (2) ஜெனீவா
 (3) பாரிஸ்
 (4) உரோமாபுரி
 (5) பிரிஸ்பெல்ஸ் (.....)

- 31 - 35 ஆகிய வினாக்கள் ஒவ்வொன்றுக்கும் (A), (B), (C), (D) என்னும் நான்கு மாற்று விடைகள் தரப்பட்டுள்ளன. அவற்றுள் ஒன்று அல்லது பல சரியான விடைகளாகும். சரியான விடையை அல்லது விடைகளைத் தெரிவு செய்து

- (A) யும் (B) யும் மட்டும் சரியாயின் 1 எனவும்
 (B) யும் (C) யும் மட்டும் சரியாயின் 2 எனவும்
 (C) யும் (D) யும் மட்டும் சரியாயின் 3 எனவும்
 (A) யும் (C) யும் மட்டும் சரியாயின் 4 எனவும்

ஒரு விடை மட்டும் அல்லது இரண்டிற்கு மேற்பட்ட விடைகள் சரியாயின் 5 எனவும் புள்ளிக் கோட்டில் எழுதுக.

அறிவுறுத்தல்களின் சுருக்கம்				
1	2	3	4	5
(A) யும் (B) யும் மட்டும் சரி	(B) யும் (C) யும் மட்டும் சரி	(C) யும் (D) யும் மட்டும் சரி	(A) யும் (C) யும் மட்டும் சரி	ஒரு விடை மட்டும் அல்லது இரண்டிற்கு மேற்பட்ட விடைகள் சரி

31. 15 ஆம், 16 ஆம் நூற்றாண்டுகளில் ஏற்பட்ட நாடுகாண் பயணங்களைப் பற்றிய மேல்வரும் கூற்றுக்களில் எது/ எவை சரியானது/ சரியானவை ?
- (A) போர்த்துக்கேயரின் நாடுகாண்பயணங்கள் தொடக்கத்தில் கப்பலோட்டி ஹென்றியின் ஆதரவுடன் நடைபெற்றன.
 (B) போர்த்துக்கேய ஆட்சியாளரின் உதவியோடு கிறிஸ்தோபர் கொலம்பஸ் இந்தியாவை அடைந்தான்.
 (C) ஐரோப்பிய தேசங்கள் கடல்கடந்த சாம்ராச்சியங்களை உருவாக்கியமை நாடுகாண்பயணங்களின் மிக முக்கியமான விளைவுகளில் ஒன்றாகும்.
 (D) அல்ஃபோன்ஸோ அல்பர்கேர்க் போர்த்துக்கேயரின் கடல்கடந்த சாம்ராச்சியத்தின் ஸ்தாபனாவார். (.....)
32. இங்கிலாந்திலே பாராளுமன்ற ஆட்சிமுறையின் வளர்ச்சி பற்றிய மேல்வரும் கூற்றுக்களில் எது/ எவை சரியானது/ சரியானவை ?
- (A) ஸ்ருவர்ட் அரசர்கள் பாராளுமன்றத்தைப் பலப்படுத்தும் கொள்கையைக் கடைப்பிடித்தனர்.
 (B) 1688 ஆங்கிலப் புரட்சி இங்கிலாந்திலே பாராளுமன்ற ஆட்சிமுறையின் வளர்ச்சியில் ஒரு பிரதானமான கட்டத்தைக் குறிக்கின்றது.
 (C) பிரபுக்கள் சபையின் அதிகாரங்கள் 1911 இலே மட்டுப்படுத்தப்பட்டன.
 (D) இரண்டாம் உலகப் போரின் பின்னர் இங்கிலாந்திற் சர்வஜன வாக்குரிமை வழங்கப்பட்டது. (.....)
33. 1789 ஆம் ஆண்டுப் பிரெஞ்சுப் புரட்சி பற்றிய மேல்வரும் கூற்றுக்களில் எது/ எவை சரியானது/ சரியானவை ?
- (A) வஸ்நர்ல் கோட்டையினை அழித்தமை பிரெஞ்சுப் புரட்சியின் ஆரம்ப நிகழ்ச்சியாகும்.
 (B) 1789 ஓகஸ்த்ரீலே தேசிய சபை மனித உரிமைகள் பிரகடனத்தை வெளியிட்டது.
 (C) புரட்சிக் காலத்திலே பதினாறாம் (XVI) லூயி மன்னரைக் கைப்பற்றிச் சிரச்சேதம் செய்தனர்.
 (D) புரட்சியின் குழந்தையென்று நோவெஸ்பியர் கருதப்படுவார். (.....)
34. இந்தோனீசிய விடுதலைப் போராட்டம் பற்றிய மேல்வரும் கூற்றுக்களில் எது/ எவை சரியானது/ சரியானவை ?
- (A) இருபதாம் நூற்றாண்டின் நடுப்பகுதிவரை இந்தோனீசியாவில் ஒல்லாந்தரின் ஆட்சி நிலவியது.
 (B) இந்தோனீசியாவின் சுதந்திர இயக்கத்திற்கு அஹமது சுகர்னோ தலைமை தாங்கினார்.
 (C) ஹோ சி மின் இந்தோனீசிய தேசியவாத இயக்கத்தின் மற்றொரு தலைவராவார்.
 (D) சுதந்திரத்திற்குப் பின் இந்தோனீசியா மலாயாவோடு இணைக்கப்பட்டது. (.....)
35. மேல்வரும் கூற்றுக்களில் எது/ எவை இரண்டாம் உலகப் போர் குறித்துச் சரியானது/ சரியானவை ?
- (A) ஒஸ்திரியாவின் பெருங்கோமான பிரான்ஸ் பேர்திந்து படுகொலை செய்யப்பட்டமையே இரண்டாம் உலகப் போருக்கான உடனடி காரணமாகும்.
 (B) ஜேர்மனி வெற்றி பெற்றமையோடு போர் முடிவற்றது.
 (C) போர் முடிந்த பின் உலக சமாதானத்தை நிலைபெறச் செய்வதற்கென்று ஐக்கிய நாடுகள் சபை உருவாக்கப்பட்டது.
 (D) இரண்டாம் உலகப் போர் ஐரோப்பிய தேசங்களின் கடல்கடந்த சாம்ராச்சியங்களின் சீர்குலைப்பைத் துரிதப்படுத்தியது. (.....)

- 36 - 40 ஆகிய வினாக்களில் இரண்டு கூற்றுகள் வீதம் தரப்பட்டுள்ளன. ஒவ்வொரு வினா தொடர்பாகவும் உள்ள கூற்றுச் சோடிக்குக் கீழே உள்ள அட்டவணையிற் காணப்படும் 1, 2, 3, 4, 5 என்பவற்றில் மிகவும் பொருந்துவது எதுவென்பதைத் தெரிந்து அதன் இலக்கத்தைப் புள்ளிக் கோட்டில் எழுதுக.

அட்டவணை

முதலாம் கூற்று	இரண்டாம் கூற்று
1. சரியானது	பிழையானது
2. சரியானது	சரியானது
3. பிழையானது	பிழையானது
4. பிழையானது	சரியானது
5. சரியானது	சரியானதும், முதலாம் கூற்றினை நன்றாக விளக்குவதுமாகும்.

முதலாம் கூற்று	இரண்டாம் கூற்று	
36. இத்தாலிய நகரங்களில் ஆரம்பமாகிய சமய சீர்திருத்த இயக்கம் மேற்கு ஐரோப்பா முழுவதும் பரவியது.	சமய சீர்திருத்தத்தோடு மத்திய ஐரோப்பாவிலே சமய விவகாரங்களில் நிலவிய ஒற்றுமை முடிவடைந்தது.	(.....)
37. 1898 இல் சீயம் அமெரிக்காவின் காலனித்துவ நாடாகியது.	சீனாவில் 1911 இல் நடைபெற்ற புரட்சி சியாங்கை ஷெக்கின் தலைமையில் நடைபெற்றது.	(.....)
38. சீனாவில் 1911 இல் ஏற்பட்ட புரட்சியின் விளைவாக மஞ்ச அரசங்கம் அழிந்தது.	1917 ஆம் ஆண்டு வல்ஃபர் பிரகடனம் மூலம் பலஸ்தீனத்தில் ஒரு யூதர் அரசை உருவாக்குவதற்குப் பிரித்தானிய அரசாங்கம் உத்தரவாதம் அளித்தது.	(.....)
39. இரண்டாம் உலகப் போரின் விளைவாக உலகத்து வலுச்சம நிலையில் மாற்றம் ஏற்பட்டது.	இரண்டாம் உலகப் போரின் விளைவாக ஐக்கிய அமெரிக்கா, சோவியத் ஒன்றியம் ஆகியன உலகில் மிகப் பலமான வல்லரசுகளாகிவிட்டன. பிரித்தானியா, பிரான்ஸ், ஜேர்மனி ஆகியன இரண்டாம் நிலைக்குத் தள்ளப்பட்டன.	(.....)
40. இருபதாம் நூற்றாண்டின் நடுப்பகுதியில், வெள்ளையர்களையும் கறுப்பினத்தவரையும் சமுதாயத்தில் எல்லா மட்டங்களிலும் வேறுபடுத்துவதற்குத் தென்னாபிரிக்க அரசாங்கம் கடைப்பிடித்த கொள்கை அப்பார்தீட் என்றும் சொல்லப்பட்டது.	ஐவர்ஹர்லால் நேருவிற்குப் பின்பு 1964 இல் அவரது மகன் இந்திரா காந்தி இந்தியாவின் இரண்டாவது பிரதமராகப் பதவியேற்றார்.	(.....)

**

සියලු ම හිමිකම් ඇවිරිණි / முழுப் பதிப்புரிமையுடையது / All Rights Reserved]

ශ්‍රී ලංකා විභාග දෙපාර්තමේන්තුව ශ්‍රී ලංකා විභාග දෙපාර්තමේන්තුව ශ්‍රී ලංකා විභාග දෙපාර්තමේන්තුව ශ්‍රී ලංකා විභාග දෙපාර්තමේන්තුව ශ්‍රී ලංකා විභාග දෙපාර්තමේන්තුව
 இலங்கைப் பரீட்சைத் திணைக்களம் இலங்கைப் பரීட்சைத் திணைக்களம் இலங்கைப் பரීட்சைத் திணைக்களம் இலங்கைப் பரීட்சைத் திணைக்களம் இலங்கைப் பரීட்சைத் திணைக்களம்
 Department of Examinations, Sri Lanka Department of Examinations, Sri Lanka Department of Examinations, Sri Lanka Department of Examinations, Sri Lanka Department of Examinations, Sri Lanka

අධ්‍යයන පොදු සහතික පත්‍ර (උසස් පෙළ) විභාගය, 2012 අගෝස්තු
 கல்விப் பொதுத் தராதரப் பத்திர(உயர் தர)ப் பரீட்சை, 2012 ஓகஸ்த்
 General Certificate of Education (Adv. Level) Examination, August 2012

නව නිර්දේශ
 புதிய பாடத்திட்டம்
 New Syllabus

ඉතිහාසය II (II කොටස)
 வரலாறு II (பகுதி II)
 History II (Part II)

25-C T II

நவீன உலக வரலாறு - கி.பி 1500 - 1989

அறிவுறுத்தல்கள்:

* முதலாம் வினாவுக்கும் வேறு ஏதாவது மூன்று வினாக்களுக்கும் விடை எழுதுக.

(முதலாம் வினாவுக்கு விடையளிப்பதற்கு உலகப் புறவுருவப் படம் வழங்கப்படும்).

பகுதி II

- தரப்பட்டுள்ள உலகப் புறவுருவப் படத்தில் மேல்வரும் எல்லா இடங்களையும் குறித்துப் பெயரிட்டு, அவற்றுள் எவையேனும் இரண்டினைப் பற்றிச் சுருக்கமான வரலாற்றுக் குறிப்புகள் எழுதுக.
 - நைல் நதி
 - கியூபா
 - ஹட்சன் வளைகுடா
 - போர்னியா
 - கல்கத்தா
 - நோர்வே
 - கோல்ட் கோய்ற்
 - பனாமாக் கால்வாய்

(சரியாகக் குறித்துப் பெயரிடுவதற்கு 01 புள்ளி ; சிறுகுறிப்பு ஒவ்வொன்றுக்கும் 05 புள்ளிகள்)
- மறுமலர்ச்சியோடு நவீன காலம் ஆரம்பமாகியது.
 - மறுமலர்ச்சி ஆரம்பமாகிய நாட்டின் பெயரைக் குறிப்பிடுக. (01 புள்ளி)
 - மறுமலர்ச்சி ஏற்படுவதற்கு ஏதுவான இரண்டு காரணங்களைக் குறிப்பிடுக. (02 புள்ளிகள்)
 - ஐரோப்பியப் பண்பாடு தொடர்பாக 'மறுமலர்ச்சி' என்னும் சொல்லினைச் சுருக்கமாக விளக்குக. (03 புள்ளிகள்)
 - மறுமலர்ச்சியின் பிரதான அம்சங்களைப் பரிசீலித்து, முன்னே சொல்லப்பட்டுள்ள கூற்றினை ஆராய்க. (08 புள்ளிகள்)
- "கைத்தொழிற் புரட்சி 19 ஆம் நூற்றாண்டிலே ஐரோப்பாவில் சமூக, பொருளாதார மாற்றத்திற்கு ஏதுவான பிரதான காரணமாகும்".
 - கைத்தொழிற் புரட்சி ஆரம்பித்த நாட்டின் பெயரைக் குறிப்பிடுக. (01 புள்ளி)
 - கைத்தொழிற் புரட்சியின் ஆரம்பக் கட்டத்தில் பருத்தி ஆடைத் தொழில் தொடர்பாக ஏற்பட்ட இரு புதிய கண்டுபிடிப்புகளைக் குறிப்பிடுக. (02 புள்ளிகள்)
 - கைத்தொழிற் புரட்சி ஏற்பட்டமைக்கு ஏதுவாகவிருந்த மூன்று காரணங்களைக் குறிப்பிடுக. (03 புள்ளிகள்)
 - கைத்தொழிற் புரட்சியின் குறுகியகால, நீண்டகால விளைவுகள் தொடர்பாக மேலே குறிப்பிடப்பட்ட கூற்றினை நுணுக்கமாகப் பரிசீலனை செய்க. (08 புள்ளிகள்)
- 1857 இற் பிரித்தானியருக்கு எதிராக ஏற்பட்ட கிளர்ச்சிக்கு ஏதுவான பிரதானமான காரணங்களை ஆராய்க. (08 புள்ளிகள்)
 - குறிப்பாக அதன் விளைவுகளைக் கவனத்திற் கொண்டு பிரித்தானியர் கால இந்திய வரலாற்றில் அக்கிளர்ச்சியின் முக்கியத்துவத்தைப் பரிசீலனை செய்க. (06 புள்ளிகள்)
- பத்தொன்பதாம் நூற்றாண்டிலே ஜப்பானில் பொருளாதார அமைப்பு, சமூக அமைப்பு, அரசியல் அமைப்பு என்பன சீரழிந்தமைக்கான காரணங்களைச் சுருக்கமாக ஆராய்க. (14 புள்ளிகள்)

6. “மேனாட்டு வரலாற்றில் முதலாம் உலகப் போர் ஒரு திருப்புமுனையாகும்”.
- (i) முதலாம் உலகப் போருக்கு ஏதுவான உடனடிக் காரணம் யாது ? (01 புள்ளி)
- (ii) உலகப் போரிற் பங்கு கொண்ட எதிரணிகளைச் சேர்ந்த இரு பகை நாடுகளின் பெயர்களைக் குறிப்பிடுக. (02 புள்ளிகள்)
- (iii) முதலாம் உலகப் போரின் முடிவிலே ஏற்பட்ட வேர்வை உடன்படிக்கையின் பிரதானமான அம்சங்களைச் சுருக்கமாகக் குறிப்பிடுக. (03 புள்ளிகள்)
- (iv) முதலாம் உலகப் போரின் விளைவுகளைக் குறித்து மேலே தலைப்பிலுள்ள கூற்றினை நுணுக்கமாக ஆராய்க. (08 புள்ளிகள்)
7. ஒன்றில் (A) பகுதிக்கு அல்லது (B) பகுதிக்கு விடை எழுதுக.
- (A) (i) 1917 ஆம் ஆண்டில் ரஷ்யப் புரட்சி ஏற்படுவதற்கு ஏதுவான பின்னணியைப் பரிசீலனை செய்க. (08 புள்ளிகள்)
- (ii) வொல்ஷெபிக் கட்சியினர் வெற்றி பெற்றமைக்கு ஏதுவான காரணங்களை விளக்குக. (06 புள்ளிகள்)
- (B) (i) சீனாவிலே பொதுவுடமைப் புரட்சி ஏதுவான பிரதானமான காரணங்கள் யாவை ? (08 புள்ளிகள்)
- (ii) அது வெற்றிபெறுவதில் மா சே - துங் கொண்டிருந்த பங்கினை மதிப்பிடுக. (06 புள்ளிகள்)
8. ஐக்கிய அமெரிக்கா, சோவியத் ஒன்றியம் ஆகியவற்றின் தலைமையிலுள்ள வல்லரசுகளுக்கிடையில் 1960 வரை இடம்பெற்ற ஆதிக்கப் போட்டியினைச் சுருக்கமாகப் பரிசீலனை செய்க. (14 புள்ளிகள்)
9. மேல்வருவனவற்றுள் எவையேனும் இரண்டின் வரலாற்று முக்கியத்துவம் பற்றிச் சுருக்கமான குறிப்புகள் எழுதுக.
- (i) ஃபிராங்ளின் டி ரூஸ்வெல்ட் (ii) முகம்மது அலி ஜின்னா
- (iii) சுகர்ணோ (iv) அப்துல் நஸீர்
- (v) ஃபிடெல் கஸ்த்ரோ (ஒன்றுக்கு 07 புள்ளிகள்)

* * *

உதயசூரியன்
உதயசூரியன்

The National e-learning Portal
The General Education Board

AL/2012/25-C-T-II

සියලු ම හිමිකම් ඇවිරිණි / முழுப் பதிப்புரிமையுடையது / All Rights Reserved

ශ්‍රී ලංකා විභාග දෙපාර්තමේන්තුව ශ්‍රී ලංකා විභාග දෙපාර්තමේන්තුව ශ්‍රී ලංකා විභාග දෙපාර්තමේන්තුව
இலங்கைப் பரீட்சைத் திணைக்களம் இலங்கைப் பரීட்சைத் திணைக்களம் இலங்கைப் பரීட்சைத் திணைக்களம்
Department of Examinations, Sri Lanka Department of Examinations, Sri Lanka Department of Examinations, Sri Lanka

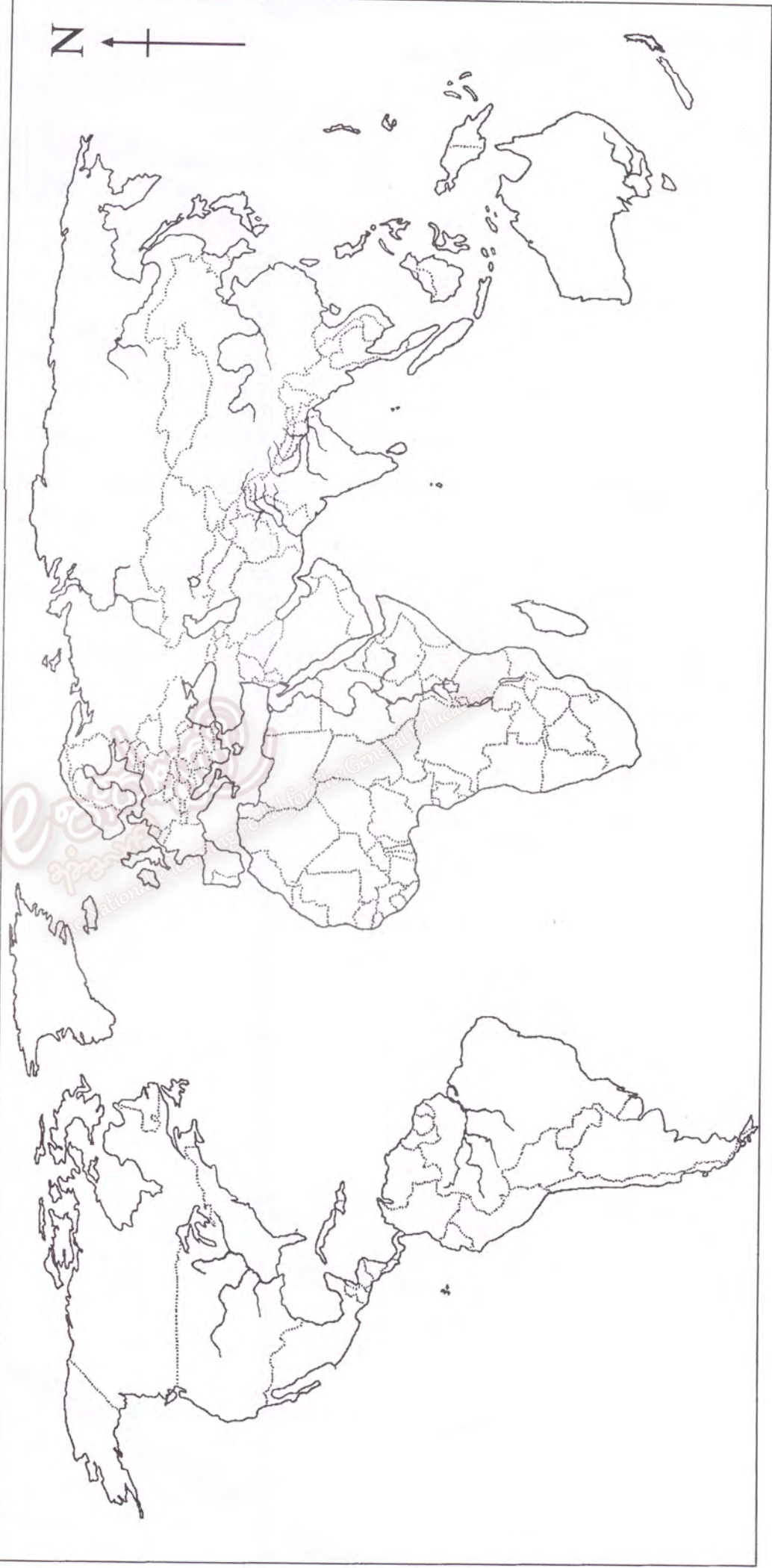
අධ්‍යයන සෞඛ්‍ය සහ වෛද්‍ය (උසස් මට්ටම) විභාගය, 2012 අගෝස්තු
கல்விப் பொதுத் தராதரப் பத்திர(உயர் தர)ப் பரீட்சை, 2012 ஓகஸ்ட்
General Certificate of Education (Adv. Level) Examination, August 2012

ප්‍රශ්න අංකය } 01
வினா இல. }
Question No. }

ඉතිහාසය II
வரலாறு II
History II

නව නිර්දේශය
புதிய பாடத்திட்டம்
New Syllabus

විභාග අංකය }
சுட்டுஎண் }
Index No. }



ශ්‍රී ලංකා විභාග දෙපාර්තමේන්තුව ශ්‍රී ලංකා විභාග දෙපාර්තමේන්තුව ශ්‍රී ලංකා විභාග දෙපාර්තමේන්තුව ශ්‍රී ලංකා විභාග දෙපාර්තමේන්තුව ශ්‍රී ලංකා විභාග දෙපාර්තමේන්තුව
 இலங்கைப் பரீட்சைத் திணைக்களம் இலங்கைப் பரීட்சைத் திணைக்களம் இலங்கைப் பரීட்சைத் திணைக்களம் இலங்கைப் பரීட்சைத் திணைக்களம் இலங்கைப் பரීட்சைத் திணைக்களம்
 Department of Examinations, Sri Lanka Department of Examinations, Sri Lanka Department of Examinations, Sri Lanka Department of Examinations, Sri Lanka Department of Examinations, Sri Lanka

අධ්‍යයන පොදු සහතික පත්‍ර (උසස් පෙළ) විභාගය, 2012 අගෝස්තු
 கல்விப் பொதுத் தராதரப் பத்திர(உயர் தர)ப் பரீட்சை, 2012 ஓகஸ்ட்
 General Certificate of Education (Adv. Level) Examination, August 2012

නව නිර්දේශ
 புதிய பாடத்திட்டம்
 New Syllabus

ඉතිහාසය II (I කොටස)
 வரலாறு II (பகுதி I)
 History II (Part I)

25-B T II

පැය තුනයි
 மூன்று மணித்தியாலம்
 Three hours

சுட்டெண்:

ஐரோப்பிய வரலாறு - ஆதி காலம் முதல் கி.பி 1989 வரை

அறிவுறுத்தல்கள்:

- * இவ்வினாத்தாளில் 40 வினாக்கள் உள்ளன. எல்லா வினாக்களுக்கும் இவ்வினாப்பத்திரத்தில் விடை எழுதுக.
- * ஒவ்வொரு வினா தொடர்பாகவும் ஐவந்து விடைகள் தரப்பட்டுள்ளன. அவற்றுள் ஒன்று சரியானது.
- * ஒரு வினாவுக்கு உரிய சரியான விடையைத் தெரிவு செய்த பின் அதனை இப்பத்திரத்திலே அறிவுறுத்தல்களுக்கமையக் குறிப்பிடுக.
- * இவ்வினாப்பத்திரத்திற்கு 40 புள்ளிகள் வழங்கப்படும்.
- * உமது விடைத்தாள்களை ஒப்படைக்கும் பொழுது பகுதி I இற்கான விடைகளை எழுதிய பின்னர், பகுதி II இற்கான விடைத்தாள்தான் இணைத்து ஒப்படைக்க வேண்டும். இரண்டு பகுதிகளுக்கும் வழங்கப்பட்டுள்ள நேரம் மூன்று மணித்தியாலமாகும்.

பகுதி I

● 1-10 வரையுள்ள வினாக்கள் ஒவ்வொன்றிலும் ஐந்து பெயர்கள் வீதம் தரப்பட்டுள்ளன. அப்பெயர்களுள் ஒன்று ஏதோ காரணத்தினால் ஏனையவற்றுடன் பொருந்தாது. பொருந்தாத அப்பெயரை இனங்கண்டு அதன் இலக்கத்தைப் புள்ளிக் கோட்டில் எழுதுக.

1. (1) இயூஃபிநேற்றிஸ் (2) கீற்ற் (3) சைப்ரஸ்
 (4) சிசிலி (5) கோர்ஸிகா (.....)
2. (1) அதென்ஸ் (2) மெகாரா (3) மிலெற்றஸ்
 (4) ஸமோஸ் (5) பாரசீகம் (.....)
3. (1) முடியாட்சி (2) குழுவாட்சி (Oligarchy) (3) கொடுங்கோலாட்சி
 (4) இறைமுறை ஆட்சி (5) மக்களாட்சி (.....)
4. (1) யூதர் (2) ஒஸ்ற்றோகொதியர் (3) விஸிகொதியர்
 (4) லொம்பாடர் (5) வன்டோலர் (.....)
5. (1) வொலோஞ்ஞா (2) பாரிஸ் (3) அபேலார்ட்
 (4) ஒக்ஸ்போர்ட் (5) ஹைடல்வேர்க் (.....)
6. (1) லங்காஸ்ற்றர் (2) ஃபிறாங்க் (3) யோர்க்
 (4) ரியூடர் (5) ஹனோவர் (.....)
7. (1) ஜோன் கவொற் (2) கார்ட்டியர் (3) ஜோலியெற்
 (4) லா ஸால் (5) மார்க்குவெற் (.....)
8. (1) வொஸ்பொறஸ் (2) டார்டநெல்ஸ் (3) ஜிவ்றோல்ற்றர்
 (4) மலாக்கா (5) பனாமா (.....)
9. (1) நொவேர்ட் வால்போல் (2) நொவேர்ட் ஓவன் (3) நெஹ்னி பாமேர்ஸ்ற்றன்
 (4) வென்ஜமின் டிஸ்றைலி (5) வில்லியம் கிளாட்ஸ்ற்றன் (.....)
10. (1) சர்வதேச நாணய நிதியம் (IMF)
 (2) சர்வதேச நிதிமன்றம் (ICJ)
 (3) ஐக்கிய நாடுகள் பிள்ளைகள் நிதியம் (UNICEF)
 (4) வட அத்திலாந்திக் உடன்படிக்கை நிறுவனம் (NATO)
 (5) ஐக்கிய நாடுகள் அபிவிருத்தித் திட்டம் (UNDP) (.....)

2865

- 11 - 15 வரையுள்ள வினாக்கள் ஒவ்வொன்றிலும் ஐந்து சோடிப் பெயர்கள் தரப்பட்டுள்ளன. அவற்றுள் ஒரு சோடியிலுள்ள பெயர்கள் ஒன்றுடனொன்று பொருந்தவில்லை. பொருந்தாத அச்சோடியைத் தெரிந்து அதன் இலக்கத்தைப் புள்ளிக் கோட்டின் மீது எழுதுக.

11. (1) ஸெயஸ் - ஜூப்பிற்றர்
 (2) அதீனா - மினேர்வா
 (3) அப்போலோ - சாத்தான் (Satan)
 (4) அஃப்றொடைந் - வீனஸ்
 (5) பொஸைடென் - நெப்டிரியூன் (.....)
12. (1) சோக்கிறற்றீஸ் - நல்லொழுக்கம் அறிவாகும்
 (2) ஹிப்போகிறற்றீஸ் - ஒவ்வொரு நோய்க்கும் இயற்கையான காரணமுண்டு
 (3) பிளேற்றோ - தத்துவஞானி - அரசன்
 (4) அரிஸ்டோடில் - மனிதன் அரசியல் விலங்காவான்
 (5) மக்கியாவெலி - மனிதன் சுதந்திரத்தோடு பிறக்கின்றான் (.....)
13. (1) உரோமப் பேரரசு - உரோமாபுரி
 (2) உதுமானியப் பேரரசு - கொன்ஸ்தாந்தினோபிள்
 (3) ஒஸ்திரியப் பேரரசு - வியென்னா
 (4) பிரித்தானியப் பேரரசு - கிளாஸ்கோ
 (5) ஜேர்மனியப் பேரரசு - வேர்லின் (.....)
14. (1) நூற்றாண்டுப் போர் - பிரான்ஸும் பங்குகொண்டது
 (2) முப்பதாண்டுப் போர் - பிரான்ஸும் பங்குகொண்டது
 (3) ஏழாண்டுப் போர் - பிரான்ஸும் பங்குகொண்டது
 (4) கிறிமியாப் போர் - பிரான்ஸும் பங்குபற்றியது
 (5) ஏழுமூன்றுப் போர் - பிரான்ஸும் பங்குபற்றியது (.....)
15. (1) ஹெஸ்பெர்துசன் - வொஹ்மியா
 (2) லூதரன் பிரிவினர் - கிரேக்கம்
 (3) ஹியூசுநோட்ஸ் - பிரான்ஸ்
 (4) பியூற்றென்ஸ் - இங்கிலாந்து
 (5) பிறெஸ்விற்றிரியர் - ஸ்கொட்லாந்து (.....)

- 16 - 25 வரையுள்ள ஒவ்வொரு வினாவிலும் சில பெயர்கள்/ திசுதிகள்/ கூற்றுகள் என்பவற்றின் தொகுதிகள் X, Y என்னும் நிரல்களிலே தரப்பட்டுள்ளன. Y நிரலிலே தரப்பட்டுள்ள பெயர்கள்/ திசுதிகள்/ கூற்றுகள் X நிரலிலே தரப்பட்டுள்ளவற்றுடன் ஏதோ ஒரு வகையிலே தொடர்புபட்டவை. ஆனால் அவை சரியான தொடர் ஒழுங்கிலே தரப்படவில்லை. X நிரலில் உள்ளவற்றை Y நிரலிற்கேற்ப சரியாக ஒழுங்குபடுத்தும்போது கீழே தரப்பட்டுள்ள ஐந்து சேர்மானங்களுள் ஒன்று சரியானதாகும். சரியான சேர்மானத்தைத் தெரிவுசெய்து அதன் இலக்கத்தைப் புள்ளிக் கோட்டில் எழுதுக.

16. X Y
- (i) கிளீஸ்தெனீஸ் A மருத்துவத்தின் தந்தை
 (ii) ஹெரோடோற்றஸ் B அதீனிய ஜனநாயகத்தின் தந்தை
 (iii) ஹிப்போகிறற்றீஸ் C முதலாவது உரோமப் பேரரசன்
 (iv) ஒக்த்ரேவியன் D மனிதநேயத்தின் தந்தை
 (v) பெற்றார்க் E வரலாற்றின் தந்தை
- (1) D E C A B (2) C E A B D (3) D E A C B (4) B E A C D (5) E D A C B (.....)

17. X Y
- (i) பிளேற்றோ A டெசமெறோன் (Decameron)
 (ii) ரசிற்றஸ் B யுற்றோப்பியா (Utopia)
 (iii) வொக்காசியோ C மடைமை மீதான புகழ்ச்சி (Praise of Folly)
 (iv) இராஸ்மஸ் D 'குடியரசு' (The Republic)
 (v) தொமஸ் மோர் E வரலாறுகள் (Histories)
- (1) D E C A B (2) C E A B D (3) D E A C B (4) B E A C D (5) E D A C B (.....)

18. X Y
 (i) தொலெமி A பரிணாமக் கோட்பாடு
 (ii) கோப்பேர்நிசஸ் B சார்பியற் கோட்பாடு (Theory of relativity)
 (iii) ஜஸாக் நியூற்றன் C பிரஞ்சு அசைவுப் பிரமாணம்
 (iv) சார்ன்ஸ் டார்வின் D பூமியை மையமாகக் கொண்ட பிரபஞ்சக் கோட்பாடு
 (v) அல்வேர்ட் ஜன்ஸ்பீர்ன் E சூரியனை மையமாகக் கொண்ட பிரபஞ்சக் கோட்பாடு
 (1) D E C A B (2) C E A B D (3) D E A C B (4) B E A C D (5) E D A C B (.....)
19. X Y
 (i) 313 A நான்ற் பிரகடனம்
 (ii) 1215 B கிறிஸ்தவருக்கு வழிபாட்டுச் சுதந்திரம் வழங்கிய மிலான் பிரகடனம்
 (iii) 1598 C புரட்சிகள் ஏற்பட்ட வருடம்
 (iv) 1848 D வேர்ளின் சுவர் இடிக்கப்பட்டமை
 (v) 1989 E பெரிய பட்டயம் (Magna Carta)
 (1) D E C A B (2) C E A B D (3) D E A C B (4) B E A C D (5) E D A C B (.....)
20. X Y
 (i) வலோய் A இங்கிலாந்து
 (ii) பிறகன்ஸா B இத்தாலி
 (iii) றொமானோவ் C ரஷ்யா
 (iv) ஸ்ருவர்ட் D பிரான்ஸ்
 (v) சலோய் E போர்த்துக்கல்
 (1) D E C A B (2) C E A B D (3) D E A C B (4) B E A C D (5) E D A C B (.....)
21. X Y
 (i) ஸ்பானியா A லூயி XIII
 (ii) இங்கிலாந்து B விக்ற்றர் இம்மானுவேல் II
 (iii) பிரான்ஸ் C மெளன் வில்லியம்
 (iv) நெதர்லாந்து D பெர்திநந்து, இஸாவெலா
 (v) இத்தாலி E ஹென்றி VII
 (1) D E C A B (2) C E A B D (3) D E A C B (4) B E A C D (5) E D A C B (.....)
22. X Y
 (i) புதிய உலகம் A பிரித்தானியப் பேரரசு
 (ii) ஒரு புவியியல் வர்ணிப்பு மட்டுமாகும் B இந்தியா
 (iii) அங்கு சூரியன் அஸ்தமிப்பதில்லை C அமெரிக்காக்கக் கண்டம்
 (iv) பிரித்தானிய முடியின் ஒளிமணி D துருக்கி
 (v) ஐரோப்பாவின் நோயாளி E இத்தாலி
 (1) D E C A B (2) C E A B D (3) D E A C B (4) B E A C D (5) E D A C B (.....)
23. X Y
 (i) தோமஸ் ஹொப்ஸ் A பயனுடைவாதம்
 (ii) மொன்றெஸ்கியூ B ஒரு நாட்டிற் சோசலிஸம்
 (iii) ஜெரெமி பெந்தம் C இடையராத புரட்சி
 (iv) லியோன் ற்றொந்ஸ்கி D அதிகார வேறாக்கம்
 (v) ஜேசெப் ஸ்ராலின் E சர்வாதிகார ஆட்சி
 (1) D E C A B (2) C E A B D (3) D E A C B (4) B E A C D (5) E D A C B (.....)
24. X Y
 (i) ஒளிமிகு புரட்சி A மனித உரிமைகள் பிரகடனம்
 (ii) அமெரிக்கப் புரட்சி B உரிமைகள் மசோதா (Bill of Rights)
 (iii) பிரெஞ்சுப் புரட்சி C தொழிலாளர் வர்க்கச் சர்வாதிகாரம்
 (iv) ரஷ்யப் புரட்சி D சர்வதேச மனித உரிமைகள் பிரகடனம்
 (v) ஜக்கிய நாடுகள் E சுதந்திரப் பிரகடனம்
 (1) D E C A B (2) C E A B D (3) D E A C B (4) B E A C D (5) E D A C B (.....)

25.

X

Y

- (i) வேர்சைல் உடன்படிக்கை A பல்கேரியா
(ii) சென்ற் ஜெர்மேயின் உடன்படிக்கை B துருக்கி
(iii) நியூலி உடன்படிக்கை C ஹங்கேரி
(iv) ட்றியானோன் உடன்படிக்கை D ஜேர்மனி
(v) லெளசான் உடன்படிக்கை E ஒஸ்த்திரியா

- (1) D E C A B (2) C E A B D (3) D E A C B (4) B E A C D (5) E D A C B (.....)

- 26 - 30 வரையுள்ள வினாக்கள் ஒவ்வொன்றுக்கும் (A), (B), (C), (D) என்னும் நான்கு மாற்று விடைகள் தரப்பட்டுள்ளன. அவற்றுள் ஒன்று அல்லது பல சரியான விடைகளாகும். சரியான விடையை அல்லது விடைகளைத் தெரிவு செய்து

- (A) யும் (B) யும் மட்டும் சரியாயின் 1 எனவும்
(B) யும் (C) யும் மட்டும் சரியாயின் 2 எனவும்
(C) யும் (D) யும் மட்டும் சரியாயின் 3 எனவும்
(A) யும் (C) யும் மட்டும் சரியாயின் 4 எனவும்

ஒரு விடை மட்டும் அல்லது இரண்டிற்கு மேற்பட்ட விடைகள் சரியாயின் 5 எனவும் புள்ளிக் கோட்டில் எழுதுக.

அறிவுறுத்தல்களின் சுருக்கம்				
1	2	3	4	5
(A) யும் (B) யும் மட்டும் சரி	(B) யும் (C) யும் மட்டும் சரி	(C) யும் (D) யும் மட்டும் சரி	(A) யும் (C) யும் மட்டும் சரி	ஒரு விடை மட்டும் அல்லது இரண்டிற்கு மேற்பட்ட விடைகள் சரி

26. மேல்வருவோருள் இசைப்பாடல்களை இயற்றிய கிரேக்க கவிஞர்கள் யாவர் ?

- (A) ஸஃபோரா
(B) பைதகரஸ்
(C) பின்டார்
(D) பெரிக்கிளீஸ்

(.....)

27. உரோமர் பண்பாடு பற்றிய குறிப்புகளில் எது/ எவை சரியானது/ சரியானவை ?

- (A) உரோமரின் கோயில்களின் பார்த்தினோன் மிகப் பிரசித்தமானது.
(B) ஃபீடியாஸ் பிரசித்தமான உரோமச் சிற்பியாவார்.
(C) உரோமப் பேரரசர்களால் ஒரு பொழுதுபோக்கிடமாகக் கொலோஸியம் கட்டப்பட்டது.
(D) உரோமரின் கட்டிடங்கள் பயன்பாடு கருதி அமைக்கப்பட்டவை.

(.....)

28. மேல்வருவம் கூற்றுக்களில் எது/ எவை மறுமலர்ச்சி தொடர்பாகச் சரியானது/ சரியானவை ?

- (A) வட இத்தாலியிலுள்ள சுதந்திரமான இராச்சியங்களில் மறுமலர்ச்சி ஆரம்பமாகியது.
(B) மறுமலர்ச்சிக் காலத்திலே கிரேக்க, லத்தீன் பண்பாட்டு வடிவங்கள் புத்துயிர் பெற்றன.
(C) துருக்கியர் கொன்ஸ்தாந்தி நோபினைக் கைப்பற்றியமை மறுமலர்ச்சி ஏற்படுவதற்கு ஏதுவான ஒரு முக்கியமான காரணமாகும்.
(D) சுப்பலோட்டி ஹென்றி (Henry the Navigator) மறுமலர்ச்சிக்கு ஆதரவு புரிந்த முதன்மையானனாரில் ஒருவராவார்

(.....)

29. மேல்வருவனவற்றுள் எவை ஒரு தேசிய அரசின் பிரதானமான அம்சங்களாகும் ?

- (A) ஒரு பலமான நிலைப்படை
(B) ஒரு பலமான மத்திய அரசாங்கம்
(C) ஒரு தகராறு புரியும் மானியப் பிரபுக்கள் வர்க்கம்
(D) அரசியல் அதிகாரப் பரவலாகம்

(.....)

30. மேல்வருவோரிற் பிரான்ஸின் முதலமைச்சர்களாக விளங்கியோர் யாவர் ?

- (A) ஹென்றி ஹட்ஸன்
(B) நிச்செலியூ
(C) மஸாறின்
(D) வோல்ட்ரேயர்

(.....)

- 31 - 35 வரையுள்ள ஒவ்வொரு வினாவிலும் ஒரு தலைப்பின் கீழ் ஐந்து விடயங்கள் தரப்பட்டுள்ளன. அவற்றில் ஒன்று உரிய தலைப்புடன் பொருந்தாது. அதனைத் தெரிவு செய்து அதன் இலக்கத்தை புள்ளிக் கோட்டின் மீது எழுதுக.

31. ஆதிகால கிறிஸ்தவம்

- (1) கிறிஸ்தவம் யேசுநாதரின் வாழ்க்கை, போதனைகள், மரணம் என்பவற்றை அடிப்படையாகக் கொண்டது.
- (2) உரோம அதிகாரிகளால் யேசுநாதர் சிலுவையில் அறையப்பட்டார்.
- (3) கடவுள் ஒருவர் என்பது கிறிஸ்தவக் கோட்பாடு.
- (4) நீரோ சக்கரவர்த்தி கிறிஸ்தவர்களுக்கு வழிபாட்டுரிமைகளை வழங்கினார்.
- (5) தியோடோசியஸ் என்னும் பேரரசர் கிறிஸ்தவத்தை உரோம பேரரசரின் அரச சமயமாக்கினார். (.....)

32. புவியியற் கண்டுபிடிப்புகள்

- (1) ஸ்பானியர், போர்த்துகேயர் ஆகியோரே புவியியற் கண்டுபிடிப்புகளின் முன்னோடிகளாவர்.
- (2) கீழைத்தேயங்களுக்குச் செல்வதற்கு ஒரு புதிய வழியைக் கண்டுகொள்வதே புவியியற் கண்டுபிடிப்புகளின் பிரதானமான நோக்கமாகும்.
- (3) வஸ்கோடாகாமாவின் பிரயாணங்களுக்கு பேர்ந்திருந்து, இஸாவெலா ஆகியோர் ஆதரவு புரிந்தனர்.
- (4) வஸ்கோடாகாமா 1498 இல் கள்ளிக்கோட்டையை (Calicut) அடைந்தார்.
- (5) அல்பர்க்கேர்க் போர்த்துகேயரின் கீழைத்தேய சாம்ராச்சியத்துக்கு அடித்தளமிட்டவரென்று கருதப்படுகிறார். (.....)

33. இத்தாலியை ஒன்றாக இணைத்தமை

- (1) இத்தாலியிலுள்ள பிரித்தானியரின் அதிகாரம் இத்தாலிய இணைப்புக்கு ஒரு பெருந்தடையாக இருந்தது.
- (2) பீட்மன் - சார்லீனியாவின் தலைமையில் இத்தாலி இணைக்கப்பட்டது.
- (3) கவுர் இத்தாலிய இணைப்பை ஏற்படுத்தியவர்.
- (4) கரிவோல்டியின் ஆதரவோடு நேபிள்ஸ், சிசிவி ஆகியவை பீட்மன் - சார்லீனியாவின் இணைக்கப்பட்டன.
- (5) உரோமாபுரி இத்தாலியின் தலைநகராக 1870 இலே பிரகடனப்படுத்தப்பட்டது. (.....)

34. இரண்டாம் உலகப் போர்

- (1) உலக வரலாற்றில் இரண்டாம் உலகப் போர் மிகப் பேரழிவை ஏற்படுத்திய போராகக் கருதப்படுகின்றது.
- (2) ஜப்பான் தோல்வியுற்றதோடு இரண்டாம் உலகப் போர் முடிவுற்றது.
- (3) உலக சமாதானத்தைப் பேணுவதற்காக இரண்டாம் உலகப் போரின் முடிவிலே சர்வதேச சங்கம் (League of Nations) உருவாக்கப்பட்டது.
- (4) ஐரோப்பிய தேசங்களின் கடல்கடந்த சாம்ராச்சியங்களின் சீர்குலைவினை இரண்டாம் உலகப் போர் துரிதப்படுத்தியது.
- (5) இரண்டாம் உலகப் போரின் பின்னர் ஐக்கிய அமெரிக்கா, சோவியற் யூனியன் ஆகியவற்றின் தலைமையில் இரண்டு வல்லரசு அணிகள் உருவாகின. (.....)

35. இரண்டாம் உலகப் போருக்குப் பிற்பட்ட சோவியற் யூனியன்

- (1) புதிய பொருளாதாரக் கொள்கையினை ஜோஸெஃப் ஸ்ராலின் நடைமுறைப்படுத்தினார்.
- (2) நித்திதா க்றூஷேவ் ஸ்ராலினையும் அவரது நடவடிக்கைகளையும் கண்டித்தார்.
- (3) கிளஸநோஸ்ந் என்னும் கட்டுப்பாடினமைக் கொள்கையை மிகாயில் கோர்ப்ஷேவ் ஆரம்பித்தார்.
- (4) பெரெஸ்நொயிகா என்னும் பொருளாதார சீரமைப்புக் கொள்கையினை கோர்ப்ஷேவ் பிரகடனப்படுத்தினார்.
- (5) கோர்ப்ஷேவின் கொள்கைகளினால் பனிப்போர் தணிந்தது. (.....)

- 36 - 40 வரையுள்ள வினாக்களில் இரண்டு கூற்றுகள் வீதம் தரப்பட்டுள்ளன. ஒவ்வொரு வினா தொடர்பாகவும் உள்ள கூற்றுச் சோடிக்குக் கீழே உள்ள அட்டவணையில் காணப்படும் 1,2,3,4,5 என்பவற்றில் மிகவும் பொருந்துவது எதுவென்பதைத் தெரிந்து அதன் இலக்கத்தைப் புள்ளிக் கோட்டில் எழுதுக.

அட்டவணை

முதலாம் கூற்று	இரண்டாம் கூற்று
1. சரியானது	பிழையானது
2. சரியானது	சரியானது
3. பிழையானது	பிழையானது
4. பிழையானது	சரியானது
5. சரியானது	சரியானதும், முதலாம் கூற்றினை நன்றாக விளக்குவதுமாகும்.

முதலாம் கூற்று	இரண்டாம் கூற்று	
36. நகரக் குடியரசுகளின் ஜனநாயச் சார்பான பண்புகள் அதென்ஸிலே சிறப்புற்றிருந்தன.	பருவமடைந்த ஆண்கள் எல்லோரும் பங்குபற்ற முடிந்த சபையிலே அரசு தொடர்பான பிரதானமான விடயங்களை ஆதீனியர் விவாதித்து அவை தொடர்பாக வாக்களித்தனர்.	(.....)
37. கிரேக்கச் சட்டமே புராதன கிரேக்கரின் உன்னதமான சாதனையாகும்.	வேர்ஜில், ஹெநேஸ் ஆகிய இருவரும் புராதன உரோமாபுரியின் புகழ்மிக்க கவிஞராவர்.	(.....)
38. 1774 ஆம் ஆண்டு கண்ட (Continentol) காங்கிரஸ் மாநாட்டில் நடைபெற்ற தேநீர் விருந்து வெஸ்ட்மின்ஸ்டேர் விருந்து என்று சொல்லப்படும்.	அமெரிக்கப் புரட்சியிலே "சுதந்திரம், சமத்துவம், சகோதரத்துவம்" என்ற சுலோகத்தோடு இங்கிலாந்திற்கு எதிராக அமெரிக்கர் போராடினர்.	(.....)
39. ஜேர்மனி எதுவித நிபந்தனைகளுமின்றி 1945 மே மாதத்தில் நேச நாடுகளின் படைகளிடம் சரணடைந்தது.	ஜேர்மன் சமஷ்டிக் குடியரசு சோவியத் கட்டுப்பாட்டிலுள்ள ஜேர்மனியின் பகுதியில் அமைக்கப்பட்டது.	(.....)
40. சோவியத் யூனியனும் அதன் கட்டுப்பாட்டிலிருந்த அரசுகளும் 1955 இல் ஏற்படுத்திய பரஸ்பரப் பாதகாப்பு உடன்படிக்கை வார்ட்லோ உடன்படிக்கை என்று சொல்லப்படும்.	சோவியத் ஒன்றியம் சீர்குலைந்ததும் பனிப்போர் முடிவுற்றது.	(.....)

**

සියලු ම හිමිකම් ඇවිරිණි / முழுப் பதிப்புரிமையுடையது / All Rights Reserved]

ශ්‍රී ලංකා විභාග දෙපාර්තමේන්තුව ශ්‍රී ලංකා විභාග දෙපාර්තමේන්තුව ශ්‍රී ලංකා විභාග දෙපාර්තමේන්තුව ශ්‍රී ලංකා විභාග දෙපාර්තමේන්තුව ශ්‍රී ලංකා විභාග දෙපාර්තමේන්තුව
 இலங்கைப் பரீட்சைத் திணைக்களம் இலங்கைப் பரීட்சைத் திணைக்களம் இலங்கைப் பரීட்சைத் திணைக்களம் இலங்கைப் பரීட்சைத் திணைக்களம் இலங்கைப் பரීட்சைத் திணைக்களம்
 Department of Examinations, Sri Lanka Department of Examinations, Sri Lanka Department of Examinations, Sri Lanka Department of Examinations, Sri Lanka Department of Examinations, Sri Lanka

අධ්‍යයන පොදු සහතික පත්‍ර (උසස් පෙළ) විභාගය, 2012 අගෝස්තු
 கல்விப் பொதுத் தராதரப் பத்திர(உயர் தர)ப் பரீட்சை, 2012 ஓகஸ்ட்
 General Certificate of Education (Adv. Level) Examination, August 2012

නව නිර්දේශය
 புதிய பாடத்திட்டம்
 New Syllabus

ඉතිහාසය II (II කොටස)
 வரலாறு II (பகுதி II)
 History II (Part II)

25-B T II

ஐரோப்பிய வரலாறு - ஆதிகாலம் முதல் கி.பி 1989 வரை

அறிவுறுத்தல்கள்:

* முதலாம் வினாவுக்கும் வேறு ஏதாவது மூன்று வினாக்களுக்கும் விடை எழுதுக.

(முதலாம் வினாவுக்கு விடையளிப்பதற்கு ஐரோப்பாவின் புறவுருவப் படம் வழங்கப்படும்).

பகுதி II

1. கீழே தரப்பட்ட எல்லா இடங்களையும் உமக்கு வழங்கப்பட்ட வரைபடத்திற் குறித்துப் பெயரிட்டு, அவற்றுள் எவையேனும் இரண்டிற்கு வரலாற்றுக் குறிப்புகள் எழுதுக.
 - (i) சிறீந் தீவு
 - (ii) ரைபர் நதி
 - (iii) கொன்ஸ்தாந்தி நோபிள்
 - (iv) லண்டன்
 - (v) சுவிற்சர்லாந்து
 - (vi) ஆங்கிலக் கால்வாய்
 - (vii) வோல்ந்றிக் கடல்
 - (viii) டான்ஸிக்

(சரியாகக் குறித்துப் பெயரிடுவதற்கு 01 புள்ளி ; சிறுகுறிப்பு ஒவ்வொன்றுக்கும் 05 புள்ளிகள்)
2. உரோமாபுரி ஒரு சிறிய லத்தீன் இராச்சியமாகவிருந்து பரந்தவொரு பேரரசாக வளர்ந்தமையிலுள்ள பிரதான கட்டங்களைப் பரிசீலனை செய்க. (14 புள்ளிகள்)
3. (i) மத்திய ஐரோப்பாவில் மானியமுறை உருவாகியதற்கான பிரதானமான காரணங்களைச் சுருக்கமாக ஆராய்க. (05 புள்ளிகள்)
 (ii) ஓர் அரசியல், சமூக, பொருளாதார முறை என்ற வகையில் மானியமுறையின் பிரதான அம்சங்களை விளக்குக. (09 புள்ளிகள்)
4. “கைத்தொழிற் புரட்சி ஐரோப்பிய சமுதாயத்தில் நிச்சயமாக ஒரு பெரும் மாற்றத்தை ஏற்படுத்தியது”.
 - (i) கைத்தொழிற் புரட்சி ஆரம்பித்த நாட்டின் பெயரைக் குறிப்பிடுக. (01 புள்ளி)
 - (ii) கைத்தொழில் துறையில் ஏற்பட்ட ஆரம்பக் கண்டுபிடிப்புகளில் இரண்டினைக் குறிப்பிடுக. (02 புள்ளிகள்)
 - (iii) கைத்தொழிற் புரட்சி ஏற்பட்டமைக்கு ஏதுவான காரணங்கள் இரண்டினைச் சுருக்கமாகக் குறிப்பிடுக. (04 புள்ளிகள்)
 - (iv) கைத்தொழிற் புரட்சியின் சமூக, பொருளாதார விளைவுகள் தொடர்பாக மேலே குறிப்பிட்ட கூற்றை ஆராய்க. (07 புள்ளிகள்)
5. பிரெஞ்சுப் புரட்சி ஏற்படுவதற்கு அடிப்படையாகவிருந்த அரசியல், பொருளாதார, சமூக நிலைகளை ஆராய்க. (14 புள்ளிகள்)
6. “பிஸ்மார்க்கின் தலைமையில் ஜேர்மனியை ஒன்றிணைக்க மேற்கொள்ளப்பட்ட கட்டம் ஒவ்வொன்றும் போரில் முடிந்தது”.
 - (i) ஜேர்மனியை ஒன்றாக இணைப்பதற்கு முயற்சிகளை மேற்கொண்ட அரசின் பெயரைக் குறிப்பிடுக. (01 புள்ளி)
 - (ii) அந்த இராச்சியத்தின் தலைமையில் ஏற்பட்ட சுங்கவரி விலக்கு ஒன்றியத்தின் பெயரைக் குறிப்பிடுக. (01 புள்ளி)
 - (iii) 1815 - 1848 ஆகிய காலத்தில் ஜேர்மனியை இணைப்பதற்கு எதிராகவிருந்த தடைகளைச் சுருக்கமாகக் குறிப்பிடுக. (04 புள்ளிகள்)
 - (iv) பிஸ்மார்க்கின் தலைமையில் ஜேர்மனியை ஒன்றிணைத்தமையின் பிரதான கட்டங்களை விளக்குக. (08 புள்ளிகள்)
7. “ஐரோப்பாவில் முதலாம் உலகப் போரின் பின்னர், சர்வாதிகார ஆட்சிகள் எழுச்சி பெற்றதால் இரண்டாம் உலகப் போர் ஏற்பட்டமை தவிர்க்கமுடியாத ஒன்றாகிவிட்டது”.
 - (i) முதலாம் உலகப் போரின் முடிவில் ஜேர்மனி ஒப்புக்கொண்ட உடன்படிக்கை யாது ? (01 புள்ளி)
 - (ii) முதலாம் உலகப் போரின் பின், சமாதானத்தைக் குறிக்கோளாகக் கொண்டு உருவாக்கப்பட்ட சர்வதேச நிறுவனத்தின் பெயரைக் குறிப்பிடுக. (01 புள்ளி)
 - (iii) முதலாம் உலகப் போரின் பின் இத்தாலியிலும் ஜேர்மனியிலும் ஏற்பட்ட சர்வாதிகார ஆட்சிகள் யாவை ? (02 புள்ளி)
 - (iv) அந்த ஆட்சிகளின் அதிபர்கள் யார் ? (02 புள்ளி)
 - (v) இரண்டாம் உலகப் போருக்கு ஏதுவான காரணங்கள் தொடர்பாக மேலே குறித்த கூற்றினை ஆராய்க. (08 புள்ளிகள்)
8. மேல்வருவனவற்றுள் எவையேனும் இரண்டின் வரலாற்று முக்கியத்துவம் பற்றிச் சுருக்கமான குறிப்புகள் எழுதுக:
 - (i) லியொனாடோ டா வின்சி
 - (ii) மார்டின் லூதர்
 - (iii) நெப்போலியன் வொனப்பார்ட்
 - (iv) கமிலோ கலூர்
 - (v) V. I. லெனின்

(ஒன்றுக்கு 07 புள்ளிகள்)
9. இரண்டாம் உலகப் போர் முடிந்த பின்னுள்ள முதலாவது தசாப்தத்திலே உலக வல்லரசுகள் எவ்வாறு இரு அணிகளாகப் பிரிந்தன என்பதைப் பரிசீலனை செய்க. (14 புள்ளிகள்)

ශ්‍රී ලංකා විභාග දෙපාර්තමේන්තුව ශ්‍රී ලංකා විභාග දෙපාර්තමේන්තුව ශ්‍රී ලංකා විභාග දෙපාර්තමේන්තුව විභාග දෙපාර්තමේන්තුව ශ්‍රී ලංකා විභාග දෙපාර්තමේන්තුව
 இலங்கைப் பரீட்சைத் திணைக்களம் இலங்கைப் பரීட்சைத் திணைக்களம் இலங்கைப் பரීட்சைத் திணைக்களம் இலங்கைப் பரීட்சைத் திணைக்களம் இலங்கைப் பரීட்சைத் திணைக்களம்
 Department of Examinations, Sri Lanka Department of Examinations, Sri Lanka Department of Examinations, Sri Lanka Department of Examinations, Sri Lanka Department of Examinations, Sri Lanka

අධ්‍යයන පොදු සහතික පත්‍ර (උසස් පෙළ) විභාගය, 2012 අගෝස්තු
 கல்விப் பொதுத் தராதரப் பத்திர(உயர் தர)ப் பரீட்சை, 2012 ஓகஸ்ட்
 General Certificate of Education (Adv. Level) Examination, August 2012

නව නිර්දේශය
 புதிய பாடத்திட்டம்
 New Syllabus

ඉතිහාසය II	25-B	T
வரலாறு II		
History II		

ප්‍රශ්න අංකය } 01	විභාග අංකය }
வினா இல. } 01	சுட்டெண் }
Question No. } 01	Index No. }

