



රූප ඇසුරින් අඩු කර ඉලක්කමෙන් ලියමු.


පහන් 8ක් දැල් වී තිබුණා.




එයින් පහන් 3ක් තිබුණා.



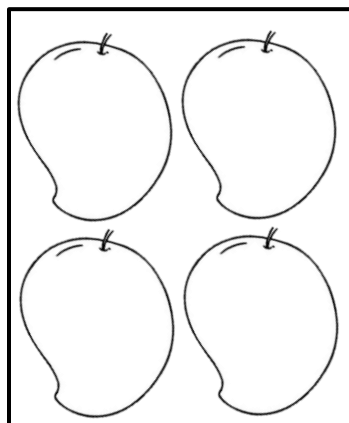
ඉතුරු පහන් ගණන



අඹ ගෙඩි 6ක් තිබුණා.



එයින් අඹ ගෙඩි 4ක් කැවා.



ඉතුරු අඹ ගෙඩි ගණන

