

இலங்கை இந்தியாவுக்குத் தெற்கே இந்து சமுத்திரத்தில் அமைந்துள்ள ஒரு தீவாகும். இது உலகிலேயே பெரிய கண்டமான ஆசியாக் கண்டத்திலுள்ள ஒரு நாடாகும்.

இலங்கையின் அமைவிடம் பற்றியும், அவ் அமைவிடத்தின் காரணமாக ஏற்படும் பயன்கள் பற்றியும் ஒரு விளக்கத்தினை வழங்குவதே இந்த அத்தியாயத்தின் பிரதான நோக்கமாகும்.

இலங்கை, இந்தியாவுக்கு அருகில் அமைந்துள்ளது. ஆனால் இந்தியாவிலிருந்து பிரிந்து இருந்தாலும், அதன் நெருங்கிய அமைவு காரணமாக காலநிலை, பொருளாதாரம், மற்றும் பண்பாட்டு அம்சங்களில் இந்தியாவை ஒத்த தன்மைகளைக் கொண்டிருப்பதைக் காணமுடிகின்றது.



படம் 4.1

இந்தியாவுக்கு அருகிலுள்ள ஒரு தீவான இலங்கையின் அமைவிடம்

இலங்கையின் அமைவிடம் காலநிலையில் எவ்வாறு செல்வாக்கு

செலுத்துகின்றது

- இலங்கை ஒரு தீவாக இருப்பதனாலும், தகுந்த அதன் அமைவிடத் தாலும், இந்து சமுத்திரத்தில் வீசும் காற்றினாலும், வெப்பநிலை குறைவடைவதுடன் வருடம் முழுவதும் மழை கிடைக்கின்றது.
- இந்திய உபகண்டத்தில் இருந்து வீசும் வரண்ட காற்றுக்களின் செல்வாக்கினால் இலங்கையின் வடபகுதியில் வெப்பநிலை அதிகமாகக் காணப்படுகின்றது.
- பருவக் காற்றுக்களின் (மொன்கூன்) செல்வாக்கினால் மழை கிடைக்கின்றது.

இலங்கையின் அமைவிடம் பொருளாதாரத்தில் எவ்வாறு செல்வாக்குச்

செலுத்துகின்றது

- பண்டைக் காலத்திலிருந்து இன்றுவரை கிழக்கு - மேற்குக் கப்பல் பாதையின் மையமாக விருத்தி பெற்றமை.
- சர்வதேச வர்த்தகத்தில் இலங்கைத் துறைமுகங்களின் முக்கியத்துவங்கள்.
- கவர்ச்சியான இடங்களின் அமைவிடம் காரணமாக உல்லாசப் பயணக் கைத்தொழிலின் விருத்தி.
- மேலை நாடுகளின் வருகையுடன் புதிய பொருளாதாரப் பாங்குகளின் தோற்றம்.

இலங்கையின் அமைவிடம் பண்பாட்டில் எவ்வாறு செல்வாக்குச்

செலுத்துகின்றது

- பல்வேறு மக்கட் பிரிவினரின் கலப்பினால் பல்வேறு மொழி, மத, இனப் பிரிவினர் காணப்படுகின்றனர். உதாரணமாக, இந்தியா மற்றும் அரேபியாவிலிருந்து வந்தோர்.
- மேலைத் தேசத்தவரின் வருகையுடன் பல்வேறு கலாசார அம்சங்கள் சமூகத்துடன் கலத்தல்.

செயற்பாடுகள்

படம் 4.1 இனை அவதானித்து அடைப்புக்குறிக்குள் இருக்கும் பொருத்தமான சொற்களைக் கொண்டு இடைவெளிகளை நிரப்புக.

(வங்காள, இந்து, மன்னார், பாக்கு, ஆசியா)

1. இலங்கை உலகத்தின் மிகப்பெரிய கண்டமான
கண்டத்திற்கு உரித்தான நாடாகும்.
2. விரிகுடா இலங்கைக்கும் இந்தியாவுக்கும் இடையில்
அமைந்துள்ளது.
3. இலங்கை இந்தியாவிலிருந்து நீரிணையால் (ஐலசந்தி)
பிரிக்கப்பட்டுள்ளது.
4. இலங்கை சமுத்திரத்தில் அமைந்துள்ளது.
5. இலங்கையின் வடக்கில் அமைந்துள்ள கடற்பரப்பு
விரிகுடா என அழைக்கப்படும்.

இலங்கையின் சார்பு அமைவிடம்

சமுத்திரங்கள், கடல்கள், கண்டங்கள் மற்றும் சூழவுள்ள நாடுகள் என்பவற்றின் அமைவிடத்துடன் தொடர்புபடுத்தி ஒரு நாட்டினை அடையாளம் காண்பது சார்பு அமைவிடம் (Relative Location) எனப்படும்.

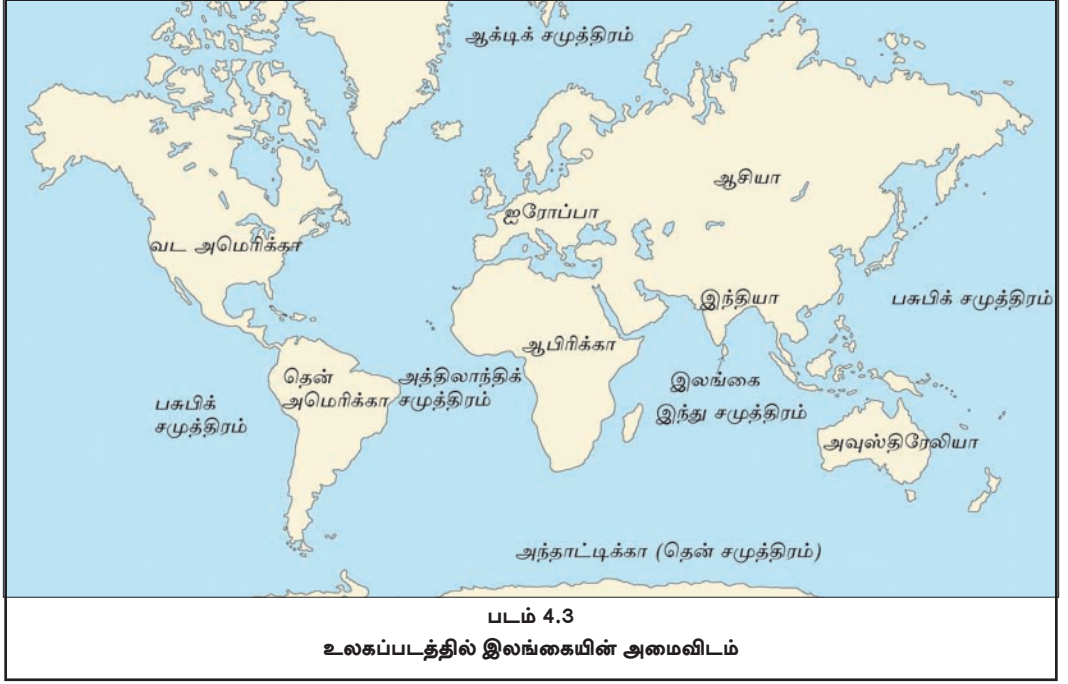
அதற்கிணங்க இலங்கை அமைவு பெற்றிருப்பது,

- ஆசியாக் கண்டத்தின் தெற்கில்.
- இந்து சமுத்திரத்தின் வடக்குப் பக்கமாக.
- தென் கிழக்கு ஆசியாவின் மேற்கில்.
- ஆபிரிக்க கண்டத்தின் கிழக்காக. (பார்க்க படம் 4.2)



செயற்பாடு

மேலேயுள்ள விடயங்களை உங்கள் பாடசாலையில் உள்ள உலகப் படம் மற்றும் தேசப்படத்தின் உதவியுடன் அவதானியுங்கள்.



செயற்பாடு

இலங்கை இந்தியாவுக்கு அருகில் அமைந்திருப்பதன் காரணமாகச் சமூகத்தில் நிகழும் மாற்றங்களைக் குறிப்பிடுக.

இலங்கையில் அமைவு பெற்றுள்ள முக்கிய இடங்கள்

இலங்கை, தற்பொழுது ஆசியாவில் விரைவாக அபிவிருத்தி அடைந்து வரும் ஒரு நாடாகும். சமூக, பொருளாதாரத் துறைகளில் அபிவிருத்தி மேற்கொள்ளப்பட்டு வருகின்றமையே அதற்குரிய காரணங்களாகும்.

- புதிய துறைமுகங்கள், புதிய விமான நிலையங்கள் மற்றும் அதிவேகப் பாதைகள் அமைத்தல்.
- நகர அபிவிருத்தி

கீழ்வரும் படம் இலங்கையின் பொருளாதார, சமூக, கலாசார ரீதியாக முக்கியத்துவம் பெற்ற சில இடங்களை எடுத்துக் காட்டுகின்றது.

யாழ்ப்பாணம் விரைவாக அபிவிருத்தி அடைந்துவரும் பகுதி. விவசாய நடவடிக்கைகளுக்குரிய குறிப்பிடத்தக்க விசேட அம்சங்கள் காணப்படுகின்றன.



அநுராதபுரம், புராதன நீரியல் நாகரிகத்தின் மத்திய நிலையம். வரலாற்று, கலாச்சார முக்கியத்துவங்கள் உல்லாசப்பிரயாணக் கைத்தொழிலின் அபிவிருத்திக்கு காரணமாகின்றன.

கொழும்பு, இலங்கையின் முக்கிய வர்த்தக மையமாகும். சர்வதேச வர்த்தகத்திற்கு உதவும் முக்கிய துறைமுகமாகும்.



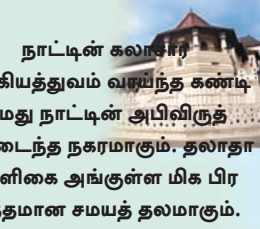
புராதன காலம் தொட்டு கீழைத்தேய, மேலைத்தேய வாணிபத்துடன் தொடர்பு பட்ட முக்கியமான இயற்கை துறைமுகமாகக் காணப்படுகின்றது. திருக்கோணஸ்வர ஆலயமும் இத்துறைமுகத்திற்கு அருகில் அமைந்துள்ளமை குறிப்பிடத்தக்கது.



ஸ்ரீ ஜெயவர்த்தனபுர கோட்டை பிரதான நிர்வாக நகரமாக இருக்கின்றது. நகர அபிவிருத்தி வேலைத்திட்டத்தின் கீழ் கோட்டை கொழும்பு உட்பட்ட பல நகரங்கள் இணைக்கப்பட்டு அழகாகவும், கவர்ச்சிகரமாகவும் இருக்கின்றன.



நாட்டின் கலாச்சார முக்கியத்துவம் வாய்ந்த கண்டி எமது நாட்டின் அபிவிருத்தியடைந்த நகரமாகும். தலாதாமாளிகை அங்குள்ள மிக பிரசித்தமான சமயத் தலமாகும்.



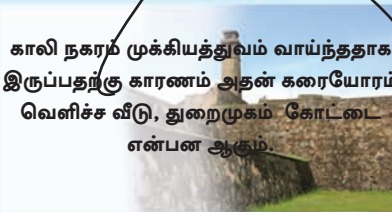
இது ஒரு சுற்றுலா நகரம். இங்கு காணப்படும் காலநிலை பூக்களுக்கும் காய்கறிகளுக்கும் உகந்ததாக இருக்கின்றது.



கொட்டாவ தெற்கு அதிவேகப் பாதையின் பிரதான வாயிலாக இருக்கின்றது.



காலி நகரம் முக்கியத்துவம் வாய்ந்ததாக இருப்பதற்கு காரணம் அதன் கரையோரம் வெளிச்ச வீடு, துறைமுகம் கோட்டை என்பன ஆகும்.



இது அண்மைக்காலத்தில் உருவாக்கப்பட்டு வரும் சர்வதேசத் துறைமுகமாக உள்ளது. இது எதிர்காலத்தில் பிரதான பொருளாதார மத்திய நிலையமாக விளங்கும்.



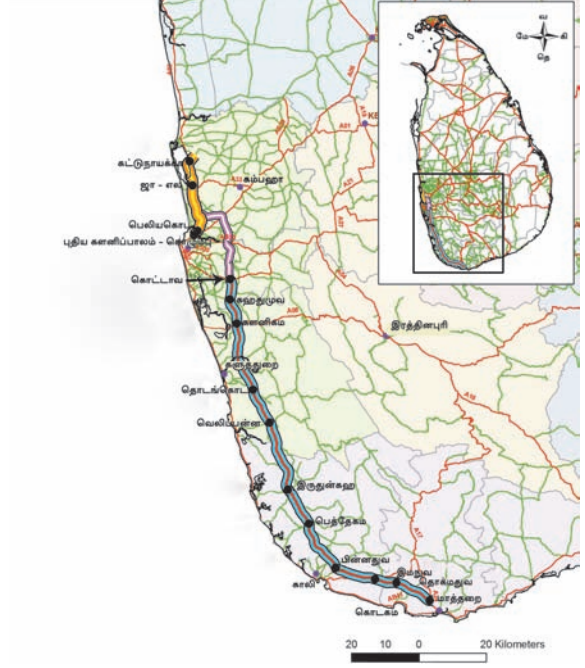
கட்டுநாயக்காவைப் போன்று மத்தள ராஜபகஷ சர்வதேச விமான நிலையமும் நாட்டின் அபிவிருத்திக்குத் தூண்டுதலாய் இருக்கின்றது.



படம் 4.4 இலங்கையின் முக்கியமான இடங்கள்



படம் 4.5



படம் 4.6

கொழும்பு - மாத்தறை, கொழும்பு - கட்டுநாயக்கா அதிவேக பாதை

செயற்பாடுகள்

- இலங்கைப் புறவுருவப் படத்தில் பின்வரும் இடங்களைக் குறித்துப் பெயரிடுக.
 - கட்டுநாயக்கா, மத்தள சர்வதேச விமான நிலையங்கள்
 - கொழும்பு, திருகோணமலை, காலி, அம்பாந்தோட்டை துறை முகங்கள்.
 - காலி, பதுளை, இரத்தினபுரி, அநுராதபுரம், திருகோணமலை, குருநாகல், யாழ்ப்பாணம், கண்டி, கொழும்பு நகரங்கள்.
- “விரைவாக விருத்திபெற்றுவரும் இலங்கை” என்னும் தலைப்பில் சிறு விவரணம் ஒன்றினை எழுதுக.

உலகின் ஏனைய தீவுகள்

உலகில் பல்வேறு அளவிலான நிலப்பரப்புகளைக்கொண்ட தீவுகள் பெருமளவு காணப்படுகின்றன. அத்தகைய சில தீவுகளையும், நிலப்பரப்பினையும் படம் 4.7 குறித்துக் காட்டுகின்றது.



படம் 4.7

உலகிலுள்ள சில தீவுகளும் அவற்றின் நிலப்பரப்புகளும்

மூலம் - <http://en.wikipedia.org/21/07/2014>

செயற்பாடுகள்

1. படம் 4.7 இனை அவதானித்து, பிரதான தீவுகளை அடையாளம் கண்டு உலகப்படத்தில் அவற்றைக் குறித்துப் பெயரிடுக.
2. நிலப்பகுதியின் பரப்பிற்கு இணங்க தீவுகளை வரிசைப்படுத்தி எழுதுக.
3. ஒவ்வொரு தீவின் முன்பும் பரப்பினைக் குறிப்பிடுக.

ஒப்படை

தேசப் படத்தினதும் பாடப் புத்தகத்தினதும் உதவியுடன் கீழ்வரும் அட்டவணையைப் பூர்த்திசெய்க.

தீவின் பெயர்	அமைவுபெற்றுள்ள சமுத்திரம்
ஜப்பான்	
நியூசிலாந்து	
மாலைதீவு	
ஐஸ்லாந்து	
பிரித்தானியா	
சிசெல்ஸ்	

கலைச்சொற்கள்

தீவு	Island
சார்பமைவிடம்	Relative location
நீரிணை	Strait
பருவக் காற்றுக்கள்	Monsoon winds
துணைக் கண்டம்	Sub Continent
இடப்பெயர்வு	Migration
பூகோளம்	Globe
அதிவேகப் பாதைகள்	Express ways
மையம்	Centre
நீரியல் நாகரிகம்	Hydraulic civilization
வர்த்தக மையம்	Commercial centre
பொருளாதார மையம்	Economical centre
சர்வதேசத் துறைமுகம்	International harbour
வெளிச்ச வீடு	Lighthouse