



විශාලා විද්‍යාලය, කොළඹ 5

පළමු වාර පරීක්ෂණය- 2016

ඉතිහාසය

7 ශ්‍රේණිය

කාලය : පැය 2 යි

නම / අංකය :

I කොටස

❖ ප්‍රශ්න සියල්ලටම පිළිතුරු සපයන්න.

❖ නිවැරදි පිළිතුර තෝරා යටින් ඉරක් අලික්ක.

- 1) තියෙල්පිටිය ගමේ වාසය කළ සහෝදරයන් පස් දෙනෙකු එක් වී උළු වැපිරීමට හේතක් සකස් කළ බව දැන්වෙන්නේ කුමන රජුගේ කාලයේදී ද?

| | | | |
|-------------------|---------------------|----------------|-----------------|
| (i) කාවන්තිස්ස රජ | (ii) I විජය බාහු රජ | (iii) I සේන රජ | (iv) මානවම්ම රජ |
|-------------------|---------------------|----------------|-----------------|

- 2) සාලිය කුමාරයා උපන් කාලයේ ඇල් වී අස්වැන්න ඉහළ ගිය බව සඳහන් වන්නේ,

| | |
|-------------------------|---------------------------|
| (i) මහා වංශයේ | (ii) සීහල වන්දු ග්‍රන්ථයේ |
| (iii) සහස්ස වන්දුපකරණයේ | (iv) මූලාශ්‍රවල |

- 3) මින්නේරිය වැව කරවා කෘෂි කර්මයට මහත් අනුග්‍රහයක් දැක්වූයේ,

| | |
|--------------------------|---------------------|
| (i) දේවානම් පියතිස්ස රජු | (ii) II සේන රජු |
| (iii) මහාසේන රජු | (iv) I විජයබාහු රජු |

- 4) අකලහස, මදහස, පිටදවහස යනුවෙන් වී වගාව සඳහා කන්න තුනක් පැවති බව සඳහන් වන්නේ,

| | |
|----------------------|------------------------|
| (i) පැරණි මූලාශ්‍රවල | (ii) පඤ්චිකා පොතේ |
| (iii) මහා වංශයේ | (iv) තෝතිගල සෙල්ලිපියේ |

- 5) අතීතයේදී කර්මාන්ත බිහි වී තිබුණේ,

| |
|--|
| (i) වෙළඳපොළ ආශ්‍රිතවය |
| (ii) අමුද්‍රව්‍ය පහසුවෙන් ලබාගත හැකි ප්‍රදේශ ආශ්‍රිතවය |
| (iii) ඉමය පහසුවෙන් ලබාගත හැකි ප්‍රදේශ ආශ්‍රිතවය |
| (iv) තවලම් ආශ්‍රිත ප්‍රදේශවලය |

(ලකුණු 2x 5 =10)

(2) හිස්තැන් පුරවන්න.

- 6) වෙළෙඳන් සංවිධානය වී සිටි වෙළඳ ශ්‍රේණි හා නමින් හැඳින්විය.
- 7) වෙළඳාමේ ඇති වූ අකට සුතුකම් පිළිබඳව යොයා බලා IV උදය රජු එය වැළැක්වීම සඳහා කරවන ලදී.
- 8) අතීත ශ්‍රී ලංකාවේ විදේශ වෙළඳාම සඳහා හා වරායන් යොදා ගනු ලැබීය.

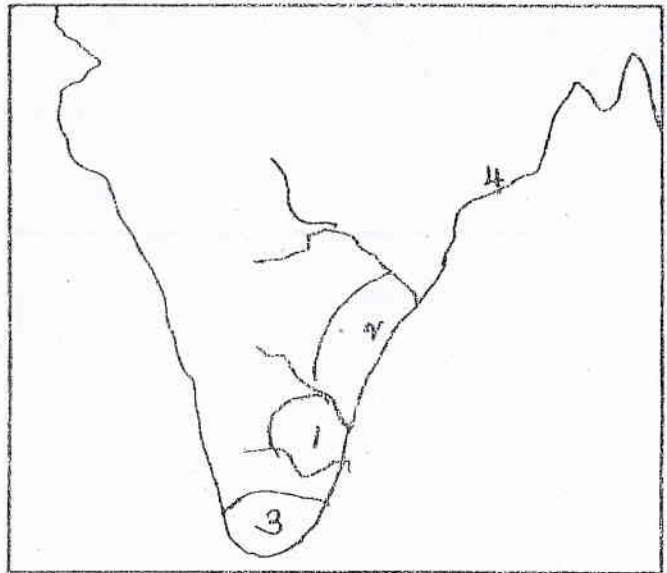
- 9) අත්තම් ක්‍රමය යනු හුවමාරු කර ගැනීමේ ක්‍රමයයි.
- 10) මාතවම්ම රාජ්‍යය සමයේදී තිතිරිඪි පිළිබඳවශිලා ලිපියෙන්ද මූල්‍ය කළමනාකරණය පිළිබඳව පුවරු ලිපියෙන්ද සඳහන්ය. (ලකුණු 2x8=16)

(3) පහත දැක්වෙන වචනවලින් හරිකම් (✓) ලකුණ ද, වැරදි කම් (X) ලකුණ ද යොදන්න.

- 11) අනුරාධපුර සුගයේදී රජවරු සමාජ සුඛ සාධකය සඳහා විශේෂ උනන්දුවක් දැක්වීය.
- 12) චෝල රාජ්‍යයේ අගනුවර තත්පෝරයයි.
- 13) අනුරාධපුර රාජධානියේ ආරම්භක රජු විජය රජුය.
- 14) මාගම සිට අනුරාධපුරයට පැමිණි සුරතිමල යෝධයා එහිදී වෙළඳසැලකින් සුවඳ විලිපුන් මිලදී ගත් බව මූලාශ්‍රවල සඳහන් වේ.
- 15) සුප ශාස්ත්‍රයෙන් දක්ෂ කාන්තාවන් මධුපාවිකා යනුවෙන් හඳුන්වා ඇත.

(ලකුණු 2x5 =10)

(4) සිතියමට අනුව අංශිත ප්‍රදේශ නම් කරන්න.



- 1)
- 2)
- 3)
- 4)

(ලකුණු 1x4 =04)
(මුළු ලකුණු 20x2 =40)

II කොටස

* පළමුවන ප්‍රශ්නය අනිවාර්ය වේ. මෙම ප්‍රශ්නය ඇතුළුව ප්‍රශ්න 5 කට පමණක් පිළිතුරු ලියන්න.

- (01) මබ විසින් සකසන ලද ක්‍රියාකාරකමට අනුව පහත දැක්වෙන ප්‍රශ්නවලට පිළිතුරු ලියන්න.
- (i) මබ තණ්ඩායම විසින් පිළිතුරු ලබාදෙන ලද මාතෘකාව කුමක්ද? (ලකුණු 1)
- (ii) එය උපුටාගනු ලැබුවේ කුමන පාචම යටතේද? (ලකුණු 1)
- (iii) මෙහිදී මබ යොදාගනු ලැබූ හේමාවන් 4 ක් ලියන්න. (ලකුණු 4)
- (iv) මේ සඳහා මබ යොදාගත් මූල්‍ය 2 ක් ලියන්න. (ලකුණු 2)
- (v) මෙම ක්‍රියාකාරකම තුළින් මබ ජීවිතයට ලබාගත් අන්දැකීම් 2 ක් ලියන්න. (ලකුණු 2)

(vi) මෙම ක්‍රියාකාරකම තුළින් ඔබ සොයාගනු ලැබූ අතිත සමාජයේ ආර්ථිකය තුළ දක්නට ලැබුණු විශේෂ ලක්ෂණ 03 ක් ලියන්න. (ලකුණු 3)

(vii) එයින් ඔබ ජීවිතයට ලබාගත හැකි ආදර්ශ 03 ක් තම කර දක්වන්න. (ලකුණු 3)
(මුළු ලකුණු 18)

* 02 - 07 දක්වා ඇති ප්‍රශ්නවලින් පස්ක 4 කට පමණක් පිළිතුරු ලියන්න.

(02) (i) අපේ සැරණි ජන සමාජයේ ආර්ථිකයේ කෘෂිකර්මාන්තය බෙදුණු ප්‍රධාන කොටස් 2 නම් කරන්න. (ලකුණු 2)
(ii) අතිත ස්වභාවික විනාශයට පත්වූ සඳහා යෙදුණු විවිධ වෘත්තින්වලට උදාහරණ 4 ක් හඳුනා දෙන්න. (ලකුණු 4)

(iii) අතිත ජනතාව කෘෂිකර්මාන්තයේ යෙදීමේදී මුහුණ දුන් අභියෝග 02 ක් නම් කර එය ජයගත් අයුරු දක්වා එය ඔබ ජීවිතයේ අරමුණු ජය ගැනීම සඳහා යොදාගන්නා අයුරු කෙටියෙන් පැහැදිලි කරන්න. (ලකුණු 5)
(ලකුණු 11)

(03) (i) කැලෑ ගිණිතබා එළිපෙහෙළි කර සකස් කර ගන්නා බිම් හඳුන්වන නම් 02 ක් ලියන්න. (ලකුණු 2)

(ii) මේවා හඳුන්වන්න
1) නවදැලි හේත
2) ගිනි යාතිකාව
3) හැලි කටා
4) සාලි (ලකුණු 4)

(iii) අතිත ශ්‍රී ලංකාවේ පැවති හේත වශයට පිළිබඳව ප්‍රධාන කරුණු 5 ක් ලියා දක්වන්න. (ලකුණු 5)
(ලකුණු 11)

(04) (i) අතිත ශිලා ලිපිවල ගම් තැන වූ හා වැව් අයිතිව සිටි අය හැඳින් වූ නම් 02 ක් ලියන්න. (ලකුණු 2)

(ii) මේවා හඳුන්වන්න
1) ගෝපාලගමි -
2) කසිකාරගමි -
3) නිගම -
4) සුග - (ලකුණු 4)

(iii) මෙතල පැවති වෙළඳාමේ ප්‍රධාන කොටස් 2 දක්වා එයින් එක් වෙළඳ ක්‍රමයක් පැවති ආකාරය විස්තර කරන්න. (කරුණු 5 කට ලකුණු 3) (ලකුණු 5)
(ලකුණු 11)

(05) (i) මානවමිම රාජ්‍යය සමයට පෙර මෙරට පාලනය කළ රාජවංශ 02 ක් නම් කරන්න. (ලකුණු 2)

(ii) මානවමිම පාලනයේදී පාලන කටයුතු සඳහා රජුට සහාය වූ නිලධාරීන් 4 ක් නම් කරන්න. (ලකුණු 4)

(iii) මෙම රජවරුන් වැදගත් විමට බලපෑ කරුණු 1 බැගින් ලියන්න.

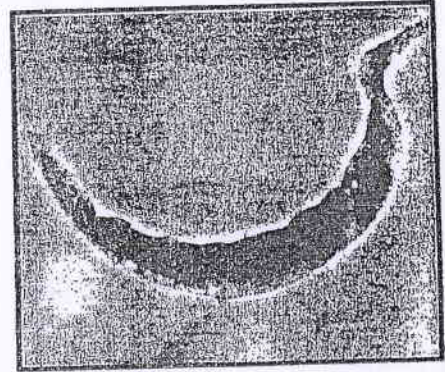
1) මාන කුමරු
2) I සේන
3) තරසිභ වරමන්
4) ශ්‍රී මාර ශ්‍රී වල්ලභ
5) II වරගුණ වරමන් (ලකුණු 5)
(ලකුණු 11)

(06) (i) මහා විජය බාහු රජු පිළිබඳව ඉගෙනීමට ඇති මූලාශ්‍ර 02 ක නම කථනා. (ලකුණු 2)

(ii) ඉදින් වර මෙරටට ආක්‍රමණ එල්ල කළ ද.ඉන්දියානු රාජ්‍යය 04 නම් කරන්න. (ලකුණු 4)

(iii) මහා විජයබාහු රජු යොදිත් පරාජය කිරීම සඳහා අනුගමනය කළ ක්‍රියාමාර්ග 02 ක් දක්වා එයින් අපගේ ජීවිතය ආර්ථික කරගැනීම සඳහා ගත හැකි ආදර්ශ 03 ක් ලියන්න. (ලකුණු 5)
(ලකුණු 11)


- (07) (i)
- 1) මෙය කුමක්ද? (ලකුණු 1)
 - 2) මෙය යොදාගනු ලැබුවේ කුමන කටයුත්තක් සඳහා ද? (ලකුණු 1)
 - 3) මෙම උපකරණය යොදාගනු ලැබූ කැණීමකදී වගා කරනු ලැබූ කාල 02 නම් කරන්න. (ලකුණු 2)
(ලකුණු 4)



- (ii)
- 1) මෙම පරිවහන කුමය අතිතයේදී හඳුන්වනු ලැබුවේ කුමන නමකින්ද? (ලකුණු 1)
 - 2) මේ සඳහා යොදාගනු ලැබූ ගවයන් හැඳින් වූ නම් 02 ක් ලියන්න. (ලකුණු 2)
 - 3) මේවා යොදාගනු ලැබුවේ කුමක් සඳහා ද? (ලකුණු 1)
(ලකුණු 4)



- (iii)
- 1) මෙම රූපයෙන් දැක්වෙන්නේ කුමක්ද? (ලකුණු 1)
 - 2) මෙය අයත්වන්නේ කුමන රාජධානි සුගයකට ද? (ලකුණු 1)
 - 3) මෙය ප්‍රතිසංස්කරණය කරනු ලැබූ රජතුමා කවිද? (ලකුණු 1)
(ලකුණු 3)



(ලකුණු 11)
(මුළු ලකුණු 60)