

අවසාන වාර පරීක්ෂණය 2015

චිත්‍ර කලාව

7 ශ්‍රේණිය

කාලය පැය 2 යි.

නම/ විභාග අංකය:

I කොටස

- ප්‍රශ්න සියල්ලට ම පිළිතුරු මෙම පත්‍රයේම සපයන්න.
- අංක 01 සිට 05 දක්වා වූ ප්‍රශ්න සඳහා දී ඇති රූප සටහන උපයෝගී කරගන්න.



- 01 මෙම ස්තූපයේ නම කුමක් ද?
- 02 මෙය කුමන යුගයට අයත් ද?
- 03 මෙම ස්තූප නිර්මාණයට දායකත්වය දුන් රජතුමා කවුද?
- 04 ස්තූපයේ හැඩය නම් කරන්න.
- 05 සාංචි ස්තූපයේ “මේධිය” නමින් හඳුන්වා ඇත්තේ ශ්‍රී ලංකාවේ ස්තූපයේ කුමන කොටසද?
- අංක 06 සිට 10 තෙක් වූ ප්‍රශ්න සඳහා නිවැරදි පිළිතුර යටින් ඉරක් අඳින්න.
- 06 මූලික වර්ණ තුනකි.
- (1) නිල්, කහ, රතු (2) දම්, පව්ව, රඹ
- (3) රතු, දම්, සුදු (4) දම්, පව්ව, රතු
- 07 කැලණි වෛත්‍යය හැඩයෙන්
- (1) සයාකාර (2) සණ්ඨාකාර (3) ධාන්‍යාකාර (4) බුබුබුලාකාර

08 වෙසක් මාසයේ පවත්වන උත්සවය බෞද්ධයන් පවත්වනු ලබන්නේ,

- (1) බුදුන්වහන්සේගේ තෙමඟුල සිහිකිරීම සඳහා ය.
- (2) ක්‍රිස්තුන් වහන්සේ සිහිකිරීම සඳහා ය.
- (3) බුදුන්වහන්සේගේ බුද්ධත්වය සිහිකිරීම සඳහා ය.
- (4) හින්දු භක්තිකයින්ගේ නායකතුමන් සිහිකිරීම සඳහා ය.

09 කෝලම් රටා අදිනු ලබන්නේ,

- (1) හින්දු බැතිමතුන්
- (2) මුස්ලිම් බැතිමතුන්
- (3) බෞද්ධ බැතිමතුන්
- (4) බර්ගර් බැතිමතුන්

10 පැස්ටල් මාධ්‍ය වඩාත් සුදුසු වන්නේ,

- (1) වැඩිහිටියන්ට
- (2) කුඩා දරුවන්ට
- (3) පාසල් වයසේ ප්‍රාථමික ශ්‍රේණි දරුවන්ට
- (4) ජ්‍යෙෂ්ඨ සිසුන්ට

● අංක 11 සිට 15 තෙක් වූ ප්‍රශ්න සඳහා කෙටි පිළිතුරු සපයන්න.


- 11 ථූපාරාම දාගැබ ඉදිකිරීමට දායකත්වය දුන් රජතුමා කවුද?
- 12 ශ්‍රී ලංකාවේ ප්‍රධාන කිස්තු දේවස්ථානයක් නම් කරන්න.
- 13 හින්දු ආගමික සංකේතය ලෙස භාවිතා කරන්නේ කුමක් ද?
- 14 ආම්ලාකාර වෛතාස හැඩයෙන් කුමන පලතුරක හැඩය ගනීද?
- 15 ජූසේතුමාණන් ජේසුතුමාගේ කවුද?

● අංක 16 සිට 20 තෙක් වූ ප්‍රශ්න සඳහා අදාළ පිළිතුර හිස්තැන මත ලියන්න.


- 16 රාමසාන් උත්සවය පවත්වනු ලබන්නේ බැතිමතුන් විසිනි.
- 17 වළගම්බා රජු නමින් ද හඳුන්වනු ලබයි.
- 18 කැලණි ස්තූපය රජු විසින් කරවන ලදී.
- 19 අභයගිරි දාගැබ රජු විසින් කරවන ලදී.
- 20 ථූපාරාම දාගැබ වටා වටදාගෙයක් ඉදිකරනු ලැබුවේ රජු විසිනි.

● අංක 21 සිට 25 තෙක් වූ ප්‍රශ්න සඳහා පහත රූප සටහන් හඳුනාගෙන නම් කරන්න.


21



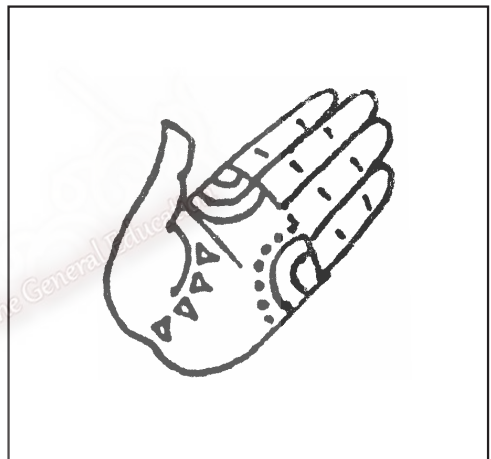
22



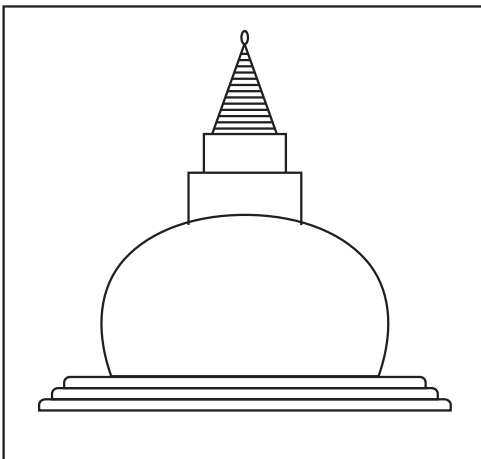
23



24




25



- අංක 26 සිට 30 තෙක් වූ ප්‍රශ්න සඳහා අසා ඇති ප්‍රශ්නවලට නිවැරදි පිළිතුරු සපයන්න.

26 ස්තූපයක් ඇඳ කොටස් නම් කරන්න.



27 28
29 30
(නිවැරදිව ඇඳ ලකුණුකර ඇත්නම් ල. 15 යි.)

III කොටස

- ශාලාධිපතිට භාරදෙන විට වියළීමට පත්වී ඇති ඕනෑම වර්ණ මාධ්‍යයක් භාවිතා කළ හැක.
- පහත සඳහන් ‘‘අ’’, ‘‘ආ’’, ‘‘ඇ’’ කොටස් 3 න් එක් මාතෘකාවක් පමණක් තෝරාගෙන වික්‍රණය කරන්න.

‘‘අ’’ (ප්‍රකාශන)

- 01 මුහුදු වෙරලේ දරුවන් 02 පන්සල් යන යහළුවෝ
03 අපේ සෙල්ලම් ගෙදර

‘‘ආ’’ (මෝස්තර)

- 04 මල් සහිත චිත්‍ර රෙද්දකට සුදුසු නිර්මාණයක්
05 කුඩයකට සුදුසු මෝස්තරයක්

‘‘ඇ’’ (ග්‍රැෆික්)

- 06 කතාන්දර පොතකට නමක් සහිත නිර්මාණයක්
07 පරිසර දිනය වෙනුවෙන් පෝස්ටරයක් නිර්මාණය කරන්න.