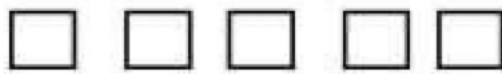


රෝම සංඛ්‍යා භාවිත කරයි. iසිට x තෙක් රෝම සංඛ්‍යාංක හඳුනාගෙන භාවිත කරයි


ක්‍රියාකාරකම - 1

iසිට v තෙක් රෝම සංඛ්‍යා මුලින්ම ඉගෙන ගනිමු.

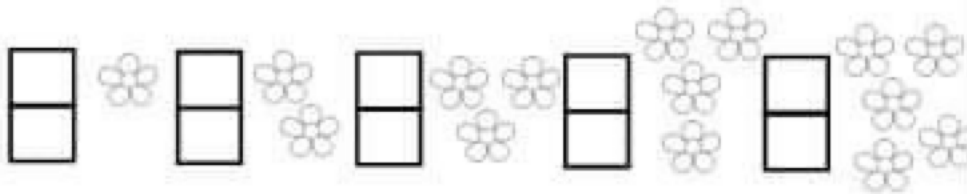
මුලින්ම ඉවතට දමන කාඩ්බෝඩ් එකක් ගෙන අපි භාවිත කරන ඉලක්කම් යොදාගෙන (නිත්දු අරාබි සංඛ්‍යා) 1, 2, 3, 4, 5 පත්‍රිකා 5ක් කපා ගන්න




ඊට පසුව තවත් පත්‍රිකා 5ක් කපා ගෙන රෝම සංඛ්‍යාංක ලියා ගන්න.



වත්තට යන්න මල් 15ක් කඩාගෙන එන්න. පත්‍රිකා මෙලෙස තබන්න. මල් ගොඩවල් ගසන්න.

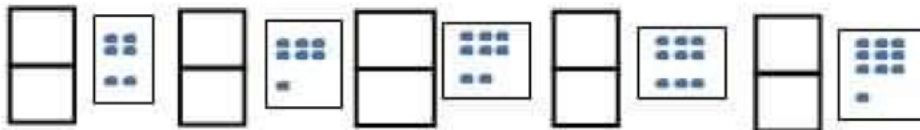


	රෝම සංඛ්‍යා එක	}
	රෝම සංඛ්‍යා දෙක	
	රෝම සංඛ්‍යා තුන	
	රෝම සංඛ්‍යා හතර	
	රෝම සංඛ්‍යා පහ	

ක්‍රියාකාරකම - 2

vi සිට x තෙක් රෝම සංඛ්‍යා හඳුනා ගනිමු.

- 6-10 දක්වා ඉලක්කම් පත්‍රිකාවල ලියා ගන්න. ඒවා කපා ගන්න.
- පසුව තවත් පත්‍රිකා කපා ගෙන ඒවායේ vi, vii, viii, ix හා x ලෙස ලියා ගන්න.
- සියලුම ඇට ටීකක් හෝ ගල්කැට ටීකක් සොයා ගන්න.
- ගල්කැට රක ගොඩක් ගසන්න. එම ගොඩ ඉදිරියෙන් රයේ පත්‍රිකාවක් රෝම සංඛ්‍යාවල vi ලියා ඇති පත්‍රිකාවක් තබන්න. එය කියන්න. (පොතේ ඇඳලියන්න.)



නිවැරදිව යා කරන්න

