


முன்றாம் தவணைப்பரீட்சை
ஏல்லா வினாவுக்கும் விடை தருக.

தரம் 10

பகுதி 01

01. அல்ராமரின் எனக் குறிப்பிடப்படும் நிறம் எது?
1. நீலம் 2. புச்சை 3. கறுப்பு 4. செம்மஞ்சல்
02. தனிப்பிரதி செய்யும் முறையை எப் பெயர் கொண்டு அழைப்பர்?
1. மொனோகிறபிக் 2. லிதாகிறபிக் 3. பிரதியெடுத்தல் 4. அச்சுப்பதித்தல்
03. ஓளி புகும் வர்ணம் எது?
04. 1. வெப்ப வர்ணம் 2. நீர் வர்ணம் 3. ஓயில் வர்ணம் 4. கலப்பு வர்ணம்
05. பனையின் பாளை போன்ற வடிவம் உடையது மலரின் இதழ்கள் சிலந்தியின் கால் அடுக்குகள் போன்ற வடிவம் உடையது எது?
1. சீன மலர் 2. கடுப்பு மலர் 3. சப்பு மலர் 4. நாரிலதா


பின்வரும் படங்களை இனம் காண்க.



06



07




08



09



10



10

சுரியான விடை தருக.

11. அபயகிரி தாபகம் யாரால் கட்டப்பட்டது?

.....
.....

12. சிகிரியாவில் தற்போது எத்தனை பெண் ஓவியங்கள் காணப்படுகின்றது?

.....
.....

13. தம்புள்ள கூரைச்சித்திரம் எச்சுதையானது?

.....
.....

14. ஏம்பக்க தவாலைய சிற்றபம் எத்தன்மையானது?

.....
.....

15. அவுக்கண புத்தர் சிலை யாரால் அமைக்கப்பட்டது?

.....
.....

16. மொசாச் முறை ஓவியம் என்றால் என்ன?

.....
.....

17. நெற்குவியல் வடிவ விகாராயின் பெயரை குறிப்பிடுக.

.....
.....

18. நடராஜர் எனக் கருதப்படுவது யாது?

.....
.....






19. கொரவக்கல் எனப்படுவது யாது?

.....
.....

20. சுமாத் நிலை புத்தர் சிலைக்கு உதாரணம் தருக.

.....
.....

A க்கு பொருத்தமான டீயை தெரிவு செய்க



இச் சின்னம் பற்றிய ஐந்து குறிப்புகளை தருக

- 26.....
- 27.....
- 28.....
- 29.....
- 30.....



இச் சின்னம் பற்றிய ஐந்து குறிப்புகளை தருக

- 31.....
- 32.....
- 33.....
- 34.....
- 35.....



இச் சின்னம் பற்றிய ஐந்து குறிப்புகளை தருக

- 36.....
- 37.....
- 38.....
- 39.....
- 40.....

(40 புள்ளிகள்)

பகுதி 11

வர்ணப்படமாக்குக.

1. ஓலை பின்னம் பெண்கள்
2. படகில் மீன் பிடிப்போர்
3. மழை நாள்
4. பஸ் தரிப்பிடம்
5. குளத்தில் குளிக்கும் சிறுவர்கள் அல்லது

ஏதாவது ஒன்றை அலங்காரம் அமைக்க

1. தலையணை உறை
2. வீட்டின் உட்கூரை
3. சவராகார உறை
4. ஏதேனும் புத்தக அட்டை
5. சிறுவர் காட்டுண் புத்தக அட்டை

(30 புள்ளிகள்)

பகுதி 111

ஆசிரியர் பொருட்கூட்டம் ஒன்றை ஒழுங்கு செய்க.

(30 புள்ளிகள்)