




II කොටස

- 2. (i) සාහිත්‍යමය මූලාශ්‍ර හා ජනප්‍රවාදවල සඳහන් වන අන්දමට ඉන්දියානු සංක්‍රමණිකයන් පැමිණීමට පෙර මෙරට විසූ බවට සැලකෙන ජනවර්ග තුනක් සඳහන් කරන්න. (ලකුණු 03යි)
 - (ii) යාබද සිතියමෙහි A, B, C හා D වලින් දක්වා ඇත්තේ මෙරටට පැමිණි ඉන්දියානු සංක්‍රමණිකයන් නම් ජනාවාස සඳහා තෝරාගත් ගංගා නිම්න කිහිපයකි. ඒවා පිළිවෙළින් නම් කරන්න. (ලකුණු 04යි)
 - (iii) මුල් ආර්ය සංක්‍රමණිකයන්ගේ ආර්ථික කටයුතුවල ස්වභාවය කරුණු දෙකක් අයුරෙන් පැහැදිලි කරන්න. (ලකුණු 05යි)
 - (iv) මවුන් පසු කාලීනව ජලසම්පාදන ව්‍යාපාර ආරම්භ කිරීම කෙරෙහි අවධානය යොමු කළේ ඇයි දැයි සාධක තුනක් අයුරෙන් පෙන්වා දෙන්න. (ලකුණු 06යි)
- 
- 3. (i) පහත A, B හා C වලින් දැක්වෙන කලාකෘති හඳුනාගෙන ඔබේ පිළිතුරු පත්‍රයෙහි පිළිවෙළින් නම් කරන්න.
- 
- (ii) පහත P, Q, R හා S වලින් දක්වා ඇති ජල සම්පාදනය හා සම්බන්ධ නිර්මිතයන්ගෙන් ලබාගත් ප්‍රයෝජන එක බැගින් පිළිවෙළින් සඳහන් කරන්න.
P - පිටවාන Q - බිසෝකොටුව R - කලිගුබෑමම S - කුළුවල
 - (iii) 'මෙරට ආගමික හා සංස්කෘතික නවෝදයක් ඇති කිරීමේ ලා බුදු දහමින් ලත් ආහාසය අතිශයන්ය' ඉහත ප්‍රකාශය කරුණු දෙකක් අයුරෙන් පැහැදිලි කරන්න. (ලකුණු 05යි)
 - (iv) මාස ආක්‍රමණයෙන් පසුව පොළොන්නරුව යළි ගස්කිහිටේ රාජ්‍යයක් බවට පත්කර ගැනීමට නොහැකි වූයේ ඇයි දැයි කරුණු දෙකක් අයුරෙන් විස්තර කරන්න. (ලකුණු 06යි)
- 4. (i) මුදුර සංදේශය, ගුන්තිල කාව්‍යය, තිසර සංදේශය, සැළලිහිණි සංදේශය, එරත්නතගල වංශය, පරෙවි සංදේශය යන සාහිත්‍ය කෘති අතරින් කෝට්ටේ යුගයට අයත්වන කෘතීන් පමණක් තෝරා ලියන්න. (ලකුණු 03යි)
 - (ii) කෝට්ටේ හයවන පරාක්‍රමබාහු රාජ්‍ය සමයේ දේශපාලන ක්‍ෂේත්‍රය තුළ සිදුවූ වැදගත් සිද්ධීම් දෙකක් සඳහන් කරන්න. (ලකුණු 04යි)
 - (iii) නිරිත දෙසට රාජධානි මාරුවීමත් සමඟ එහි භෞතික පරිසරයට ගැලපෙන පරිදි ආර්ථික රටාවේ වෙනසක් ඇතිකර ගැනීමට සිදුවූ බව හේතු දෙකක් මගින් පැහැදිලි කරන්න. (ලකුණු 05යි)
 - (iv) කෝට්ටේ රාජ්‍ය අස්ථාවර රාජ්‍යයක් බවට පත්වීම කෙරෙහි රාජ්‍ය පාලකයන්ගේ ම ක්‍රියාකලාපය හේතු වූ බව ඓතිහාසික සිද්ධීම් දෙකක් අයුරින් පැහැදිලි කරන්න. (ලකුණු 06යි)

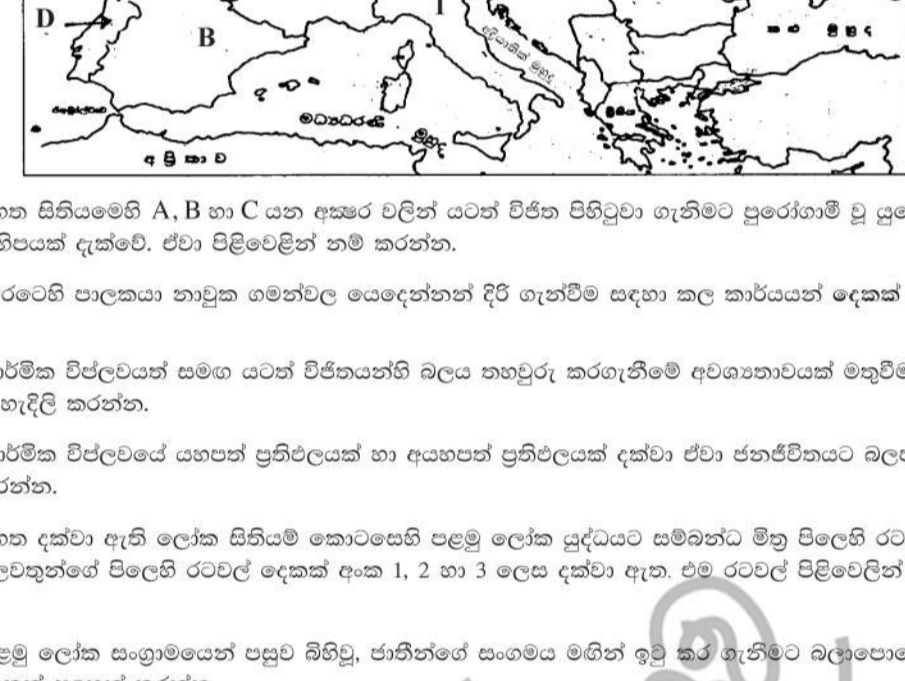
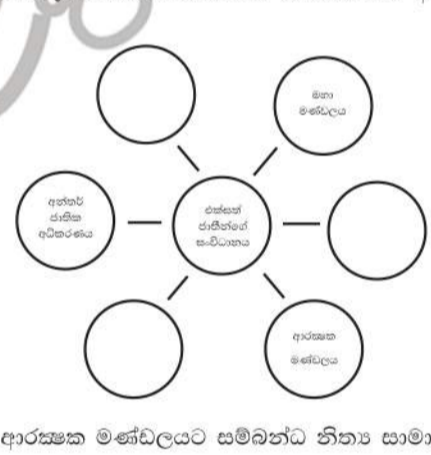
/3 වැනි පිටුව බලන්න

- 5. (i) ක්‍රි.ව. 1521 දී ඇති වූ අරාබි කොල්ලයෙන් පසුව දේශපාලන වශයෙන් බෙදීගිය කෝට්ටේ, රයිගම හා සීතාවක යන රාජ්‍යවල පාලකයන් පිළිවෙළින් නම් කරන්න. (ලකුණු 03යි)
 - (ii) පහත A, B, C හා D යටතේ දක්වා ඇති ඓතිහාසික සිද්ධීම් හා සම්බන්ධ පුද්ගලයන් කවුරුන්දැයි පිළිවෙළින් නම් කරන්න.
A - පළමුවන රාජසිංහ රජතුමා උඩරට රාජධානිය ආක්‍රමණය කළ අවස්ථාවේ දී පෘතුගීසීන් වෙතට පලාගිය එහි පාලකයා.
B - පළමුවන විමලධම්පසුරිය හා සෙනරත් යන රජවරුන් දෙදෙනාටම අගබිසව වූ කුමරිය.
C - ක්‍රි.ව. 1766 දී ලන්දේසීන් සමඟ ගිවිසුමකට අත්සන් කළ උඩරට රජතුමා.
D - බ්‍රිතාන්‍යයන් විසින් උඩරට පාලනය සඳහා පත්කළ රෙසිඩන්ට්වරයා (නිතර නේවාසික නිලධාරියා). (ලකුණු 04යි)
 - (iii) පළමුවන විමලධම්පසුරිය රජතුමා දේශපාලන හා ආගමික වශයෙන් උඩරට රාජධානියට කළ සේවාව නිදසුන් එක බැගින් සපයමින් විස්තර කරන්න. (ලකුණු 05යි)
 - (iv) පෘතුගීසී හා ලන්දේසී ජාතිකයන්ට යටත්කර ගැනීමට අපහසු වූ උඩරට රාජධානිය බ්‍රිතාන්‍යයන්ට යටත්කර ගැනීමට හැකි වූයේ ඇයි දැයි හේතු තුනක් දක්වමින් පැහැදිලි කරන්න. (ලකුණු 06යි)
 - 6. (i) අහන රූපවලින් දැක්වෙන්නේ ශ්‍රී ලංකාවේ අගමැතිවරුන් කිදෙනෙකි. ශ්‍රී ලංකාවේ අගමැති තනතුරට පත්වූ අනුපිළිවෙළින් ඒ අයගේ නම් ඔබේ පිළිතුරු පත්‍රයේ සඳහන් කරන්න.
- 
- (ii) (a) - ක්‍රි.ව. 1798 - 1802 කාලය තුළ දී ලංකාවේ මුහුදුබව පලාකවල ගෙන ගිය පාලනය හඳුන්වනු ලැබූ නම් ලියන්න.
(b) - ක්‍රි.ව. 1797 දී ලංකාවේ මුහුදුබව පලාකවල ඇති වූ මහජන උද්ඝෝෂණය පිළිබඳ සොයා බලා වාර්තා කිරීමට පත් කරන ලද කොමිෂියෙහි නම කුමක් ද?
(c) - උඩරට හා පහතරට ප්‍රදේශ ඒකාබද්ධ කොට මුළුදිවයිනම පළාත් පාලනට බෙදා වෙන් කළ යුතු බව නිර්දේශ කළ කොමිෂියෙහි නම කුමක් ද?
(d) - ශ්‍රී ලංකාවේ පළමු ලාංකික අග්‍රාණ්ඩුකාරවරයාගේ නම ලියන්න. (ලකුණු 04යි)
 - (iii) නිදහසින් පසු ශ්‍රී ලංකාව සහලීන් ස්වයංපෝෂිත කිරීම සඳහා ගත් ක්‍රියාමාර්ග දෙකක් විස්තර කරන්න. (ලකුණු 05යි)
 - (iv) පසුගිය දශක දෙකක කාලය තුළදී ශ්‍රී ලංකාවේ අධ්‍යාපන ක්‍ෂේත්‍රයේ සිදුවූ නව ප්‍රවණතා තුනක් පැහැදිලි කරන්න. (ලකුණු 06යි)

III කොටස

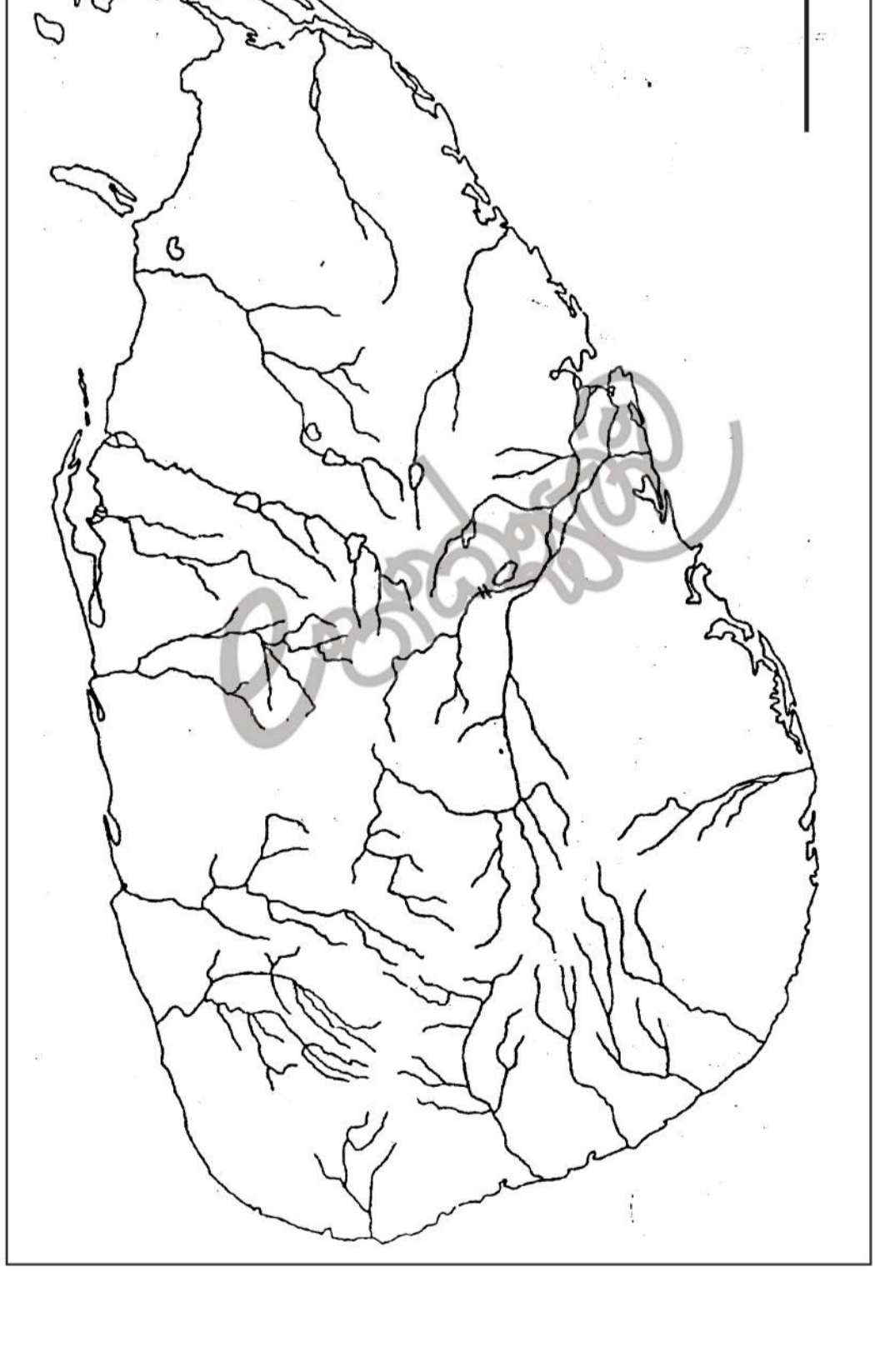
- 7. (i) ඉන්දියාවට පැමිණි මුල්ම ආර්යයන් විසින් වන්දනාමාන කළ දෙවිවරු කිදෙනෙක් නම් කරන්න. (ලකුණු 03යි)
- (ii) පහත වර්ගයේ දී ඇති පිළිතුරු අතරින් නිවැරදි පිළිතුර තෝරා A, B, C සහ D ප්‍රශ්නවලට පිළිතුරු සපයන්න. (කොට්ලප, බිම්බිසාර, කාසි, සෙලියුක්ස් නිකේටර්, අවන්ති, මහා ඇලෙක්සැන්ඩර්, අපාසන්, කාලිදාස)
A - කෝසල රජුගේ සොහොයුරිය වීවාහ කර ගැනීම නිසා මහා රජුට ආයුද වශයෙන් ලැබුණු ජනපදය.
B - මහාසේ අගනුවර රජගන නුවර සිට පාඨලියුත්‍රයට ගෙන ගිය රජතුමා.
C - පජාබය ඇතුළු වයඹ දිග ඉන්දියාව ආක්‍රමණය කළ ග්‍රීක අධිරාජ්‍යයා.
D - මොර්ය අධිරාජ්‍යයේ ප්‍රථම පාලකයා වූ වන්දනාමාන මොර්ය රජුට බලය ලබාගැනීමට උදව් කළ අර්ථ ආස්ත්‍රඥයා. (ලකුණු 04යි)
- (iii) මොර්ය අධිරාජ්‍යයේ ශ්‍රේෂ්ඨතම පාලකයා ලෙස සැලකෙන අගෝෂ්ඨ රජු, ජනගීතකාමී පාලකයෙක් ලෙස සැලකිය හැක්කේ ඇයි දැයි කරුණු දෙකක් ආශ්‍රයෙන් පැහැදිලි කරන්න. (ලකුණු 05යි)
- (iv) ඉන්දියානු සංස්කෘතික ඉතිහාසයේ මුල්ත යුගය වැදගත් කාල පරිච්ඡේදයක් ලෙස සැලකීමට හේතුවන කරුණු දෙකක් උදාහරණ ආශ්‍රයෙන් පැහැදිලි කරන්න. (ලකුණු 06යි)

/4 වැනි පිටුව බලන්න

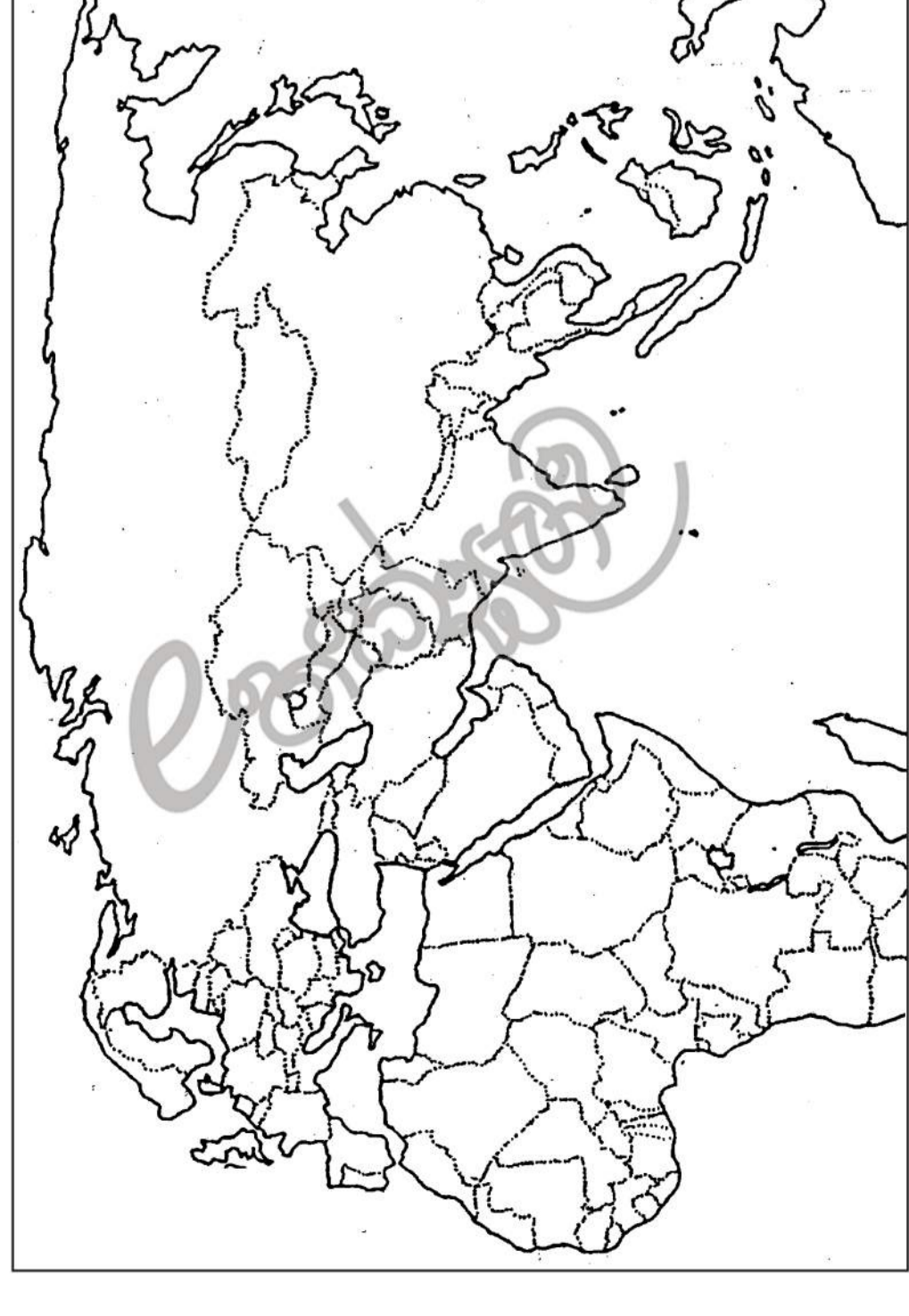
- පහත දැක්වෙන ලෝක සිතියම කොටස අධ්‍යයනය කොට, අංක 8 සහ 9 ප්‍රශ්න වලට පිළිතුරු සපයන්න.
- 
- 8. (i) ඉහත සිතියමෙහි A, B හා C යන අක්ෂර වලින් යටත් විජිත පිහිටුවා ගැනීමට පුරෝහාමී වූ යුරෝපා රටවල් කිහිපයක් දැක්වේ. ඒවා පිළිවෙළින් නම් කරන්න. (ලකුණු 03යි)
 - (ii) D රටෙහි පාලකයා නාමික මහින්වල යෙදෙන්නන් දිරි ගැන්වීම සඳහා කල කාර්යයන් දෙකක් සඳහන් කරන්න. (ලකුණු 04යි)
 - (iii) කාර්මික විප්ලවයත් සමඟ යටත් විජිතයන්හි බලය තහවුරු කරගැනීමේ අවශ්‍යතාවයක් මතුවීමට බලපෑ හේතු දෙකක් පැහැදිලි කරන්න. (ලකුණු 05යි)
 - (iv) කාර්මික විප්ලවයේ යහපත් ප්‍රතිඵලයක් හා අයහපත් ප්‍රතිඵලයක් දක්වා ඒවා ජනජීවිතයට බලපෑ ආකාරය විස්තර කරන්න. (ලකුණු 06යි)
 - 9. (i) ඉහත දක්වා ඇති ලෝක සිතියමේ කොටසෙහි පළමු ලෝක යුද්ධයට සම්බන්ධ මිත්‍ර පිලෙහි රටවල් එකක් හා මධ්‍යම බලවතුන්ගේ පිලෙහි රටවල් දෙකක් අංක 1, 2 හා 3 ලෙස දක්වා ඇත. එම රටවල් පිළිවෙළින් නම් කරන්න. (ලකුණු 03යි)
 - (ii) පළමු ලෝක සංග්‍රාමයෙන් පසුව බිහිවූ, ජාතීන්ගේ සංගමය මගින් ඉටු කළ ගැනීමට බලාපොරොත්තු වූ අරමුණු දෙකක් සඳහන් කරන්න. (ලකුණු 04යි)
 - (iii) දෙවන ලෝක යුද්ධයෙන් පසු ඇමරිකා එක්සත් ජනපදය ලෝක බලවතෙකු ලෙස නැගී සිටීම සඳහා අනුමාන කළ විදේශ ප්‍රතිපත්තිය, කරුණු දෙකක් ආශ්‍රයෙන් පැහැදිලි කරන්න. (ලකුණු 05යි)
 - (iv) දෙවන ලෝක යුද්ධයෙන් පසුව ලෝක දේශපාලන රටාව වෙනස් වූ ආකාරය කරුණු තුනක් ආශ්‍රයෙන් පැහැදිලි කරන්න. (ලකුණු 06යි)
 - 10. (i) පහත රූපික සටහනෙහි දක්වා නොමැති එක්සත් ජාතීන්ගේ සංවිධානයේ අනෙක් ආයතන තුන ඔබේ පිළිතුරු පත්‍රයේ ලියා දක්වන්න.
- 
- (ii) එක්සත් ජාතීන්ගේ සංවිධානයේ ආරක්ෂක මණ්ඩලයට සම්බන්ධ නිතර සාමාජික රටවල් හතරක් නම් කරන්න. (ලකුණු 04යි)
 - (iii) තුන්වන ලෝක යුද්ධයක් කරා ආසන්න වීමට තිබූ අවස්ථා කීපයක් ම එක්සත් ජාතීන්ගේ මැදිහත්වීම නිසා වැළකී ගිය ආකාරය උදාහරණ දෙකක් ආශ්‍රයෙන් පැහැදිලි කරන්න. (ලකුණු 05යි)
 - (iv) "එක්සත් ජාතීන්ගේ සංවිධානය එහි ප්‍රභල සාමාජික රටවල උවමනාව මත කටයුතු කරන බවට වෙරදහා එල්ල වෙමින් පවතී" මේ පිළිබඳව පක්ෂ හා විපක්ෂ කරුණු ඉදිරිපත් කරන්න. (ලකුණු 06යි)

අ.පො.ස. (සා.පෙළ) උපකාරක සම්මන්ත්‍රණය - 2013

1) අ. (i)



අ.පො.ස. (සා.පෙළ) උපකාරක සම්මන්ත්‍රණය - 2013



1) අ. (ii)