



11 ශ්‍රේණිය

භූගෝල විද්‍යාව

2 ඒකකය

ශ්‍රී ලංකාවේ ස්වභාවික සම්පත්

- ප්‍රශ්න සියල්ලටම පිළිතුරු සපයන්න.

01. ශ්‍රී ලංකාව සතු ප්‍රධානම ස්වභාවික සම්පත් මොනවාද?

.....

.....

.....

02. 1944 සිට ක්‍රියාත්මක වන රටකට අයත් මුහුදු සීමාව තීරණය කරන නීතිය කුමක්ද?

.....

03. රාජ්‍යය මුහුදු සීමාව යනු කුමක්ද?

.....

.....

04. නාවික සැතපුම් 12 - 24 දක්වා වූ කලාපය හඳුන්වන නම කුමක්ද?

.....

05. පරම ආර්ථික කලාපයට අයත් දුර සීමාව කොපමණද?

06. ශ්‍රී ලංකාව සතු භූමි ප්‍රමාණය කොපමණද?

07. ශ්‍රී ලංකාවේ භූමි පරිහරණය සම්බන්ධ ගැටළු 5ක් ලියන්න.

- ❖
- ❖
- ❖
- ❖
- ❖

08. මෙරට තුළ ක්‍රියාත්මක වන භූමි සංරක්ෂණ ක්‍රමෝපායන් 5ක් ලියන්න.

- ❖
- ❖
- ❖
- ❖
- ❖

09. ප්‍රධාන පාඨාන වර්ග 3 ලියන්න.

❖ ❖ ❖

10. ග්‍රැනයිට් විපරිත වීමෙන් සෑදෙන පාඨාන වර්ගය කුමක්ද?

11. නයිස් පාඨානය ප්‍රයෝජනයට ගන්නා ආකාර 2ක් ලියන්න.

❖ ❖

12. යාපන අර්ධද්වීපයේ වයඹ දිග මුහුදු තීරයේ ව්‍යාප්තව ඇති අවසාධිත පාඨාන වර්ගය කුමක්ද?

.....

13. මයෝසීන හුණුගල්වලින් ලබා ගන්නා ප්‍රයෝජන 3ක් ලියන්න.

❖

❖

❖

14. විපරිත පාඨානයක් වන ඩොලමයිට් ව්‍යාප්තව ඇති ප්‍රදේශ මොනවාද?

.....

.....

15. ඩොලමයිට් පාඨානයෙන් ලබා ගන්නා ප්‍රයෝජන 3ක් ලියන්න.

❖

❖

❖

16. පාඨාන පරිහරණයේදී මතුවන ගැටළු 4ක් ලියන්න.

❖

❖

❖

❖

17. භූමි සංරක්ෂණ ක්‍රමෝපායන් 4ක් ලියන්න.

❖

.....

❖

.....

❖

.....

❖

.....

18. ශ්‍රී ලංකාවේ ඇති ප්‍රධාන ඛනිජ වර්ග 5ක් නම් කරන්න.

- ❖
- ❖
- ❖
- ❖
- ❖

19. පහත සඳහන් ඛනිජ සම්පත් සඳහා උදාහරණ ලියන්න.

ලෝහමය ඛනිජ	ලෝහමය නොවන ඛනිජ
❖	❖
❖	❖
❖	❖
❖	❖
❖	❖
	❖
	❖

20. මිනිරන් යොදා ගන්නා දේශීය කර්මාන්ත මොනවාද?

- ❖
- ❖
- ❖
- ❖
- ❖
- ❖
- ❖

21. ශ්‍රී ලංකාව තුළ මිනිරන් හමුවන ප්‍රධාන ප්‍රදේශ මොනවාද?

- ❖
- ❖
- ❖
- ❖

22. ශ්‍රී ලංකාව තුළ ව්‍යාප්තව ඇති ඛනිජ වැලි සම්බන්ධ පහත සඳහන් වගුව සම්පූර්ණ කරන්න.

ඛනිජ වර්ගය	ව්‍යාප්තව ඇති ප්‍රදේශ	ප්‍රයෝජන
සිලිකා වැලි	❖	❖
	❖	❖
	❖	❖
	❖	
	❖	

ඉල්මනයිට්	❖ ❖	❖ ❖
සර්කොන්	❖ ❖	❖ ❖ ❖
රූටයිල්	❖	❖ ❖

23. බනිජ සම්පත් භාවිතයේදී මුහුණපාන ගැටළු 4ක් ලියන්න.

- ❖
- ❖
- ❖
- ❖

24. බනිජ සම්පත් සංරක්ෂණය සඳහා ගතහැකි ක්‍රියාමාර්ග මොනවාද?

- ❖
- ❖
- ❖
- ❖
- ❖
- ❖

25. ශ්‍රී ලංකාව තුළ ඇති ගංගා නිම්න ප්‍රමාණය කොපමණද?

26. භූගත ජලය ඉතා වැදගත් වන දිස්ත්‍රික්ක 3ක් නම් කරන්න.

- ❖ ❖ ❖

27. ජලයෙන් ලැබෙන ප්‍රයෝජන මොනවාද?

- ❖
- ❖
- ❖
- ❖
- ❖
- ❖

28. ජලය ප්‍රයෝජනයට ගැනීමේදී මතුවන ගැටළු මොනවාද?

- ❖
- ❖
- ❖
- ❖
- ❖
- ❖
- ❖

29. ජල මූලාශ්‍ර සංරක්ෂණ ක්‍රියාමාර්ග මොනවාද?

- ❖
- ❖
- ❖
- ❖
- ❖
- ❖
- ❖
- ❖

30. ශ්‍රී ලංකාවේ වනාන්තර පද්ධතිය තුළ ඇති උප පද්ධති 7 ලියන්න.

- ❖
- ❖
- ❖
- ❖
- ❖
- ❖
- ❖

31. නිවර්තන තෙත් වනාන්තර ව්‍යාප්තව ඇති ප්‍රදේශ මොනවාද?

- ❖ ❖ ❖
- ❖ ❖ ❖

32. නිවර්තන තෙත් වනාන්තරවල ලක්ෂණ 4ක් ලියන්න.

- ❖
- ❖
- ❖
- ❖

33. නිවර්තන තෙත් වනාන්තරවල වැවෙන ශාක වර්ග මොනවාද?

- ❖ ❖ ❖ ❖
- ❖ ❖ ❖ ❖

34. විශ්ලි මිශ්‍ර සදාහරිත වනාන්තරවල ප්‍රධාන ලක්ෂණ 4ක් ලියන්න.

- ❖
- ❖
- ❖
- ❖

35. විශ්ලි මිශ්‍ර සදාහරිත වනාන්තරවල වැවෙන ශාක වර්ග මොනවාද?

- ❖ ❖ ❖ ❖
- ❖ ❖ ❖ ❖

36. අතරමැදි සදාහරිත වනාන්තර ව්‍යාප්තව ඇති ප්‍රදේශ ලියන්න.

-
-

37. අතරමැදි සදාහරිත වනාන්තරවල විශේෂිතම ලක්ෂණය කුමක්ද?

-

38. අතරමැදි සදාහරිත වනාන්තරවල වැවෙන වටිනා ශාක වර්ග මොනවාද?

-
-

39. කඳුකර තෙත් කලාපීය වනාන්තර ව්‍යාප්තව ඇති ප්‍රදේශ 4ක් නම් කරන්න.

- ❖ ❖
- ❖ ❖

40. කඳුකර තෙත් කලාපීය වනාන්තරවල ලක්ෂණ 4ක් ලියන්න.

- ❖
- ❖
- ❖
- ❖

41. කඳුකර තෙත් කලාපීය වනාන්තරවල වැවෙන ශාක වර්ග මොනවාද?

- ❖ ❖ ❖
- ❖ ❖ ❖

42. කඳුකර වියළි කලාපීය වනාන්තර ව්‍යාප්තව ඇති ප්‍රදේශ මොනවාද?

- ❖
- ❖
- ❖
- ❖

43. කඳුකර වියළි කලාපීය වනාන්තරවල ලක්ෂණ 4ක් ලියන්න.

- ❖
- ❖
- ❖
- ❖

44. කඳුකර වියළි කලාපීය වනාන්තරවල වැවෙන ශාක මොනවාද?

- ❖
- ❖
- ❖
- ❖

45. කටු පඳුරු හා ලඳු කැලෑ ව්‍යාප්තව ඇති ප්‍රදේශ මොනවාද?

-
-

46. කටු පඳුරු හා ලඳු කැලෑවල වැවෙන ශාකවල ලක්ෂණ මොනවාද?

- ❖
- ❖

47. කටු පඳුරු හා ලඳු කැලෑ වනාන්තර පද්ධතියේ වැවෙන ශාක වර්ග මොනවාද?

-

48. කඩොලාන ශාක ප්‍රජාව ව්‍යාප්තව ඇති ප්‍රදේශ මොනවාද?

-
-

49. කඩොලාන ශාකවල විශේෂ ලක්ෂණ 2ක් ලියන්න.

- ❖
- ❖

50. කඩොලාන ශාක ප්‍රජාවට අයත්වන ශාක වර්ග 4ක් ලියන්න.

- ❖
- ❖
- ❖
- ❖

51. ශ්‍රී ලංකාවේ ඇති රක්ෂිත වනාන්තර වර්ග 5 නම් කරන්න.

- ❖
- ❖
- ❖
- ❖
- ❖

52. ශ්‍රී ලංකාවේ ඇති ජාතික උද්‍යාන මොනවාද?

- ❖ ❖ ❖ ❖
- ❖ ❖ ❖ ❖
- ❖ ❖ ❖ ❖

53. ජාතික උද්‍යානවල ලක්ෂණ 2ක් ලියන්න.

- ❖
- ❖
-

54. මෙරට තුළ ඇති දැඩි ස්වභාවික රක්ෂිත 3ක් නම් කරන්න.

- ❖ ❖ ❖

55. දැඩි ස්වභාවික රක්ෂිතවල ලක්ෂණ 2ක් ලියන්න.

- ❖
- ❖

56. ශ්‍රී ලංකාවේ ඇති අභය භූමි ප්‍රමාණය දළ වශයෙන් කොපමණද?

57. ශ්‍රී ලංකාවේ ඇති අභය භූමි කිහිපයක් ලියන්න.

- ❖ ❖ ❖ ❖
- ❖ ❖ ❖ ❖
- ❖ ❖ ❖ ❖

58. අභය භූමිවල භාවිතය පිළිබඳ එක් ලක්ෂණයක් ලියන්න.

-
-

59. ශ්‍රී ලංකාවේ ඇති ස්වභාවික රක්ෂිත 4ක් නම් කරන්න.

- ❖ ❖
- ❖ ❖

60. ශ්‍රී ලංකාව තුළ ඇති වන රක්ෂිත මොනවාද?

- ❖ ❖ ❖
- ❖ ❖

61. වනාන්තර හා වන ජීවී රක්ෂිතවල ඇති ප්‍රයෝජන මොනවාද?

- ❖
- ❖
- ❖
- ❖

- ❖
- ❖
- ❖
- ❖
- ❖
- ❖
- ❖
- ❖
- ❖
- ❖

62. වන සංරක්ෂණ ක්‍රියාමාර්ග මොනවාද?

- ❖
- ❖
- ❖
- ❖
- ❖
- ❖
- ❖

63. බල ශක්තිය නිපදවීම සඳහා යොදා ගන්නා ශක්ති උත්පාදක මොනවාද?

- ❖ ❖
- ❖ ❖
- ❖

64. ශ්‍රී ලංකාව තුළ බල ශක්තිය නිපදවීමට භාවිතාවන ජෛව ස්කන්ධ නම් කරන්න.

- ❖ ❖ ❖ ❖

65. මෑතකදී ඉදි කළ සූර්ය බලාගාරය පිහිටා ඇත්තේ කොහේද?

66. ශ්‍රී ලංකාවේ සුළං බලාගාර පිහිටි ස්ථාන 2ක් නම් කරන්න.

- ❖ ❖

67. ආනයනික බොර තෙල් පිරිපහදු මධ්‍යස්ථානය පිහිටා ඇත්තේ කොහේද?

-

68. බොර කෙල් පිරිපහදුවේදී වෙන් කර ගන්නා ද්‍රව්‍ය මොනවාද?

.....
.....

69. ශ්‍රී ලංකාවේ පිහිටි ගල් අඟුරු බලාගාර 2 මොනවාද?

❖ ❖

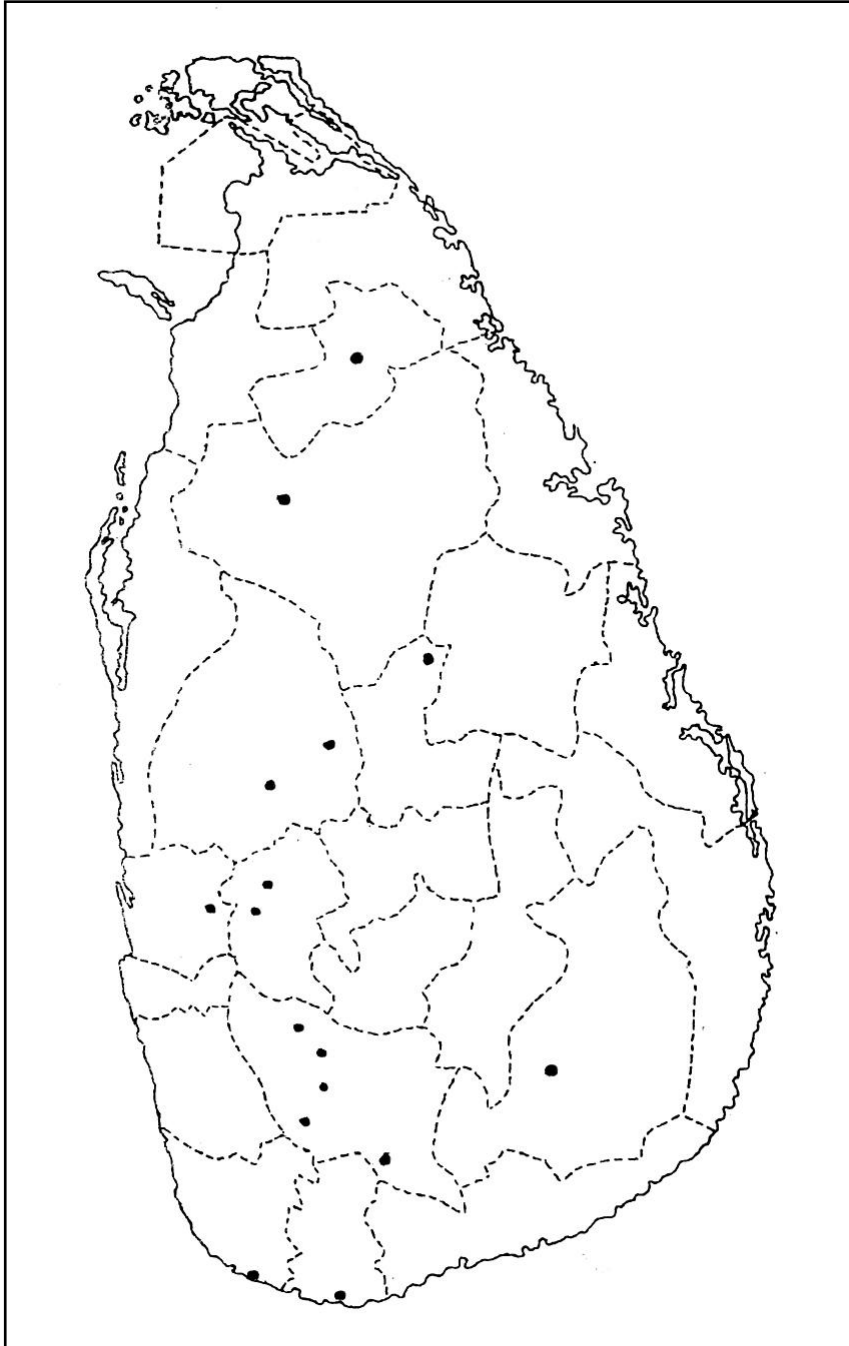
70. බල ශක්ති පරිහරණයේදී මතු වන ගැටළු මොනවාද?

❖
❖
.....
❖
❖
❖

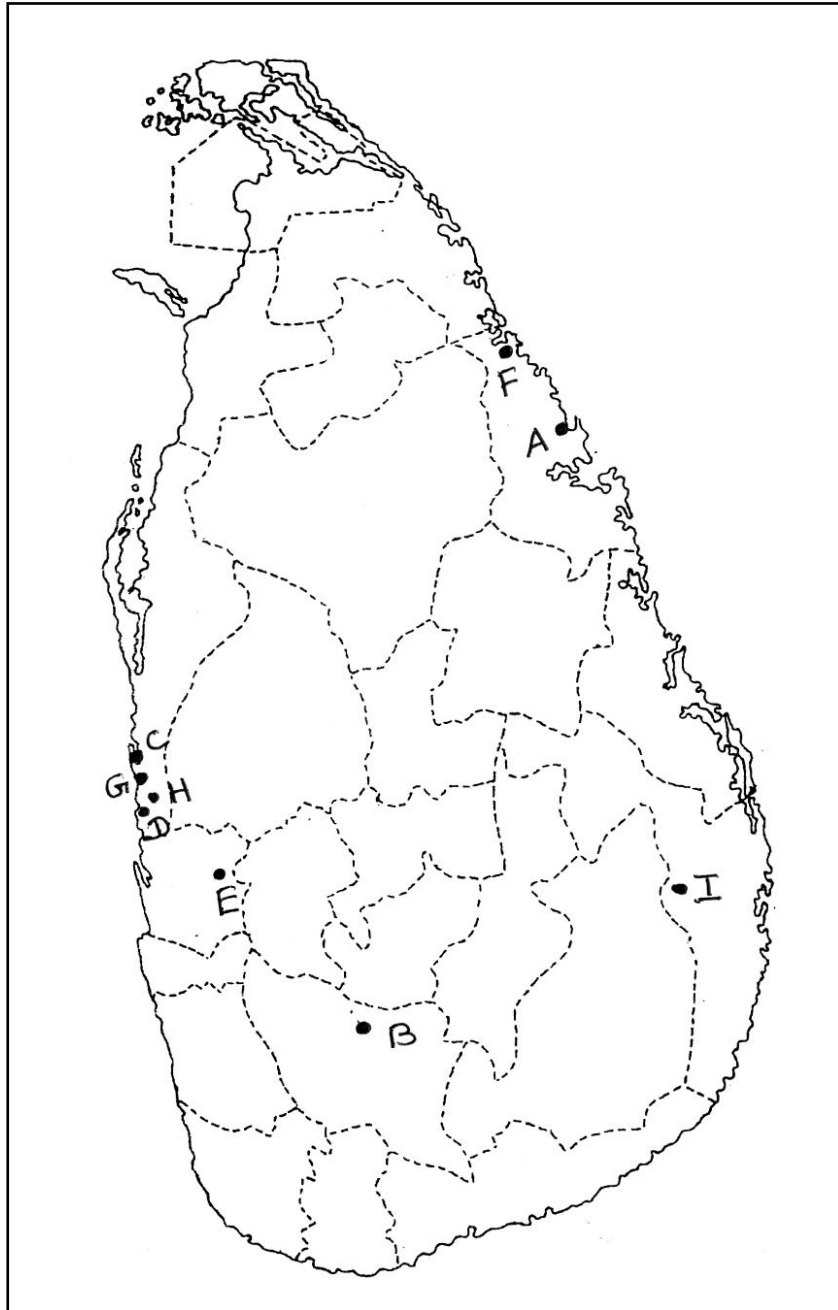
71. බල ශක්ති සම්පත් සංරක්ෂණය කිරීම වැදගත් වන්නේ ඇයි?

❖
❖
❖
❖
.....
❖
❖
❖
❖

72. ශ්‍රී ලංකාවේ මැණික් හා මිනිරන් ව්‍යාප්තව ඇති පහත සඳහන් ප්‍රදේශයන්හි නම ඔබට සපයා ඇති ලංකා සිතියමේ අදාළ ස්ථානයේ ලියා දක්වන්න.

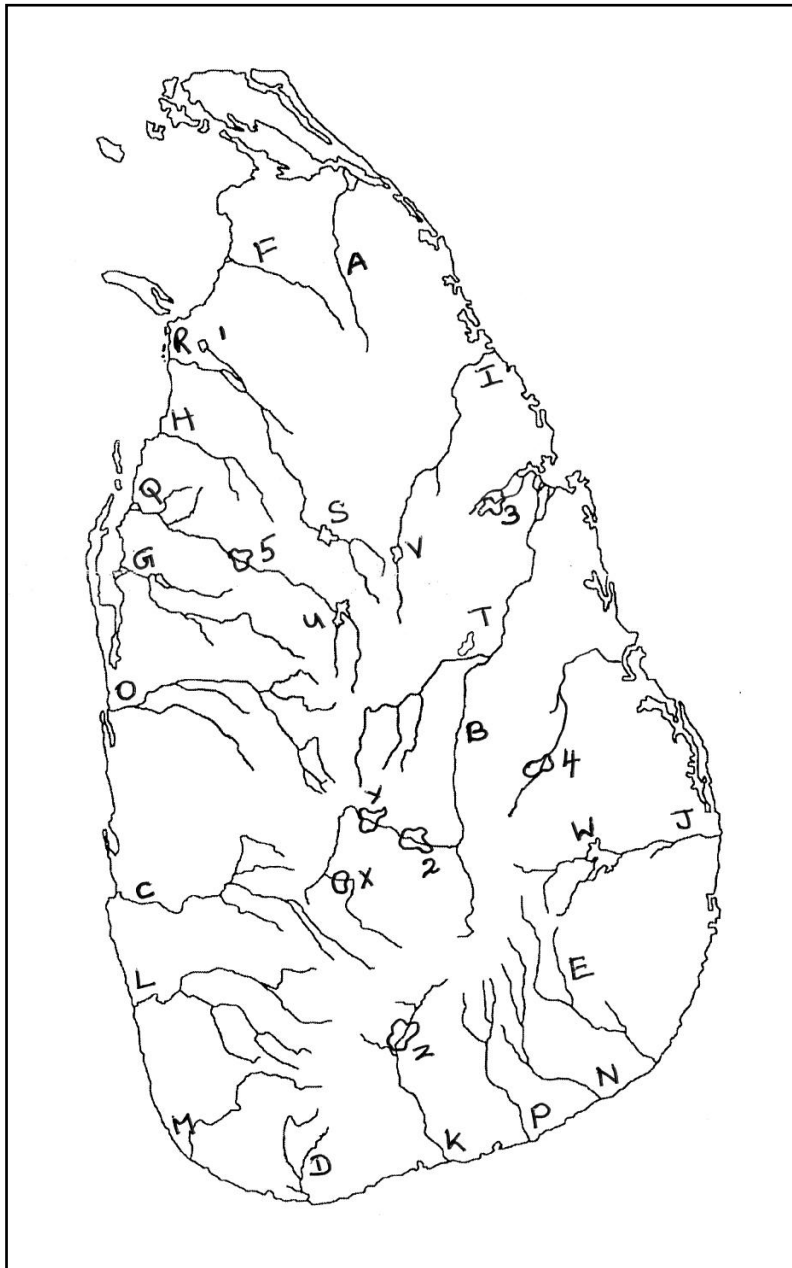


73. ශ්‍රී ලංකාවේ ඛනිජ වැලි ව්‍යාප්තව ඇති, පහත දක්වා ඇති ප්‍රදේශ සිතියමෙන් හඳුනාගෙන අදාළ අක්ෂරය හිස්තැනෙහි ලියන්න.



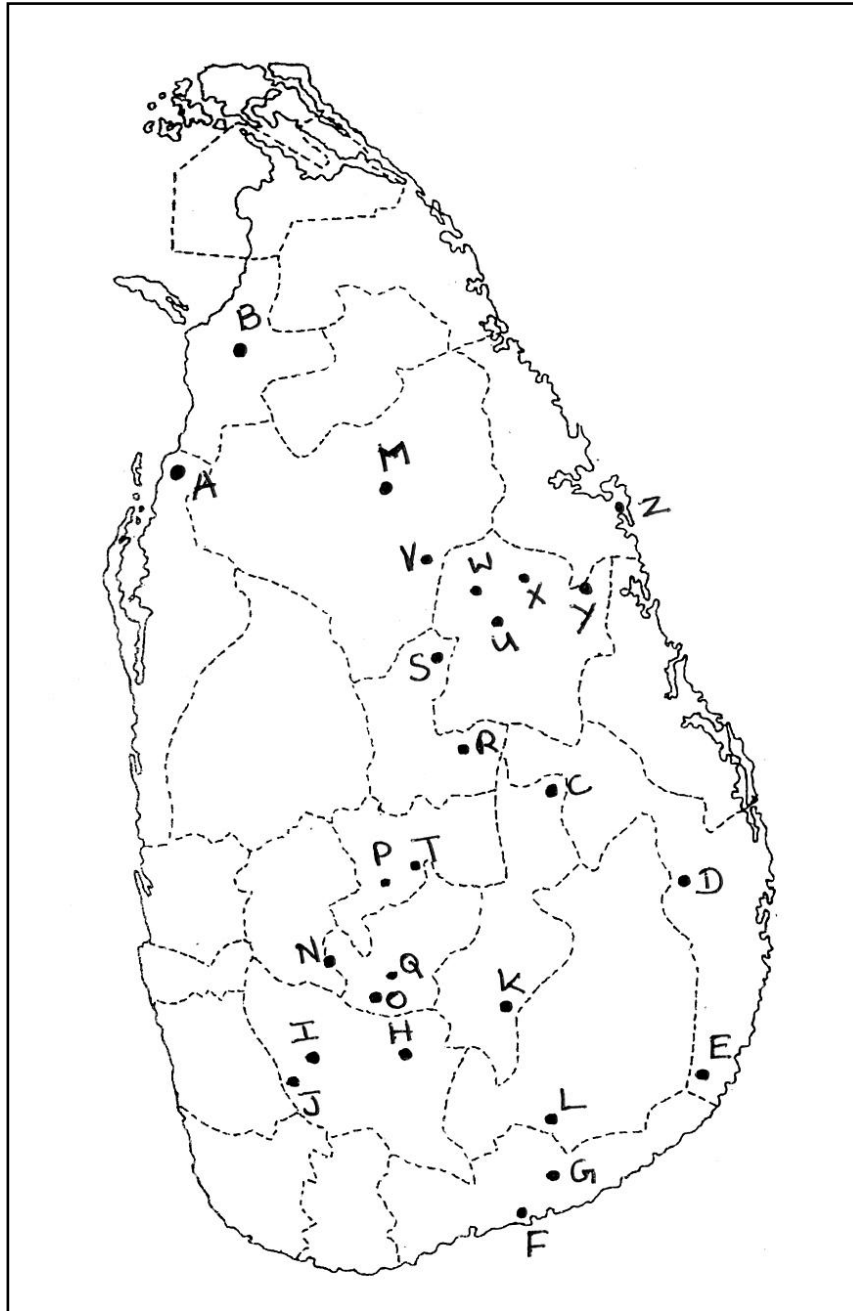
- | | | | | |
|------|-------------------------------|---|------------|---------|
| i. | ඉල්මනයිට් හා රූටයිල් ව්‍යාප්ත | - | පුල්මුඩේ | (.....) |
| ii. | සිලිකා වැලි ව්‍යාප්තව ඇති | - | මාරවිල | (.....) |
| | | - | හලාවත | (.....) |
| | | - | නාක්කන්ඩිය | (.....) |
| | | - | මාදම්පේ | (.....) |
| | | - | අම්පාර | (.....) |
| iii. | සර්කොන් ව්‍යාප්ත | - | මීරිගම | (.....) |
| | | - | බලංගොඩ | (.....) |
| iv. | ඉල්මනයිට් ව්‍යාප්ත | - | නිලාවේලි | (.....) |

74. ශ්‍රී ලංකාවේ ගංගා ද්‍රෝණි හා ජලාශවල ව්‍යාප්තිය පහත සඳහන් සිතියමෙන් හඳුනාගෙන අදාළ අක්ෂරය හෝ ඉලක්කම වරහන තුළ ලියන්න.



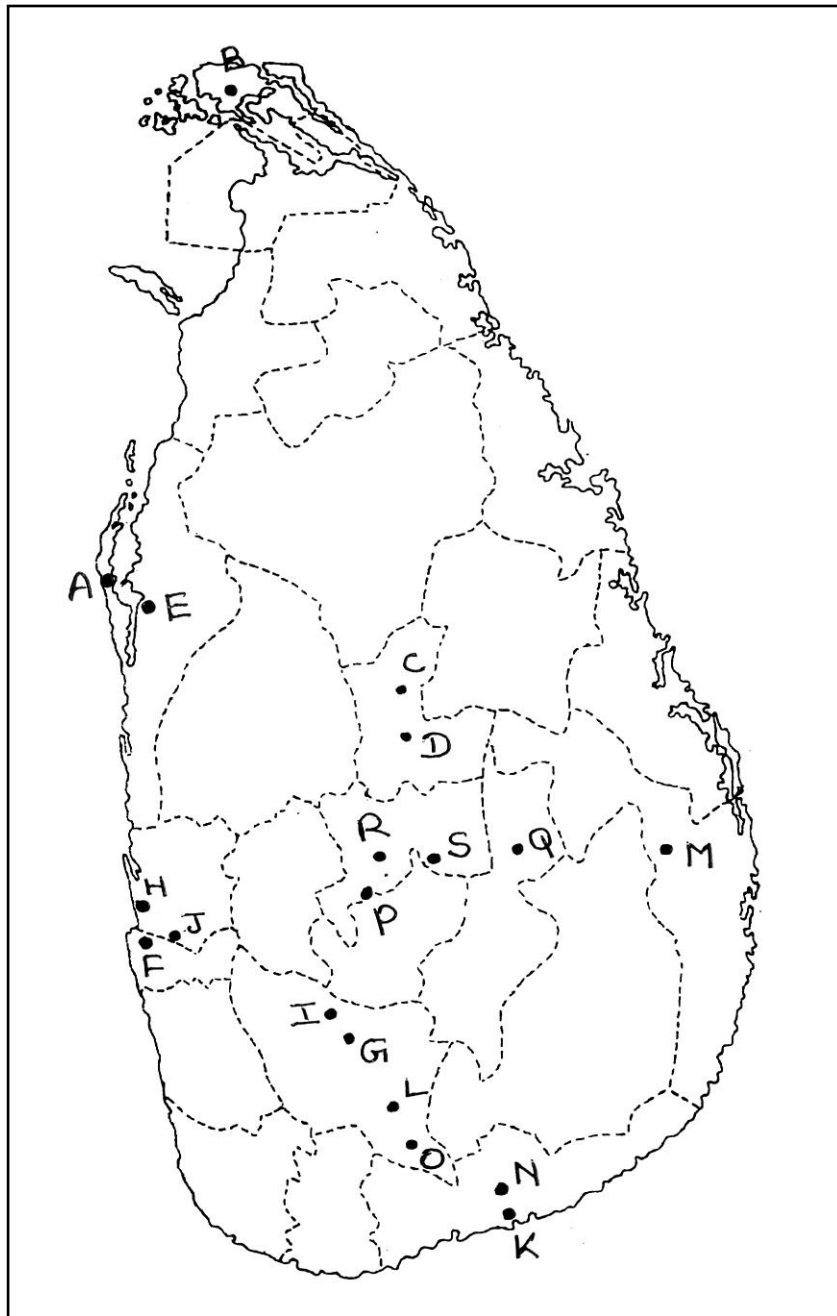
- | | | |
|----------------------------|-------------------------------|-------------------------------|
| 1. කනගරායන් ආරූ (.....) | 12. කන්තලේ වැව (.....) | 23. ගල් ඔය (.....) |
| 2. රාජාංගන වැව (.....) | 13. කුඹුක්කන් ඔය (.....) | 24. හුරුළු වැව (.....) |
| 3. මැණික් ගඟ (.....) | 14. මල්වතු ඔය (.....) | 25. සේනානායක සමුද්‍රය (.....) |
| 4. මහවැලි ගඟ (.....) | 15. මාදුරු ඔය ජලාශය (.....) | 26. වළවේ ගඟ (.....) |
| 5. දූදුරු ඔය (.....) | 16. පරංගි ආරූ (.....) | 27. කොත්මලේ ජලාශය (.....) |
| 6. යෝධ වැව (.....) | 17. නාවිවදූව වැව (.....) | 28. කළු ගඟ (.....) |
| 7. කැලණි ගඟ (.....) | 18. මී ඔය (.....) | 29. වික්ටෝරියා ජලාශය (.....) |
| 8. කිරිඳි ඔය (.....) | 19. පරාක්‍රම සමුද්‍රය (.....) | 30. ගිං ගඟ (.....) |
| 9. රන්දෙනිගල ජලාශය (.....) | 20. මෝදරගමි ආරූ (.....) | 31. උඩවලව ජලාශය (.....) |
| 10. නිල්වලා ගඟ (.....) | 21. කලා වැව (.....) | |
| 11. කලා ඔය (.....) | 22. යාන් ඔය (.....) | |

75. ශ්‍රී ලංකාවේ වන රක්ෂිත පිහිටා ඇති ප්‍රදේශ සිතියමෙන් හඳුනාගෙන අදාළ අක්ෂරය වරහන තුළ ලියන්න.



- | | | | | | |
|----------------|---------|------------------|---------|------------------|---------|
| 1. විල්පක්කු | (.....) | 10. රන්දෙණිගල | (.....) | 19. සිංහරාජය | (.....) |
| 2. වික්‍රෝරියා | (.....) | 11. ඉන්දල | (.....) | 20. සෝමාවතිය | (.....) |
| 3. මඩු පාර | (.....) | 12. ලුණුගම්වෙහෙර | (.....) | 21. කන්තලිය | (.....) |
| 4. හග්ගල | (.....) | 13. ශ්‍රී පාදය | (.....) | 22. ත්‍රිකෝණමඩු | (.....) |
| 5. මාදුරුඔය | (.....) | 14. මින්නේරිය | (.....) | 23. රාවණා ඇල්ල | (.....) |
| 6. වස්ගොමුව | (.....) | 15. වීරවිල | (.....) | 24. සේරුවිල | (.....) |
| 7. ගල්ඔය | (.....) | 16. ඊටිගල | (.....) | 25. මිහින්තලේ | (.....) |
| 8. සීගිරිය | (.....) | 17. උඩවළව | (.....) | 26. හෝර්ටන්තැන්න | (.....) |
| 9. කුමන | (.....) | 18. කවුඩුල්ල | (.....) | | |

76. ශ්‍රී ලංකාවේ විදුලි බලාගාර පිහිටා ඇති පහත සඳහන් ප්‍රදේශ හඳුනාගෙන අදාළ අක්ෂරය හිස්තැන්වල ලියන්න.



- | | | |
|-----------------------|------------------------|-------------------------|
| 1. නොරොච්චෝලේ (.....) | 8. බරුත කන්ද (.....) | 15. කෙරවලපිටිය (.....) |
| 2. චුන්නාකම් (.....) | 9. පුත්තලම (.....) | 16. වික්‍රෝරියා (.....) |
| 3. හම්බන්තොට (.....) | 10. උඩවලව (.....) | 17. ලක්ෂපාන (.....) |
| 4. සමනල වැව (.....) | 11. කැලණිතිස්ස (.....) | 18. රන්දෙනිගල (.....) |
| 5. බෝවතැන්න (.....) | 12. කොත්මලේ (.....) | 19. සපුගස්කන්ද (.....) |
| 6. ඉගනියාගල (.....) | 13. කැනියොන් (.....) | |
| 7. උකුවෙල (.....) | 14. රන්ටැඹේ (.....) | |

සැකසුම:- අනුෂා විජේසූරිය මිය